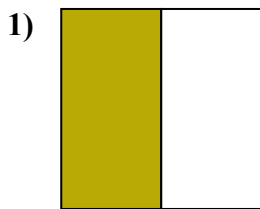


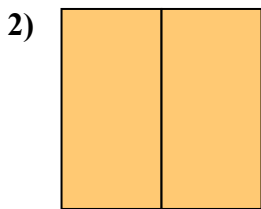


Определите под какой буквой находятся соответствующие дроби.

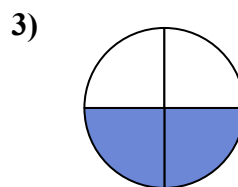
ОТВЕТЫ



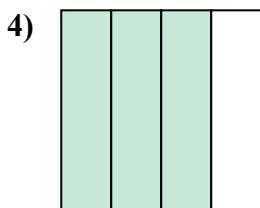
- A. две четверти
- B. одна половина
- C. две половинки



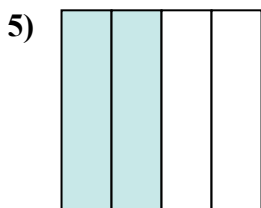
- A. две половинки
- B. три четверти
- C. три четверти



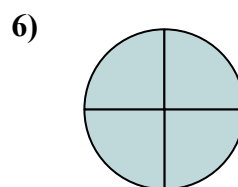
- A. одна четверть
- B. три четверти
- C. две четверти



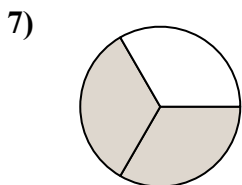
- A. одна четвертая
- B. три четверти
- C. две четверти



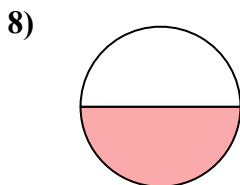
- A. две четверти
- B. три четверти
- C. две половинки



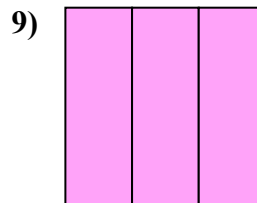
- A. четыре четверти
- B. две половинки
- C. две четверти



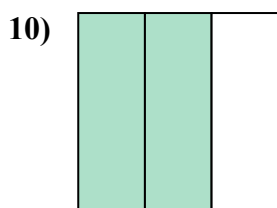
- A. одна четверть
- B. две половинки
- C. две третьих



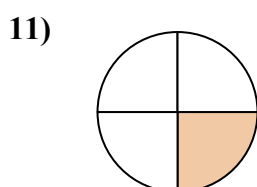
- A. три четверти
- B. две половинки
- C. одна половина



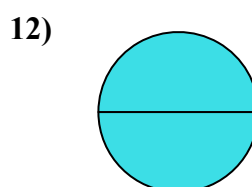
- A. одна половина
- B. три трети
- C. четыре четверти



- A. две половинки
- B. две третьих
- C. три четверти



- A. четыре четверти
- B. три четверти
- C. одна четверть



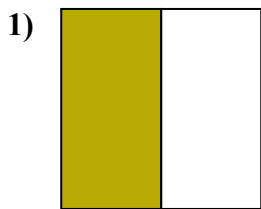
- A. две половинки
- B. одна четверть
- C. одна половина

- 1. _____
- 2. _____
- 3. _____
- 4. _____
- 5. _____
- 6. _____
- 7. _____
- 8. _____
- 9. _____
- 10. _____
- 11. _____
- 12. _____

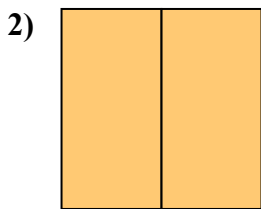


Определите под какой буквой находятся соответствующие дроби.

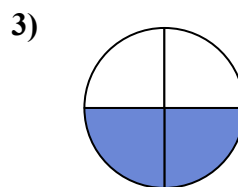
ОТВЕТЫ



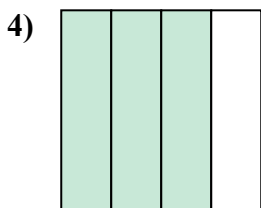
- A. две четверти
- B. одна половина
- C. две половинки



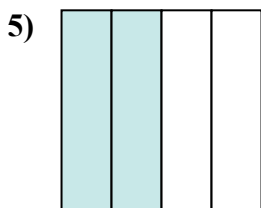
- A. две половинки
- B. три четверти
- C. три четверти



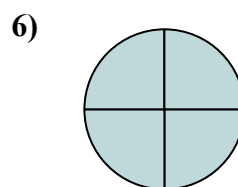
- A. одна четверть
- B. три четверти
- C. две четверти



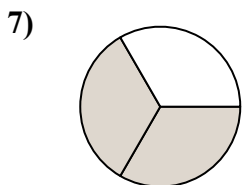
- A. одна четвертая
- B. три четверти
- C. две четверти



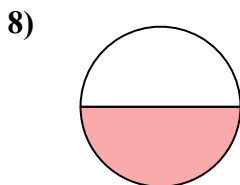
- A. две четверти
- B. три четверти
- C. две половинки



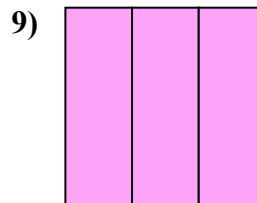
- A. четыре четверти
- B. две половинки
- C. две четверти



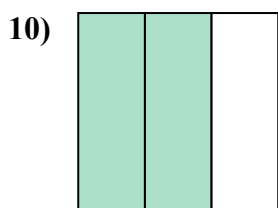
- A. одна четверть
- B. две половинки
- C. две третьих



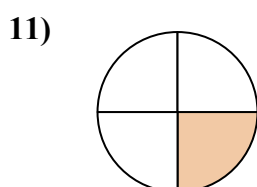
- A. три четверти
- B. две половинки
- C. одна половина



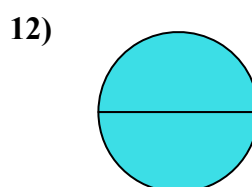
- A. одна половина
- B. три трети
- C. четыре четверти



- A. две половинки
- B. две третьих
- C. три четверти



- A. четыре четверти
- B. три четверти
- C. одна четверть



- A. две половинки
- B. одна четверть
- C. одна половина

1. В

2. А

3. С

4. В

5. А

6. А

7. С

8. С

9. В

10. В

11. С

12. А