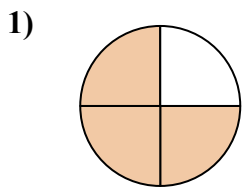


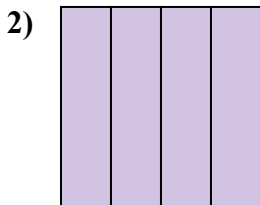


Определите под какой буквой находятся соответствующие дроби.

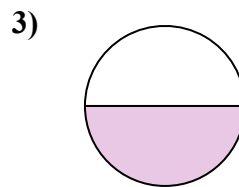
ОТВЕТЫ



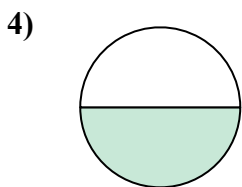
- A. три четверти
- B. две половинки
- C. три четверти



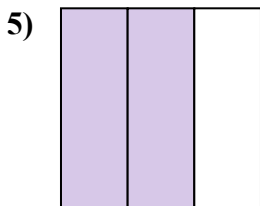
- A. одна половина
- B. три четверти
- C. одна четверть



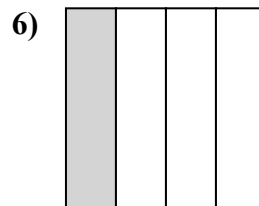
- A. одна половина
- B. две половинки
- C. три четверти



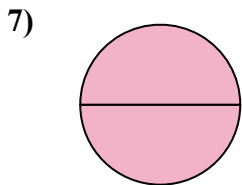
- A. одна половина
- B. две четверти
- C. две половинки



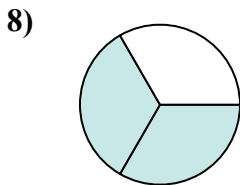
- A. две четверти
- B. одна четвертая
- C. две третьих



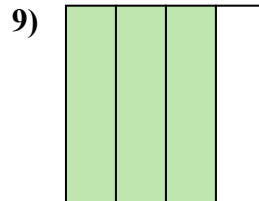
- A. четыре четверти
- B. две половинки
- C. одна четверть



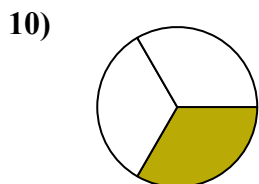
- A. одна четвертая
- B. две половинки
- C. одна половина



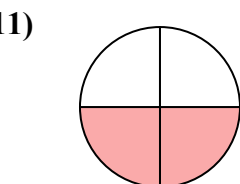
- A. одна половина
- B. две половинки
- C. две третьих



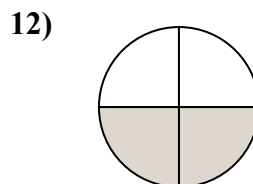
- A. три четверти
- B. две половинки
- C. три четверти



- A. одна четвертая
- B. одна половина
- C. одна треть



- A. три четверти
- B. одна четверть
- C. две четверти



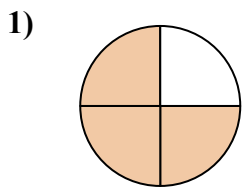
- A. две четверти
- B. две половинки
- C. одна четвертая

- 1. _____
- 2. _____
- 3. _____
- 4. _____
- 5. _____
- 6. _____
- 7. _____
- 8. _____
- 9. _____
- 10. _____
- 11. _____
- 12. _____

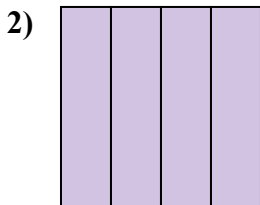


Определите под какой буквой находятся соответствующие дроби.

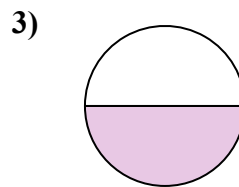
ОТВЕТЫ



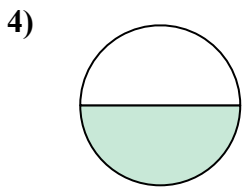
- A. три четверти
- B. две половинки
- C. три четверти



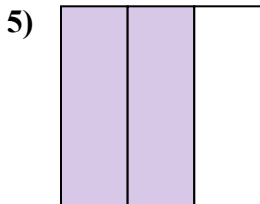
- A. одна половина
- B. три четверти
- C. одна четверть



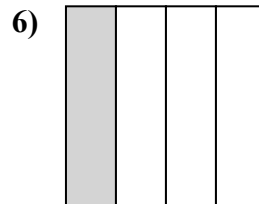
- A. одна половина
- B. две половинки
- C. три четверти



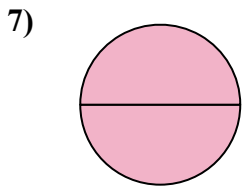
- A. одна половина
- B. две четверти
- C. две половинки



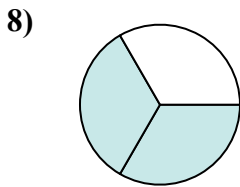
- A. две четверти
- B. одна четвертая
- C. две третьих



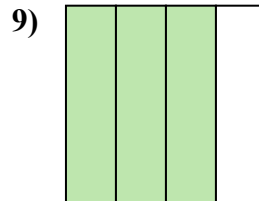
- A. четыре четверти
- B. две половинки
- C. одна четверть



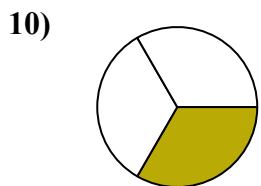
- A. одна четвертая
- B. две половинки
- C. одна половина



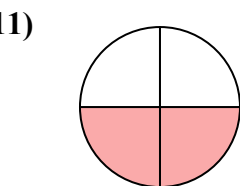
- A. одна половина
- B. две половинки
- C. две третьих



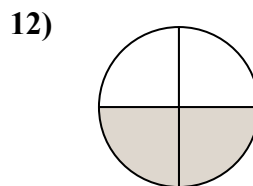
- A. три четверти
- B. две половинки
- C. три четверти



- A. одна четвертая
- B. одна половина
- C. одна треть



- A. три четверти
- B. одна четверть
- C. две четверти



- A. две четверти
- B. две половинки
- C. одна четвертая

1. C

2. B

3. A

4. A

5. C

6. C

7. B

8. C

9. C

10. C

11. C

12. A