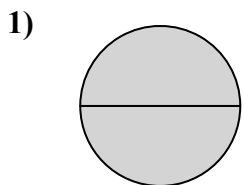


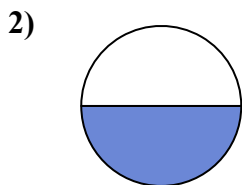


Определите под какой буквой находятся соответствующие дроби.

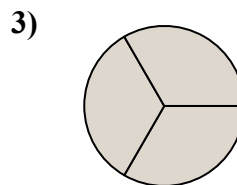
**ОТВЕТЫ**



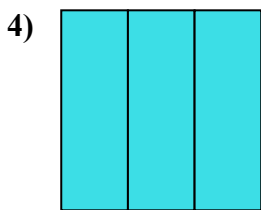
- A. две половинки
- B. одна четвертая
- C. три четверти



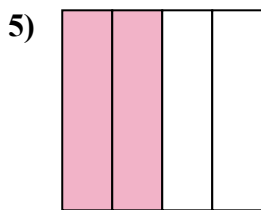
- A. две половинки
- B. одна половина
- C. две четверти



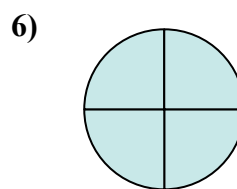
- A. две четверти
- B. три трети
- C. одна половина



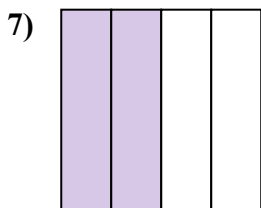
- A. три трети
- B. четыре четверти
- C. одна половина



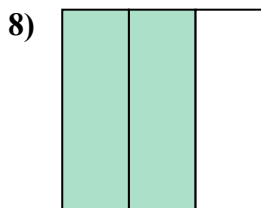
- A. две четверти
- B. одна четверть
- C. четыре четверти



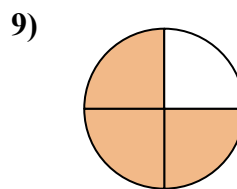
- A. одна четвертая
- B. две половинки
- C. четыре четверти



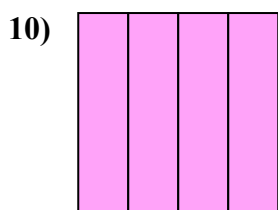
- A. три четверти
- B. две половинки
- C. две четверти



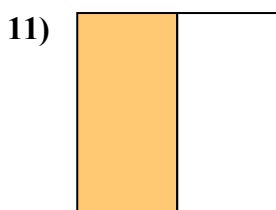
- A. три четверти
- B. две четверти
- C. две третьих



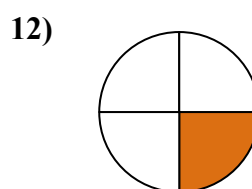
- A. три четверти
- B. две половинки
- C. одна четверть



- A. три четверти
- B. две четверти
- C. одна четвертая



- A. две половинки
- B. одна половина
- C. три четверти

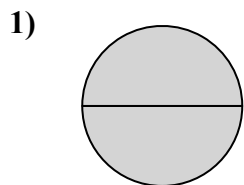


- A. две половинки
- B. одна половина
- C. одна четвертая

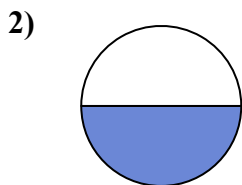
- 1. \_\_\_\_\_
- 2. \_\_\_\_\_
- 3. \_\_\_\_\_
- 4. \_\_\_\_\_
- 5. \_\_\_\_\_
- 6. \_\_\_\_\_
- 7. \_\_\_\_\_
- 8. \_\_\_\_\_
- 9. \_\_\_\_\_
- 10. \_\_\_\_\_
- 11. \_\_\_\_\_
- 12. \_\_\_\_\_



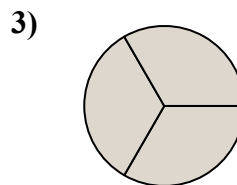
Определите под какой буквой находятся соответствующие дроби.



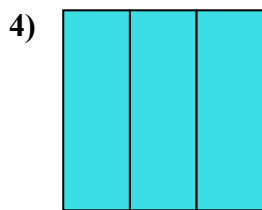
- A. две половинки
- B. одна четвертая
- C. три четверти



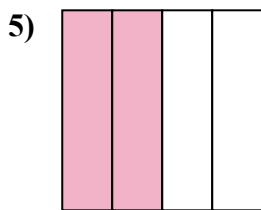
- A. две половинки
- B. одна половина
- C. две четверти



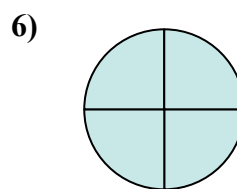
- A. две четверти
- B. три трети
- C. одна половина



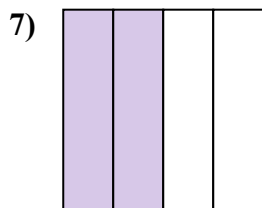
- A. три трети
- B. четыре четверти
- C. одна половина



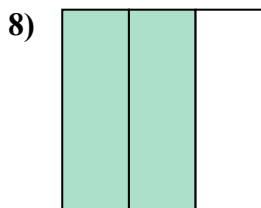
- A. две четверти
- B. одна четверть
- C. четыре четверти



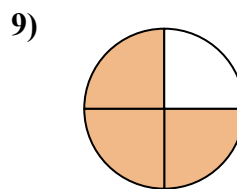
- A. одна четвертая
- B. две половинки
- C. четыре четверти



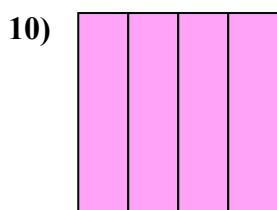
- A. три четверти
- B. две половинки
- C. две четверти



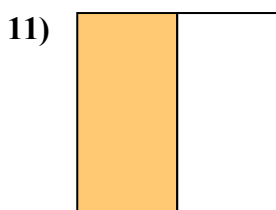
- A. три четверти
- B. две четверти
- C. две третьих



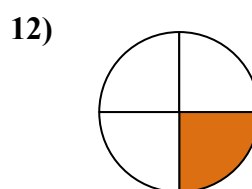
- A. три четверти
- B. две половинки
- C. одна четверть



- A. три четверти
- B. две четверти
- C. одна четвертая



- A. две половинки
- B. одна половина
- C. три четверти



- A. две половинки
- B. одна половина
- C. одна четвертая

**ОТВЕТЫ**

1.   **A**  

2.   **B**  

3.   **B**  

4.   **A**  

5.   **A**  

6.   **C**  

7.   **C**  

8.   **C**  

9.   **A**  

10.   **A**  

11.   **B**  

12.   **C**