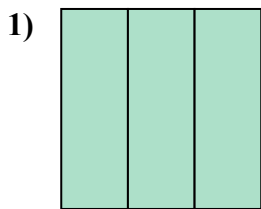


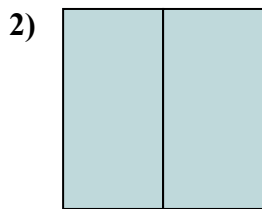


Определите под какой буквой находятся соответствующие дроби.

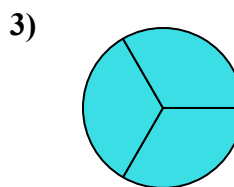
ОТВЕТЫ



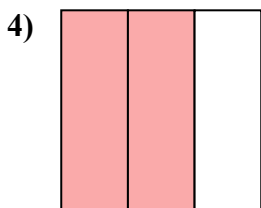
- A. три четверти
- B. три трети
- C. две половинки



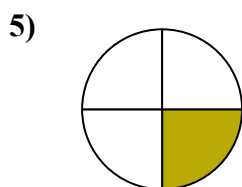
- A. три четверти
- B. две половинки
- C. две четверти



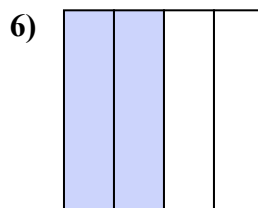
- A. три четверти
- B. две четверти
- C. три трети



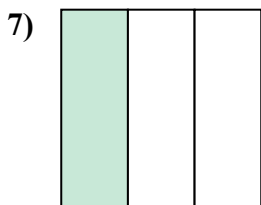
- A. две третьих
- B. четыре четверти
- C. одна четвертая



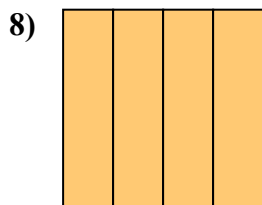
- A. две четверти
- B. одна четверть
- C. две половинки



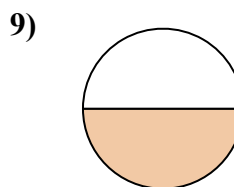
- A. одна четверть
- B. одна половина
- C. две четверти



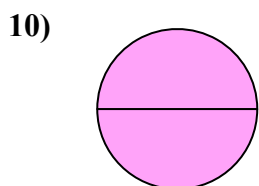
- A. четыре четверти
- B. одна треть
- C. одна четверть



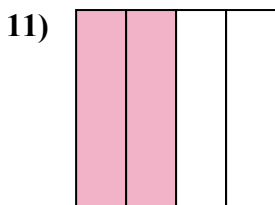
- A. четыре четверти
- B. одна половина
- C. две половинки



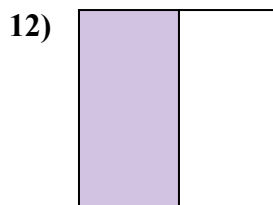
- A. одна четвертая
- B. две половинки
- C. одна половина



- A. четыре четверти
- B. две половинки
- C. три четверти



- A. две четверти
- B. одна четверть
- C. три четверти



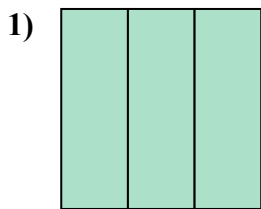
- A. три четверти
- B. одна половина
- C. три четверти

- 1. _____
- 2. _____
- 3. _____
- 4. _____
- 5. _____
- 6. _____
- 7. _____
- 8. _____
- 9. _____
- 10. _____
- 11. _____
- 12. _____

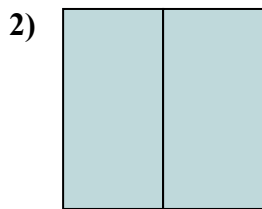


Определите под какой буквой находятся соответствующие дроби.

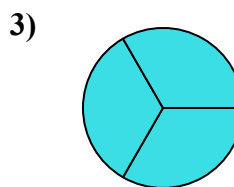
ОТВЕТЫ



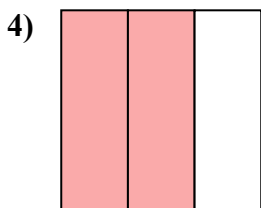
- A. три четверти
- B. три трети
- C. две половинки



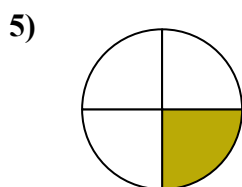
- A. три четверти
- B. две половинки
- C. две четверти



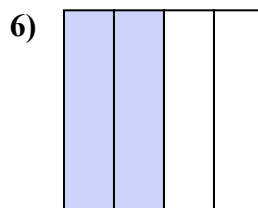
- A. три четверти
- B. две четверти
- C. три трети



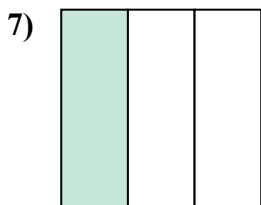
- A. две третьих
- B. четыре четверти
- C. одна четвертая



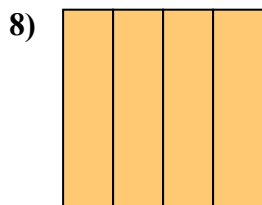
- A. две четверти
- B. одна четверть
- C. две половинки



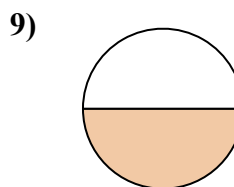
- A. одна четверть
- B. одна половина
- C. две четверти



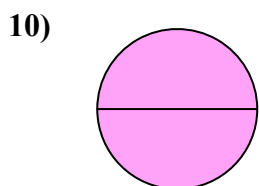
- A. четыре четверти
- B. одна треть
- C. одна четверть



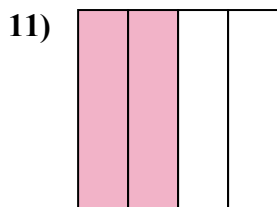
- A. четыре четверти
- B. одна половина
- C. две половинки



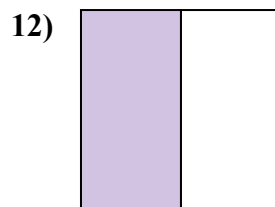
- A. одна четвертая
- B. две половинки
- C. одна половина



- A. четыре четверти
- B. две половинки
- C. три четверти



- A. две четверти
- B. одна четверть
- C. три четверти



- A. три четверти
- B. одна половина
- C. три четверти

1. В

2. В

3. С

4. А

5. В

6. С

7. В

8. А

9. С

10. В

11. А

12. В