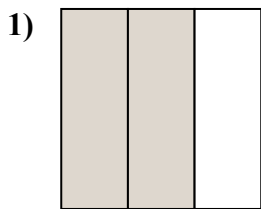


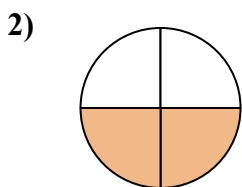


Определите под какой буквой находятся соответствующие дроби.

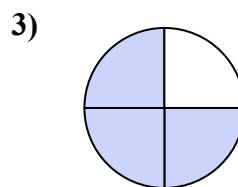
**ОТВЕТЫ**



- A. две третьих
- B. две четверти
- C. две половинки



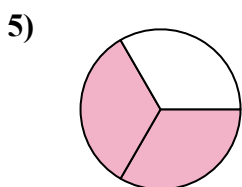
- A. три четверти
- B. две четверти
- C. одна половина



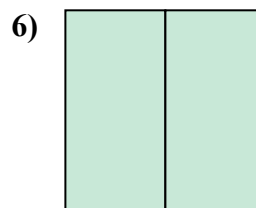
- A. три четверти
- B. четыре четверти
- C. две половинки



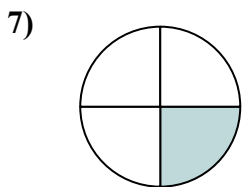
- A. три трети
- B. одна четвертая
- C. две половинки



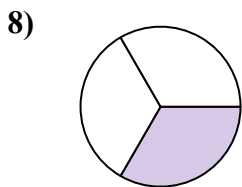
- A. две половинки
- B. две четверти
- C. две третьих



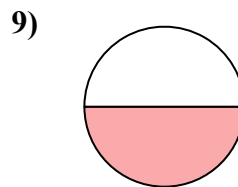
- A. одна четвертая
- B. две четверти
- C. две половинки



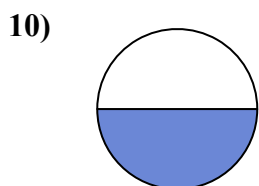
- A. две половинки
- B. три четверти
- C. одна четвертая



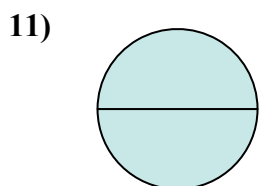
- A. две половинки
- B. две четверти
- C. одна треть



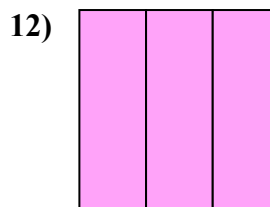
- A. две половинки
- B. три четверти
- C. одна половина



- A. две четверти
- B. одна четвертая
- C. одна половина



- A. две половинки
- B. три четверти
- C. четыре четверти



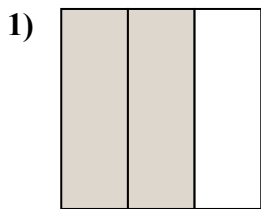
- A. три трети
- B. одна четвертая
- C. три четверти

- 1. \_\_\_\_\_
- 2. \_\_\_\_\_
- 3. \_\_\_\_\_
- 4. \_\_\_\_\_
- 5. \_\_\_\_\_
- 6. \_\_\_\_\_
- 7. \_\_\_\_\_
- 8. \_\_\_\_\_
- 9. \_\_\_\_\_
- 10. \_\_\_\_\_
- 11. \_\_\_\_\_
- 12. \_\_\_\_\_

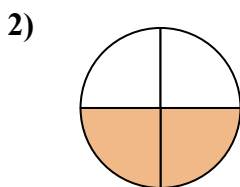


Определите под какой буквой находятся соответствующие дроби.

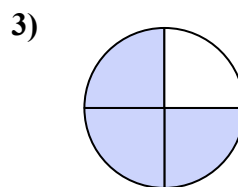
**ОТВЕТЫ**



- A. две третьих
- B. две четверти
- C. две половинки



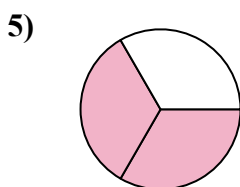
- A. три четверти
- B. две четверти
- C. одна половина



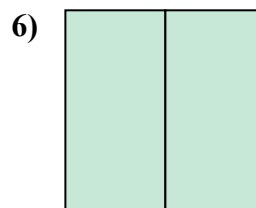
- A. три четверти
- B. четыре четверти
- C. две половинки



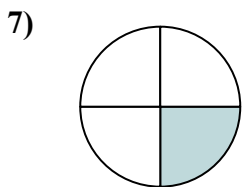
- A. три трети
- B. одна четвертая
- C. две половинки



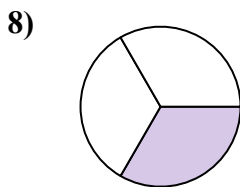
- A. две половинки
- B. две четверти
- C. две третьих



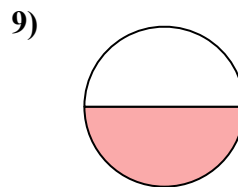
- A. одна четвертая
- B. две четверти
- C. две половинки



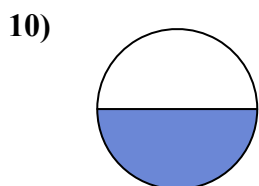
- A. две половинки
- B. три четверти
- C. одна четвертая



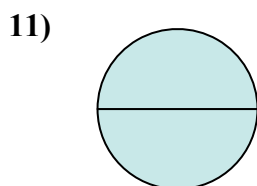
- A. две половинки
- B. две четверти
- C. одна треть



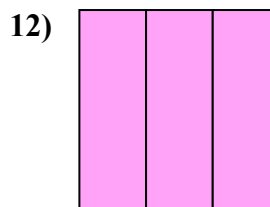
- A. две половинки
- B. три четверти
- C. одна половина



- A. две четверти
- B. одна четвертая
- C. одна половина



- A. две половинки
- B. три четверти
- C. четыре четверти



- A. три трети
- B. одна четвертая
- C. три четверти

1.   **A**  

2.   **B**  

3.   **A**  

4.   **A**  

5.   **C**  

6.   **C**  

7.   **C**  

8.   **C**  

9.   **C**  

10.   **C**  

11.   **A**  

12.   **A**