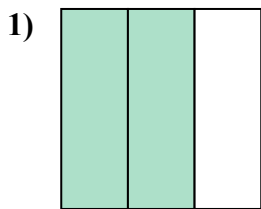


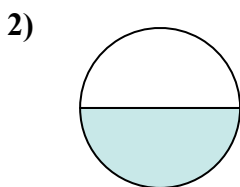


Определите под какой буквой находятся соответствующие дроби.

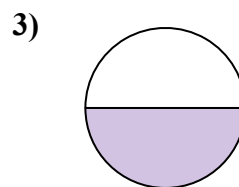
**ОТВЕТЫ**



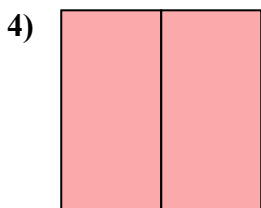
- A. две половинки
- B. две третьих
- C. одна четверть



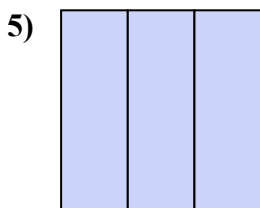
- A. одна четвертая
- B. две четверти
- C. одна половина



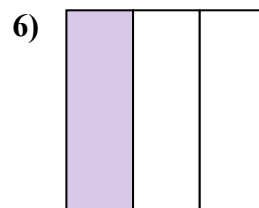
- A. две четверти
- B. одна половина
- C. две половинки



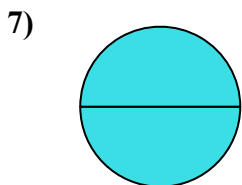
- A. две половинки
- B. две четверти
- C. одна половина



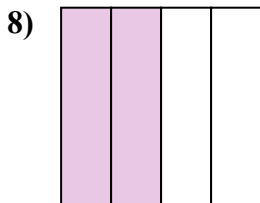
- A. три четверти
- B. три трети
- C. одна четвертая



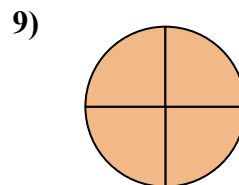
- A. две половинки
- B. одна треть
- C. одна четверть



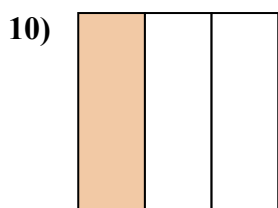
- A. три четверти
- B. одна половина
- C. две половинки



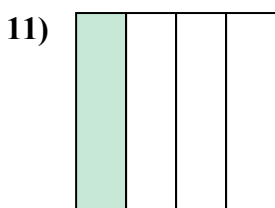
- A. три четверти
- B. две четверти
- C. две половинки



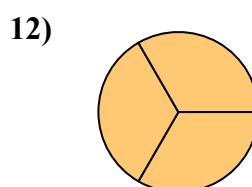
- A. одна половина
- B. три четверти
- C. две четверти



- A. одна треть
- B. одна половина
- C. две половинки



- A. три четверти
- B. две половинки
- C. одна четверть



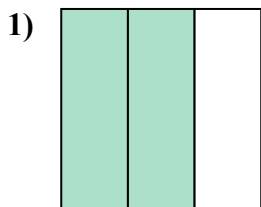
- A. три трети
- B. две половинки
- C. одна половина

- 1. \_\_\_\_\_
- 2. \_\_\_\_\_
- 3. \_\_\_\_\_
- 4. \_\_\_\_\_
- 5. \_\_\_\_\_
- 6. \_\_\_\_\_
- 7. \_\_\_\_\_
- 8. \_\_\_\_\_
- 9. \_\_\_\_\_
- 10. \_\_\_\_\_
- 11. \_\_\_\_\_
- 12. \_\_\_\_\_

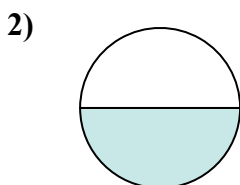


Определите под какой буквой находятся соответствующие дроби.

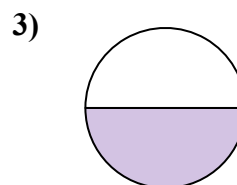
**ОТВЕТЫ**




- A. две половинки
- B. две третьих
- C. одна четверть



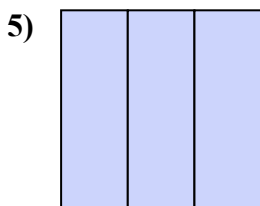
- A. одна четвертая
- B. две четверти
- C. одна половина



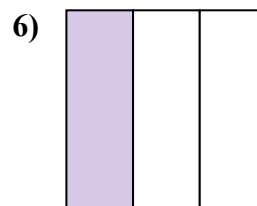
- A. две четверти
- B. одна половина
- C. две половинки



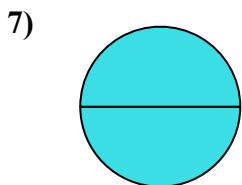
- A. две половинки
- B. две четверти
- C. одна половина



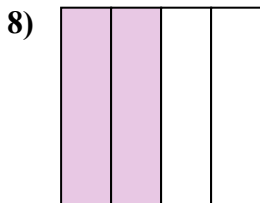
- A. три четверти
- B. три трети
- C. одна четвертая



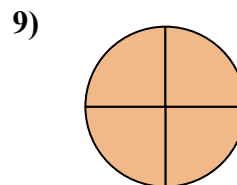
- A. две половинки
- B. одна треть
- C. одна четверть



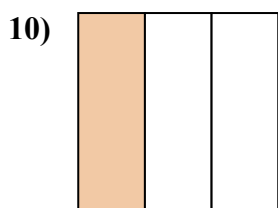
- A. три четверти
- B. одна половина
- C. две половинки



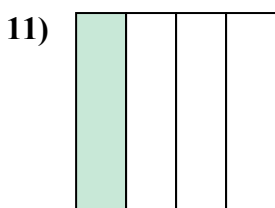
- A. три четверти
- B. две четверти
- C. две половинки



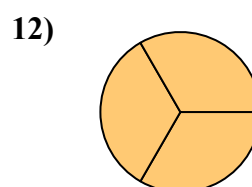
- A. одна половина
- B. три четверти
- C. две четверти



- A. одна треть
- B. одна половина
- C. две половинки



- A. три четверти
- B. две половинки
- C. одна четверть



- A. три трети
- B. две половинки
- C. одна половина

1. В

2. С

3. В

4. А

5. В

6. В

7. С

8. В

9. В

10. А

11. С

12. А