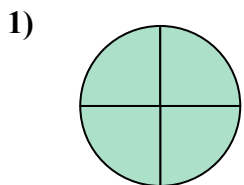


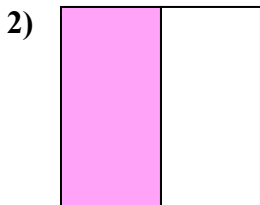


Определите под какой буквой находятся соответствующие дроби.

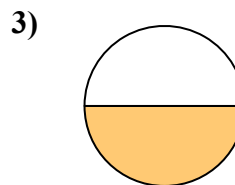
ОТВЕТЫ



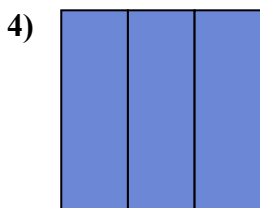
- A. одна четвертая
- B. три четверти
- C. три четверти



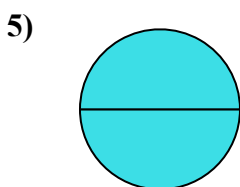
- A. три четверти
- B. одна четверть
- C. одна половина



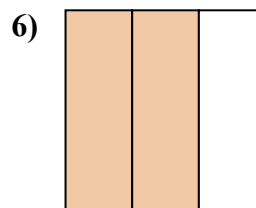
- A. две четверти
- B. три четверти
- C. одна половина



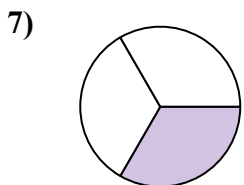
- A. две половинки
- B. одна половина
- C. три трети



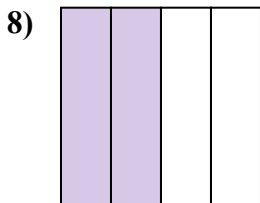
- A. две половинки
- B. одна четверть
- C. две четверти



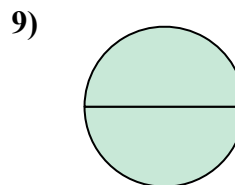
- A. две третьих
- B. две половинки
- C. одна четвертая



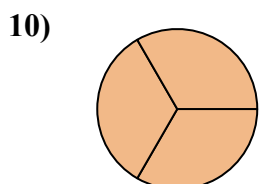
- A. три четверти
- B. две половинки
- C. одна треть



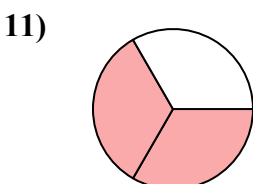
- A. одна половина
- B. две четверти
- C. три четверти



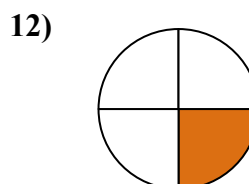
- A. две четверти
- B. три четверти
- C. две половинки



- A. три трети
- B. одна четвертая
- C. две половинки



- A. одна четверть
- B. две третьих
- C. четыре четверти



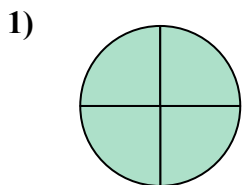
- A. одна четвертая
- B. три четверти
- C. две половинки

- 1. _____
- 2. _____
- 3. _____
- 4. _____
- 5. _____
- 6. _____
- 7. _____
- 8. _____
- 9. _____
- 10. _____
- 11. _____
- 12. _____

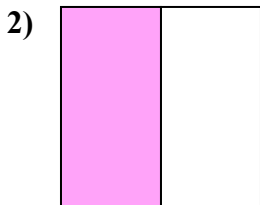


Определите под какой буквой находятся соответствующие дроби.

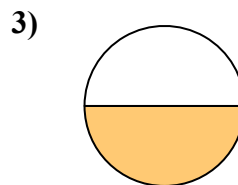
ОТВЕТЫ



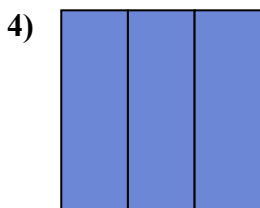
- A. одна четвертая
- B. три четверти
- C. три четверти



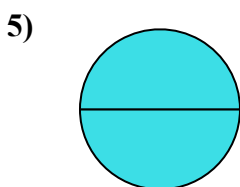
- A. три четверти
- B. одна четверть
- C. одна половина



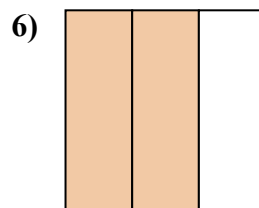
- A. две четверти
- B. три четверти
- C. одна половина



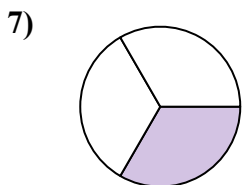
- A. две половинки
- B. одна половина
- C. три трети



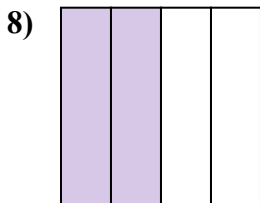
- A. две половинки
- B. одна четверть
- C. две четверти



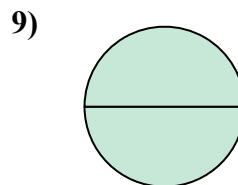
- A. две третьих
- B. две половинки
- C. одна четвертая



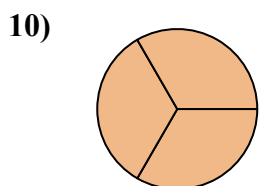
- A. три четверти
- B. две половинки
- C. одна треть



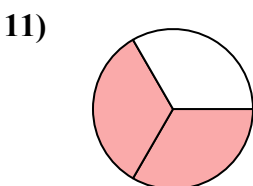
- A. одна половина
- B. две четверти
- C. три четверти



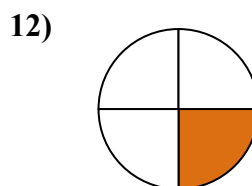
- A. две четверти
- B. три четверти
- C. две половинки



- A. три трети
- B. одна четвертая
- C. две половинки



- A. одна четверть
- B. две третьих
- C. четыре четверти



- A. одна четвертая
- B. три четверти
- C. две половинки

1. C

2. C

3. C

4. C

5. A

6. A

7. C

8. B

9. C

10. A

11. B

12. A