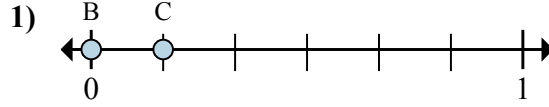
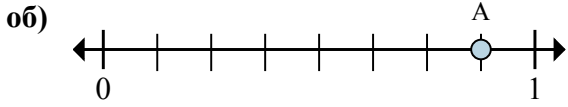


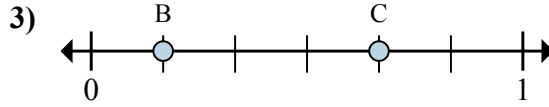
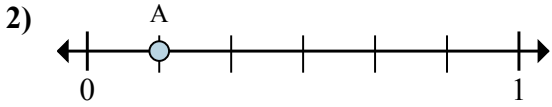


Решите каждую задачу.



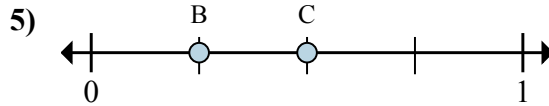
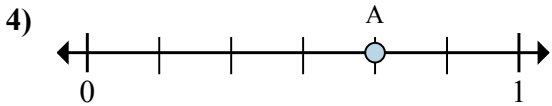
- a. На сколько частей разделена данная числовая прямая?
 б. Каково местоположение А (написанного как дробь)?

- a. Каково значение 1 на числовой прямой, написанного как дробь?
 б. Каково расстояние на числовой прямой между В и С is (написанного как дробь)?



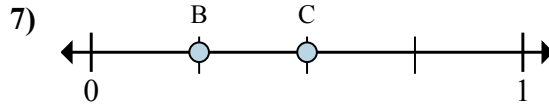
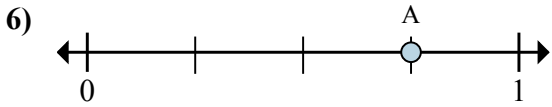
- a. На сколько частей разделена данная числовая прямая?
 б. Каково местоположение А (написанного как дробь)?

- a. Каково значение 0 на числовой прямой, написанного как дробь?
 б. Каково расстояние на числовой прямой между В и С is (написанного как дробь)?



- a. На сколько частей разделена данная числовая прямая?
 б. Каково местоположение А (написанного как дробь)?

- a. Каково значение 0 на числовой прямой, написанного как дробь?
 б. Каково расстояние на числовой прямой между В и С is (написанного как дробь)?



- a. На сколько частей разделена данная числовая прямая?
 б. Каково местоположение А (написанного как дробь)?

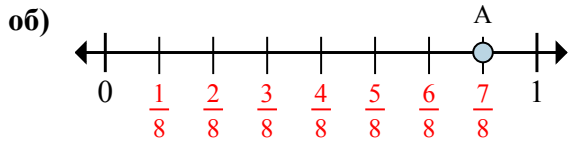
- a. Каково значение 0 на числовой прямой, написанного как дробь?
 б. Каково расстояние на числовой прямой между В и С is (написанного как дробь)?

Отвeты

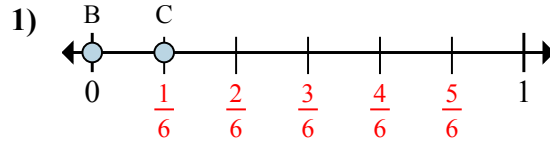
об.	8	$\frac{7}{8}$
1.	_____	_____
2.	_____	_____
3.	_____	_____
4.	_____	_____
5.	_____	_____
6.	_____	_____
7.	_____	_____



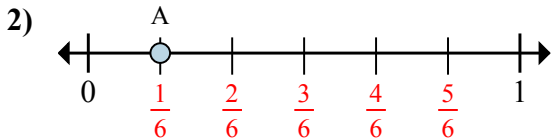
Решите каждую задачу.



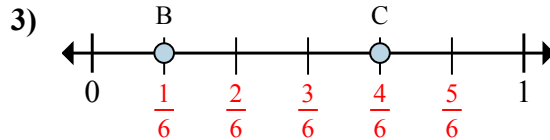
- На сколько частей разделена данная числовая прямая?
- Каково местоположение A (написанного как дробь)?



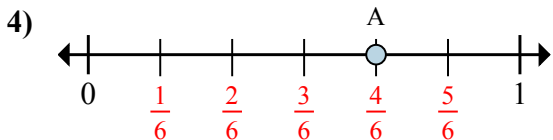
- Каково значение 1 на числовой прямой, написанного как дробь?
- Каково расстояние на числовой прямой между B и C is (написанного как дробь)?



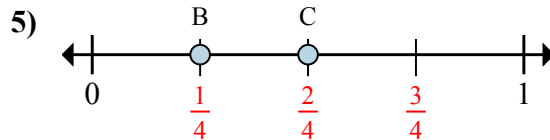
- На сколько частей разделена данная числовая прямая?
- Каково местоположение A (написанного как дробь)?



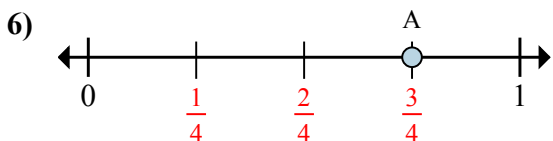
- Каково значение 0 на числовой прямой, написанного как дробь?
- Каково расстояние на числовой прямой между B и C is (написанного как дробь)?



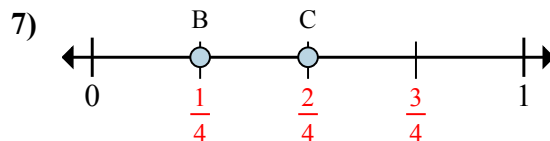
- На сколько частей разделена данная числовая прямая?
- Каково местоположение A (написанного как дробь)?



- Каково значение 0 на числовой прямой, написанного как дробь?
- Каково расстояние на числовой прямой между B и C is (написанного как дробь)?



- На сколько частей разделена данная числовая прямая?
- Каково местоположение A (написанного как дробь)?



- Каково значение 0 на числовой прямой, написанного как дробь?
- Каково расстояние на числовой прямой между B и C is (написанного как дробь)?

Ответы

об.	8	$\frac{7}{8}$
1.	$\frac{6}{6}$	$\frac{1}{6}$
2.	6	$\frac{1}{6}$
3.	$\frac{0}{6}$	$\frac{3}{6}$
4.	6	$\frac{4}{6}$
5.	$\frac{0}{4}$	$\frac{1}{4}$
6.	4	$\frac{3}{4}$
7.	$\frac{0}{4}$	$\frac{1}{4}$