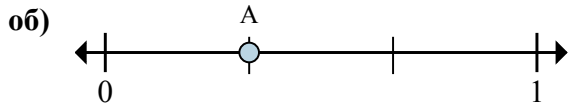
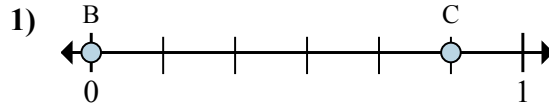




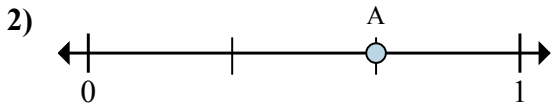
Решите каждую задачу.



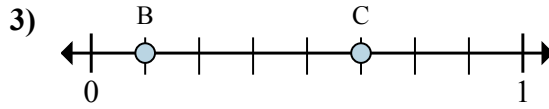
- a. На сколько частей разделена данная числовая прямая?  
 б. Каково местоположение А (написанного как дробь)?



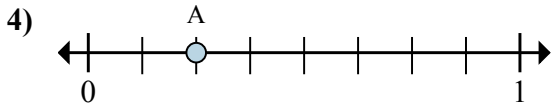
- a. Каково значение 1 на числовой прямой, написанного как дробь?  
 б. Каково расстояние на числовой прямой между В и С is (написанного как дробь)?



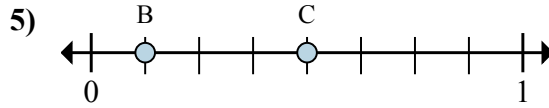
- a. На сколько частей разделена данная числовая прямая?  
 б. Каково местоположение А (написанного как дробь)?



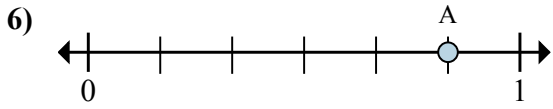
- a. Каково значение 0 на числовой прямой, написанного как дробь?  
 б. Каково расстояние на числовой прямой между В и С is (написанного как дробь)?



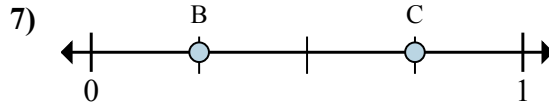
- a. На сколько частей разделена данная числовая прямая?  
 б. Каково местоположение А (написанного как дробь)?



- a. Каково значение 1 на числовой прямой, написанного как дробь?  
 б. Каково расстояние на числовой прямой между В и С is (написанного как дробь)?



- a. На сколько частей разделена данная числовая прямая?  
 б. Каково местоположение А (написанного как дробь)?



- a. Каково значение 1 на числовой прямой, написанного как дробь?  
 б. Каково расстояние на числовой прямой между В и С is (написанного как дробь)?

**Отвeты**

об. 3 1/3

1. \_\_\_\_\_

2. \_\_\_\_\_

3. \_\_\_\_\_

4. \_\_\_\_\_

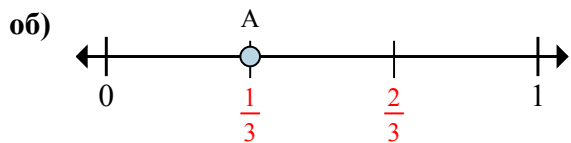
5. \_\_\_\_\_

6. \_\_\_\_\_

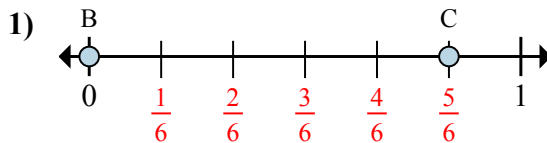
7. \_\_\_\_\_



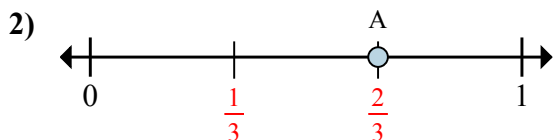
Решите каждую задачу.



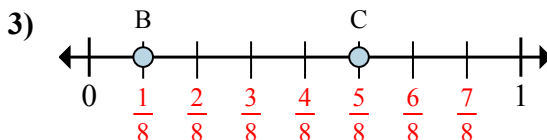
- a. На сколько частей разделена данная числовая прямая?  
 б. Каково местоположение А (написанного как дробь)?



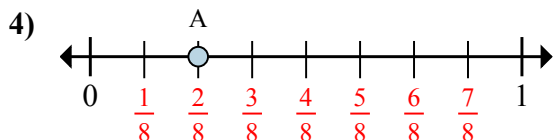
- a. Каково значение 1 на числовой прямой, написанного как дробь?  
 б. Каково расстояние на числовой прямой между В и С is (написанного как дробь)?



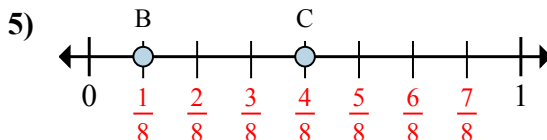
- a. На сколько частей разделена данная числовая прямая?  
 б. Каково местоположение А (написанного как дробь)?



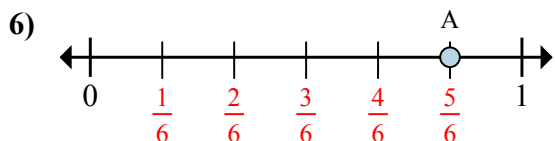
- a. Каково значение 0 на числовой прямой, написанного как дробь?  
 б. Каково расстояние на числовой прямой между В и С is (написанного как дробь)?



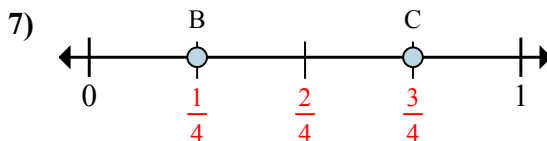
- a. На сколько частей разделена данная числовая прямая?  
 б. Каково местоположение А (написанного как дробь)?



- a. Каково значение 1 на числовой прямой, написанного как дробь?  
 б. Каково расстояние на числовой прямой между В и С is (написанного как дробь)?



- a. На сколько частей разделена данная числовая прямая?  
 б. Каково местоположение А (написанного как дробь)?



- a. Каково значение 1 на числовой прямой, написанного как дробь?  
 б. Каково расстояние на числовой прямой между В и С is (написанного как дробь)?

**Ответы**

об.	<u>3</u>	<u>1/3</u>
1.	<u>6/6</u>	<u>5/6</u>
2.	<u>3</u>	<u>2/3</u>
3.	<u>0/8</u>	<u>4/8</u>
4.	<u>8</u>	<u>2/8</u>
5.	<u>8/8</u>	<u>3/8</u>
6.	<u>6</u>	<u>5/6</u>
7.	<u>4/4</u>	<u>2/4</u>