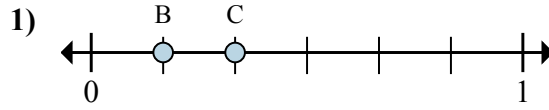
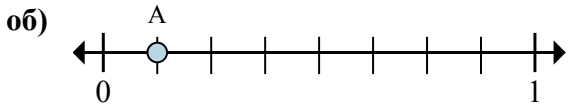


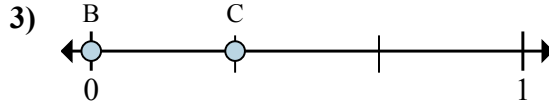
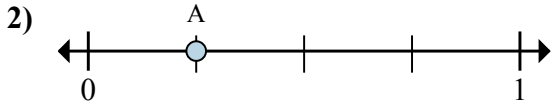


Решите каждую задачу.



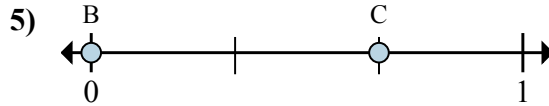
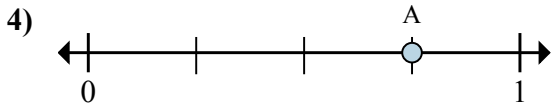
- a. На сколько частей разделена данная числовая прямая?  
 б. Каково местоположение А (написанного как дробь)?

- a. Каково значение 1 на числовой прямой, написанного как дробь?  
 б. Каково расстояние на числовой прямой между В и С is (написанного как дробь)?



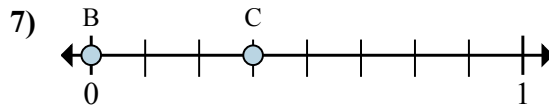
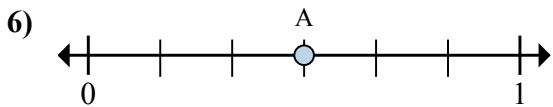
- a. На сколько частей разделена данная числовая прямая?  
 б. Каково местоположение А (написанного как дробь)?

- a. Каково значение 0 на числовой прямой, написанного как дробь?  
 б. Каково расстояние на числовой прямой между В и С is (написанного как дробь)?



- a. На сколько частей разделена данная числовая прямая?  
 б. Каково местоположение А (написанного как дробь)?

- a. Каково значение 1 на числовой прямой, написанного как дробь?  
 б. Каково расстояние на числовой прямой между В и С is (написанного как дробь)?



- a. На сколько частей разделена данная числовая прямая?  
 б. Каково местоположение А (написанного как дробь)?

- a. Каково значение 1 на числовой прямой, написанного как дробь?  
 б. Каково расстояние на числовой прямой между В и С is (написанного как дробь)?

**Ответы**

об. 8      1/8

1. \_\_\_\_\_

2. \_\_\_\_\_

3. \_\_\_\_\_

4. \_\_\_\_\_

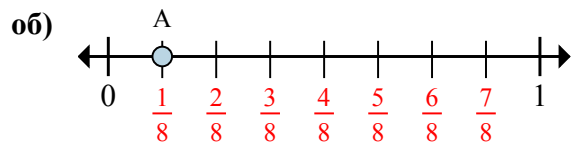
5. \_\_\_\_\_

6. \_\_\_\_\_

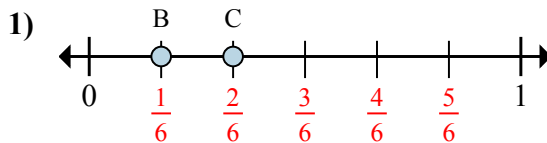
7. \_\_\_\_\_



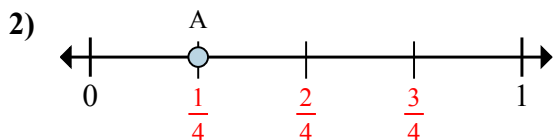
Решите каждую задачу.



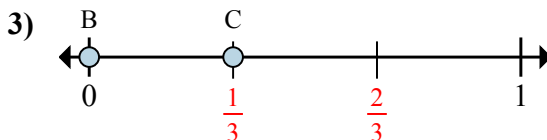
- a. На сколько частей разделена данная числовая прямая?  
 б. Каково местоположение А (написанного как дробь)?



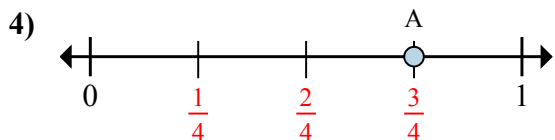
- a. Каково значение 1 на числовой прямой, написанного как дробь?  
 б. Каково расстояние на числовой прямой между В и С is (написанного как дробь)?



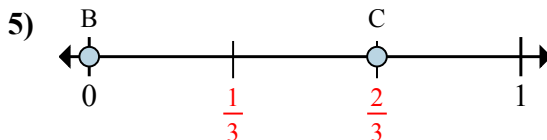
- a. На сколько частей разделена данная числовая прямая?  
 б. Каково местоположение А (написанного как дробь)?



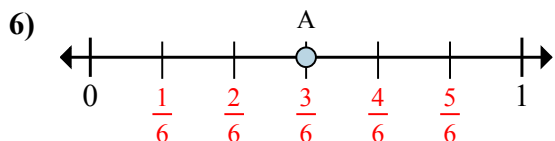
- a. Каково значение 0 на числовой прямой, написанного как дробь?  
 б. Каково расстояние на числовой прямой между В и С is (написанного как дробь)?



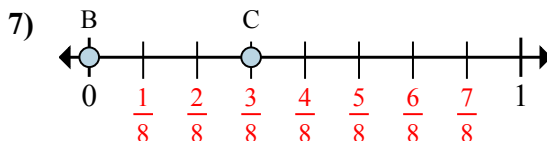
- a. На сколько частей разделена данная числовая прямая?  
 б. Каково местоположение А (написанного как дробь)?



- a. Каково значение 1 на числовой прямой, написанного как дробь?  
 б. Каково расстояние на числовой прямой между В и С is (написанного как дробь)?



- a. На сколько частей разделена данная числовая прямая?  
 б. Каково местоположение А (написанного как дробь)?



- a. Каково значение 1 на числовой прямой, написанного как дробь?  
 б. Каково расстояние на числовой прямой между В и С is (написанного как дробь)?

**Ответы**

	8	1/8
об.	8	1/8
1.	6/6	1/6
2.	4	1/4
3.	0/3	1/3
4.	4	3/4
5.	3/3	2/3
6.	6	3/6
7.	8/8	3/8