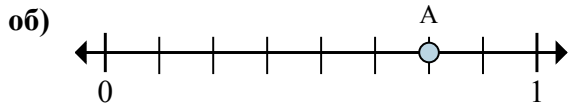
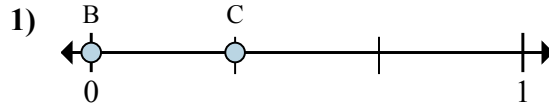




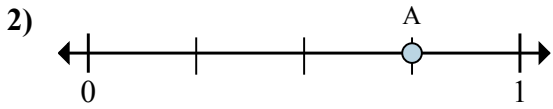
Решите каждую задачу.



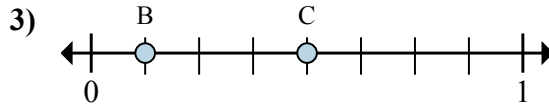
- a. На сколько частей разделена данная числовая прямая?
 б. Каково местоположение А (написанного как дробь)?



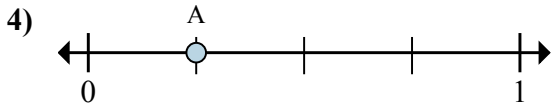
- a. Каково значение 0 на числовой прямой, написанного как дробь?
 б. Каково расстояние на числовой прямой между В и С is (написанного как дробь)?



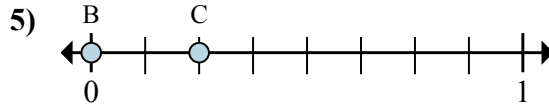
- a. На сколько частей разделена данная числовая прямая?
 б. Каково местоположение А (написанного как дробь)?



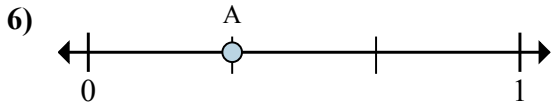
- a. Каково значение 1 на числовой прямой, написанного как дробь?
 б. Каково расстояние на числовой прямой между В и С is (написанного как дробь)?



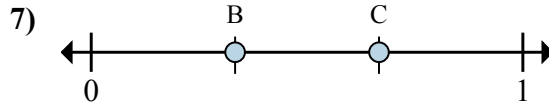
- a. На сколько частей разделена данная числовая прямая?
 б. Каково местоположение А (написанного как дробь)?



- a. Каково значение 0 на числовой прямой, написанного как дробь?
 б. Каково расстояние на числовой прямой между В и С is (написанного как дробь)?



- a. На сколько частей разделена данная числовая прямая?
 б. Каково местоположение А (написанного как дробь)?



- a. Каково значение 0 на числовой прямой, написанного как дробь?
 б. Каково расстояние на числовой прямой между В и С is (написанного как дробь)?

Отвeты

об. 8 6/8

1. _____

2. _____

3. _____

4. _____

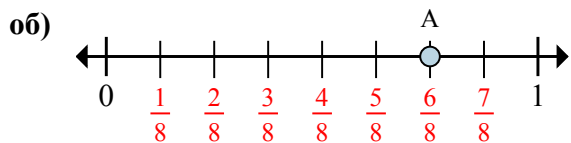
5. _____

6. _____

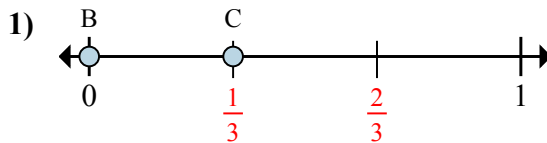
7. _____



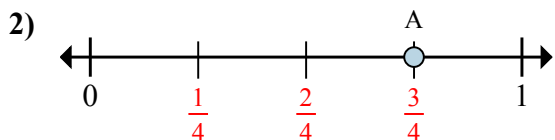
Решите каждую задачу.



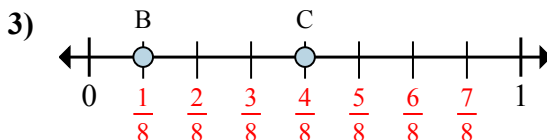
- На сколько частей разделена данная числовая прямая?
- Каково местоположение А (написанного как дробь)?



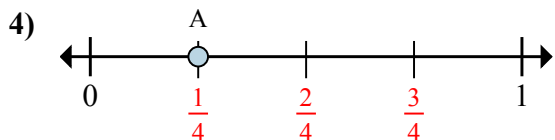
- Каково значение 0 на числовой прямой, написанного как дробь?
- Каково расстояние на числовой прямой между В и С is (написанного как дробь)?



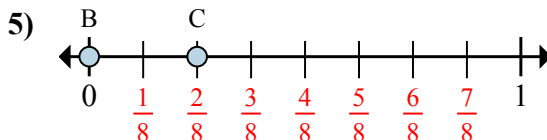
- На сколько частей разделена данная числовая прямая?
- Каково местоположение А (написанного как дробь)?



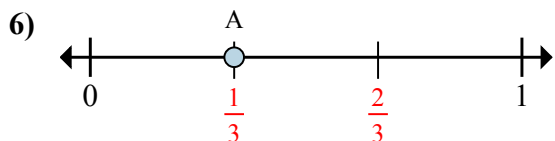
- Каково значение 1 на числовой прямой, написанного как дробь?
- Каково расстояние на числовой прямой между В и С is (написанного как дробь)?



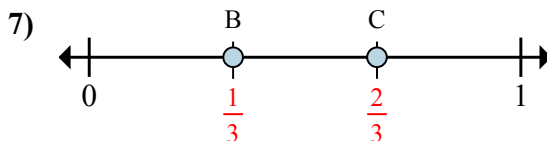
- На сколько частей разделена данная числовая прямая?
- Каково местоположение А (написанного как дробь)?



- Каково значение 0 на числовой прямой, написанного как дробь?
- Каково расстояние на числовой прямой между В и С is (написанного как дробь)?



- На сколько частей разделена данная числовая прямая?
- Каково местоположение А (написанного как дробь)?



- Каково значение 0 на числовой прямой, написанного как дробь?
- Каково расстояние на числовой прямой между В и С is (написанного как дробь)?

Отвeты

об.	<u>8</u>	<u>6/8</u>
1.	<u>0/3</u>	<u>1/3</u>
2.	<u>4</u>	<u>3/4</u>
3.	<u>8/8</u>	<u>3/8</u>
4.	<u>4</u>	<u>1/4</u>
5.	<u>0/8</u>	<u>2/8</u>
6.	<u>3</u>	<u>1/3</u>
7.	<u>0/3</u>	<u>1/3</u>