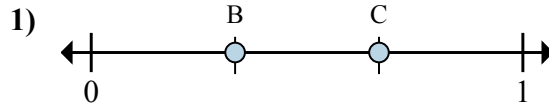
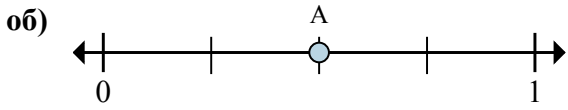


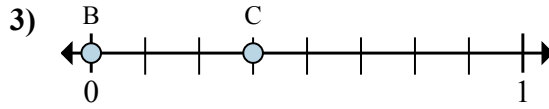
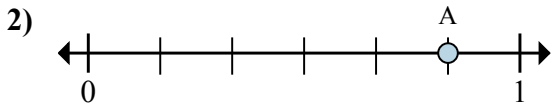


Решите каждую задачу.



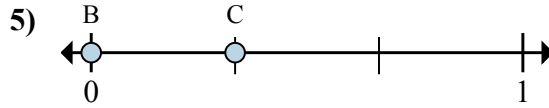
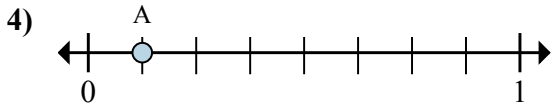
- a. На сколько частей разделена данная числовая прямая?  
 б. Каково местоположение А (написанного как дробь)?

- a. Каково значение 1 на числовой прямой, написанного как дробь?  
 б. Каково расстояние на числовой прямой между В и С is (написанного как дробь)?



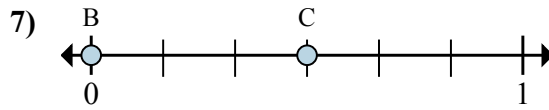
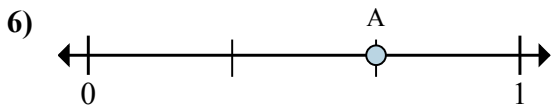
- a. На сколько частей разделена данная числовая прямая?  
 б. Каково местоположение А (написанного как дробь)?

- a. Каково значение 0 на числовой прямой, написанного как дробь?  
 б. Каково расстояние на числовой прямой между В и С is (написанного как дробь)?



- a. На сколько частей разделена данная числовая прямая?  
 б. Каково местоположение А (написанного как дробь)?

- a. Каково значение 1 на числовой прямой, написанного как дробь?  
 б. Каково расстояние на числовой прямой между В и С is (написанного как дробь)?



- a. На сколько частей разделена данная числовая прямая?  
 б. Каково местоположение А (написанного как дробь)?

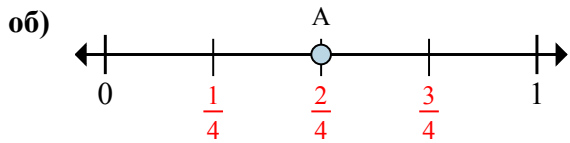
- a. Каково значение 0 на числовой прямой, написанного как дробь?  
 б. Каково расстояние на числовой прямой между В и С is (написанного как дробь)?

**Отвeты**

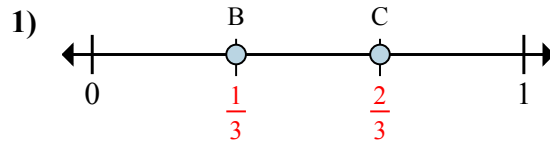
об.	4	$\frac{2}{4}$
1.	_____	_____
2.	_____	_____
3.	_____	_____
4.	_____	_____
5.	_____	_____
6.	_____	_____
7.	_____	_____



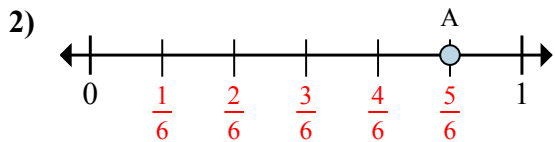
Решите каждую задачу.



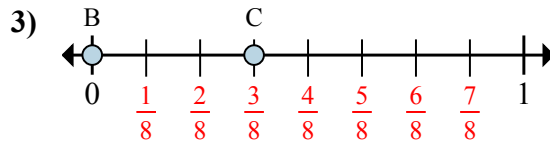
- На сколько частей разделена данная числовая прямая?
- Каково местоположение A (написанного как дробь)?



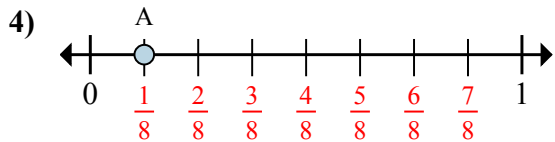
- Каково значение 1 на числовой прямой, написанного как дробь?
- Каково расстояние на числовой прямой между B и C is (написанного как дробь)?



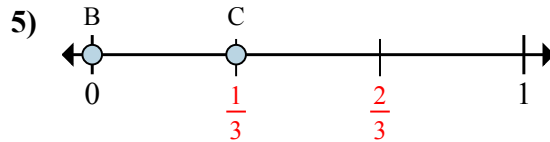
- На сколько частей разделена данная числовая прямая?
- Каково местоположение A (написанного как дробь)?



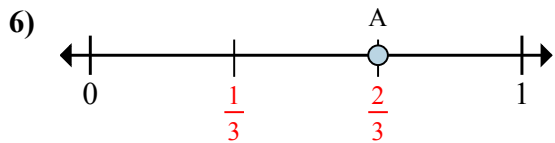
- Каково значение 0 на числовой прямой, написанного как дробь?
- Каково расстояние на числовой прямой между B и C is (написанного как дробь)?



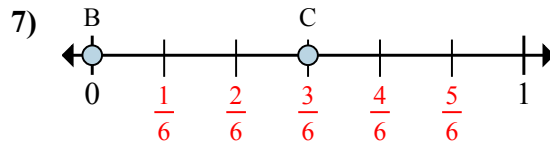
- На сколько частей разделена данная числовая прямая?
- Каково местоположение A (написанного как дробь)?



- Каково значение 1 на числовой прямой, написанного как дробь?
- Каково расстояние на числовой прямой между B и C is (написанного как дробь)?



- На сколько частей разделена данная числовая прямая?
- Каково местоположение A (написанного как дробь)?



- Каково значение 0 на числовой прямой, написанного как дробь?
- Каково расстояние на числовой прямой между B и C is (написанного как дробь)?

**Отвeты**

об.	<u>4</u>	<u>2/4</u>
1.	<u>3/3</u>	<u>1/3</u>
2.	<u>6</u>	<u>5/6</u>
3.	<u>0/8</u>	<u>3/8</u>
4.	<u>8</u>	<u>1/8</u>
5.	<u>3/3</u>	<u>1/3</u>
6.	<u>3</u>	<u>2/3</u>
7.	<u>0/6</u>	<u>3/6</u>