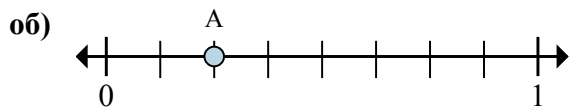
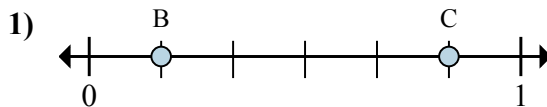




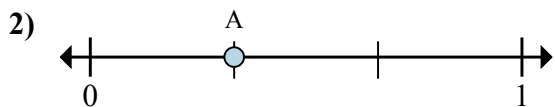
Решите каждую задачу.



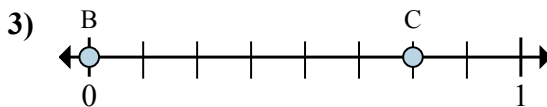
- a. На сколько частей разделена данная числовая прямая?  
 б. Каково местоположение A (написанного как дробь)?



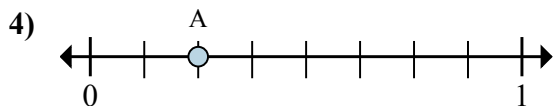
- a. Каково значение 0 на числовой прямой, написанного как дробь?  
 б. Каково расстояние на числовой прямой между B и C is (написанного как дробь)?



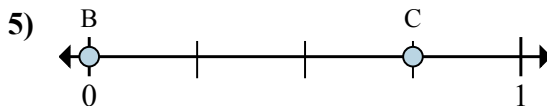
- a. На сколько частей разделена данная числовая прямая?  
 б. Каково местоположение A (написанного как дробь)?



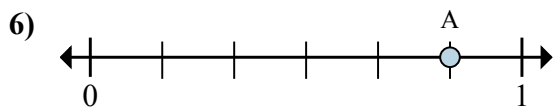
- a. Каково значение 1 на числовой прямой, написанного как дробь?  
 б. Каково расстояние на числовой прямой между B и C is (написанного как дробь)?



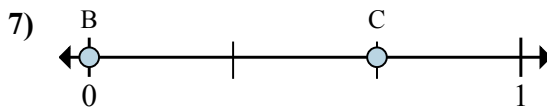
- a. На сколько частей разделена данная числовая прямая?  
 б. Каково местоположение A (написанного как дробь)?



- a. Каково значение 0 на числовой прямой, написанного как дробь?  
 б. Каково расстояние на числовой прямой между B и C is (написанного как дробь)?



- a. На сколько частей разделена данная числовая прямая?  
 б. Каково местоположение A (написанного как дробь)?



- a. Каково значение 1 на числовой прямой, написанного как дробь?  
 б. Каково расстояние на числовой прямой между B и C is (написанного как дробь)?

**Отвeты**

об. 8      2/8

1. \_\_\_\_\_

2. \_\_\_\_\_

3. \_\_\_\_\_

4. \_\_\_\_\_

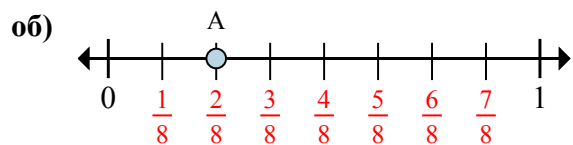
5. \_\_\_\_\_

6. \_\_\_\_\_

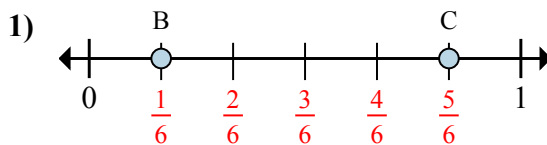
7. \_\_\_\_\_



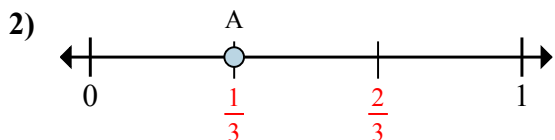
Решите каждую задачу.



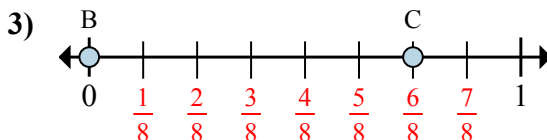
- a. На сколько частей разделена данная числовая прямая?  
 б. Каково местоположение А (написанного как дробь)?



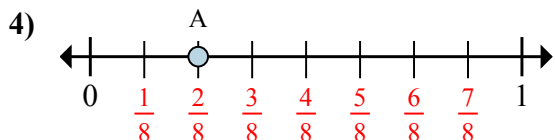
- a. Каково значение 0 на числовой прямой, написанного как дробь?  
 б. Каково расстояние на числовой прямой между В и С is (написанного как дробь)?



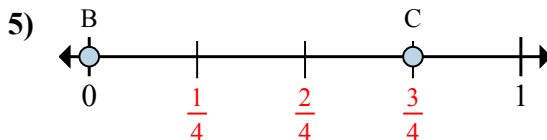
- a. На сколько частей разделена данная числовая прямая?  
 б. Каково местоположение А (написанного как дробь)?



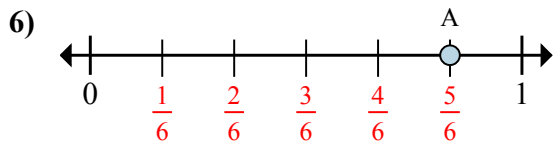
- a. Каково значение 1 на числовой прямой, написанного как дробь?  
 б. Каково расстояние на числовой прямой между В и С is (написанного как дробь)?



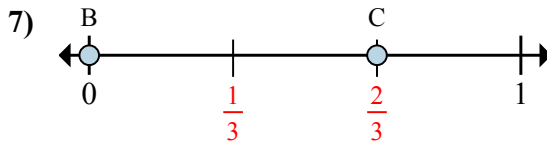
- a. На сколько частей разделена данная числовая прямая?  
 б. Каково местоположение А (написанного как дробь)?



- a. Каково значение 0 на числовой прямой, написанного как дробь?  
 б. Каково расстояние на числовой прямой между В и С is (написанного как дробь)?



- a. На сколько частей разделена данная числовая прямая?  
 б. Каково местоположение А (написанного как дробь)?



- a. Каково значение 1 на числовой прямой, написанного как дробь?  
 б. Каково расстояние на числовой прямой между В и С is (написанного как дробь)?

**Ответы**

об.	8	$\frac{2}{8}$
1.	$\frac{0}{6}$	$\frac{4}{6}$
2.	3	$\frac{1}{3}$
3.	$\frac{8}{8}$	$\frac{6}{8}$
4.	8	$\frac{2}{8}$
5.	$\frac{0}{4}$	$\frac{3}{4}$
6.	6	$\frac{5}{6}$
7.	$\frac{3}{3}$	$\frac{2}{3}$