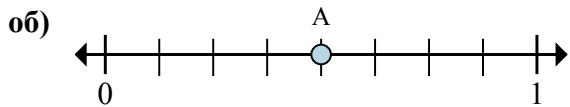
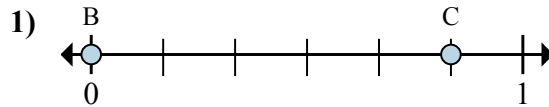




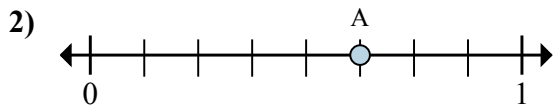
Решите каждую задачу.



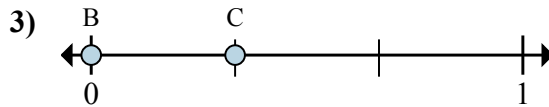
- a. На сколько частей разделена данная числовая прямая?
 б. Каково местоположение А (написанного как дробь)?



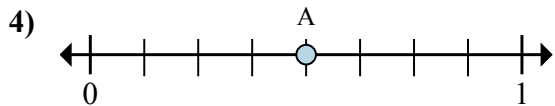
- a. Каково значение 0 на числовой прямой, написанного как дробь?
 б. Каково расстояние на числовой прямой между В и С is (написанного как дробь)?



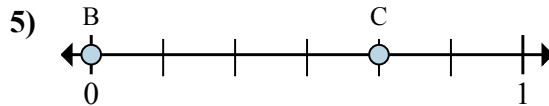
- a. На сколько частей разделена данная числовая прямая?
 б. Каково местоположение А (написанного как дробь)?



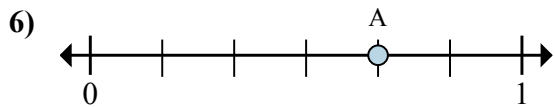
- a. Каково значение 0 на числовой прямой, написанного как дробь?
 б. Каково расстояние на числовой прямой между В и С is (написанного как дробь)?



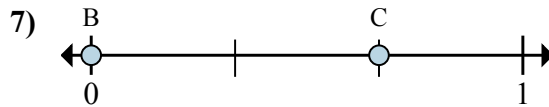
- a. На сколько частей разделена данная числовая прямая?
 б. Каково местоположение А (написанного как дробь)?



- a. Каково значение 0 на числовой прямой, написанного как дробь?
 б. Каково расстояние на числовой прямой между В и С is (написанного как дробь)?



- a. На сколько частей разделена данная числовая прямая?
 б. Каково местоположение А (написанного как дробь)?



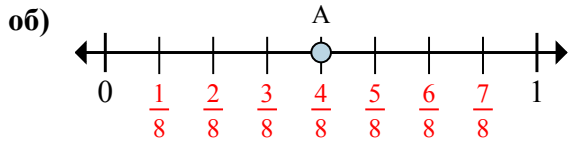
- a. Каково значение 1 на числовой прямой, написанного как дробь?
 б. Каково расстояние на числовой прямой между В и С is (написанного как дробь)?

Отвeты

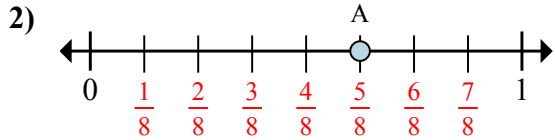
об.	8	$\frac{4}{8}$
1.	_____	_____
2.	_____	_____
3.	_____	_____
4.	_____	_____
5.	_____	_____
6.	_____	_____
7.	_____	_____



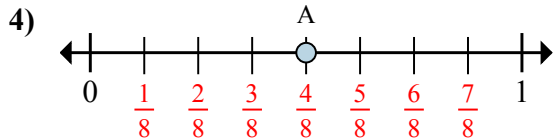
Решите каждую задачу.



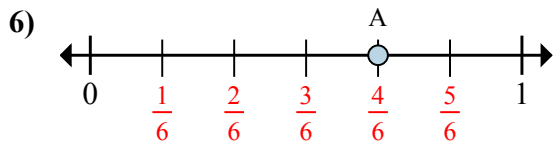
- a. На сколько частей разделена данная числовая прямая?
 б. Каково местоположение А (написанного как дробь)?



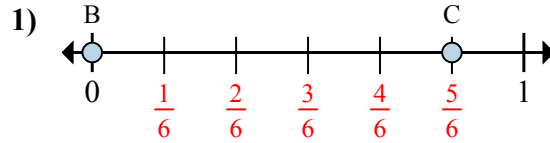
- a. На сколько частей разделена данная числовая прямая?
 б. Каково местоположение А (написанного как дробь)?



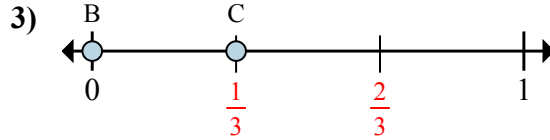
- a. На сколько частей разделена данная числовая прямая?
 б. Каково местоположение А (написанного как дробь)?



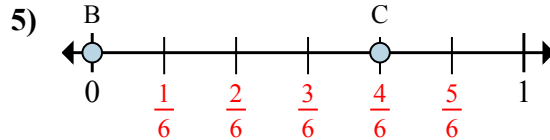
- a. На сколько частей разделена данная числовая прямая?
 б. Каково местоположение А (написанного как дробь)?



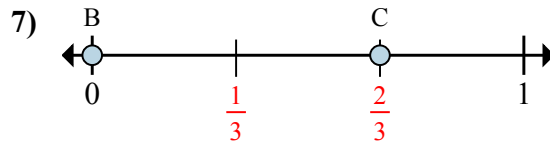
- a. Каково значение 0 на числовой прямой, написанного как дробь?
 б. Каково расстояние на числовой прямой между В и С is (написанного как дробь)?



- a. Каково значение 0 на числовой прямой, написанного как дробь?
 б. Каково расстояние на числовой прямой между В и С is (написанного как дробь)?



- a. Каково значение 0 на числовой прямой, написанного как дробь?
 б. Каково расстояние на числовой прямой между В и С is (написанного как дробь)?



- a. Каково значение 1 на числовой прямой, написанного как дробь?
 б. Каково расстояние на числовой прямой между В и С is (написанного как дробь)?

Ответы

об.	8	4/8
1.	0/6	5/6
2.	8	5/8
3.	0/3	1/3
4.	8	4/8
5.	0/6	4/6
6.	6	4/6
7.	3/3	2/3