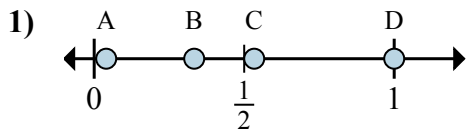


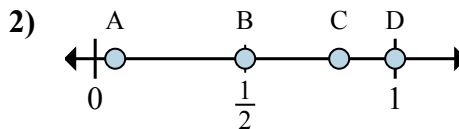


Определите под какой буквой находится правильный ответ по положению дроби на цифровой прямой.

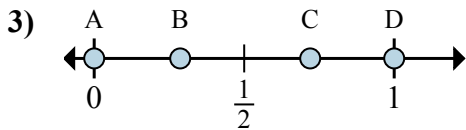
**ОТВЕТЫ**



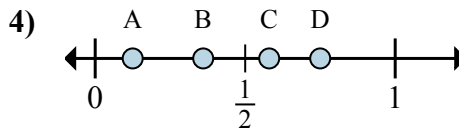
- a. Какая буква наиболее точно показывает  $\frac{1}{3}$
- b. Какая буква наиболее точно показывает  $\frac{3}{3}$



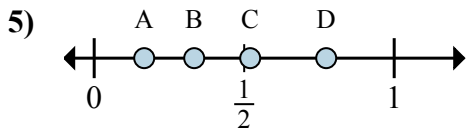
- a. Какая буква наиболее точно показывает  $\frac{1}{2}$
- b. Какая буква наиболее точно показывает  $\frac{2}{2}$



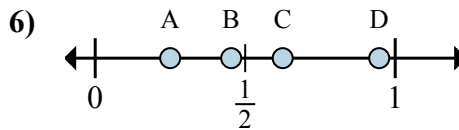
- a. Какая буква наиболее точно показывает  $\frac{0}{6}$
- b. Какая буква наиболее точно показывает  $\frac{6}{6}$



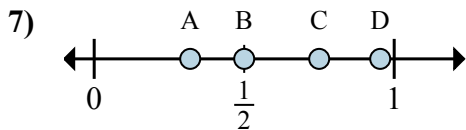
- a. Какая буква наиболее точно показывает  $\frac{1}{8}$
- b. Какая буква наиболее точно показывает  $\frac{6}{8}$



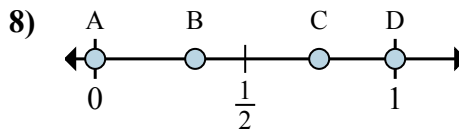
- a. Какая буква наиболее точно показывает  $\frac{2}{6}$
- b. Какая буква наиболее точно показывает  $\frac{1}{6}$



- a. Какая буква наиболее точно показывает  $\frac{5}{8}$
- b. Какая буква наиболее точно показывает  $\frac{2}{8}$



- a. Какая буква наиболее точно показывает  $\frac{3}{4}$
- b. Какая буква наиболее точно показывает  $\frac{2}{4}$

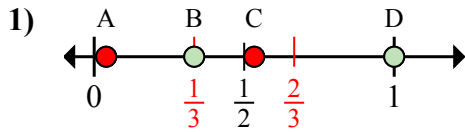


- a. Какая буква наиболее точно показывает  $\frac{0}{6}$
- b. Какая буква наиболее точно показывает  $\frac{6}{6}$

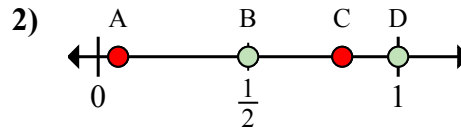
- 1. \_\_\_\_\_
- 2. \_\_\_\_\_
- 3. \_\_\_\_\_
- 4. \_\_\_\_\_
- 5. \_\_\_\_\_
- 6. \_\_\_\_\_
- 7. \_\_\_\_\_
- 8. \_\_\_\_\_



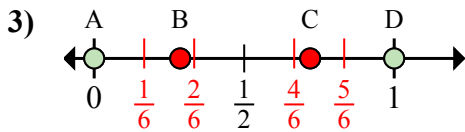
Определите под какой буквой находится правильный ответ по положению дроби на цифровой прямой.



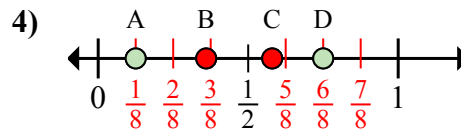
- a. Какая буква наиболее точно показывает  $\frac{1}{3}$
- b. Какая буква наиболее точно показывает  $\frac{3}{3}$



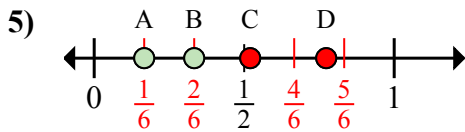
- a. Какая буква наиболее точно показывает  $\frac{1}{2}$
- b. Какая буква наиболее точно показывает  $\frac{2}{2}$



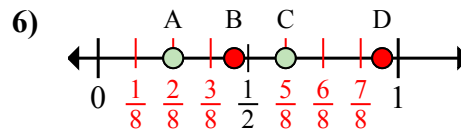
- a. Какая буква наиболее точно показывает  $\frac{0}{6}$
- b. Какая буква наиболее точно показывает  $\frac{6}{6}$



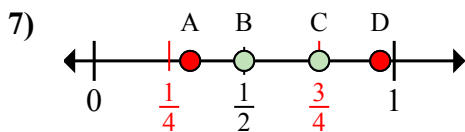
- a. Какая буква наиболее точно показывает  $\frac{1}{8}$
- b. Какая буква наиболее точно показывает  $\frac{6}{8}$



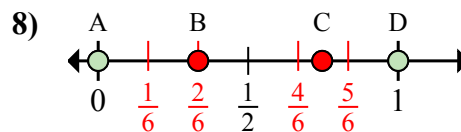
- a. Какая буква наиболее точно показывает  $\frac{2}{6}$
- b. Какая буква наиболее точно показывает  $\frac{1}{6}$



- a. Какая буква наиболее точно показывает  $\frac{5}{8}$
- b. Какая буква наиболее точно показывает  $\frac{2}{8}$



- a. Какая буква наиболее точно показывает  $\frac{3}{4}$
- b. Какая буква наиболее точно показывает  $\frac{2}{4}$



- a. Какая буква наиболее точно показывает  $\frac{0}{6}$
- b. Какая буква наиболее точно показывает  $\frac{6}{6}$

**ОТВЕТЫ**

- 1. B D
- 2. B D
- 3. A D
- 4. A D
- 5. B A
- 6. C A
- 7. C B
- 8. A D