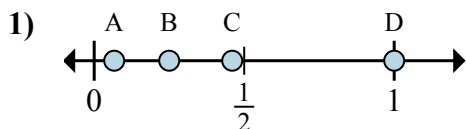


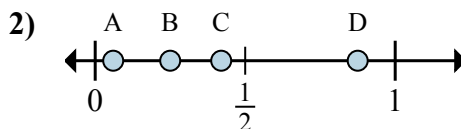


Определите под какой буквой находится правильный ответ по положению дроби на цифровой прямой.

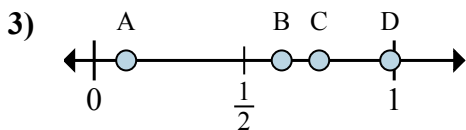
ОТВЕТЫ



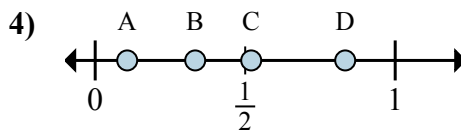
- a. Какая буква наиболее точно показывает $\frac{4}{4}$
- b. Какая буква наиболее точно показывает $\frac{1}{4}$



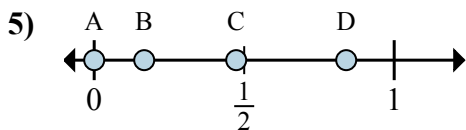
- a. Какая буква наиболее точно показывает $\frac{7}{8}$
- b. Какая буква наиболее точно показывает $\frac{2}{8}$



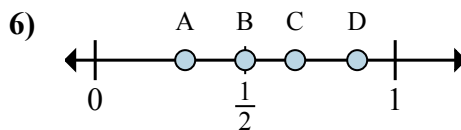
- a. Какая буква наиболее точно показывает $\frac{5}{8}$
- b. Какая буква наиболее точно показывает $\frac{6}{8}$



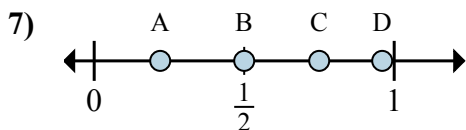
- a. Какая буква наиболее точно показывает $\frac{5}{6}$
- b. Какая буква наиболее точно показывает $\frac{2}{6}$



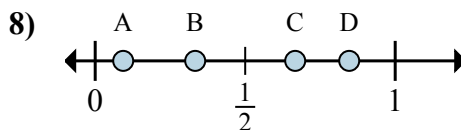
- a. Какая буква наиболее точно показывает $\frac{0}{6}$
- b. Какая буква наиболее точно показывает $\frac{1}{6}$



- a. Какая буква наиболее точно показывает $\frac{3}{6}$
- b. Какая буква наиболее точно показывает $\frac{4}{6}$



- a. Какая буква наиболее точно показывает $\frac{3}{4}$
- b. Какая буква наиболее точно показывает $\frac{2}{4}$



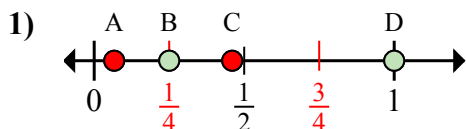
- a. Какая буква наиболее точно показывает $\frac{2}{3}$
- b. Какая буква наиболее точно показывает $\frac{1}{3}$

- 1. _____
- 2. _____
- 3. _____
- 4. _____
- 5. _____
- 6. _____
- 7. _____
- 8. _____

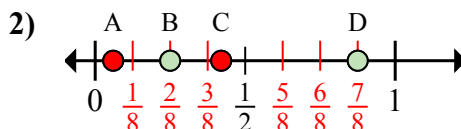


Определите под какой буквой находится правильный ответ по положению дроби на цифровой прямой.

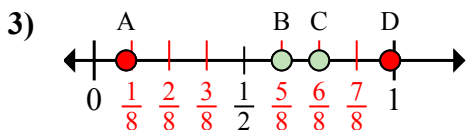
ОТВЕТЫ



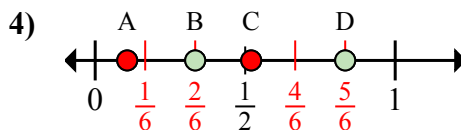
- a. Какая буква наиболее точно показывает $\frac{4}{4}$
- b. Какая буква наиболее точно показывает $\frac{1}{4}$



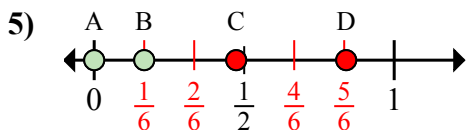
- a. Какая буква наиболее точно показывает $\frac{7}{8}$
- b. Какая буква наиболее точно показывает $\frac{2}{8}$



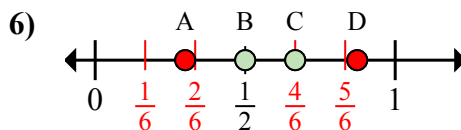
- a. Какая буква наиболее точно показывает $\frac{5}{8}$
- b. Какая буква наиболее точно показывает $\frac{6}{8}$



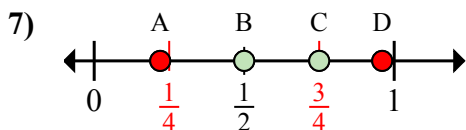
- a. Какая буква наиболее точно показывает $\frac{5}{6}$
- b. Какая буква наиболее точно показывает $\frac{2}{6}$



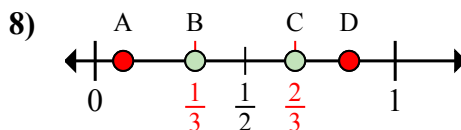
- a. Какая буква наиболее точно показывает $\frac{0}{6}$
- b. Какая буква наиболее точно показывает $\frac{1}{6}$



- a. Какая буква наиболее точно показывает $\frac{3}{6}$
- b. Какая буква наиболее точно показывает $\frac{4}{6}$



- a. Какая буква наиболее точно показывает $\frac{3}{4}$
- b. Какая буква наиболее точно показывает $\frac{2}{4}$



- a. Какая буква наиболее точно показывает $\frac{2}{3}$
- b. Какая буква наиболее точно показывает $\frac{1}{3}$

- 1. D B
- 2. D B
- 3. B C
- 4. D B
- 5. A B
- 6. B C
- 7. C B
- 8. C B