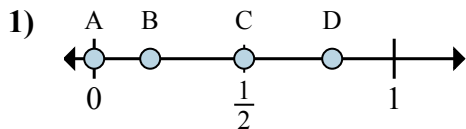


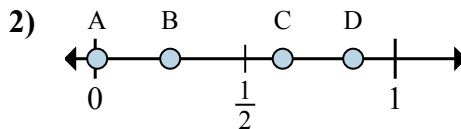


Определите под какой буквой находится правильный ответ по положению дроби на цифровой прямой.

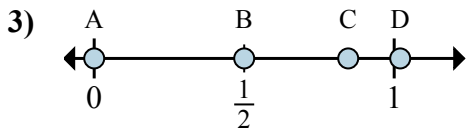
**ОТВЕТЫ**



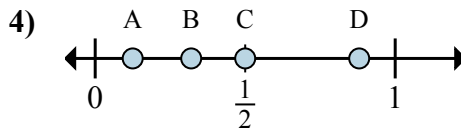
- a. Какая буква наиболее точно показывает  $\frac{0}{2}$
- b. Какая буква наиболее точно показывает  $\frac{1}{2}$



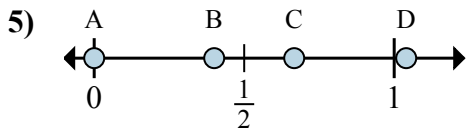
- a. Какая буква наиболее точно показывает  $\frac{2}{8}$
- b. Какая буква наиболее точно показывает  $\frac{5}{8}$



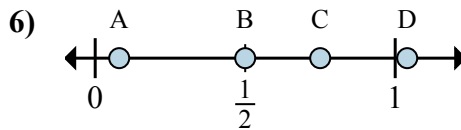
- a. Какая буква наиболее точно показывает  $\frac{0}{6}$
- b. Какая буква наиболее точно показывает  $\frac{3}{6}$



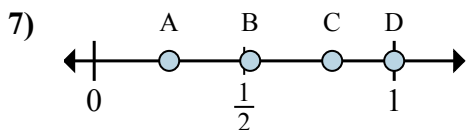
- a. Какая буква наиболее точно показывает  $\frac{1}{8}$
- b. Какая буква наиболее точно показывает  $\frac{4}{8}$



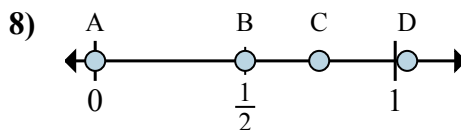
- a. Какая буква наиболее точно показывает  $\frac{0}{3}$
- b. Какая буква наиболее точно показывает  $\frac{2}{3}$



- a. Какая буква наиболее точно показывает  $\frac{2}{4}$
- b. Какая буква наиболее точно показывает  $\frac{3}{4}$



- a. Какая буква наиболее точно показывает  $\frac{1}{4}$
- b. Какая буква наиболее точно показывает  $\frac{4}{4}$

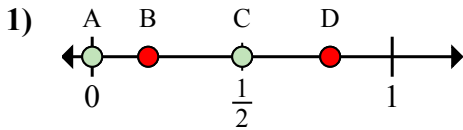


- a. Какая буква наиболее точно показывает  $\frac{0}{2}$
- b. Какая буква наиболее точно показывает  $\frac{1}{2}$

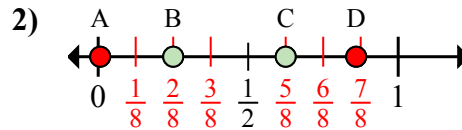
- 1. \_\_\_\_\_
- 2. \_\_\_\_\_
- 3. \_\_\_\_\_
- 4. \_\_\_\_\_
- 5. \_\_\_\_\_
- 6. \_\_\_\_\_
- 7. \_\_\_\_\_
- 8. \_\_\_\_\_



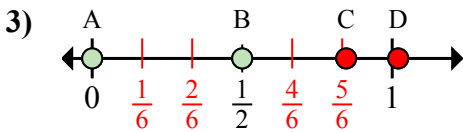
Определите под какой буквой находится правильный ответ по положению дроби на цифровой прямой.



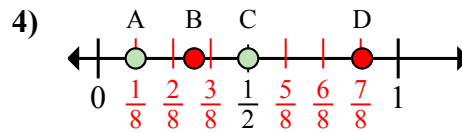
- a. Какая буква наиболее точно показывает  $\frac{0}{2}$
- b. Какая буква наиболее точно показывает  $\frac{1}{2}$



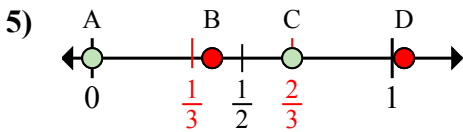
- a. Какая буква наиболее точно показывает  $\frac{2}{8}$
- b. Какая буква наиболее точно показывает  $\frac{5}{8}$



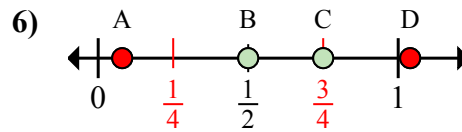
- a. Какая буква наиболее точно показывает  $\frac{0}{6}$
- b. Какая буква наиболее точно показывает  $\frac{3}{6}$



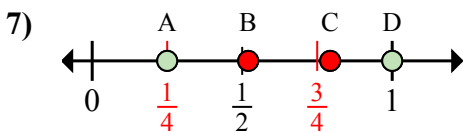
- a. Какая буква наиболее точно показывает  $\frac{1}{8}$
- b. Какая буква наиболее точно показывает  $\frac{4}{8}$



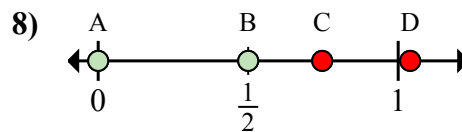
- a. Какая буква наиболее точно показывает  $\frac{0}{3}$
- b. Какая буква наиболее точно показывает  $\frac{2}{3}$



- a. Какая буква наиболее точно показывает  $\frac{2}{4}$
- b. Какая буква наиболее точно показывает  $\frac{3}{4}$



- a. Какая буква наиболее точно показывает  $\frac{1}{4}$
- b. Какая буква наиболее точно показывает  $\frac{4}{4}$



- a. Какая буква наиболее точно показывает  $\frac{0}{2}$
- b. Какая буква наиболее точно показывает  $\frac{1}{2}$

**ОТВЕТЫ**

- 1. A C
- 2. B C
- 3. A B
- 4. A C
- 5. A C
- 6. B C
- 7. A D
- 8. A B