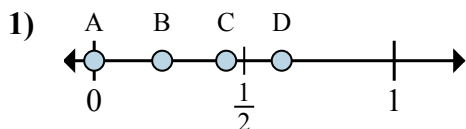


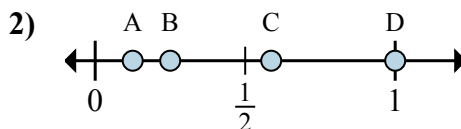


Определите под какой буквой находится правильный ответ по положению дроби на цифровой прямой.

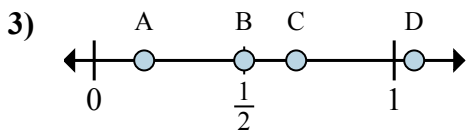
**ОТВЕТЫ**



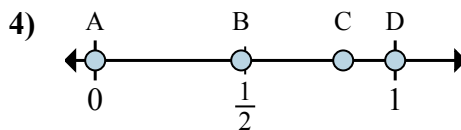
- a. Какая буква наиболее точно показывает  $\frac{0}{8}$
- b. Какая буква наиболее точно показывает  $\frac{5}{8}$



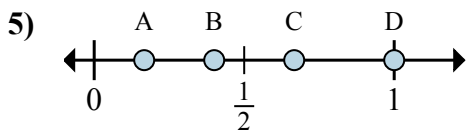
- a. Какая буква наиболее точно показывает  $\frac{1}{8}$
- b. Какая буква наиболее точно показывает  $\frac{2}{8}$



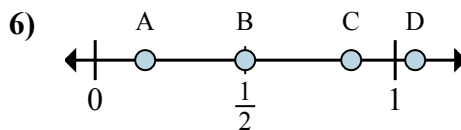
- a. Какая буква наиболее точно показывает  $\frac{1}{6}$
- b. Какая буква наиболее точно показывает  $\frac{3}{6}$



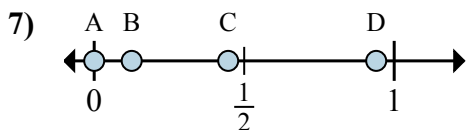
- a. Какая буква наиболее точно показывает  $\frac{0}{2}$
- b. Какая буква наиболее точно показывает  $\frac{2}{2}$



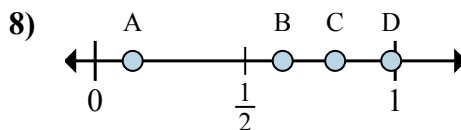
- a. Какая буква наиболее точно показывает  $\frac{3}{3}$
- b. Какая буква наиболее точно показывает  $\frac{2}{3}$



- a. Какая буква наиболее точно показывает  $\frac{3}{6}$
- b. Какая буква наиболее точно показывает  $\frac{1}{6}$



- a. Какая буква наиболее точно показывает  $\frac{0}{8}$
- b. Какая буква наиболее точно показывает  $\frac{1}{8}$

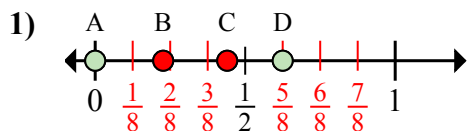


- a. Какая буква наиболее точно показывает  $\frac{5}{8}$
- b. Какая буква наиболее точно показывает  $\frac{1}{8}$

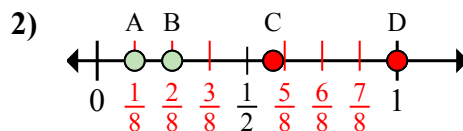
- 1. \_\_\_\_\_
- 2. \_\_\_\_\_
- 3. \_\_\_\_\_
- 4. \_\_\_\_\_
- 5. \_\_\_\_\_
- 6. \_\_\_\_\_
- 7. \_\_\_\_\_
- 8. \_\_\_\_\_



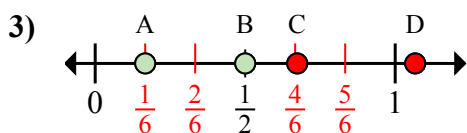
Определите под какой буквой находится правильный ответ по положению дроби на цифровой прямой.



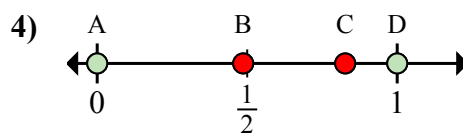
- a. Какая буква наиболее точно показывает  $\frac{0}{8}$   
 b. Какая буква наиболее точно показывает  $\frac{5}{8}$



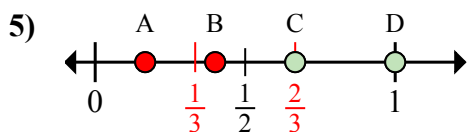
- a. Какая буква наиболее точно показывает  $\frac{1}{8}$   
 b. Какая буква наиболее точно показывает  $\frac{2}{8}$



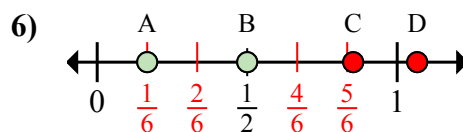
- a. Какая буква наиболее точно показывает  $\frac{1}{6}$   
 b. Какая буква наиболее точно показывает  $\frac{3}{6}$



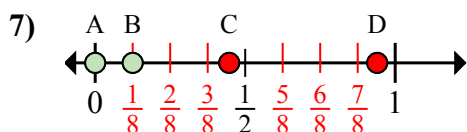
- a. Какая буква наиболее точно показывает  $\frac{0}{2}$   
 b. Какая буква наиболее точно показывает  $\frac{2}{2}$



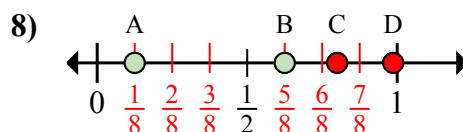
- a. Какая буква наиболее точно показывает  $\frac{3}{3}$   
 b. Какая буква наиболее точно показывает  $\frac{2}{3}$



- a. Какая буква наиболее точно показывает  $\frac{3}{6}$   
 b. Какая буква наиболее точно показывает  $\frac{1}{6}$



- a. Какая буква наиболее точно показывает  $\frac{0}{8}$   
 b. Какая буква наиболее точно показывает  $\frac{1}{8}$



- a. Какая буква наиболее точно показывает  $\frac{5}{8}$   
 b. Какая буква наиболее точно показывает  $\frac{1}{8}$

**ОТВЕТЫ**

1. A D  
 2. A B  
 3. A B  
 4. A D  
 5. D C  
 6. B A  
 7. A B  
 8. B A