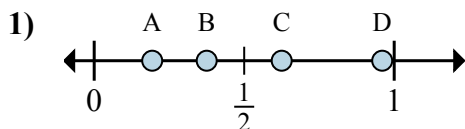


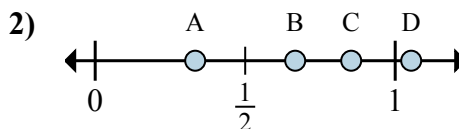


Определите под какой буквой находится правильный ответ по положению дроби на цифровой прямой.

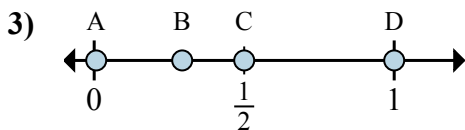
**ОТВЕТЫ**



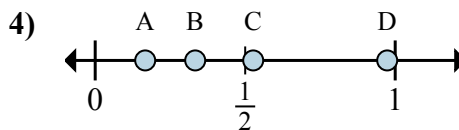
- a. Какая буква наиболее точно показывает  $\frac{3}{8}$
- b. Какая буква наиболее точно показывает  $\frac{5}{8}$



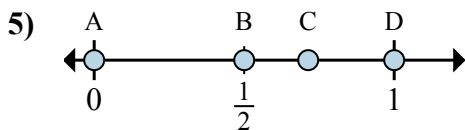
- a. Какая буква наиболее точно показывает  $\frac{2}{3}$
- b. Какая буква наиболее точно показывает  $\frac{1}{3}$



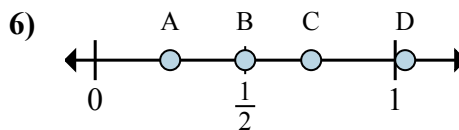
- a. Какая буква наиболее точно показывает  $\frac{2}{2}$
- b. Какая буква наиболее точно показывает  $\frac{1}{2}$



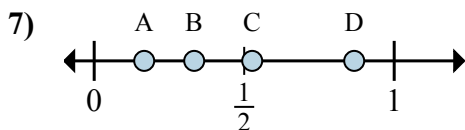
- a. Какая буква наиболее точно показывает  $\frac{1}{6}$
- b. Какая буква наиболее точно показывает  $\frac{2}{6}$



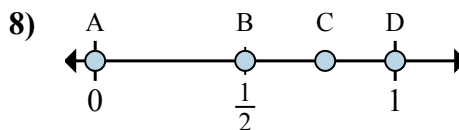
- a. Какая буква наиболее точно показывает  $\frac{1}{2}$
- b. Какая буква наиболее точно показывает  $\frac{2}{2}$



- a. Какая буква наиболее точно показывает  $\frac{2}{4}$
- b. Какая буква наиболее точно показывает  $\frac{1}{4}$



- a. Какая буква наиболее точно показывает  $\frac{2}{6}$
- b. Какая буква наиболее точно показывает  $\frac{1}{6}$

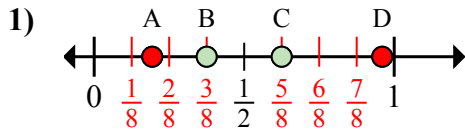


- a. Какая буква наиболее точно показывает  $\frac{1}{2}$
- b. Какая буква наиболее точно показывает  $\frac{2}{2}$

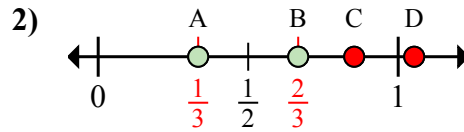
- 1. \_\_\_\_\_
- 2. \_\_\_\_\_
- 3. \_\_\_\_\_
- 4. \_\_\_\_\_
- 5. \_\_\_\_\_
- 6. \_\_\_\_\_
- 7. \_\_\_\_\_
- 8. \_\_\_\_\_



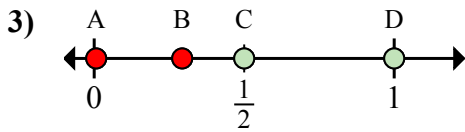
Определите под какой буквой находится правильный ответ по положению дроби на цифровой прямой.



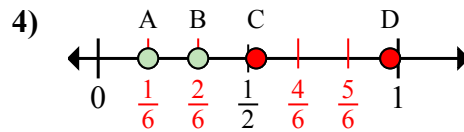
- a. Какая буква наиболее точно показывает  $\frac{3}{8}$   
 b. Какая буква наиболее точно показывает  $\frac{5}{8}$



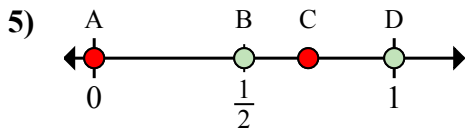
- a. Какая буква наиболее точно показывает  $\frac{2}{3}$   
 b. Какая буква наиболее точно показывает  $\frac{1}{3}$



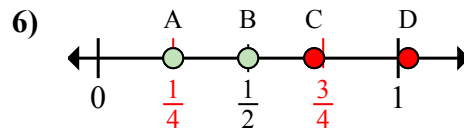
- a. Какая буква наиболее точно показывает  $\frac{2}{2}$   
 b. Какая буква наиболее точно показывает  $\frac{1}{2}$



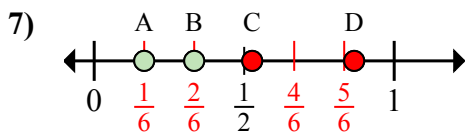
- a. Какая буква наиболее точно показывает  $\frac{1}{6}$   
 b. Какая буква наиболее точно показывает  $\frac{2}{6}$



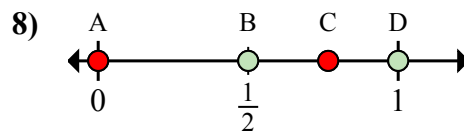
- a. Какая буква наиболее точно показывает  $\frac{1}{2}$   
 b. Какая буква наиболее точно показывает  $\frac{2}{2}$



- a. Какая буква наиболее точно показывает  $\frac{2}{4}$   
 b. Какая буква наиболее точно показывает  $\frac{1}{4}$



- a. Какая буква наиболее точно показывает  $\frac{2}{6}$   
 b. Какая буква наиболее точно показывает  $\frac{1}{6}$



- a. Какая буква наиболее точно показывает  $\frac{1}{2}$   
 b. Какая буква наиболее точно показывает  $\frac{2}{2}$

**ОТВЕТЫ**

1. B C  
 2. B A  
 3. D C  
 4. A B  
 5. B D  
 6. B A  
 7. B A  
 8. B D