



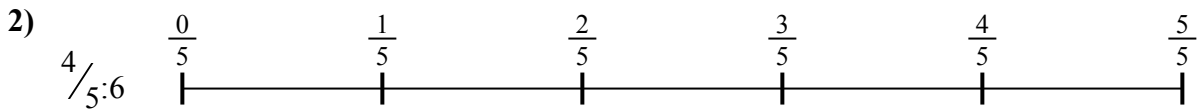
Используйте числовую прямую для решения задачи. Первая отмечена для Вас.

**ОТВЕТЫ**



1. \_\_\_\_\_

2. \_\_\_\_\_



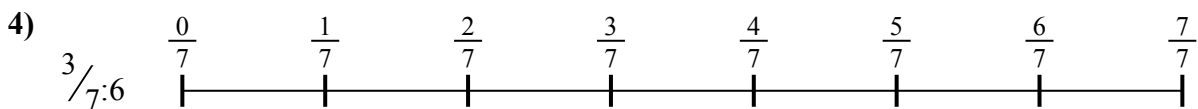
3. \_\_\_\_\_

4. \_\_\_\_\_



5. \_\_\_\_\_

6. \_\_\_\_\_


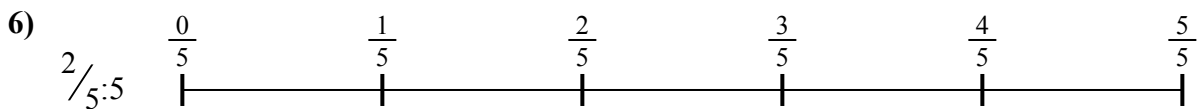


7. \_\_\_\_\_

8. \_\_\_\_\_



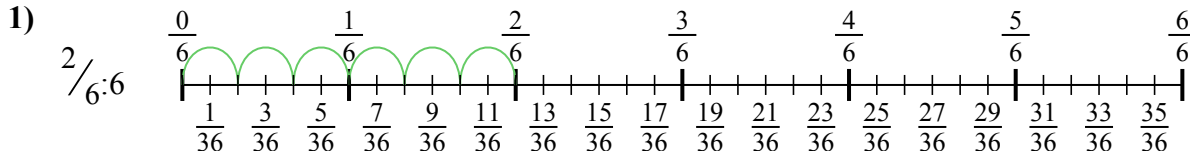
9. \_\_\_\_\_



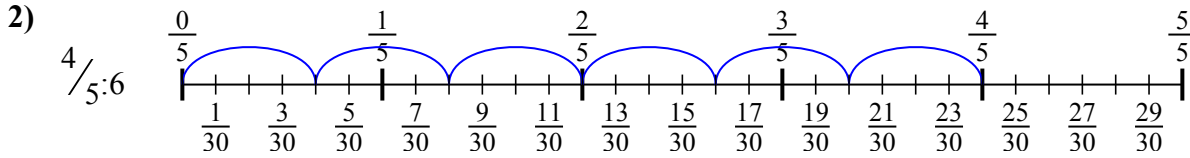


Используйте числовую прямую для решения задачи. Первая отмечена для Вас.

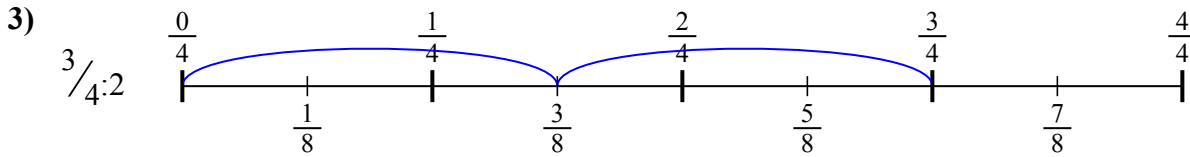
**ОТВЕТЫ**



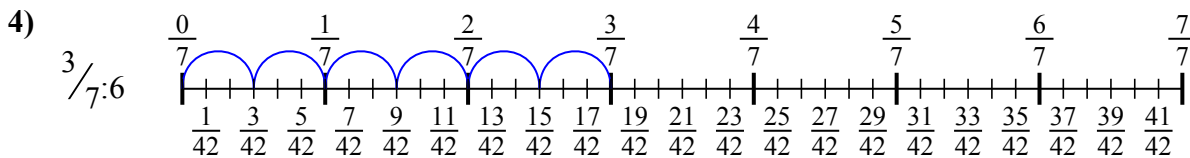
1.  $\frac{2}{36}$



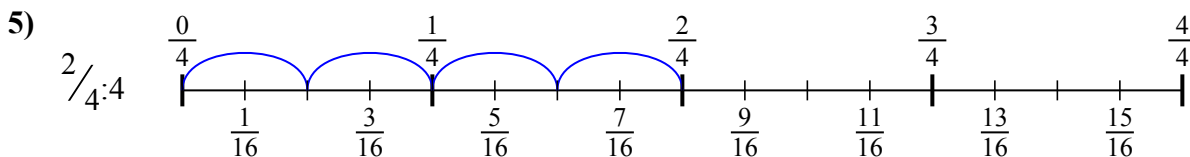
2.  $\frac{4}{30}$



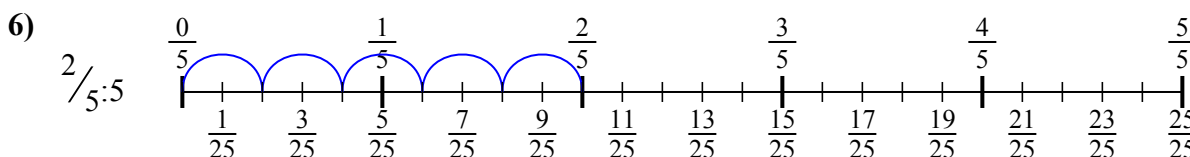
3.  $\frac{3}{8}$



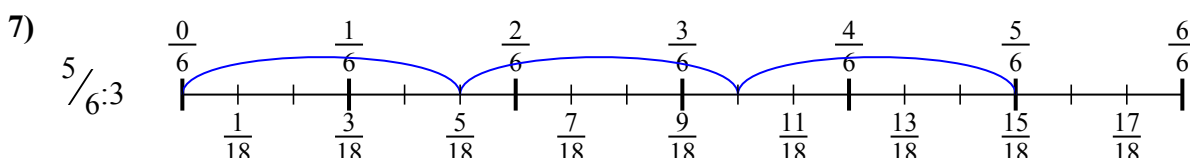
4.  $\frac{3}{42}$



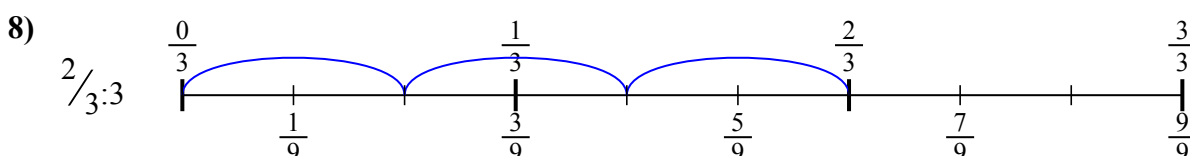
5.  $\frac{2}{16}$



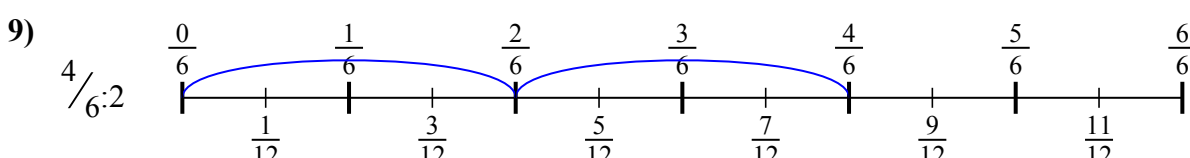
6.  $\frac{2}{25}$



7.  $\frac{5}{18}$



8.  $\frac{2}{9}$



9.  $\frac{4}{12}$



Используйте числовую прямую для решения задачи. Первая отмечена для Вас.

**ОТВЕТЫ**

$\frac{4}{12}$

$\frac{2}{36}$

$\frac{3}{8}$

$\frac{2}{9}$

$\frac{2}{25}$

$\frac{5}{18}$

$\frac{2}{16}$

$\frac{4}{30}$

$\frac{3}{42}$

1. \_\_\_\_\_

2. \_\_\_\_\_

3. \_\_\_\_\_

4. \_\_\_\_\_

5. \_\_\_\_\_

6. \_\_\_\_\_

7. \_\_\_\_\_

8. \_\_\_\_\_

9. \_\_\_\_\_

