



Используйте числовую прямую для решения задачи. Первая отмечена для Вас.

ОТВЕТЫ



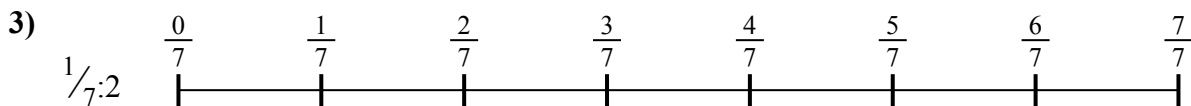
1. _____

2. _____



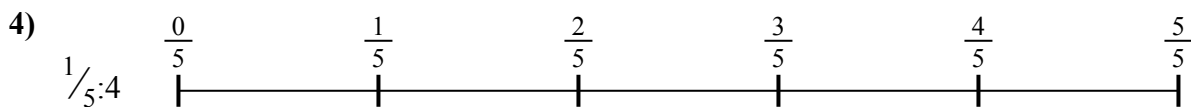
3. _____

4. _____



5. _____

6. _____

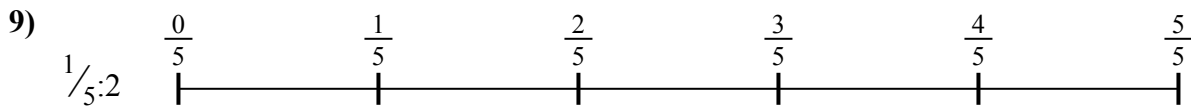
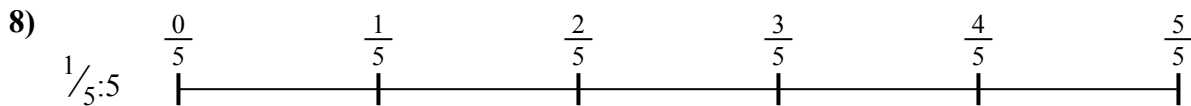


7. _____

8. _____



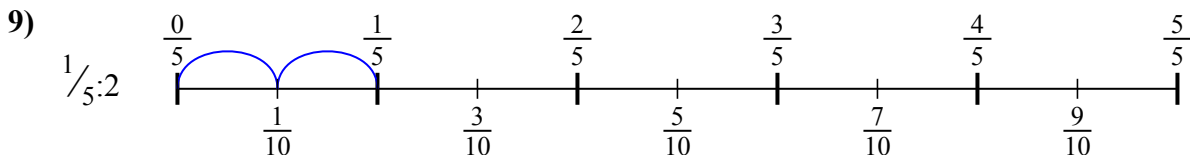
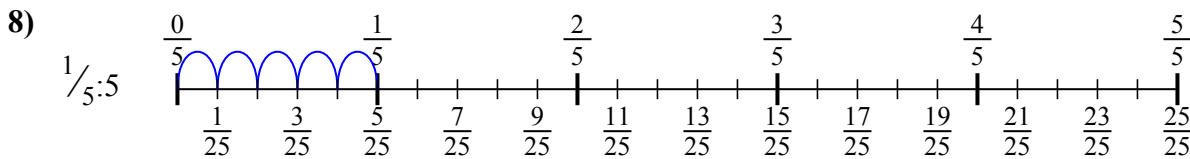
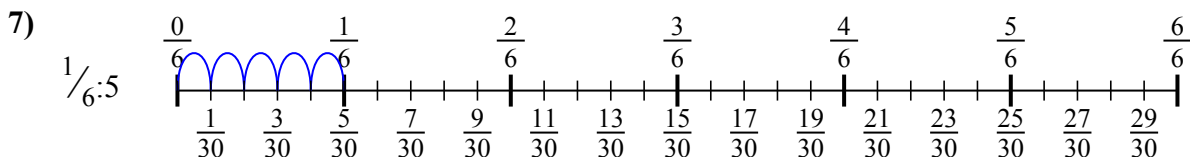
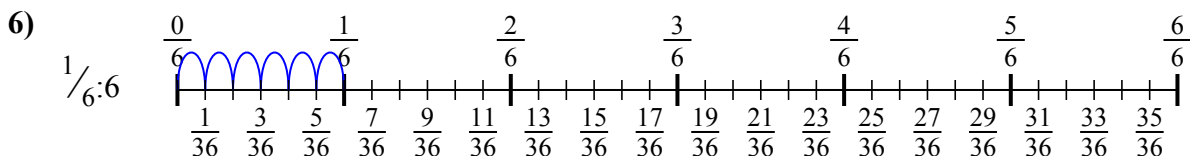
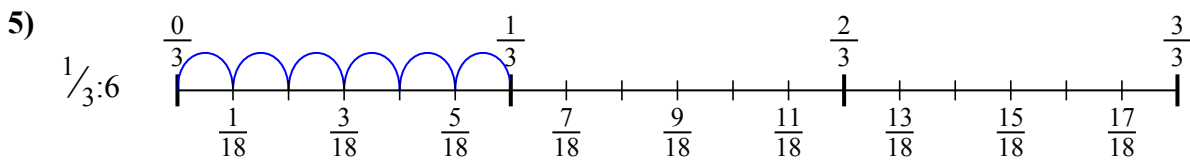
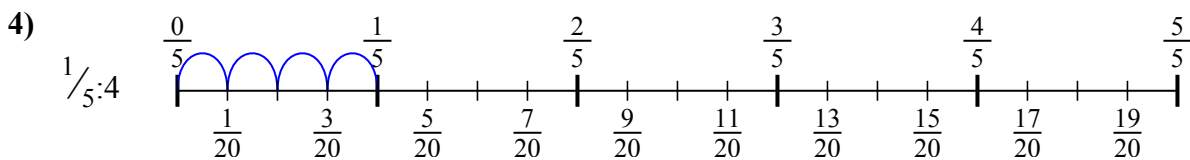
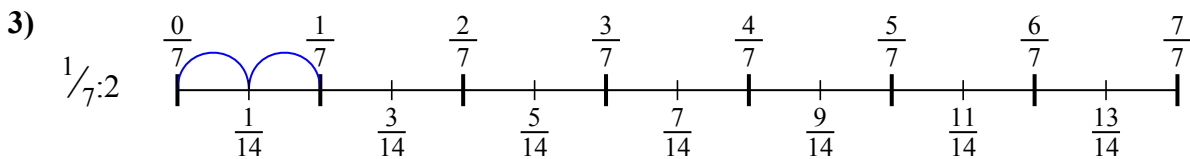
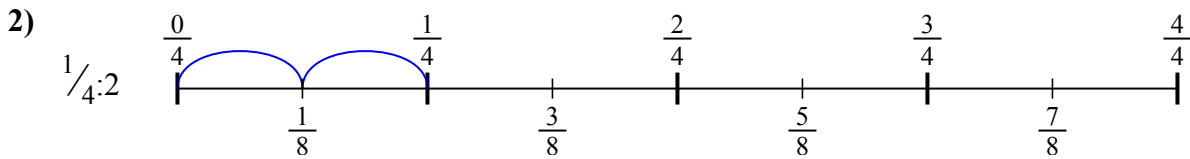
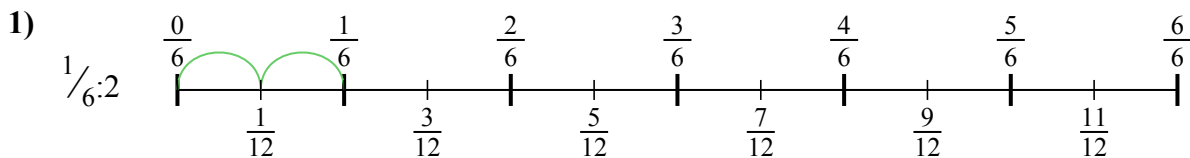
9. _____





Используйте числовую прямую для решения задачи. Первая отмечена для Вас.

ОТВЕТЫ



1. $\frac{1}{12}$

2. $\frac{1}{8}$

3. $\frac{1}{14}$

4. $\frac{1}{20}$

5. $\frac{1}{18}$

6. $\frac{1}{36}$

7. $\frac{1}{30}$

8. $\frac{1}{25}$

9. $\frac{1}{10}$



Используйте числовую прямую для решения задачи. Первая отмечена для Вас.

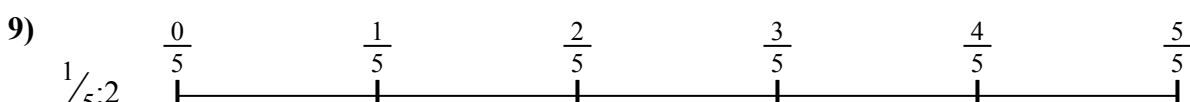
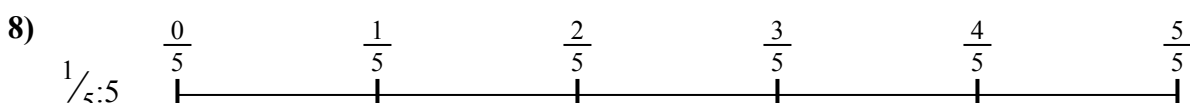
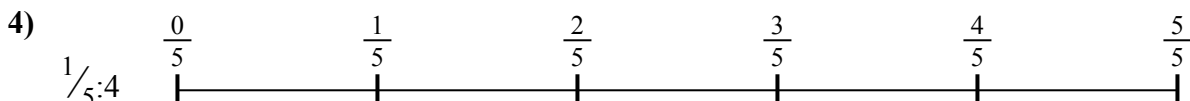
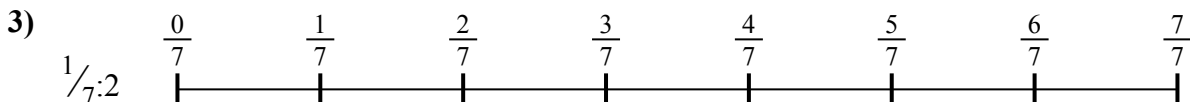
ОТВЕТЫ

$\frac{1}{30}$
 $\frac{1}{18}$
 $\frac{1}{10}$

$\frac{1}{12}$
 $\frac{1}{25}$

$\frac{1}{36}$
 $\frac{1}{14}$

$\frac{1}{8}$
 $\frac{1}{20}$



1. _____
2. _____
3. _____
4. _____
5. _____
6. _____
7. _____
8. _____
9. _____