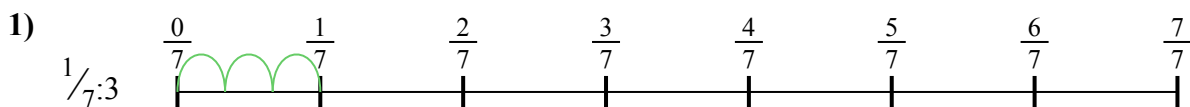




Используйте числовую прямую для решения задачи. Первая отмечена для Вас.

ОТВЕТЫ



1. _____

2. _____



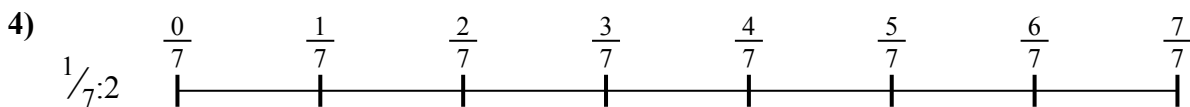
3. _____

4. _____



5. _____

6. _____




7. _____

8. _____



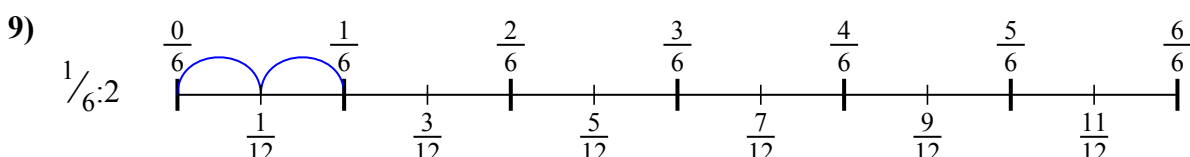
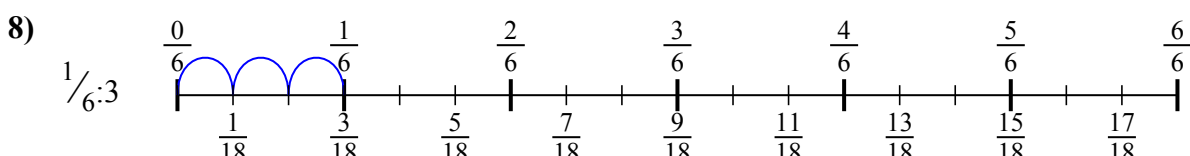
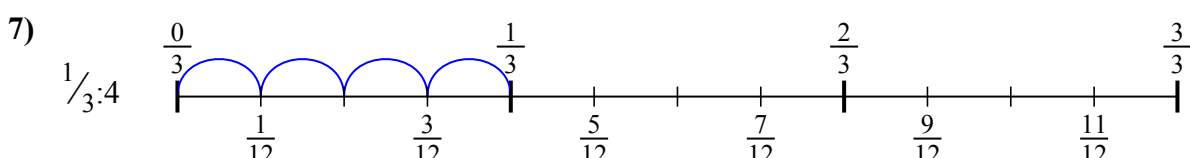
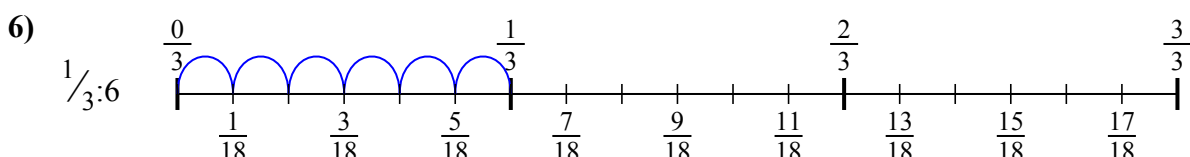
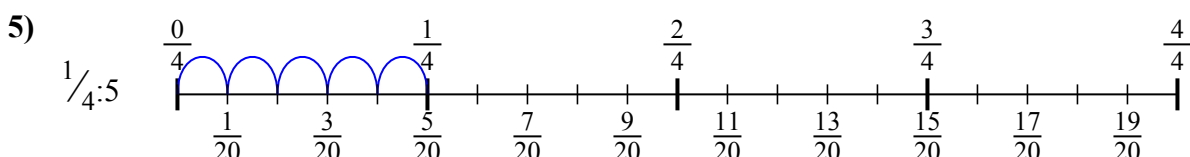
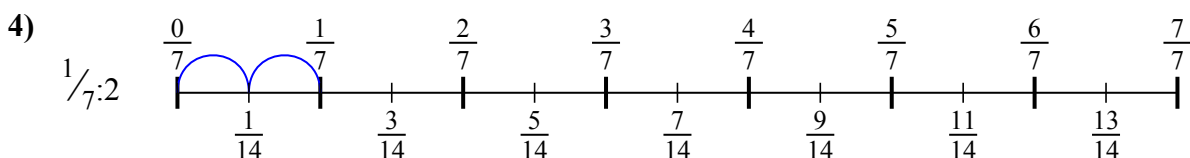
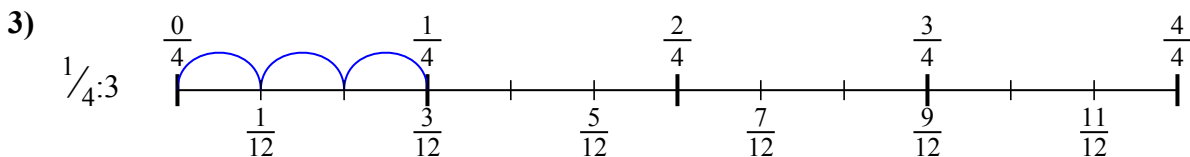
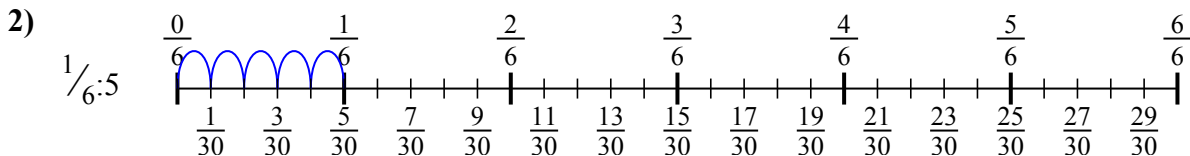
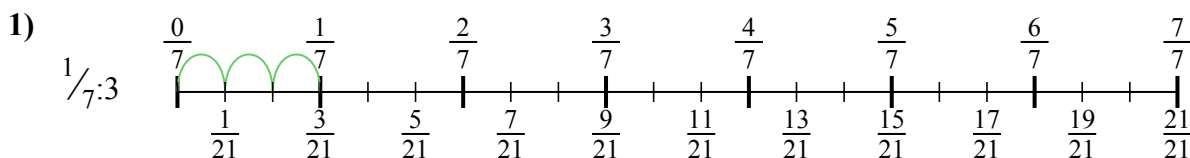
9. _____





Используйте числовую прямую для решения задачи. Первая отмечена для Вас.

ОТВЕТЫ



1. $\frac{1}{21}$

2. $\frac{1}{30}$

3. $\frac{1}{12}$

4. $\frac{1}{14}$

5. $\frac{1}{20}$

6. $\frac{1}{18}$

7. $\frac{1}{12}$

8. $\frac{1}{18}$

9. $\frac{1}{12}$



Используйте числовую прямую для решения задачи. Первая отмечена для Вас.

ОТВЕТЫ

$\frac{1}{30}$

$\frac{1}{12}$

$\frac{1}{12}$

$\frac{1}{20}$



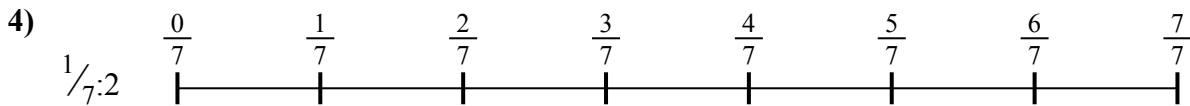

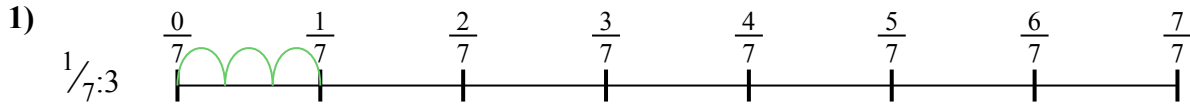
$\frac{1}{21}$

$\frac{1}{18}$

$\frac{1}{18}$

$\frac{1}{12}$

$\frac{1}{14}$



1. _____

2. _____

3. _____

4. _____

5. _____

6. _____

7. _____

8. _____

9. _____