



Заполните сетку с помощью диаграммы.

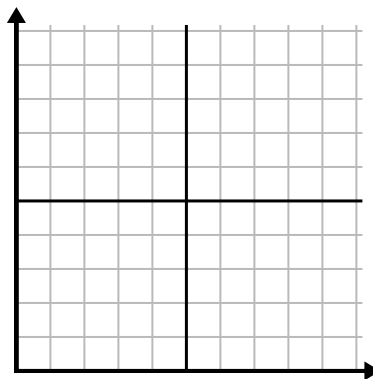
1)

Год	1	2	3	4	5	6
Коробки использованных ручек	10	1	6	2	7	8



2)

День	1	2	3	4	5
Отправлено текстов	25	35	40	15	5



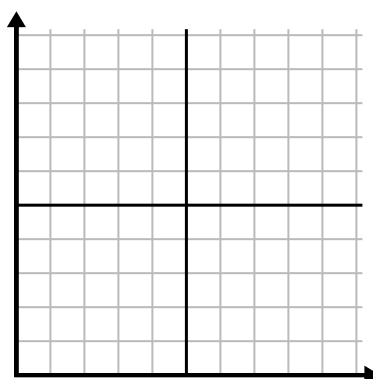
3)

Год	1	2	3	4	5
Картриджи с чернилами	10	4	12	2	14



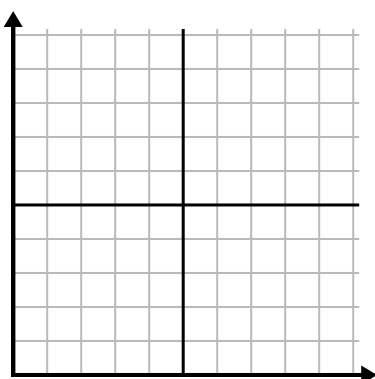
4)

День	1	2	3	4	5
Просмотренные видео на Youtube	120	60	300	150	30



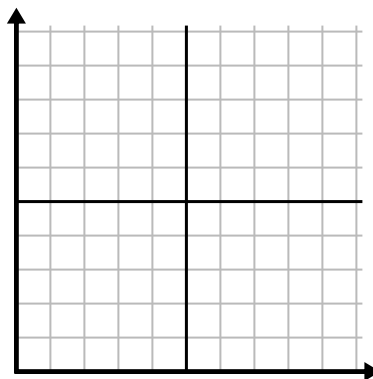
5)

Неделя	1	2	3	4	5	6	7
Использованная вода (галлоны)	100	50	90	10	60	80	40



6)

День	1	2	3	4	5	6	7
Деньги, потраченные	1	7	3	4	5	6	8

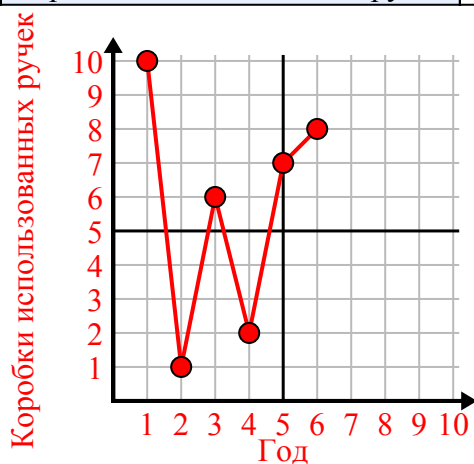




Заполните сетку с помощью диаграммы.

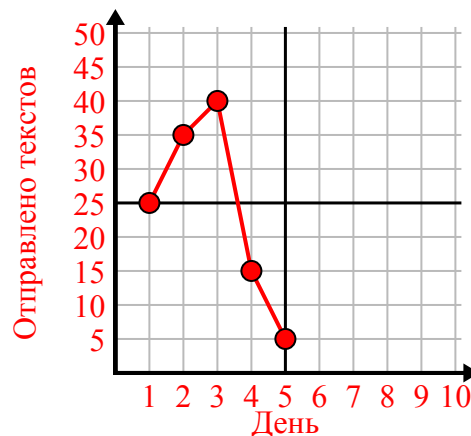
1)

Год	1	2	3	4	5	6
Коробки использованных ручек	10	1	6	2	7	8



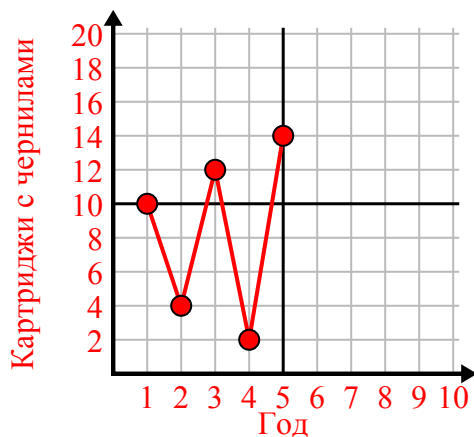
2)

День	1	2	3	4	5
Отправлено текстов	25	35	40	15	5



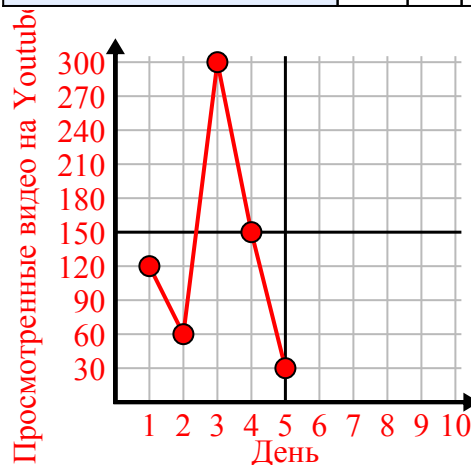
3)

Год	1	2	3	4	5
Картриджи с чернилами	10	4	12	2	14



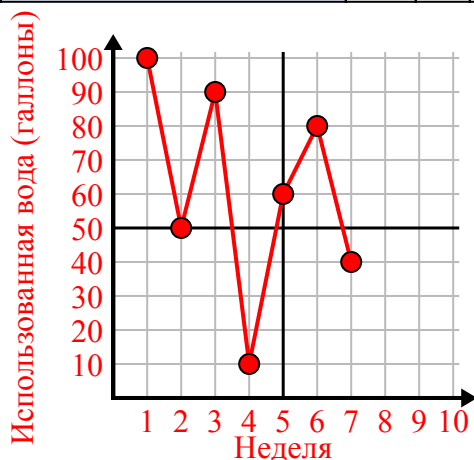
4)

День	1	2	3	4	5
Просмотренные видео на Youtube	120	60	300	150	30



5)

Неделя	1	2	3	4	5	6	7
Использованная вода (галлоны)	100	50	90	10	60	80	40



6)

День	1	2	3	4	5	6	7
Деньги, потраченные	1	7	3	4	5	6	8

