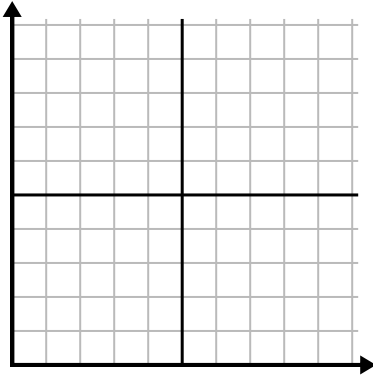




Заполните сетку с помощью диаграммы.

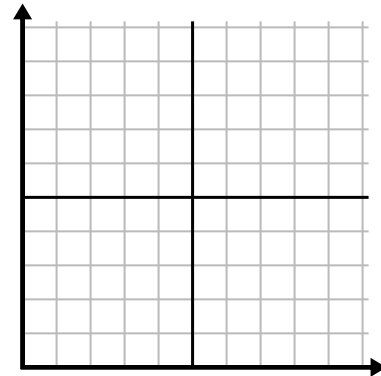
1)

День	1	2	3	4	5	6
Сожжено калорий	80	60	140	100	40	180



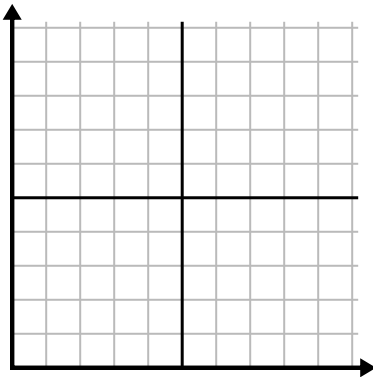
2)

Месяц	1	2	3	4	5
Цена счета за электричество	225	250	175	150	75



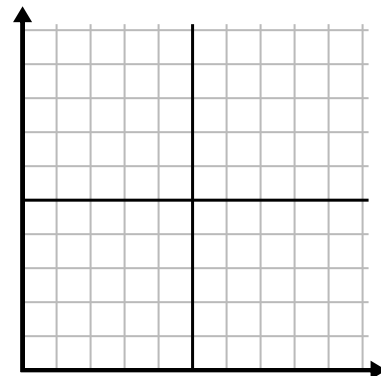
3)

Час	1	2	3	4	5
Проданная сумма	1	9	2	6	5



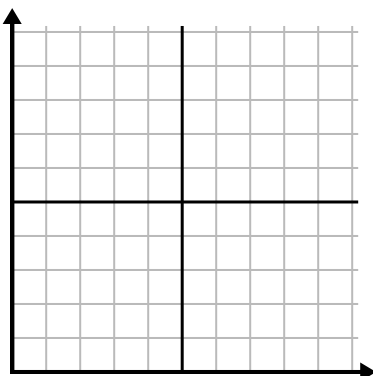
4)

День	1	2	3	4	5	6	7
Отправлено текстов	5	10	50	30	20	15	25



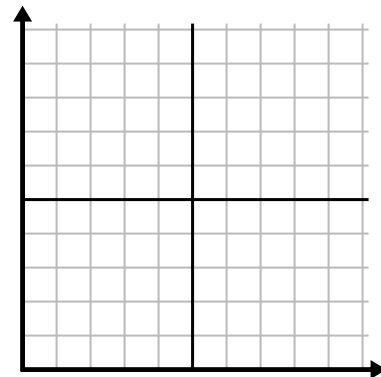
5)

Неделя	1	2	3	4	5	6	7
Использованная вода (галлоны)	90	10	80	100	50	20	70



6)

День	1	2	3	4	5	6	7
Деньги, потраченные	8	7	6	5	4	3	10

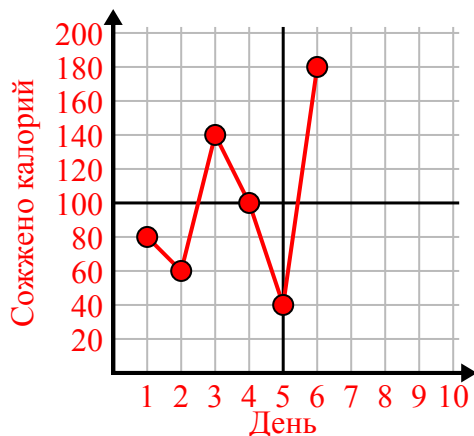




Заполните сетку с помощью диаграммы.

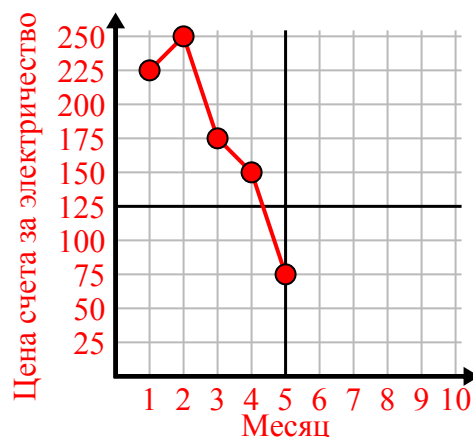
1)

День	1	2	3	4	5	6
Сожжено калорий	80	60	140	100	40	180



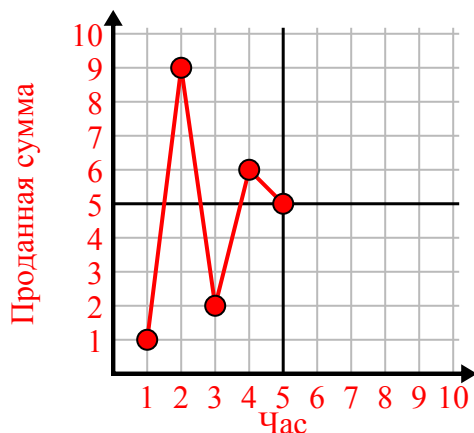
2)

Месяц	1	2	3	4	5
Цена счета за электричество	225	250	175	150	75



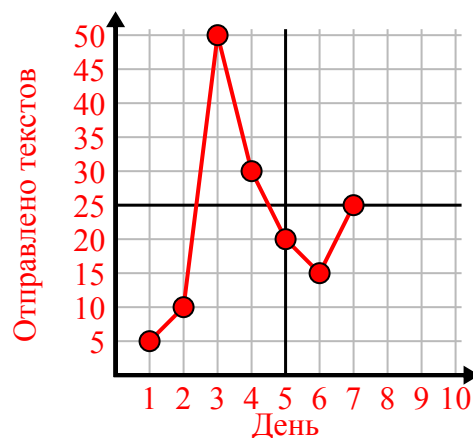
3)

Час	1	2	3	4	5
Проданная сумма	1	9	2	6	5



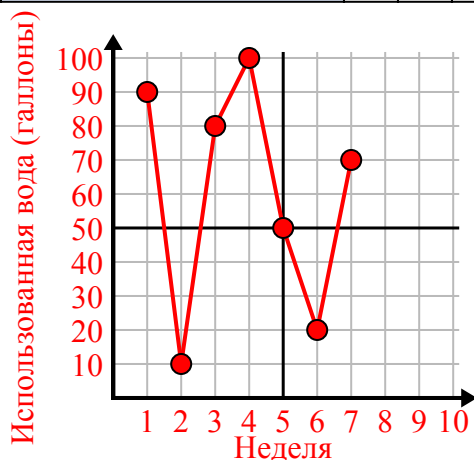
4)

День	1	2	3	4	5	6	7
Отправлено текстов	5	10	50	30	20	15	25



5)

Неделя	1	2	3	4	5	6	7
Использованная вода (галлоны)	90	10	80	100	50	20	70



6)

День	1	2	3	4	5	6	7
Деньги, потраченные	8	7	6	5	4	3	10

