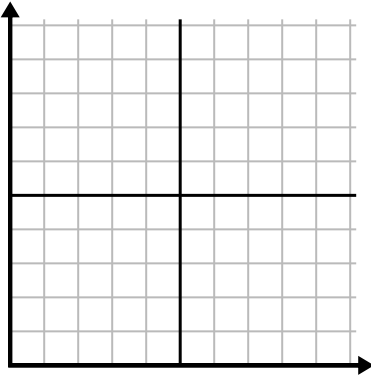




Заполните сетку с помощью диаграммы.

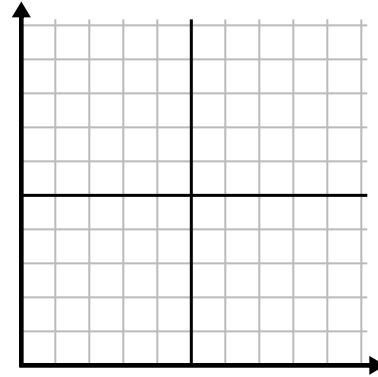
1)

Месяц	1	2	3	4	5	6
Цена счета за электричество	50	75	250	150	175	25



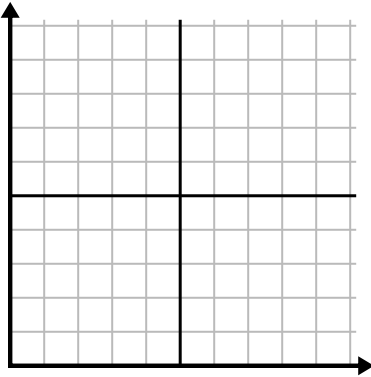
2)

День	1	2	3	4	5	6	7
Просмотренные видео на Youtube	90	210	120	150	60	30	300



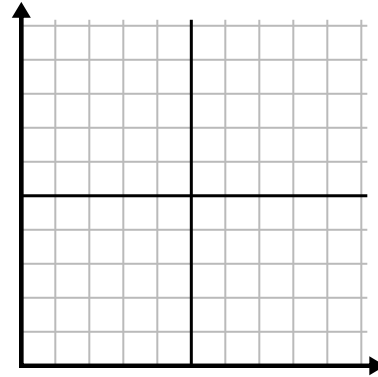
3)

Неделя	1	2	3	4	5	6
Часы просмотра ТВ	25	30	15	10	20	50



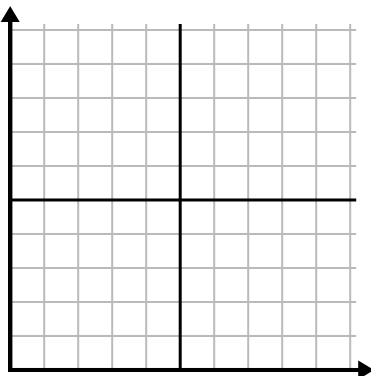
4)

День	1	2	3	4	5	6	7
Продано блюд	900	400	200	800	100	500	300



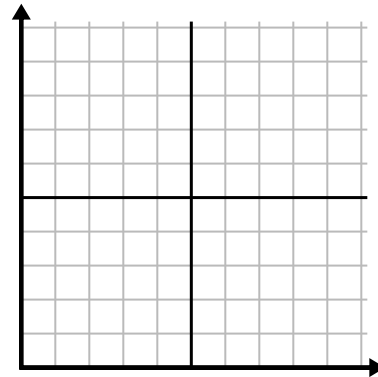
5)

Неделя	1	2	3	4	5
Использованная вода (галлоны)	60	80	10	30	20



6)

День	1	2	3	4	5
Сожжено калорий	140	120	180	200	160

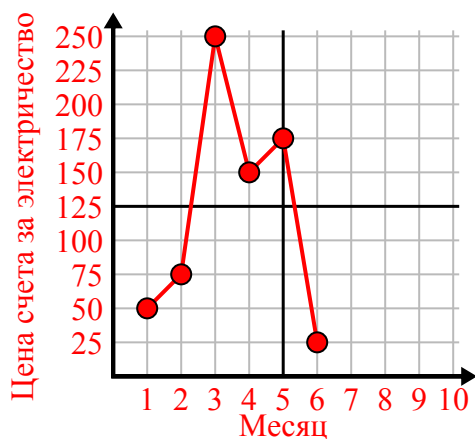




Заполните сетку с помощью диаграммы.

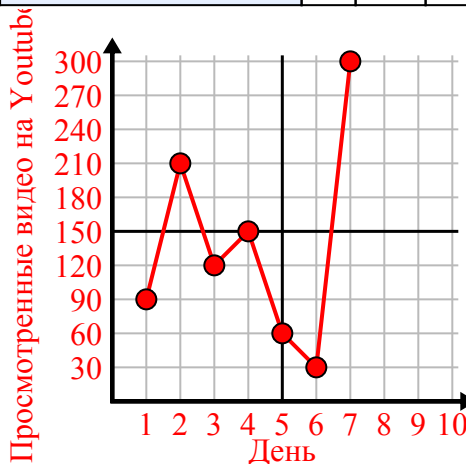
1)

Месяц	1	2	3	4	5	6
Цена счета за электричество	50	75	250	150	175	25



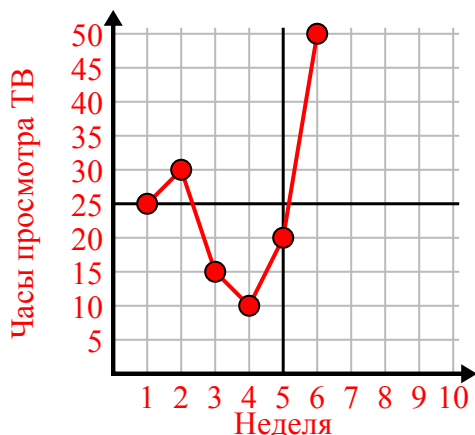
2)

День	1	2	3	4	5	6	7
Просмотренные видео на Youtube	90	210	120	150	60	30	300



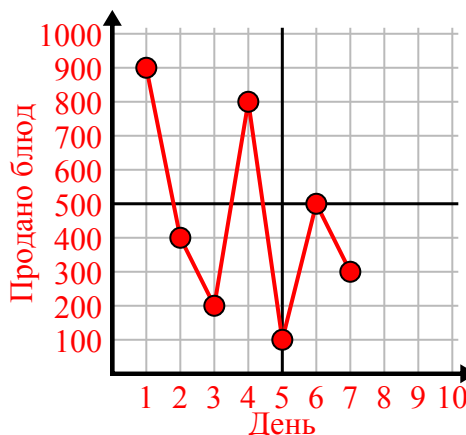
3)

Неделя	1	2	3	4	5	6
Часы просмотра ТВ	25	30	15	10	20	50



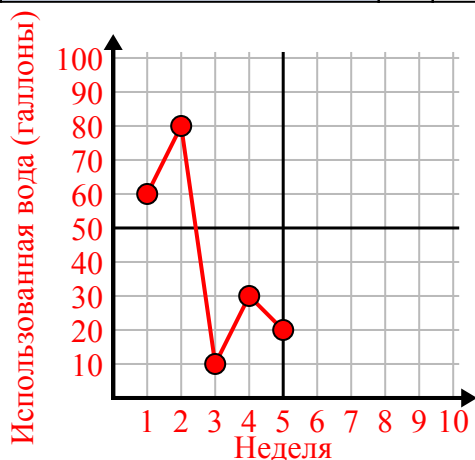
4)

День	1	2	3	4	5	6	7
Продано блюд	900	400	200	800	100	500	300



5)

Неделя	1	2	3	4	5
Использованная вода (галлоны)	60	80	10	30	20



6)

День	1	2	3	4	5
Сожжено калорий	140	120	180	200	160

