



Заполните сетку с помощью диаграммы.

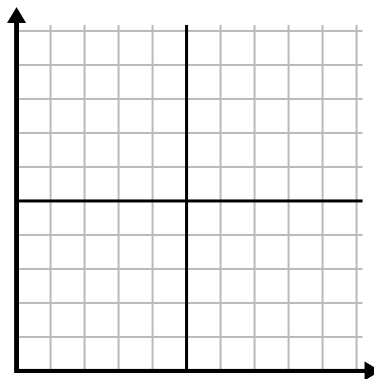
1)

| Неделя | 1 | 2 | 3 | 4 | 5 |
|-------------------|----|----|----|----|----|
| Часы просмотра ТВ | 25 | 50 | 40 | 15 | 20 |



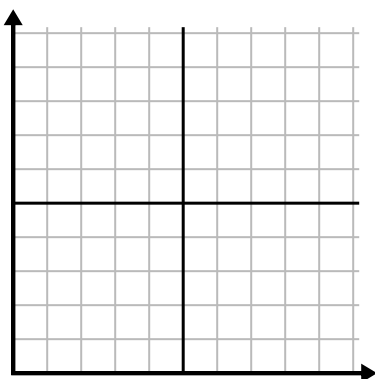
2)

| Час | 1 | 2 | 3 | 4 | 5 | 6 | 7 |
|-----------------|---|---|---|---|---|---|---|
| Проданная сумма | 7 | 6 | 2 | 9 | 1 | 4 | 8 |



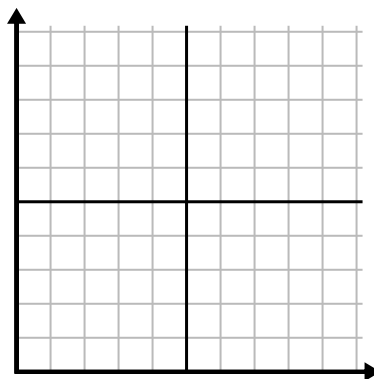
3)

| Год | 1 | 2 | 3 | 4 | 5 | 6 |
|------------------------------|---|---|---|---|---|----|
| Коробки использованных ручек | 6 | 7 | 2 | 8 | 5 | 10 |



4)

| День | 1 | 2 | 3 | 4 | 5 | 6 | 7 |
|---------------------|---|---|---|---|---|---|---|
| Деньги, потраченные | 9 | 8 | 5 | 7 | 3 | 2 | 4 |



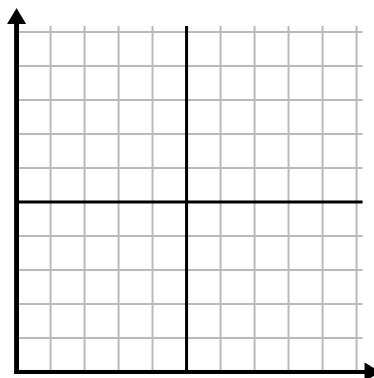
5)

| День | 1 | 2 | 3 | 4 | 5 |
|--------------------|---|----|----|----|----|
| Отправлено текстов | 5 | 25 | 45 | 40 | 30 |



6)

| День | 1 | 2 | 3 | 4 | 5 |
|--------------------------------|-----|-----|----|----|-----|
| Просмотренные видео на Youtube | 300 | 240 | 30 | 60 | 180 |

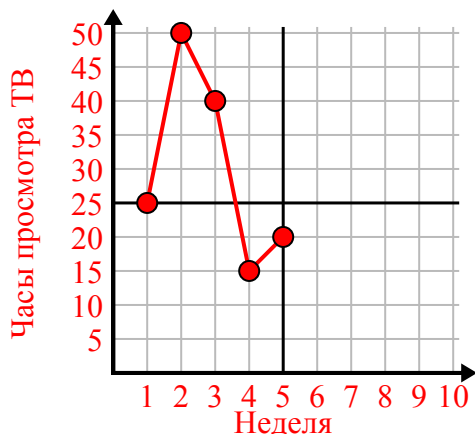




Заполните сетку с помощью диаграммы.

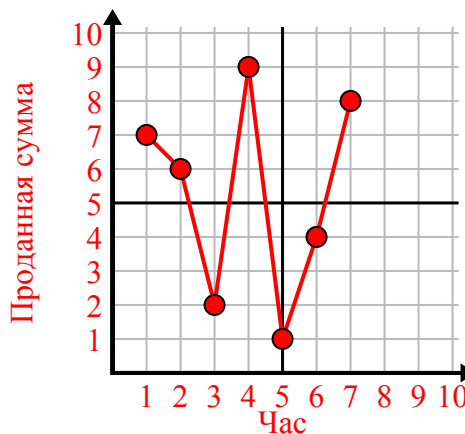
1)

| Неделя | 1 | 2 | 3 | 4 | 5 |
|-------------------|----|----|----|----|----|
| Часы просмотра ТВ | 25 | 50 | 40 | 15 | 20 |



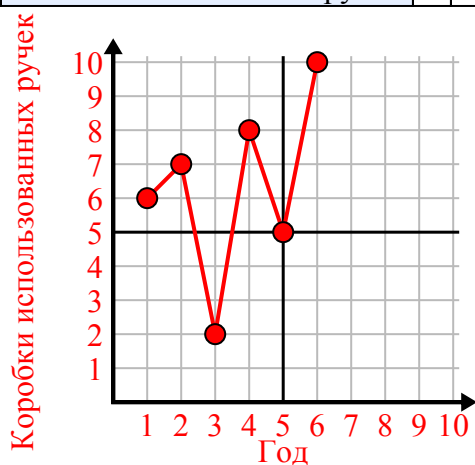
2)

| Час | 1 | 2 | 3 | 4 | 5 | 6 | 7 |
|-----------------|---|---|---|---|---|---|---|
| Проданная сумма | 7 | 6 | 2 | 9 | 1 | 4 | 8 |



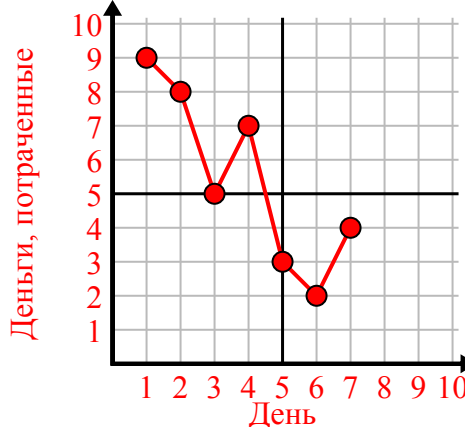
3)

| Год | 1 | 2 | 3 | 4 | 5 | 6 |
|------------------------------|---|---|---|---|---|----|
| Коробки использованных ручек | 6 | 7 | 2 | 8 | 5 | 10 |



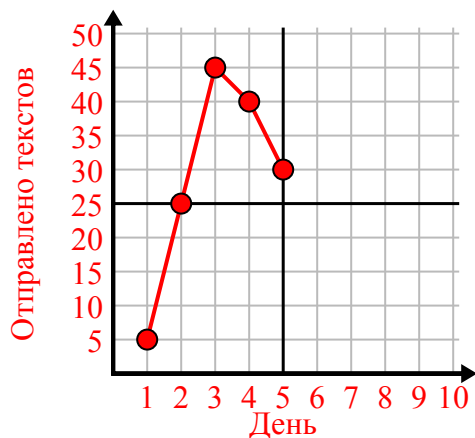
4)

| День | 1 | 2 | 3 | 4 | 5 | 6 | 7 |
|---------------------|---|---|---|---|---|---|---|
| Деньги, потраченные | 9 | 8 | 5 | 7 | 3 | 2 | 4 |



5)

| День | 1 | 2 | 3 | 4 | 5 |
|--------------------|---|----|----|----|----|
| Отправлено текстов | 5 | 25 | 45 | 40 | 30 |



6)

| День | 1 | 2 | 3 | 4 | 5 |
|--------------------------------|-----|-----|----|----|-----|
| Просмотренные видео на Youtube | 300 | 240 | 30 | 60 | 180 |

