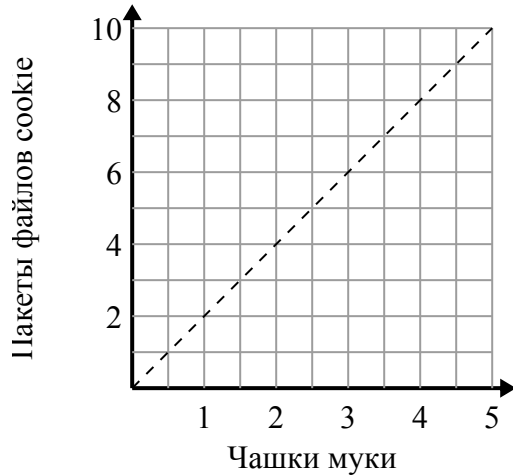




Определите, какие утверждения о графике верны.

**Ответы**

1)



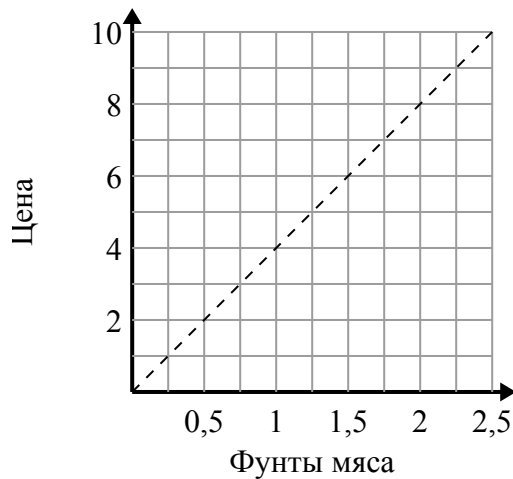
- A. Точка (8 , 4) показывает, что для 8 партий печенья требуется 4 чашек муки.
- B. Точка (3 , 1.5) показывает, что из 1.5 стаканов муки будет 3 партии печенья.
- C. Точка (1 , 2) показывает, что для 2 партий печенья требуется 1 чашек муки.
- D. Точка (1 , 0.5) показывает, что из 0.5 стаканов муки будет 1 партия печенья.

1. \_\_\_\_\_

2. \_\_\_\_\_

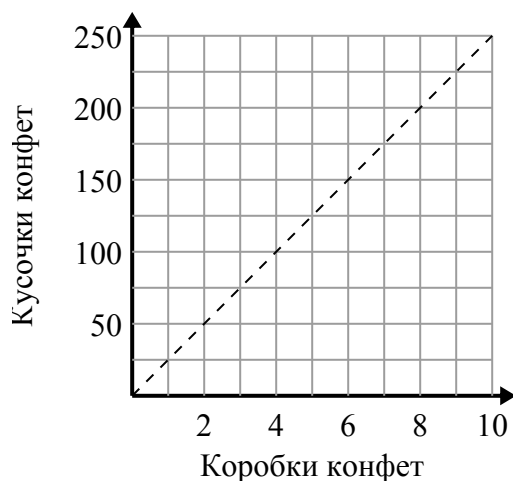
3. \_\_\_\_\_

2)



- A. Точка (2 , 0.5) означает, что на \$ 2 вы купите 0.5 фунтов мяса.
- B. Точка (1.75 , 7) показывает, что покупка 1.75 фунтов мяса будет стоить 7 долларов.
- C. Точка (0.75 , 3) означает, что на \$ 3 вы купите 0.75 фунтов мяса.
- D. Точка (6 , 1.5) означает, что на \$ 6 вы купите 1.5 фунтов мяса.

3)



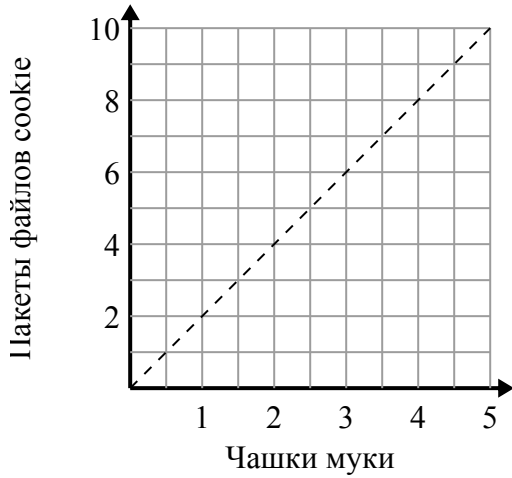
- A. Точка (200 , 8) показывает, что вы получаете 200 конфет в коробках 8.
- B. Точка (50 , 2) показывает, что 2 коробки конфет содержат 50 конфет.
- C. Точка (1 , 25) показывает, что вы получаете 25 конфет в коробках 1.
- D. Точка (7 , 175) показывает, что вы получаете 175 конфет в коробках 7.



Определите, какие утверждения о графике верны.

**Отвeты**

1)



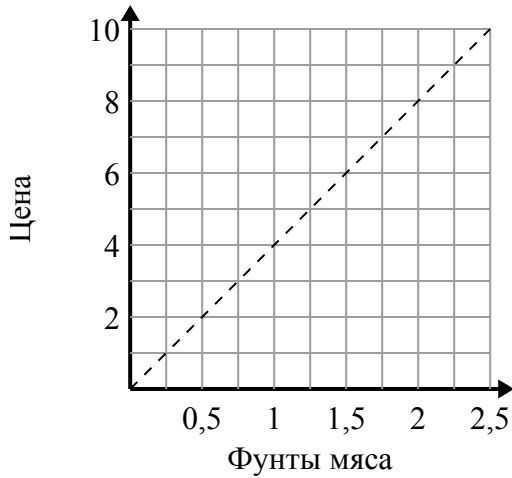
- A. Точка (8 , 4) показывает, что для 8 партий печенья требуется 4 чашек муки.
- B. Точка (3 , 1.5) показывает, что из 1.5 стаканов муки будет 3 партии печенья.
- C. Точка (1 , 2) показывает, что для 2 партий печенья требуется 1 чашек муки.
- D. Точка (1 , 0.5) показывает, что из 0.5 стаканов муки будет 1 партия печенья.

1.           C          

2.           B,C          

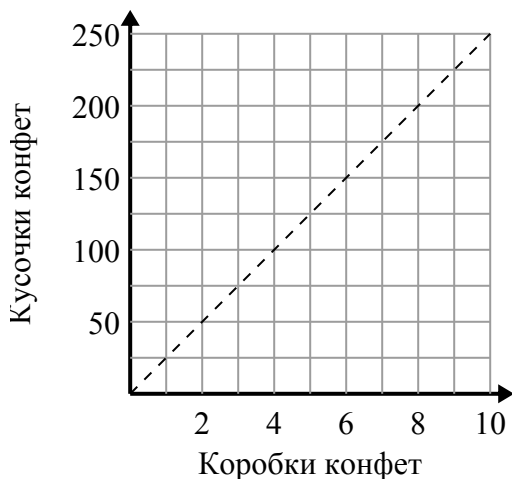
3.           C,D          

2)



- A. Точка (2 , 0.5) означает, что на \$ 2 вы купите 0.5 фунтов мяса.
- B. Точка (1.75 , 7) показывает, что покупка 1.75 фунтов мяса будет стоить 7 долларов.
- C. Точка (0.75 , 3) означает, что на \$ 3 вы купите 0.75 фунтов мяса.
- D. Точка (6 , 1.5) означает, что на \$ 6 вы купите 1.5 фунтов мяса.

3)



- A. Точка (200 , 8) показывает, что вы получаете 200 конфет в коробках 8.
- B. Точка (50 , 2) показывает, что 2 коробки конфет содержат 50 конфет.
- C. Точка (1 , 25) показывает, что вы получаете 25 конфет в коробках 1.
- D. Точка (7 , 175) показывает, что вы получаете 175 конфет в коробках 7.