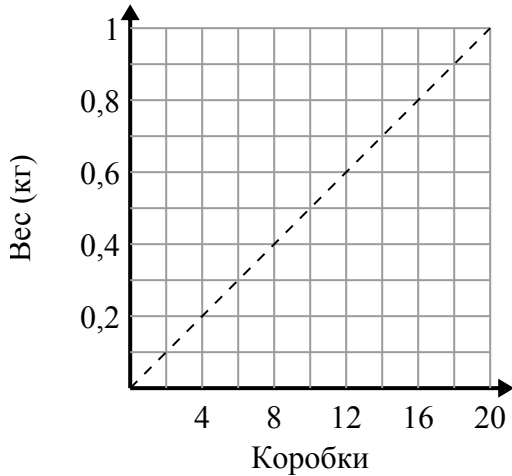




Определите, какие утверждения о графике верны.

Ответы

1)



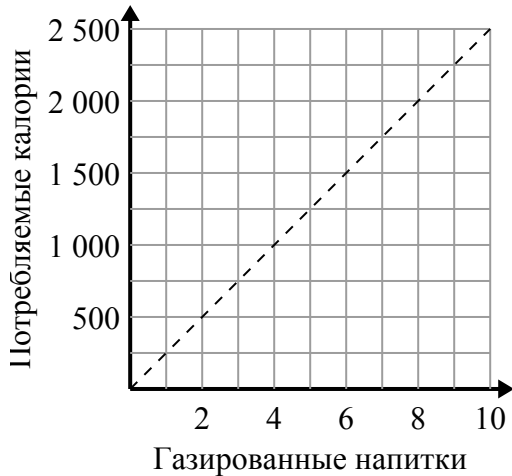
- A. Точка $(0.4, 8)$ показывает, что коробки 8 весят 0.4 килограмм.
- B. Точка $(0.6, 12)$ показывает, что 0.6 килограмм - это вес 12 коробок.
- C. Точка $(10, 0.5)$ показывает, что 0.5 килограмм - это вес 10 коробок.
- D. Точка $(6, 0.3)$ показывает, что 0.3 килограмм - это вес 6 коробок.

1. _____

2. _____

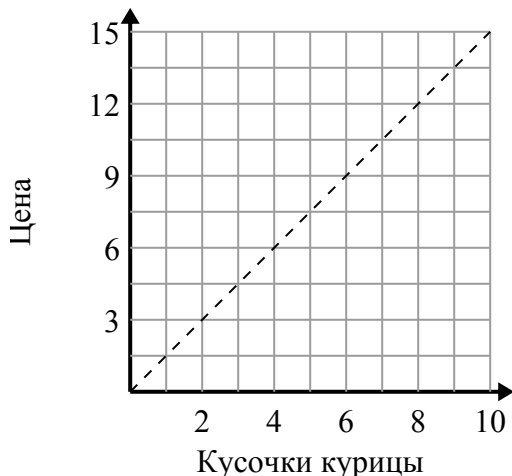
3. _____

2)



- A. Точка $(2, 500)$ показывает, что употребление газированных напитков 2 будет означать, что вы израсходовали 500 калорий.
- B. Точка $(8, 2000)$ показывает, что для потребления 2000 калорий вам необходимо выпить 8 газированных напитков.
- C. Точка $(750, 3)$ показывает, что для потребления 750 калорий вам необходимо выпить 3 газированных напитков.
- D. Точка $(500, 2)$ показывает, что употребление газированных напитков 2 будет означать, что вы израсходовали 500 калорий.

3)



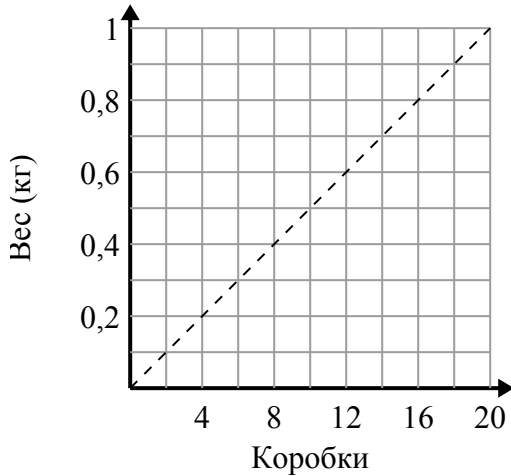
- A. Точка $(12, 8)$ показывает, что 8 кусочков курицы будут стоить 12 долларов.
- B. Точка $(4.5, 3)$ показывает, что 3 кусочков курицы будут стоить 4.5 долларов.
- C. Точка $(7, 10.5)$ показывает, что 7 кусочков курицы будут стоить 10.5 долларов.
- D. Точка $(1, 1.5)$ показывает, что 1 кусочков курицы будут стоить 1.5 долларов.



Определите, какие утверждения о графике верны.

Ответы

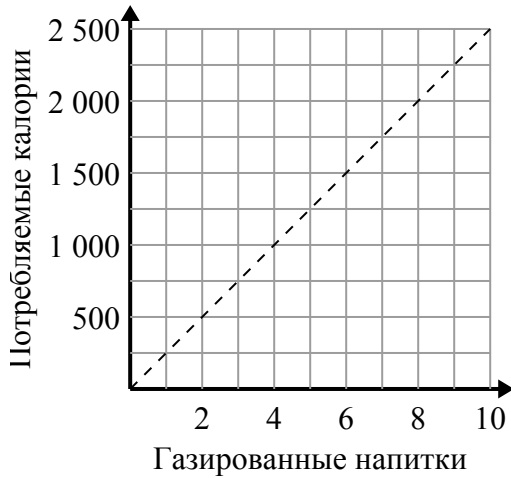
1)



- A. Точка $(0.4, 8)$ показывает, что коробки 8 весят 0.4 килограмм.
- B. Точка $(0.6, 12)$ показывает, что 0.6 килограмм - это вес 12 коробок.
- C. Точка $(10, 0.5)$ показывает, что 0.5 килограмм - это вес 10 коробок.
- D. Точка $(6, 0.3)$ показывает, что 0.3 килограмм - это вес 6 коробок.

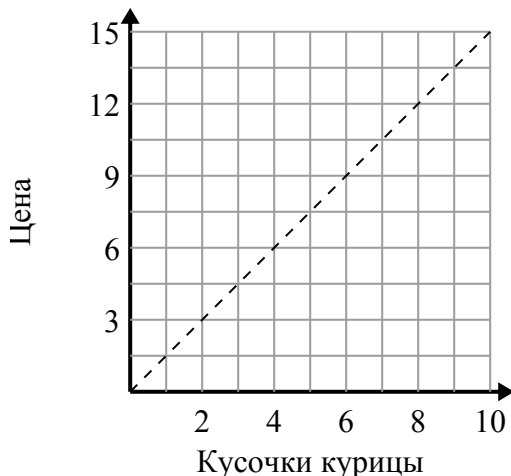
1. C,D2. A,B3. C,D

2)



- A. Точка $(2, 500)$ показывает, что употребление газированных напитков 2 будет означать, что вы израсходовали 500 калорий.
- B. Точка $(8, 2000)$ показывает, что для потребления 2000 калорий вам необходимо выпить 8 газированных напитков.
- C. Точка $(750, 3)$ показывает, что для потребления 750 калорий вам необходимо выпить 3 газированных напитков.
- D. Точка $(500, 2)$ показывает, что употребление газированных напитков 2 будет означать, что вы израсходовали 500 калорий.

3)



- A. Точка $(12, 8)$ показывает, что 8 кусочков курицы будут стоить 12 долларов.
- B. Точка $(4.5, 3)$ показывает, что 3 кусочков курицы будут стоить 4.5 долларов.
- C. Точка $(7, 10.5)$ показывает, что 7 кусочков курицы будут стоить 10.5 долларов.
- D. Точка $(1, 1.5)$ показывает, что 1 кусочков курицы будут стоить 1.5 долларов.