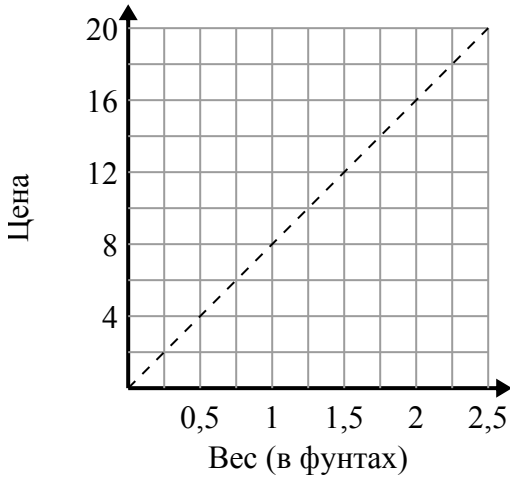




Определите, какие утверждения о графике верны.

Ответы

1)



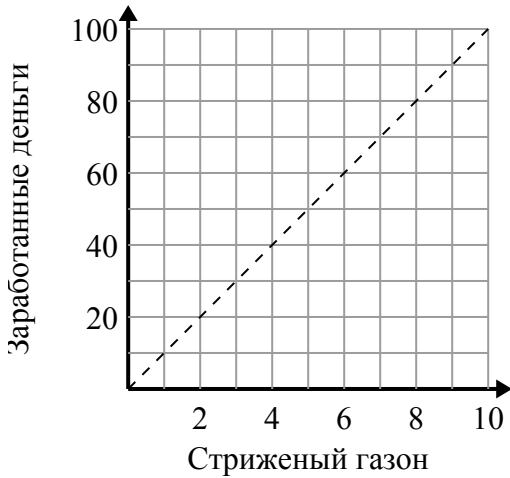
- A. Точка  $(0.5, 4)$  показывает, что 0.5 фунтов будет стоить 4 долл. США.
- B. Точка  $(6, 0.75)$  показывает, что это будет стоить 6 долларов за 0.75 фунтов.
- C. Точка  $(1, 8)$  показывает, что 1 фунтов будет стоить 8 долл. США.
- D. Точка  $(4, 0.5)$  показывает, что это будет стоить 4 долларов за 0.5 фунтов.

1. \_\_\_\_\_

2. \_\_\_\_\_

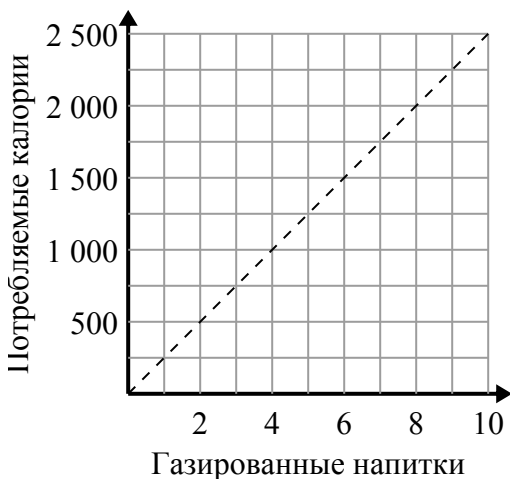
3. \_\_\_\_\_

2)



- A. Точка  $(5, 50)$  означает, что вы заработаете 50 долларов за стрижку 5 газонов.
- B. Точка  $(50, 5)$  означает, что за покос газонов 5 вы заработаете 50 долларов.
- C. Точка  $(10, 1)$  означает, что вы заработаете 10 долларов за стрижку 1 газонов.
- D. Точка  $(4, 40)$  означает, что за покос газонов 4 вы заработаете 40 долларов.

3)



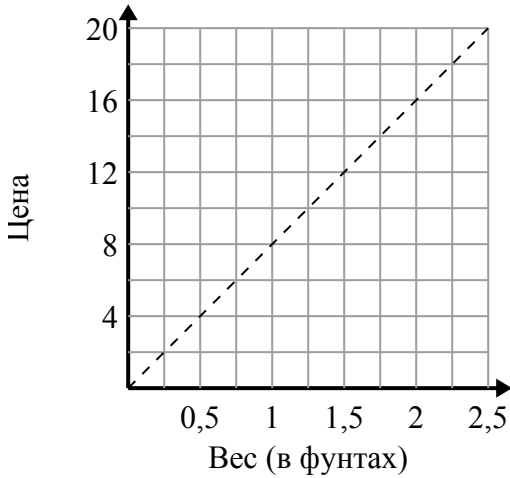
- A. Точка  $(1250, 5)$  показывает, что для потребления 1250 калорий вам необходимо выпить 5 газированных напитков.
- B. Точка  $(5, 1250)$  показывает, что употребление газированных напитков 5 будет означать, что вы израсходовали 1250 калорий.
- C. Точка  $(1000, 4)$  показывает, что употребление газированных напитков 4 будет означать, что вы израсходовали 1000 калорий.
- D. Точка  $(3, 750)$  показывает, что для потребления 750 калорий вам необходимо выпить 3 газированных напитков.



Определите, какие утверждения о графике верны.

ОТВЕТЫ

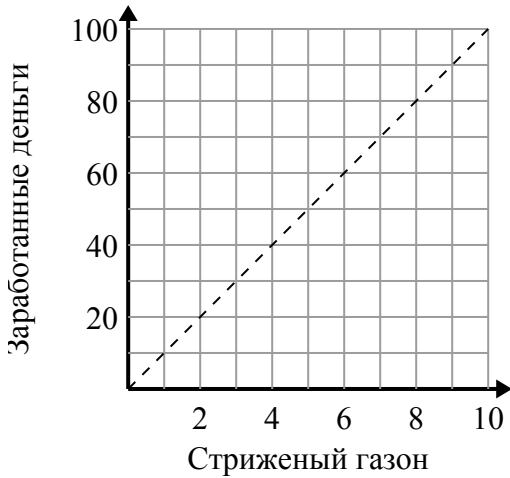
1)



- A. Точка  $(0.5, 4)$  показывает, что 0.5 фунтов будет стоить 4 долл. США.
- B. Точка  $(6, 0.75)$  показывает, что это будет стоить 6 долларов за 0.75 фунтов.
- C. Точка  $(1, 8)$  показывает, что 1 фунтов будет стоить 8 долл. США.
- D. Точка  $(4, 0.5)$  показывает, что это будет стоить 4 долларов за 0.5 фунтов.

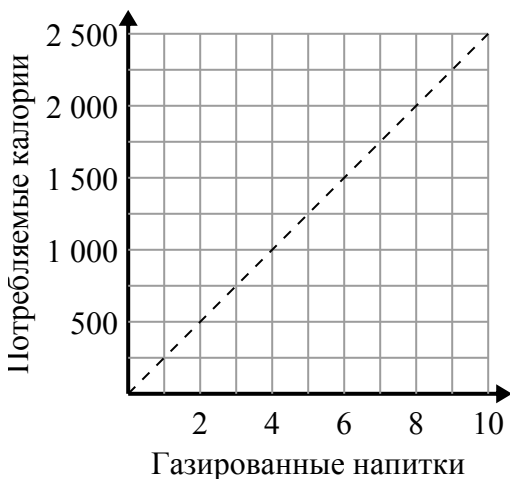
1.     **A,C**    2.     **A,D**    3.     **B,D**    

2)



- A. Точка  $(5, 50)$  означает, что вы заработаете 50 долларов за стрижку 5 газонов.
- B. Точка  $(50, 5)$  означает, что за покос газонов 5 вы заработаете 50 долларов.
- C. Точка  $(10, 1)$  означает, что вы заработаете 10 долларов за стрижку 1 газонов.
- D. Точка  $(4, 40)$  означает, что за покос газонов 4 вы заработаете 40 долларов.

3)



- A. Точка  $(1250, 5)$  показывает, что для потребления 1250 калорий вам необходимо выпить 5 газированных напитков.
- B. Точка  $(5, 1250)$  показывает, что употребление газированных напитков 5 будет означать, что вы израсходовали 1250 калорий.
- C. Точка  $(1000, 4)$  показывает, что употребление газированных напитков 4 будет означать, что вы израсходовали 1000 калорий.
- D. Точка  $(3, 750)$  показывает, что для потребления 750 калорий вам необходимо выпить 3 газированных напитков.