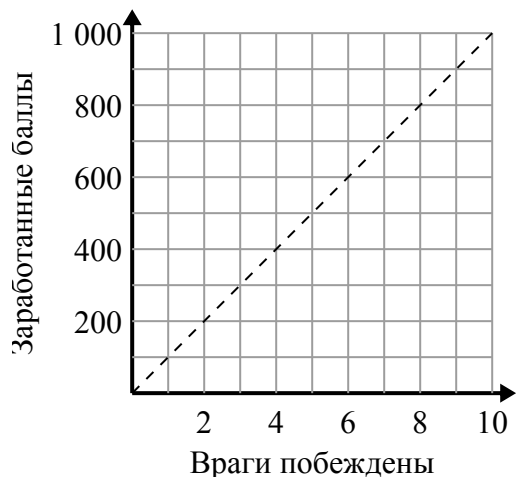




Определите, какие утверждения о графике верны.

Ответы

1)



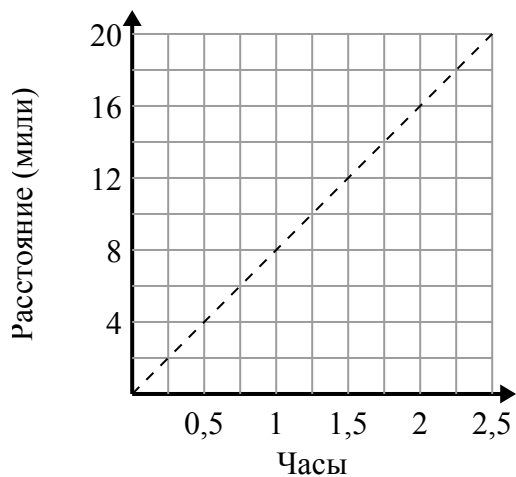
- A. Точка (700 , 7) показывает, что победа над 7 противниками принесет вам 700 очков.
- B. Точка (200 , 2) показывает, что победа над 2 противниками принесет вам 200 очков.
- C. Точка (2 , 200) показывает, что победа над 2 противниками принесет вам 200 очков.
- D. Точка (5 , 500) показывает, что вы заработаете 500 очков за победу над 5 врагами.

1. _____

2. _____

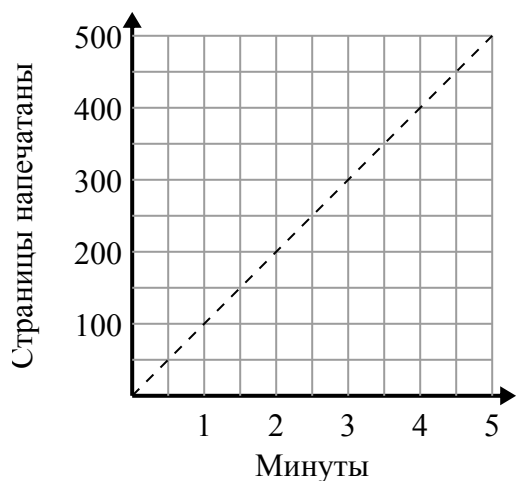
3. _____

2)



- A. Точка (1.75 , 14) показывает, что путешествие 14 миль займет 1.75 часов.
- B. Точка (8 , 1) показывает, что путь 8 миль занимает 1 час.
- C. Точка (0.5 , 4) показывает, что путь 4 миль занимает 0.5 часов.
- D. Точка (14 , 1.75) показывает, что путешествие 14 миль займет 1.75 часов.

3)

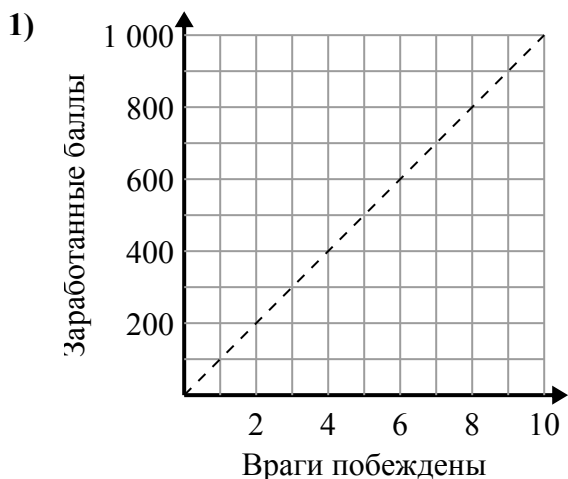


- A. Точка (1.5 , 150) показывает, что для печати 150 страниц требуется 1.5 минут.
- B. Точка (200 , 2) показывает, что печать страниц 200 займет 2 минут.
- C. Точка (2.5 , 250) показывает, что для печати 250 страниц требуется 2.5 минут.
- D. Точка (3.5 , 350) показывает, что для печати 350 страниц требуется 3.5 минут.



Определите, какие утверждения о графике верны.

Ответы

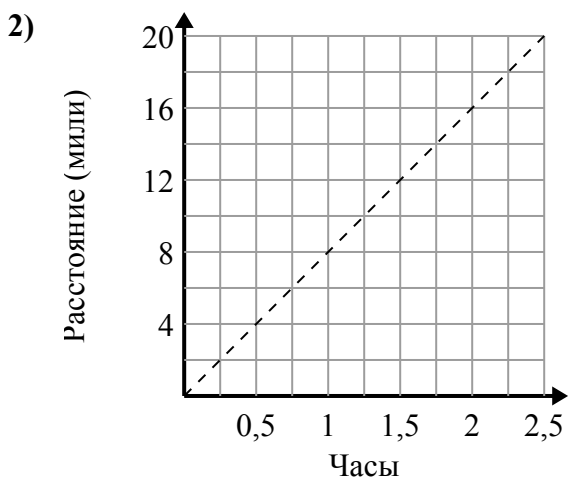


- A. Точка (700 , 7) показывает, что победа над 7 противниками принесет вам 700 очков.
- B. Точка (200 , 2) показывает, что победа над 2 противниками принесет вам 200 очков.
- C. Точка (2 , 200) показывает, что победа над 2 противниками принесет вам 200 очков.
- D. Точка (5 , 500) показывает, что вы заработаете 500 очков за победу над 5 врагами.

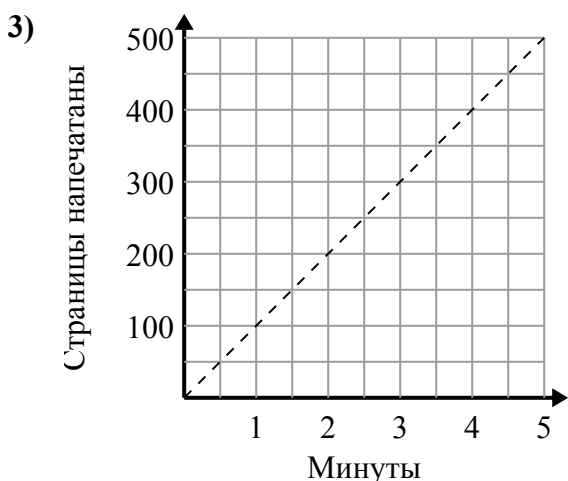
1. C,D

2. A,C

3. A,C,D



- A. Точка (1.75 , 14) показывает, что путешествие 14 миль займет 1.75 часов.
- B. Точка (8 , 1) показывает, что путь 8 миль занимает 1 час.
- C. Точка (0.5 , 4) показывает, что путь 4 миль занимает 0.5 часов.
- D. Точка (14 , 1.75) показывает, что путешествие 14 миль займет 1.75 часов.



- A. Точка (1.5 , 150) показывает, что для печати 150 страниц требуется 1.5 минут.
- B. Точка (200 , 2) показывает, что печать страниц 200 займет 2 минут.
- C. Точка (2.5 , 250) показывает, что для печати 250 страниц требуется 2.5 минут.
- D. Точка (3.5 , 350) показывает, что для печати 350 страниц требуется 3.5 минут.