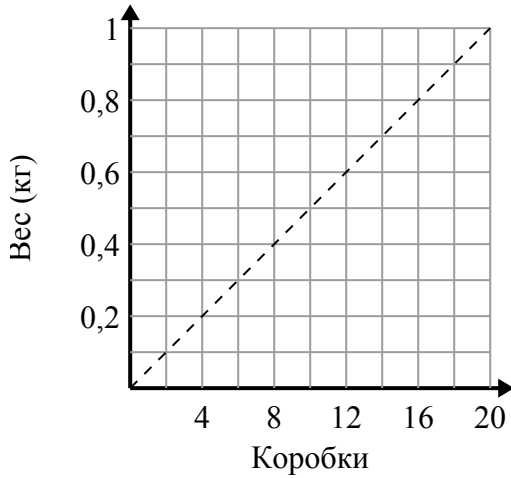




Определите, какие утверждения о графике верны.

Ответы

1)



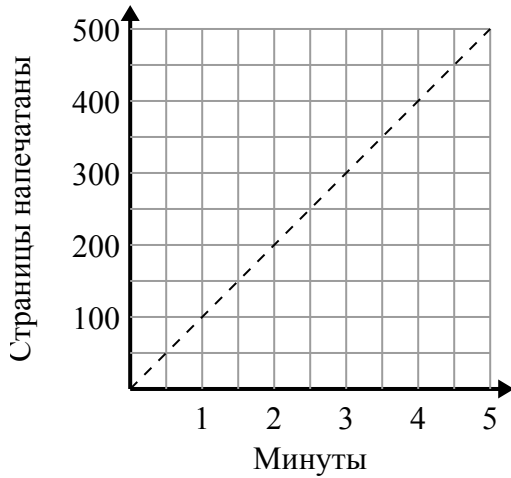
- A. Точка (0.9 , 18) показывает, что коробки 18 весят 0.9 килограмм.
- B. Точка (8 , 0.4) показывает, что коробки 8 весят 0.4 килограмм.
- C. Точка (0.3 , 6) показывает, что 0.3 килограмм - это вес 6 коробок.
- D. Точка (0.6 , 12) показывает, что коробки 12 весят 0.6 килограмм.

1. _____

2. _____

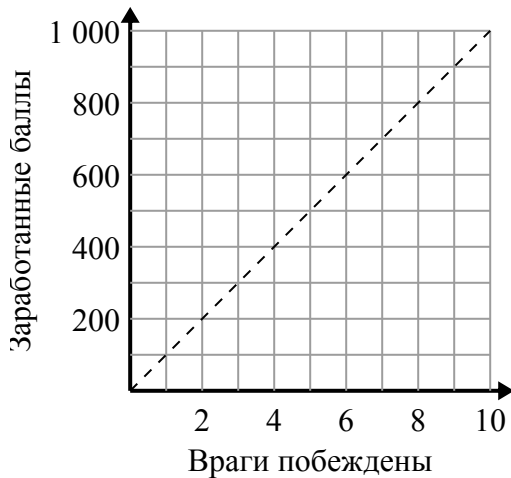
3. _____

2)



- A. Точка (4.5 , 450) показывает, что для печати 450 страниц требуется 4.5 минут.
- B. Точка (100 , 1) показывает, что печать страниц 100 займет 1 минут.
- C. Точка (4 , 400) показывает, что для печати 400 страниц требуется 4 минут.
- D. Точка (350 , 3.5) показывает, что для печати 350 страниц требуется 3.5 минут.

3)



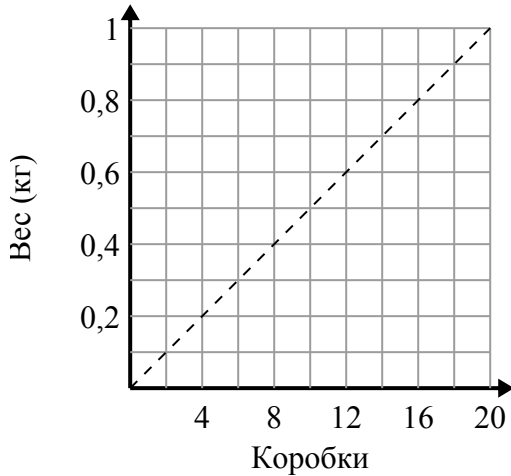
- A. Точка (9 , 900) показывает, что вы заработаете 900 очков за победу над 9 врагами.
- B. Точка (6 , 600) показывает, что вы заработаете 600 очков за победу над 6 врагами.
- C. Точка (300 , 3) показывает, что вы заработаете 300 очков за победу над 3 врагами.
- D. Точка (4 , 400) показывает, что вы заработаете 400 очков за победу над 4 врагами.



Определите, какие утверждения о графике верны.

Ответы

1)



A. Точка (0.9 , 18) показывает, что коробки 18 весят 0.9 килограмм.

B. Точка (8 , 0.4) показывает, что коробки 8 весят 0.4 килограмм.

C. Точка (0.3 , 6) показывает, что 0.3 килограмм - это вес 6 коробок.

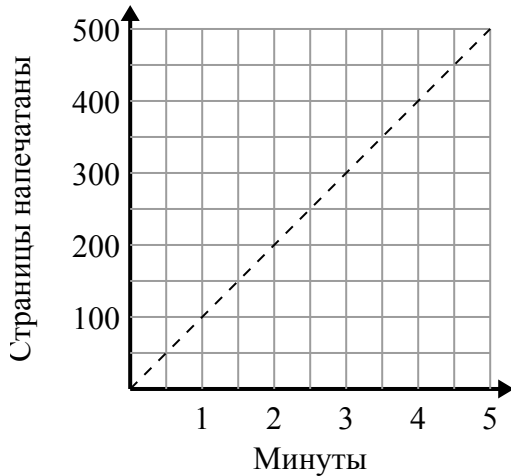
D. Точка (0.6 , 12) показывает, что коробки 12 весят 0.6 килограмм.

1. **B**

2. **A,C**

3. **A,B,D**

2)



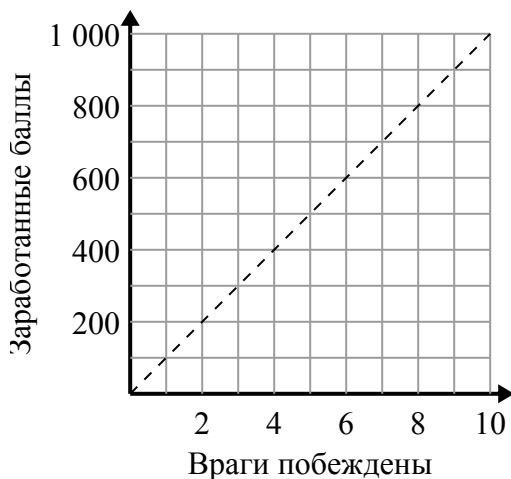
A. Точка (4.5 , 450) показывает, что для печати 450 страниц требуется 4.5 минут.

B. Точка (100 , 1) показывает, что печать страниц 100 займет 1 минут.

C. Точка (4 , 400) показывает, что для печати 400 страниц требуется 4 минут.

D. Точка (350 , 3.5) показывает, что для печати 350 страниц требуется 3.5 минут.

3)



A. Точка (9 , 900) показывает, что вы заработаете 900 очков за победу над 9 врагами.

B. Точка (6 , 600) показывает, что вы заработаете 600 очков за победу над 6 врагами.

C. Точка (300 , 3) показывает, что вы заработаете 300 очков за победу над 3 врагами.

D. Точка (4 , 400) показывает, что вы заработаете 400 очков за победу над 4 врагами.