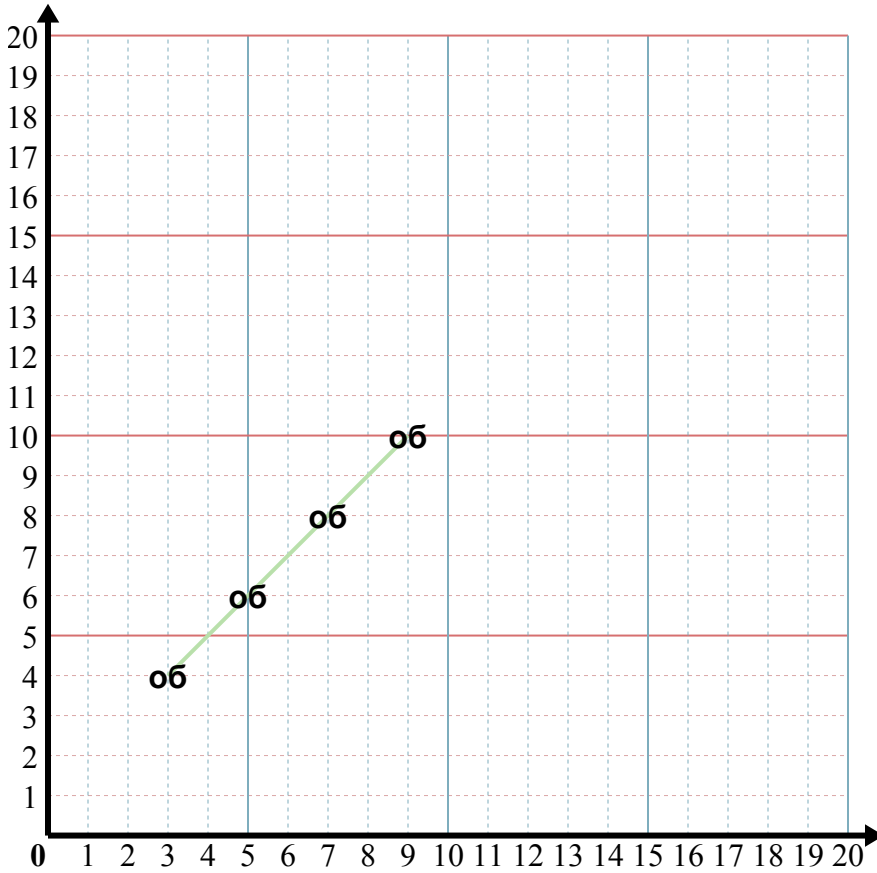




Определите части и обозначьте их на графике.



**Отвeты**

об. ( 9 10 )

1. \_\_\_\_\_

2. \_\_\_\_\_

3. \_\_\_\_\_

4. \_\_\_\_\_

5. \_\_\_\_\_

об) X: Начните с 3 и прибавьте 2.  
 Y: Начните с 4 и прибавьте 2.  
 x: 3 5 7 9  
 y: 4 6 8 10

1) X: Начните с 7 и прибавьте 2.  
 Y: Начните с 19 и отнимите 3.  
 x: \_\_\_\_\_  
 y: \_\_\_\_\_

2) X: Начните с 8 и прибавьте 1.  
 Y: Начните с 7 и отнимите 2.  
 x: \_\_\_\_\_  
 y: \_\_\_\_\_

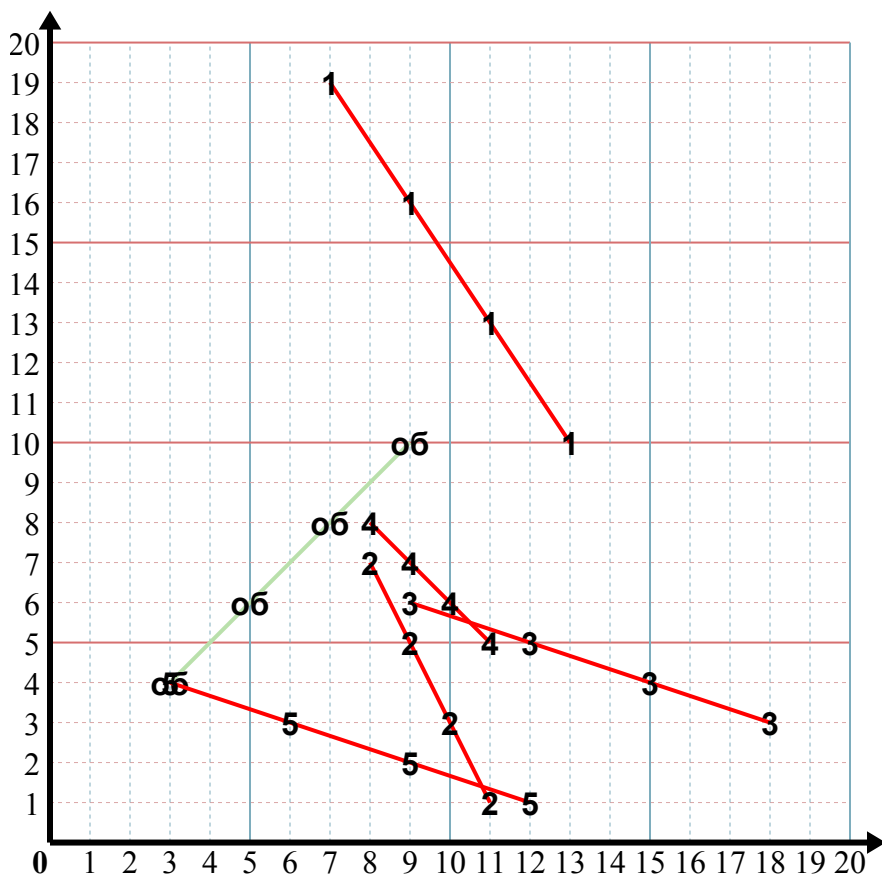
3) X: Начните с 9 и прибавьте 3.  
 Y: Начните с 6 и отнимите 1.  
 x: \_\_\_\_\_  
 y: \_\_\_\_\_

4) X: Начните с 8 и прибавьте 1.  
 Y: Начните с 8 и отнимите 1.  
 x: \_\_\_\_\_  
 y: \_\_\_\_\_

5) X: Начните с 12 и отнимите 3.  
 Y: Начните с 1 и прибавьте 1.  
 x: \_\_\_\_\_  
 y: \_\_\_\_\_



Определите части и обозначьте их на графике.



об) X: Начните с 3 и прибавьте 2.

Y: Начните с 4 и прибавьте 2.

x: 3 5 7 9

y: 4 6 8 10

1) X: Начните с 7 и прибавьте 2.

Y: Начните с 19 и отнимите 3.

x: 7 9 11 13

y: 19 16 13 10

2) X: Начните с 8 и прибавьте 1.

Y: Начните с 7 и отнимите 2.

x: 8 9 10 11

y: 7 5 3 1

3) X: Начните с 9 и прибавьте 3.

Y: Начните с 6 и отнимите 1.

x: 9 12 15 18

y: 6 5 4 3

4) X: Начните с 8 и прибавьте 1.

Y: Начните с 8 и отнимите 1.

x: 8 9 10 11

y: 8 7 6 5

5) X: Начните с 12 и отнимите 3.

Y: Начните с 1 и прибавьте 1.

x: 12 9 6 3

y: 1 2 3 4

## Отвѣты

об. (9 10)

1. (13 10)

2. (11 1)

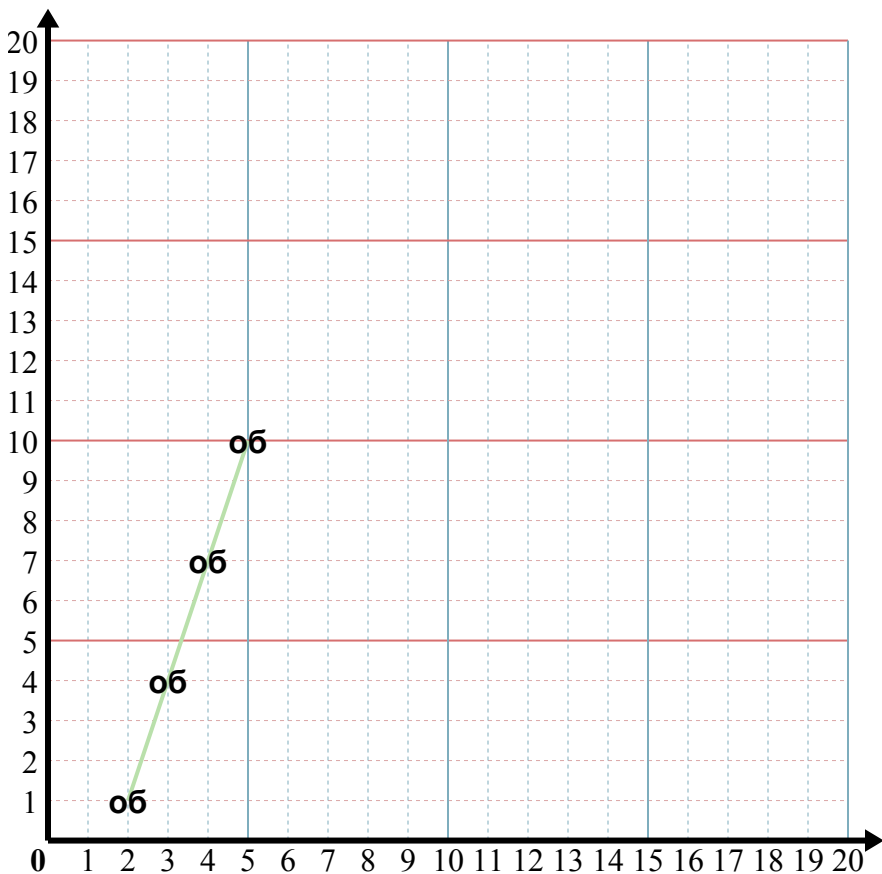
3. (18 3)

4. (11 5)

5. (3 4)



Определите части и обозначьте их на графике.



**Отвeты**

- об. ( 5 10 )
1. \_\_\_\_\_
2. \_\_\_\_\_
3. \_\_\_\_\_
4. \_\_\_\_\_
5. \_\_\_\_\_

об) X: Начните с 2 и прибавьте 1.  
 Y: Начните с 1 и прибавьте 3.  
 x:   2     3     4     5    
 y:   1     4     7    10  

1) X: Начните с 6 и прибавьте 1.  
 Y: Начните с 13 и отнимите 1.  
 x: \_\_\_\_\_  
 y: \_\_\_\_\_

2) X: Начните с 4 и прибавьте 1.  
 Y: Начните с 11 и отнимите 1.  
 x: \_\_\_\_\_  
 y: \_\_\_\_\_

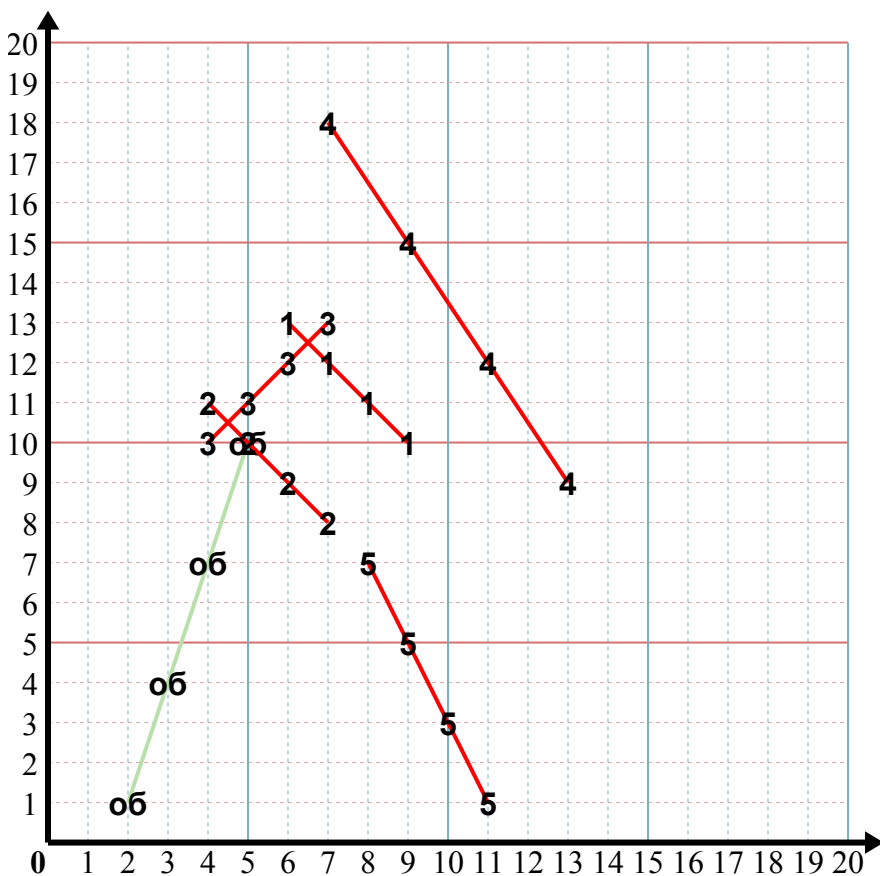
3) X: Начните с 4 и прибавьте 1.  
 Y: Начните с 10 и прибавьте 1.  
 x: \_\_\_\_\_  
 y: \_\_\_\_\_

4) X: Начните с 13 и отнимите 2.  
 Y: Начните с 9 и прибавьте 3.  
 x: \_\_\_\_\_  
 y: \_\_\_\_\_

5) X: Начните с 11 и отнимите 1.  
 Y: Начните с 1 и прибавьте 2.  
 x: \_\_\_\_\_  
 y: \_\_\_\_\_



Определите части и обозначьте их на графике.



об) X: Начните с 2 и прибавьте 1.  
Y: Начните с 1 и прибавьте 3.

x: 2 3 4 5  
y: 1 4 7 10

1) X: Начните с 6 и прибавьте 1.  
Y: Начните с 13 и отнимите 1.

x: 6 7 8 9  
y: 13 12 11 10

2) X: Начните с 4 и прибавьте 1.  
Y: Начните с 11 и отнимите 1.

x: 4 5 6 7  
y: 11 10 9 8

3) X: Начните с 4 и прибавьте 1.  
Y: Начните с 10 и прибавьте 1.

x: 4 5 6 7  
y: 10 11 12 13

4) X: Начните с 13 и отнимите 2.  
Y: Начните с 9 и прибавьте 3.

x: 13 11 9 7  
y: 9 12 15 18

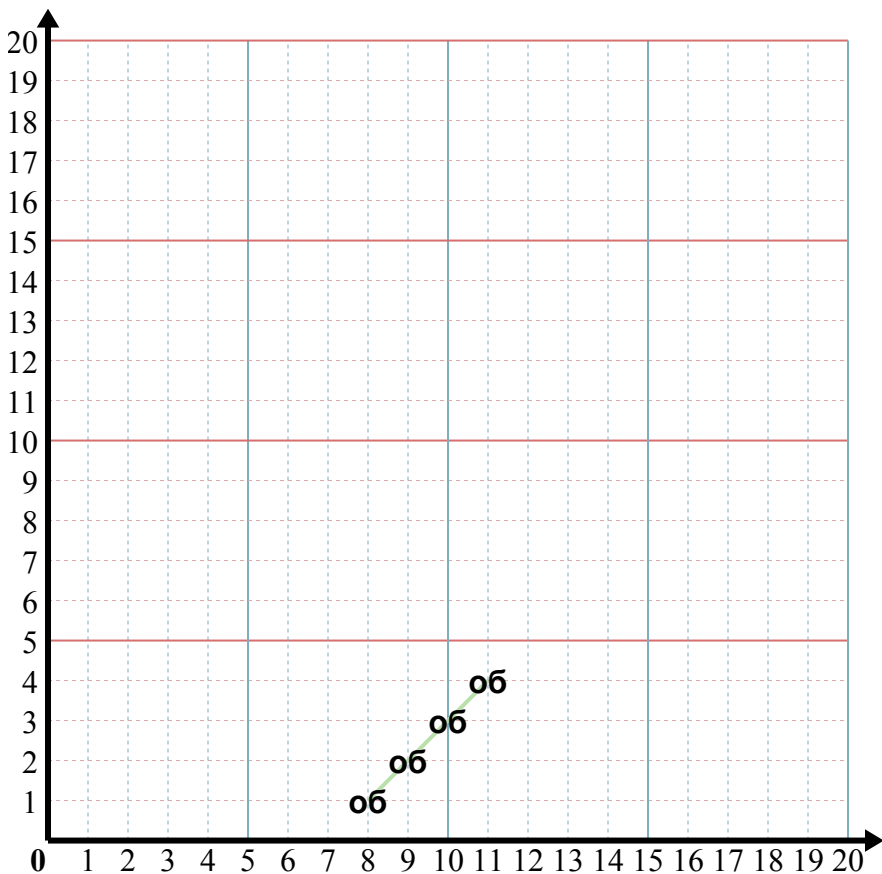
5) X: Начните с 11 и отнимите 1.  
Y: Начните с 1 и прибавьте 2.

x: 11 10 9 8  
y: 1 3 5 7

**ОТВЕТЫ**об. (5 10)1. (9 10)2. (7 8)3. (7 13)4. (7 18)5. (8 7)



Определите части и обозначьте их на графике.



**Отвѣты**

- об. **(81)**
1. \_\_\_\_\_
2. \_\_\_\_\_
3. \_\_\_\_\_
4. \_\_\_\_\_
5. \_\_\_\_\_

об) X: Начните с 11 и отнимите 1.  
 Y: Начните с 4 и отнимите 1.  
 x: 11 10 9 8  
 y: 4 3 2 1

1) X: Начните с 3 и прибавьте 3.  
 Y: Начните с 12 и отнимите 3.  
 x: \_\_\_\_\_  
 y: \_\_\_\_\_

2) X: Начните с 13 и отнимите 3.  
 Y: Начните с 4 и прибавьте 2.  
 x: \_\_\_\_\_  
 y: \_\_\_\_\_

3) X: Начните с 3 и прибавьте 2.  
 Y: Начните с 9 и прибавьте 2.  
 x: \_\_\_\_\_  
 y: \_\_\_\_\_

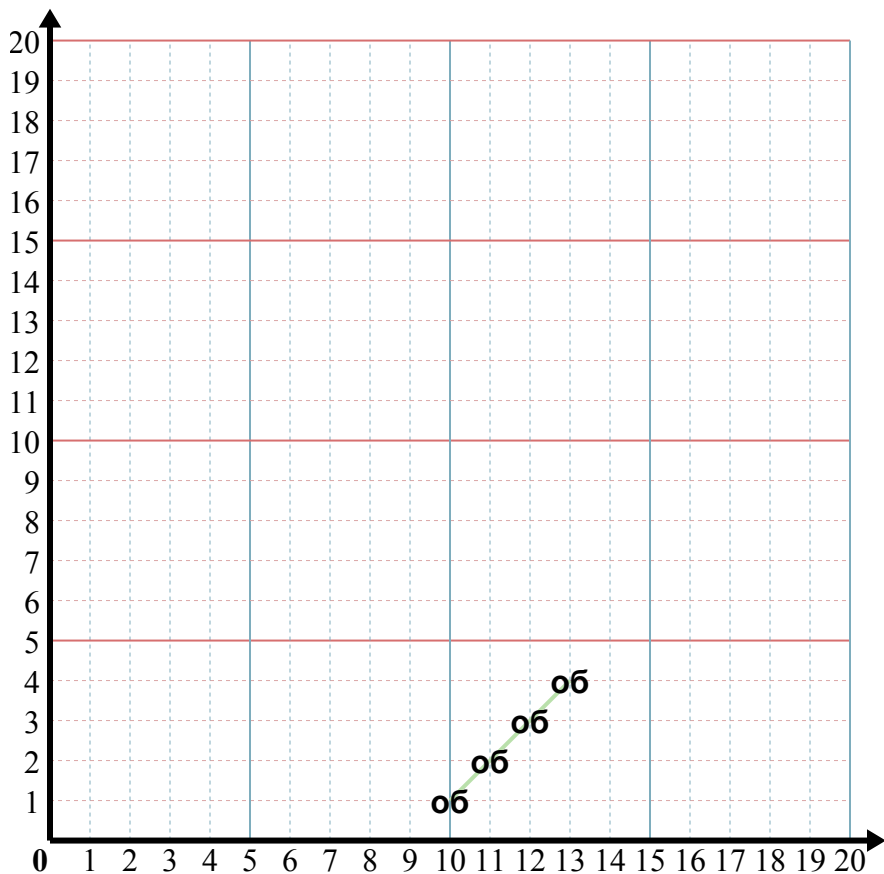
4) X: Начните с 12 и отнимите 1.  
 Y: Начните с 8 и прибавьте 3.  
 x: \_\_\_\_\_  
 y: \_\_\_\_\_

5) X: Начните с 12 и отнимите 2.  
 Y: Начните с 13 и отнимите 2.  
 x: \_\_\_\_\_  
 y: \_\_\_\_\_





Определите части и обозначьте их на графике.



**Ответы**

- об. ( 10 1 )
1. \_\_\_\_\_
2. \_\_\_\_\_
3. \_\_\_\_\_
4. \_\_\_\_\_
5. \_\_\_\_\_

**об)** X: Начните с 13 и отнимите 1.  
 Y: Начните с 4 и отнимите 1.  
 x: 13 12 11 10  
 y: 4 3 2 1

**1)** X: Начните с 7 и прибавьте 2.  
 Y: Начните с 19 и отнимите 3.  
 x: \_\_\_\_\_  
 y: \_\_\_\_\_

**2)** X: Начните с 5 и прибавьте 1.  
 Y: Начните с 1 и прибавьте 2.  
 x: \_\_\_\_\_  
 y: \_\_\_\_\_

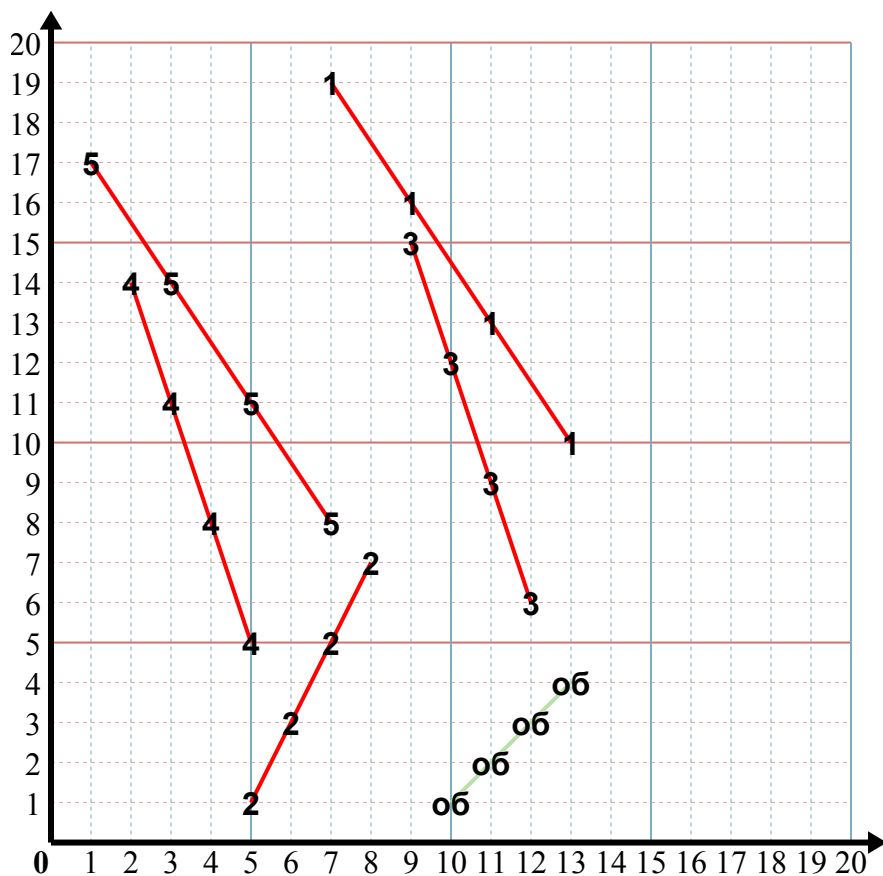
**3)** X: Начните с 12 и отнимите 1.  
 Y: Начните с 6 и прибавьте 3.  
 x: \_\_\_\_\_  
 y: \_\_\_\_\_

**4)** X: Начните с 5 и отнимите 1.  
 Y: Начните с 5 и прибавьте 3.  
 x: \_\_\_\_\_  
 y: \_\_\_\_\_

**5)** X: Начните с 7 и отнимите 2.  
 Y: Начните с 8 и прибавьте 3.  
 x: \_\_\_\_\_  
 y: \_\_\_\_\_



Определите части и обозначьте их на графике.



**ОТВЕТЫ**

- об. ( 10 1 )
- 1. ( 13 10 )
- 2. ( 8 7 )
- 3. ( 9 15 )
- 4. ( 2 14 )
- 5. ( 1 17 )

об) X: Начните с 13 и отнимите 1.  
 Y: Начните с 4 и отнимите 1.  
 x: 13 12 11 10  
 y: 4 3 2 1

1) X: Начните с 7 и прибавьте 2.  
 Y: Начните с 19 и отнимите 3.  
 x: 7 9 11 13  
 y: 19 16 13 10

2) X: Начните с 5 и прибавьте 1.  
 Y: Начните с 1 и прибавьте 2.  
 x: 5 6 7 8  
 y: 1 3 5 7

3) X: Начните с 12 и отнимите 1.  
 Y: Начните с 6 и прибавьте 3.  
 x: 12 11 10 9  
 y: 6 9 12 15

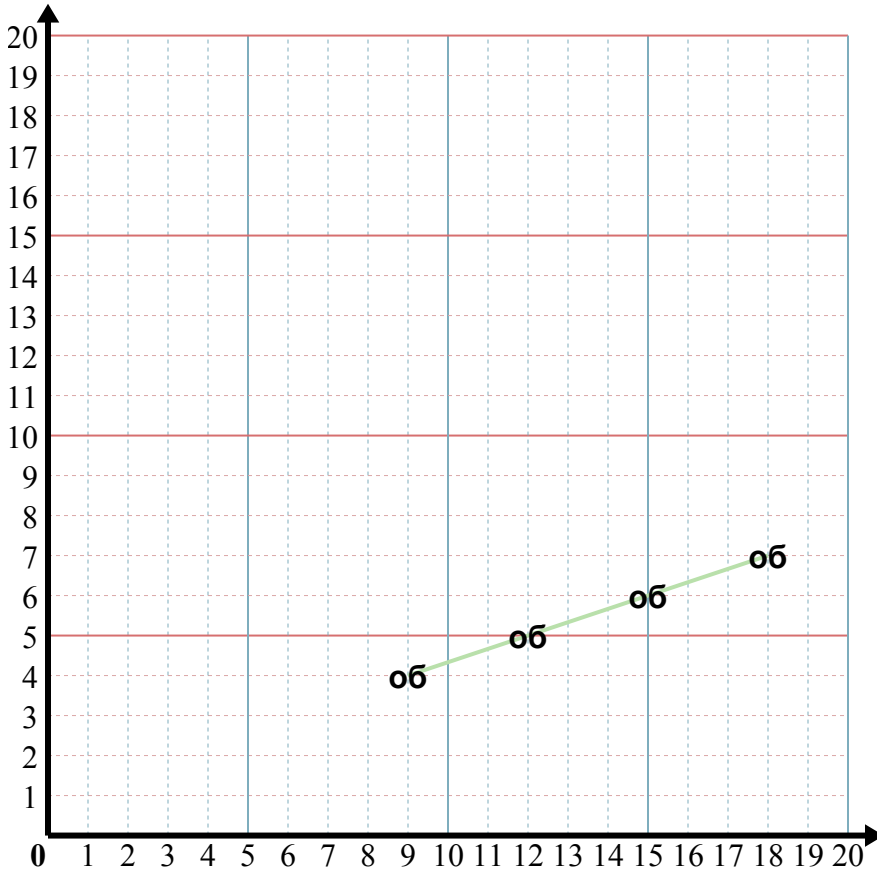
4) X: Начните с 5 и отнимите 1.  
 Y: Начните с 5 и прибавьте 3.  
 x: 5 4 3 2  
 y: 5 8 11 14

5) X: Начните с 7 и отнимите 2.  
 Y: Начните с 8 и прибавьте 3.  
 x: 7 5 3 1  
 y: 8 11 14 17





Определите части и обозначьте их на графике.



**Ответы**

об. (187)

1. \_\_\_\_\_

2. \_\_\_\_\_

3. \_\_\_\_\_

4. \_\_\_\_\_

5. \_\_\_\_\_

об) X: Начните с 9 и прибавьте 3.  
 Y: Начните с 4 и прибавьте 1.  
 x: 9 12 15 18  
 y: 4 5 6 7

1) X: Начните с 15 и отнимите 3.  
 Y: Начните с 10 и отнимите 3.  
 x: \_\_\_\_\_  
 y: \_\_\_\_\_

2) X: Начните с 2 и прибавьте 3.  
 Y: Начните с 14 и отнимите 2.  
 x: \_\_\_\_\_  
 y: \_\_\_\_\_

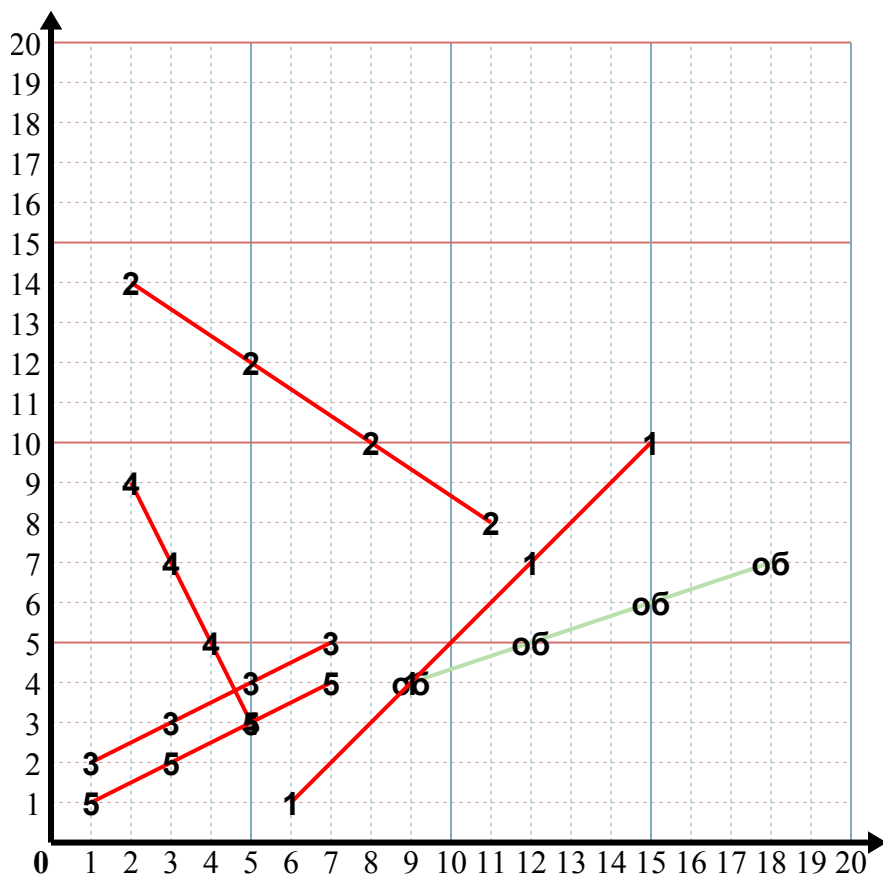
3) X: Начните с 1 и прибавьте 2.  
 Y: Начните с 2 и прибавьте 1.  
 x: \_\_\_\_\_  
 y: \_\_\_\_\_

4) X: Начните с 2 и прибавьте 1.  
 Y: Начните с 9 и отнимите 2.  
 x: \_\_\_\_\_  
 y: \_\_\_\_\_

5) X: Начните с 1 и прибавьте 2.  
 Y: Начните с 1 и прибавьте 1.  
 x: \_\_\_\_\_  
 y: \_\_\_\_\_



Определите части и обозначьте их на графике.



**Ответы**

об. (187)

1. (61)

2. (118)

3. (75)

4. (53)

5. (74)

об) X: Начните с 9 и прибавьте 3.  
 Y: Начните с 4 и прибавьте 1.  
 x:  $\frac{9}{4}$   $\frac{12}{5}$   $\frac{15}{6}$   $\frac{18}{7}$

1) X: Начните с 15 и отнимите 3.  
 Y: Начните с 10 и отнимите 3.  
 x:  $\frac{15}{10}$   $\frac{12}{7}$   $\frac{9}{4}$   $\frac{6}{1}$

2) X: Начните с 2 и прибавьте 3.  
 Y: Начните с 14 и отнимите 2.  
 x:  $\frac{2}{14}$   $\frac{5}{12}$   $\frac{8}{10}$   $\frac{11}{8}$

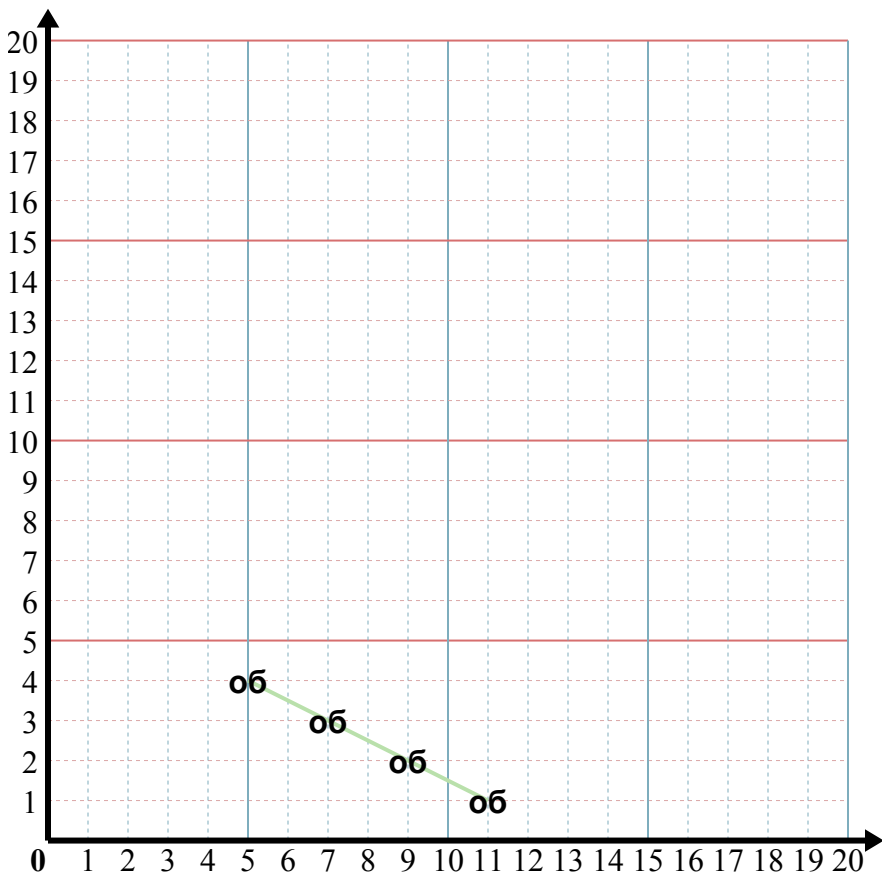
3) X: Начните с 1 и прибавьте 2.  
 Y: Начните с 2 и прибавьте 1.  
 x:  $\frac{1}{2}$   $\frac{3}{3}$   $\frac{5}{4}$   $\frac{7}{5}$

4) X: Начните с 2 и прибавьте 1.  
 Y: Начните с 9 и отнимите 2.  
 x:  $\frac{2}{9}$   $\frac{3}{7}$   $\frac{4}{5}$   $\frac{5}{3}$

5) X: Начните с 1 и прибавьте 2.  
 Y: Начните с 1 и прибавьте 1.  
 x:  $\frac{1}{1}$   $\frac{3}{2}$   $\frac{5}{3}$   $\frac{7}{4}$



Определите части и обозначьте их на графике.



**Отвѣты**

- об. **(54)**
1. \_\_\_\_\_
2. \_\_\_\_\_
3. \_\_\_\_\_
4. \_\_\_\_\_
5. \_\_\_\_\_

**об)** X: Начните с 11 и отнимите 2.  
 Y: Начните с 1 и прибавьте 1.  
 x: 11 9 7 5  
 y: 1 2 3 4

**1)** X: Начните с 9 и прибавьте 2.  
 Y: Начните с 1 и прибавьте 1.  
 x: \_\_\_\_\_  
 y: \_\_\_\_\_

**2)** X: Начните с 12 и отнимите 3.  
 Y: Начните с 11 и отнимите 2.  
 x: \_\_\_\_\_  
 y: \_\_\_\_\_

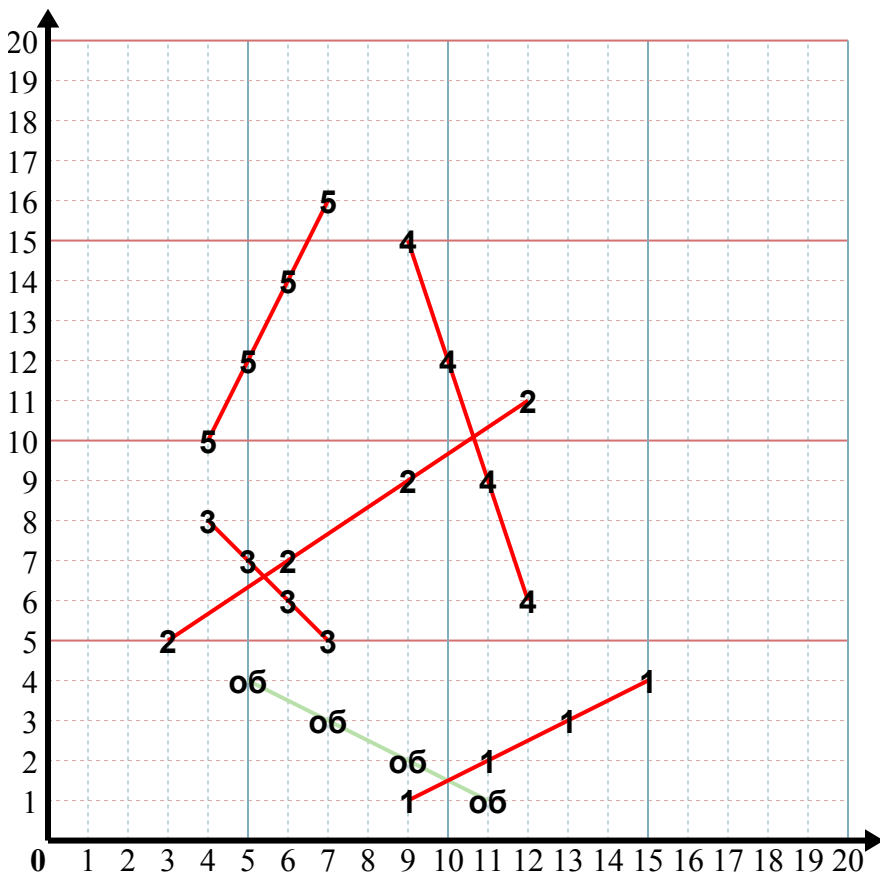
**3)** X: Начните с 4 и прибавьте 1.  
 Y: Начните с 8 и отнимите 1.  
 x: \_\_\_\_\_  
 y: \_\_\_\_\_

**4)** X: Начните с 9 и прибавьте 1.  
 Y: Начните с 15 и отнимите 3.  
 x: \_\_\_\_\_  
 y: \_\_\_\_\_

**5)** X: Начните с 4 и прибавьте 1.  
 Y: Начните с 10 и прибавьте 2.  
 x: \_\_\_\_\_  
 y: \_\_\_\_\_



Определите части и обозначьте их на графике.



**Ответы**

- об. ( 5 4 )
- 1. ( 15 4 )
- 2. ( 3 5 )
- 3. ( 7 5 )
- 4. ( 12 6 )
- 5. ( 7 16 )

об) X: Начните с 11 и отнимите 2.  
 Y: Начните с 1 и прибавьте 1.  
 x: 11 9 7 5  
 y: 1 2 3 4

1) X: Начните с 9 и прибавьте 2.  
 Y: Начните с 1 и прибавьте 1.  
 x: 9 11 13 15  
 y: 1 2 3 4

2) X: Начните с 12 и отнимите 3.  
 Y: Начните с 11 и отнимите 2.  
 x: 12 9 6 3  
 y: 11 9 7 5

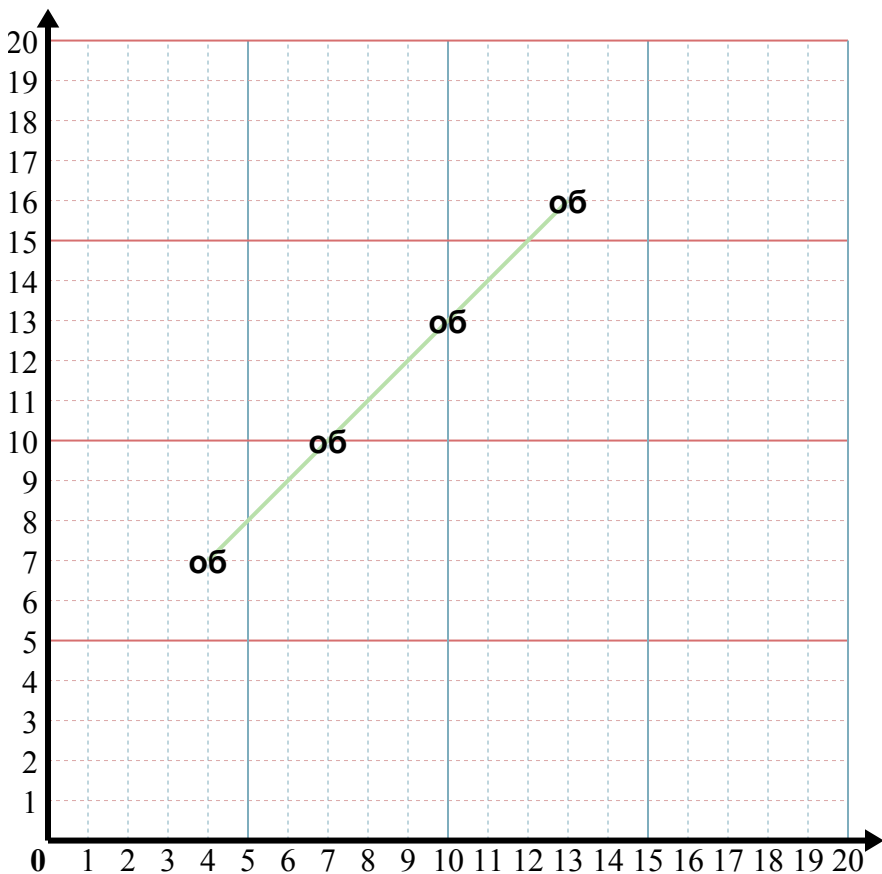
3) X: Начните с 4 и прибавьте 1.  
 Y: Начните с 8 и отнимите 1.  
 x: 4 5 6 7  
 y: 8 7 6 5

4) X: Начните с 9 и прибавьте 1.  
 Y: Начните с 15 и отнимите 3.  
 x: 9 10 11 12  
 y: 15 12 9 6

5) X: Начните с 4 и прибавьте 1.  
 Y: Начните с 10 и прибавьте 2.  
 x: 4 5 6 7  
 y: 10 12 14 16



Определите части и обозначьте их на графике.



**Отвeты**

- об. **(47)**
1. \_\_\_\_\_
2. \_\_\_\_\_
3. \_\_\_\_\_
4. \_\_\_\_\_
5. \_\_\_\_\_

**об)** X: Начните с 13 и отнимите 3.  
 Y: Начните с 16 и отнимите 3.  
 x: 13 10 7 4  
 y: 16 13 10 7

**1)** X: Начните с 16 и отнимите 2.  
 Y: Начните с 3 и прибавьте 2.  
 x: \_\_\_\_\_  
 y: \_\_\_\_\_

**2)** X: Начните с 7 и прибавьте 1.  
 Y: Начните с 4 и прибавьте 2.  
 x: \_\_\_\_\_  
 y: \_\_\_\_\_

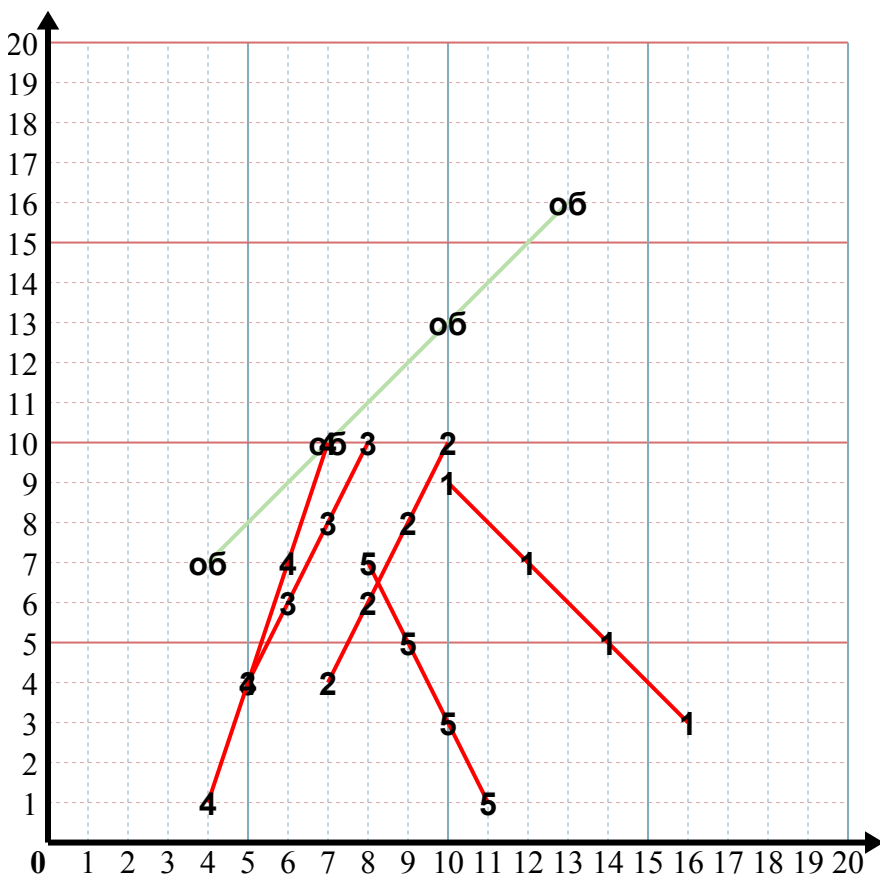
**3)** X: Начните с 8 и отнимите 1.  
 Y: Начните с 10 и отнимите 2.  
 x: \_\_\_\_\_  
 y: \_\_\_\_\_

**4)** X: Начните с 7 и отнимите 1.  
 Y: Начните с 10 и отнимите 3.  
 x: \_\_\_\_\_  
 y: \_\_\_\_\_

**5)** X: Начните с 8 и прибавьте 1.  
 Y: Начните с 7 и отнимите 2.  
 x: \_\_\_\_\_  
 y: \_\_\_\_\_



Определите части и обозначьте их на графике.

**Ответы**об. ( 4 7 )1. ( 10 9 )2. ( 10 10 )3. ( 5 4 )4. ( 4 1 )5. ( 11 1 )

об) X: Начните с 13 и отнимите 3.

Y: Начните с 16 и отнимите 3.

x:  $\frac{13}{16} \quad \frac{10}{13} \quad \frac{7}{10} \quad \frac{4}{7}$

y:  $\frac{16}{13} \quad \frac{13}{10} \quad \frac{10}{7} \quad \frac{7}{4}$

1) X: Начните с 16 и отнимите 2.

Y: Начните с 3 и прибавьте 2.

x:  $\frac{16}{3} \quad \frac{14}{5} \quad \frac{12}{7} \quad \frac{10}{9}$

y:  $\frac{3}{5} \quad \frac{5}{7} \quad \frac{7}{9} \quad \frac{9}{10}$

2) X: Начните с 7 и прибавьте 1.

Y: Начните с 4 и прибавьте 2.

x:  $\frac{7}{4} \quad \frac{8}{6} \quad \frac{9}{8} \quad \frac{10}{10}$

y:  $\frac{4}{6} \quad \frac{6}{8} \quad \frac{8}{10} \quad \frac{10}{10}$

3) X: Начните с 8 и отнимите 1.

Y: Начните с 10 и отнимите 2.

x:  $\frac{8}{10} \quad \frac{7}{8} \quad \frac{6}{6} \quad \frac{5}{4}$

y:  $\frac{10}{8} \quad \frac{8}{6} \quad \frac{6}{4} \quad \frac{4}{10}$

4) X: Начните с 7 и отнимите 1.

Y: Начните с 10 и отнимите 3.

x:  $\frac{7}{10} \quad \frac{6}{7} \quad \frac{5}{4} \quad \frac{4}{1}$

y:  $\frac{10}{7} \quad \frac{7}{4} \quad \frac{4}{1} \quad \frac{1}{10}$

5) X: Начните с 8 и прибавьте 1.

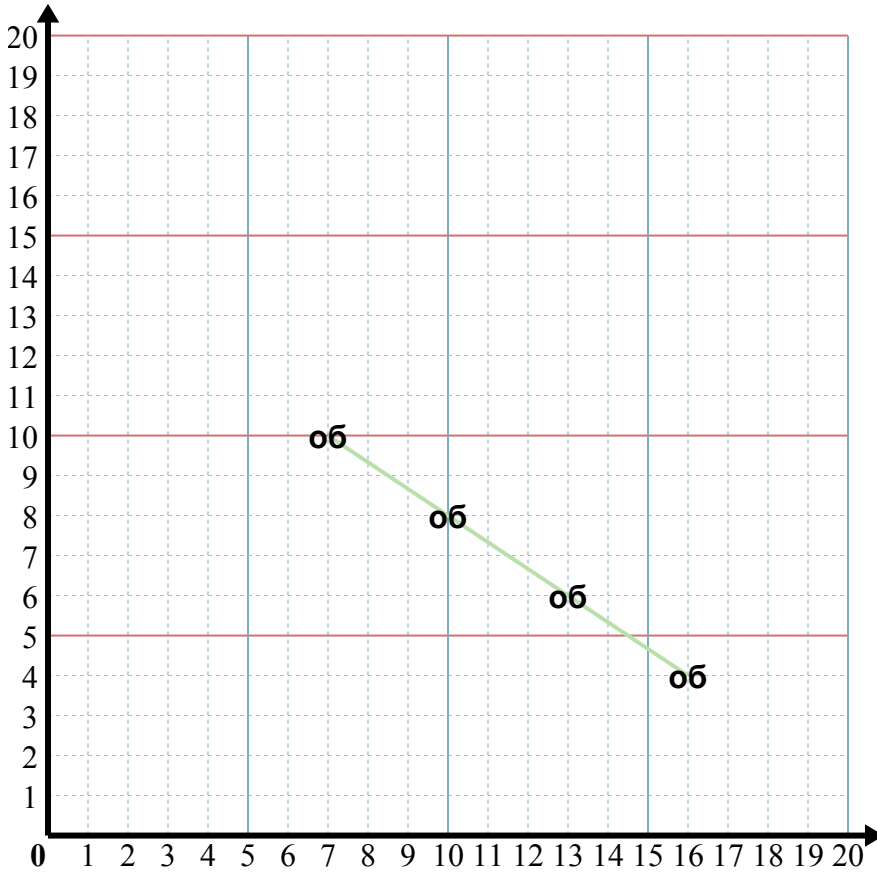
Y: Начните с 7 и отнимите 2.

x:  $\frac{8}{7} \quad \frac{9}{5} \quad \frac{10}{3} \quad \frac{11}{1}$

y:  $\frac{7}{5} \quad \frac{5}{3} \quad \frac{3}{1} \quad \frac{1}{8}$



Определите части и обозначьте их на графике.



**Отвeты**

об. ( 7 10 )

1. \_\_\_\_\_

2. \_\_\_\_\_

3. \_\_\_\_\_

4. \_\_\_\_\_

5. \_\_\_\_\_

об) X: Начните с 16 и отнимите 3.  
 Y: Начните с 4 и прибавьте 2.  
 x: 16 13 10 7  
 y: 4 6 8 10

1) X: Начните с 11 и отнимите 3.  
 Y: Начните с 15 и отнимите 2.  
 x: \_\_\_\_\_  
 y: \_\_\_\_\_

2) X: Начните с 16 и отнимите 3.  
 Y: Начните с 4 и прибавьте 2.  
 x: \_\_\_\_\_  
 y: \_\_\_\_\_

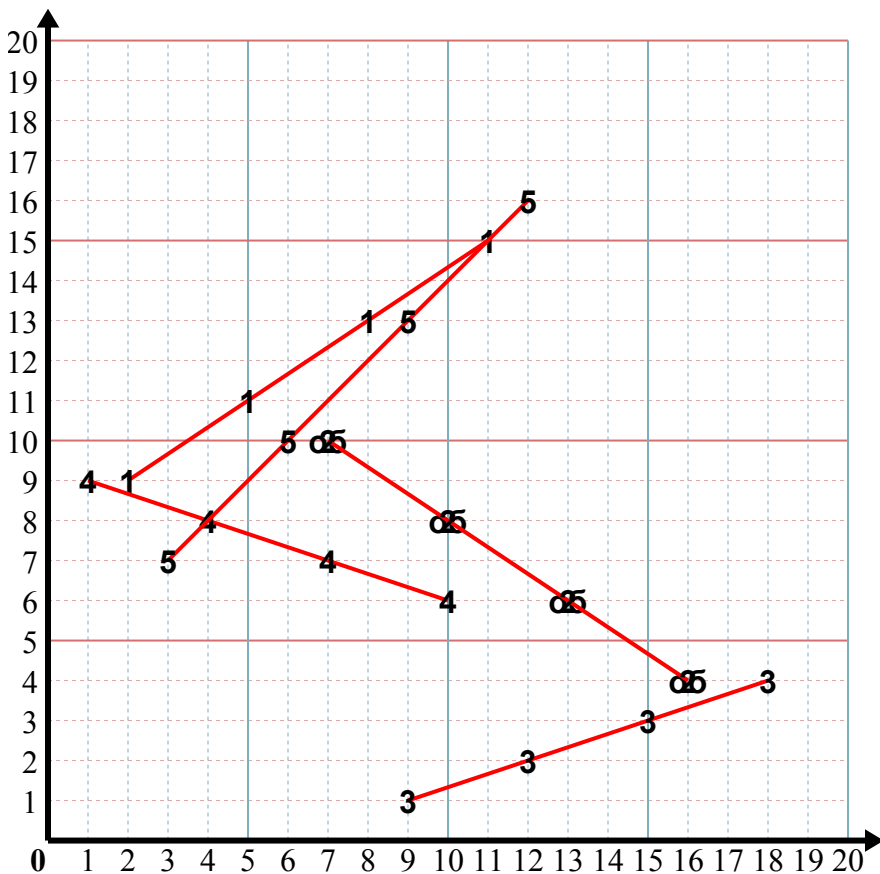
3) X: Начните с 9 и прибавьте 3.  
 Y: Начните с 1 и прибавьте 1.  
 x: \_\_\_\_\_  
 y: \_\_\_\_\_

4) X: Начните с 10 и отнимите 3.  
 Y: Начните с 6 и прибавьте 1.  
 x: \_\_\_\_\_  
 y: \_\_\_\_\_

5) X: Начните с 12 и отнимите 3.  
 Y: Начните с 16 и отнимите 3.  
 x: \_\_\_\_\_  
 y: \_\_\_\_\_



Определите части и обозначьте их на графике.



**Ответы**

- об. ( 7 10 )
- 1. ( 2 9 )
- 2. ( 7 10 )
- 3. ( 18 4 )
- 4. ( 1 9 )
- 5. ( 3 7 )

об) X: Начните с 16 и отнимите 3.

Y: Начните с 4 и прибавьте 2.

x:  $\frac{16}{4} \quad \frac{13}{6} \quad \frac{10}{8} \quad \frac{7}{10}$

y:  $\frac{4}{6} \quad \frac{6}{8} \quad \frac{8}{10}$

1) X: Начните с 11 и отнимите 3.

Y: Начните с 15 и отнимите 2.

x:  $\frac{11}{15} \quad \frac{8}{13} \quad \frac{5}{11} \quad \frac{2}{9}$

y:  $\frac{15}{13} \quad \frac{11}{9}$

2) X: Начните с 16 и отнимите 3.

Y: Начните с 4 и прибавьте 2.

x:  $\frac{16}{4} \quad \frac{13}{6} \quad \frac{10}{8} \quad \frac{7}{10}$

y:  $\frac{4}{6} \quad \frac{6}{8} \quad \frac{8}{10}$

3) X: Начните с 9 и прибавьте 3.

Y: Начните с 1 и прибавьте 1.

x:  $\frac{9}{1} \quad \frac{12}{2} \quad \frac{15}{3} \quad \frac{18}{4}$

y:  $\frac{1}{2} \quad \frac{2}{3} \quad \frac{3}{4}$

4) X: Начните с 10 и отнимите 3.

Y: Начните с 6 и прибавьте 1.

x:  $\frac{10}{6} \quad \frac{7}{7} \quad \frac{4}{8} \quad \frac{1}{9}$

y:  $\frac{6}{7} \quad \frac{7}{8} \quad \frac{8}{9}$

5) X: Начните с 12 и отнимите 3.

Y: Начните с 16 и отнимите 3.

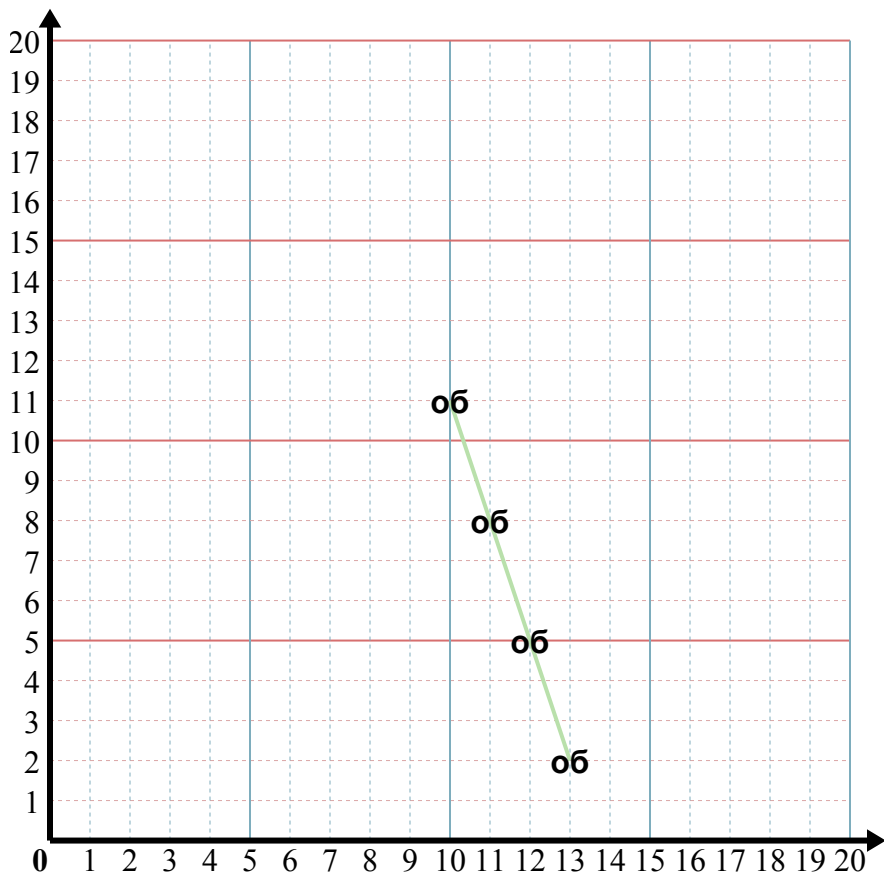
x:  $\frac{12}{16} \quad \frac{9}{13} \quad \frac{6}{10} \quad \frac{3}{7}$

y:  $\frac{16}{13} \quad \frac{10}{7}$





Определите части и обозначьте их на графике.



**Отвeты**

об. ( 10 11 )

1. \_\_\_\_\_

2. \_\_\_\_\_

3. \_\_\_\_\_

4. \_\_\_\_\_

5. \_\_\_\_\_

об) X: Начните с 13 и отнимите 1.  
 Y: Начните с 2 и прибавьте 3.  
 x: 13 12 11 10  
 y: 2 5 8 11

1) X: Начните с 3 и прибавьте 1.  
 Y: Начните с 15 и отнимите 3.  
 x: \_\_\_\_\_  
 y: \_\_\_\_\_

2) X: Начните с 4 и прибавьте 2.  
 Y: Начните с 9 и прибавьте 3.  
 x: \_\_\_\_\_  
 y: \_\_\_\_\_

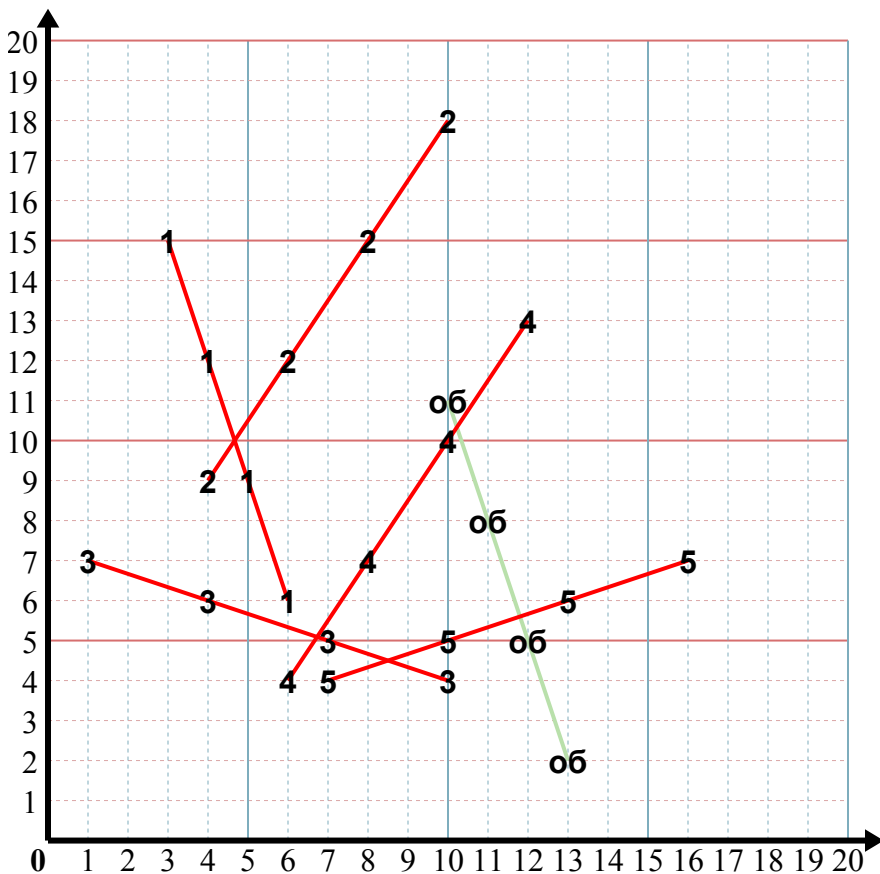
3) X: Начните с 10 и отнимите 3.  
 Y: Начните с 4 и прибавьте 1.  
 x: \_\_\_\_\_  
 y: \_\_\_\_\_

4) X: Начните с 12 и отнимите 2.  
 Y: Начните с 13 и отнимите 3.  
 x: \_\_\_\_\_  
 y: \_\_\_\_\_

5) X: Начните с 7 и прибавьте 3.  
 Y: Начните с 4 и прибавьте 1.  
 x: \_\_\_\_\_  
 y: \_\_\_\_\_



Определите части и обозначьте их на графике.



**Ответы**

об. ( 10 11 )

1. ( 6 6 )

2. ( 10 18 )

3. ( 1 7 )

4. ( 6 4 )

5. ( 16 7 )

об) X: Начните с 13 и отнимите 1.  
 Y: Начните с 2 и прибавьте 3.  
 x: 13 12 11 10  
 y: 2 5 8 11

1) X: Начните с 3 и прибавьте 1.  
 Y: Начните с 15 и отнимите 3.  
 x: 3 4 5 6  
 y: 15 12 9 6

2) X: Начните с 4 и прибавьте 2.  
 Y: Начните с 9 и прибавьте 3.  
 x: 4 6 8 10  
 y: 9 12 15 18

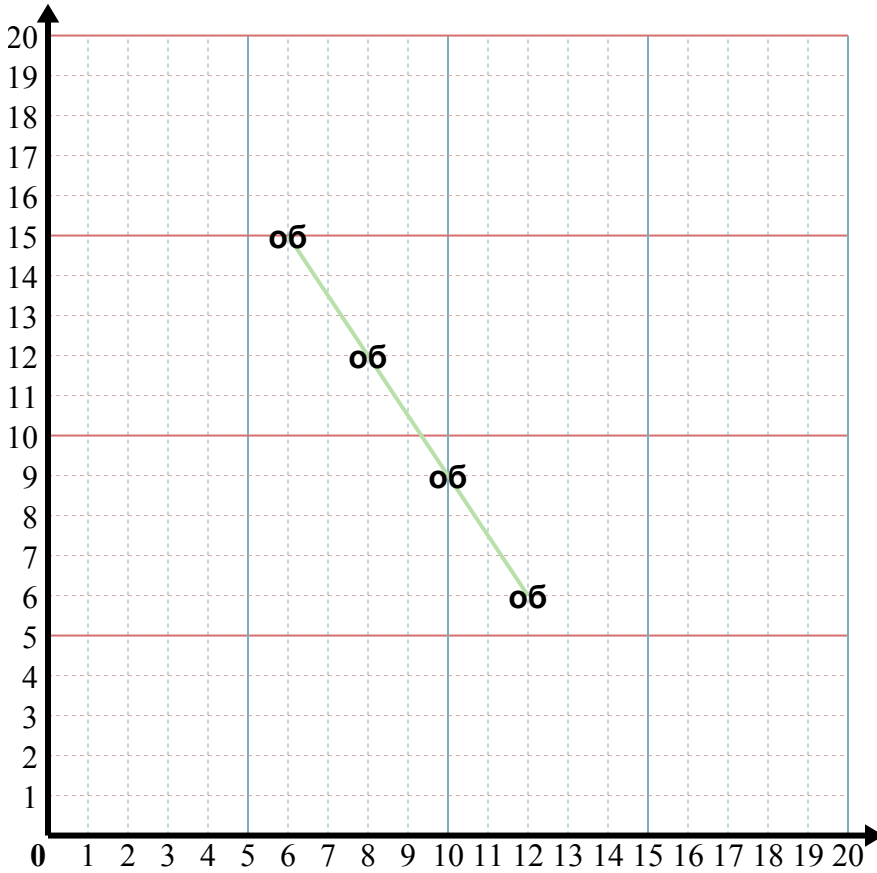
3) X: Начните с 10 и отнимите 3.  
 Y: Начните с 4 и прибавьте 1.  
 x: 10 7 4 1  
 y: 4 5 6 7

4) X: Начните с 12 и отнимите 2.  
 Y: Начните с 13 и отнимите 3.  
 x: 12 10 8 6  
 y: 13 10 7 4

5) X: Начните с 7 и прибавьте 3.  
 Y: Начните с 4 и прибавьте 1.  
 x: 7 10 13 16  
 y: 4 5 6 7



Определите части и обозначьте их на графике.



**Отвeты**

об. ( 12 6 )

1. \_\_\_\_\_

2. \_\_\_\_\_

3. \_\_\_\_\_

4. \_\_\_\_\_

5. \_\_\_\_\_

об) X: Начните с 6 и прибавьте 2.  
 Y: Начните с 15 и отнимите 3.  
 x: 6 8 10 12  
 y: 15 12 9 6

1) X: Начните с 8 и прибавьте 2.  
 Y: Начните с 10 и прибавьте 3.  
 x: \_\_\_\_\_  
 y: \_\_\_\_\_

2) X: Начните с 2 и прибавьте 1.  
 Y: Начните с 5 и отнимите 1.  
 x: \_\_\_\_\_  
 y: \_\_\_\_\_

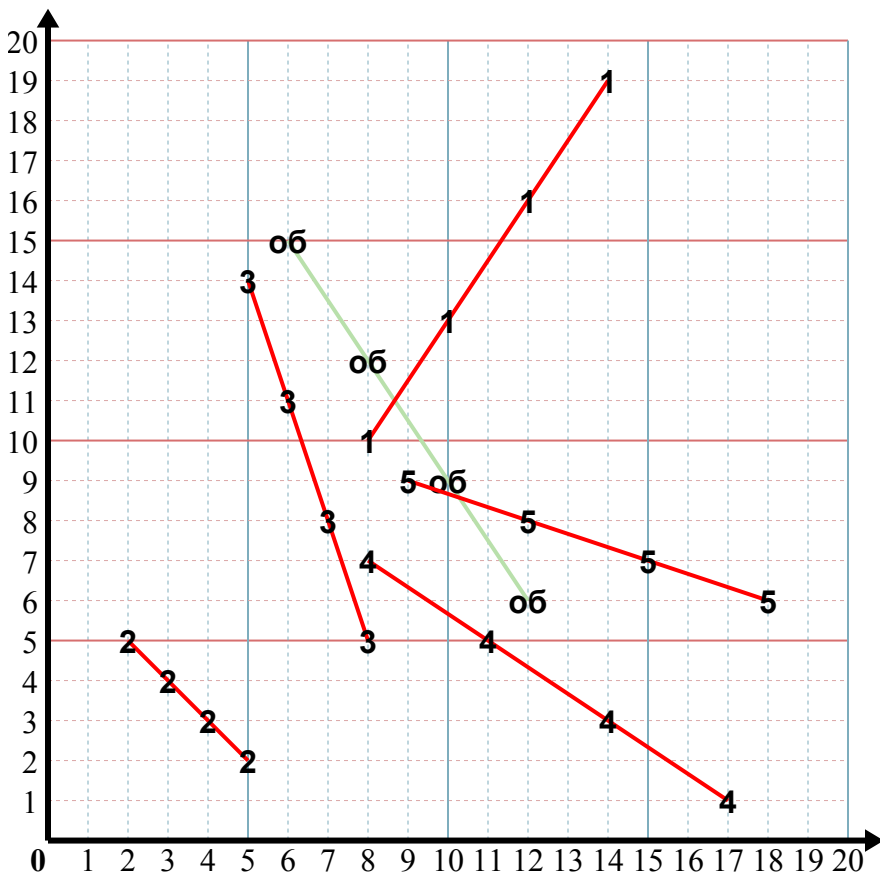
3) X: Начните с 8 и отнимите 1.  
 Y: Начните с 5 и прибавьте 3.  
 x: \_\_\_\_\_  
 y: \_\_\_\_\_

4) X: Начните с 17 и отнимите 3.  
 Y: Начните с 1 и прибавьте 2.  
 x: \_\_\_\_\_  
 y: \_\_\_\_\_

5) X: Начните с 18 и отнимите 3.  
 Y: Начните с 6 и прибавьте 1.  
 x: \_\_\_\_\_  
 y: \_\_\_\_\_



Определите части и обозначте их на графике.



**Ответы**

об. (12 6)

1. (14 19)

2. (5 2)

3. (5 14)

4. (8 7)

5. (9 9)

об) X: Начните с 6 и прибавьте 2.  
 Y: Начните с 15 и отнимите 3.  
 x: 6 8 10 12  
 y: 15 12 9 6

1) X: Начните с 8 и прибавьте 2.  
 Y: Начните с 10 и прибавьте 3.  
 x: 8 10 12 14  
 y: 10 13 16 19

2) X: Начните с 2 и прибавьте 1.  
 Y: Начните с 5 и отнимите 1.  
 x: 2 3 4 5  
 y: 5 4 3 2

3) X: Начните с 8 и отнимите 1.  
 Y: Начните с 5 и прибавьте 3.  
 x: 8 7 6 5  
 y: 5 8 11 14

4) X: Начните с 17 и отнимите 3.  
 Y: Начните с 1 и прибавьте 2.  
 x: 17 14 11 8  
 y: 1 3 5 7

5) X: Начните с 18 и отнимите 3.  
 Y: Начните с 6 и прибавьте 1.  
 x: 18 15 12 9  
 y: 6 7 8 9