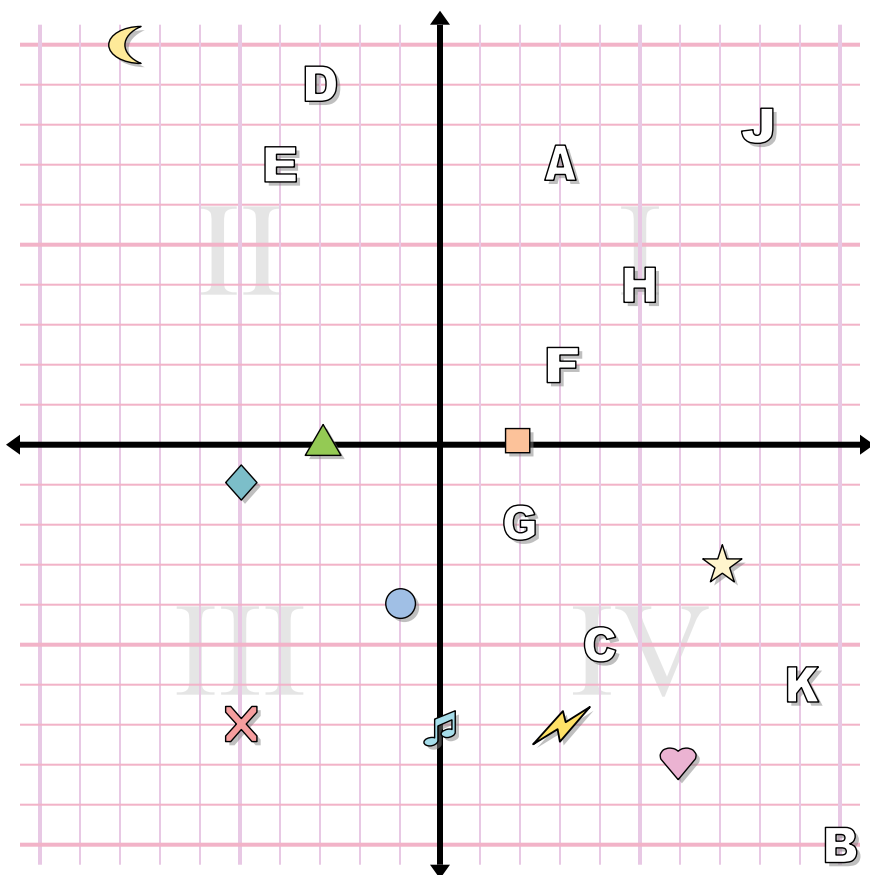




**Ответы**



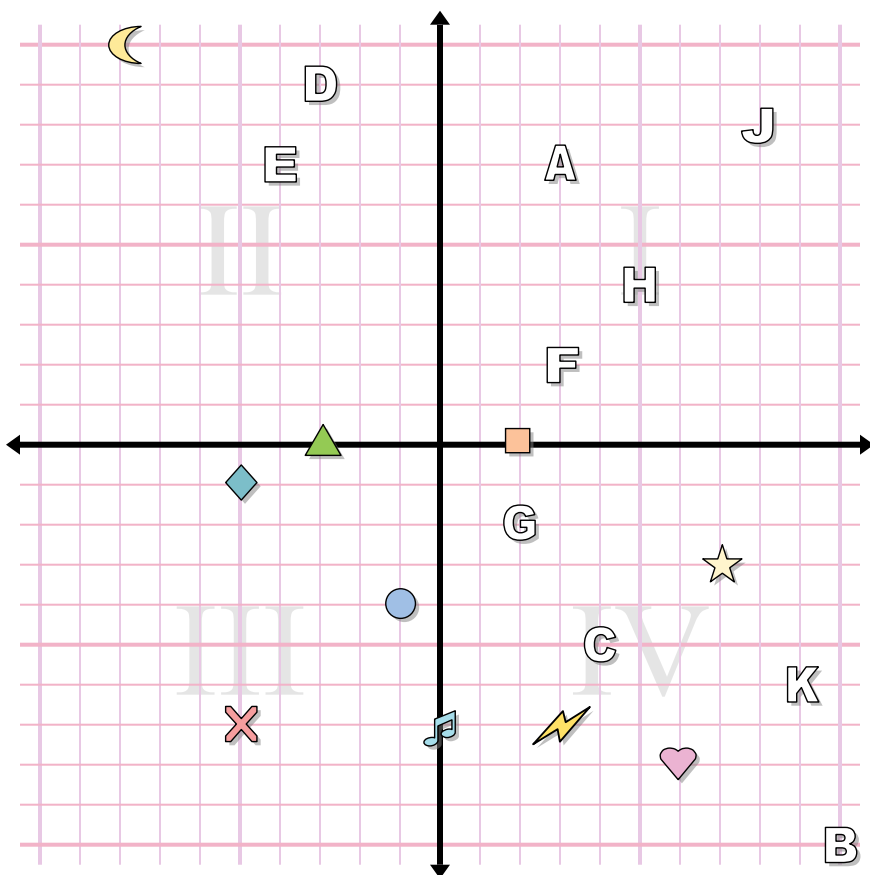
1. \_\_\_\_\_
2. \_\_\_\_\_
3. \_\_\_\_\_
4. \_\_\_\_\_
5. \_\_\_\_\_
6. \_\_\_\_\_
7. \_\_\_\_\_
8. \_\_\_\_\_
9. \_\_\_\_\_
10. \_\_\_\_\_
11. \_\_\_\_\_
12. \_\_\_\_\_
13. \_\_\_\_\_
14. \_\_\_\_\_
15. \_\_\_\_\_
16. \_\_\_\_\_
17. \_\_\_\_\_
18. \_\_\_\_\_
19. \_\_\_\_\_
20. \_\_\_\_\_

**Определите координаты каждой фигуры.**

- |            |                 |
|------------|-----------------|
| 1) нота    | 2) круг         |
| 3) молния  | 4) крест        |
| 5) Луна    | 6) алмаз        |
| 7) звезда  | 8) сердце       |
| 9) квадрат | 10) треугольник |

**Определите какая буква под какой координатой.**

- |            |              |
|------------|--------------|
| 11) (-4 7) | 12) (2 -2)   |
| 13) (-3 9) | 14) (5 4)    |
| 15) (8 8)  | 16) (3 7)    |
| 17) (4 -5) | 18) (10 -10) |
| 19) (9 -6) | 20) (3 2)    |



**ОТВЕТЫ**

1. (0 -7)
2. (-1 -4)
3. (3 -7)
4. (-5 -7)
5. (-8 10)
6. (-5 -1)
7. (7 -3)
8. (6 -8)
9. (2 0)
10. (-3 0)
11. E
12. G
13. D
14. H
15. J
16. A
17. C
18. B
19. K
20. F

Определите координаты каждой фигуры.

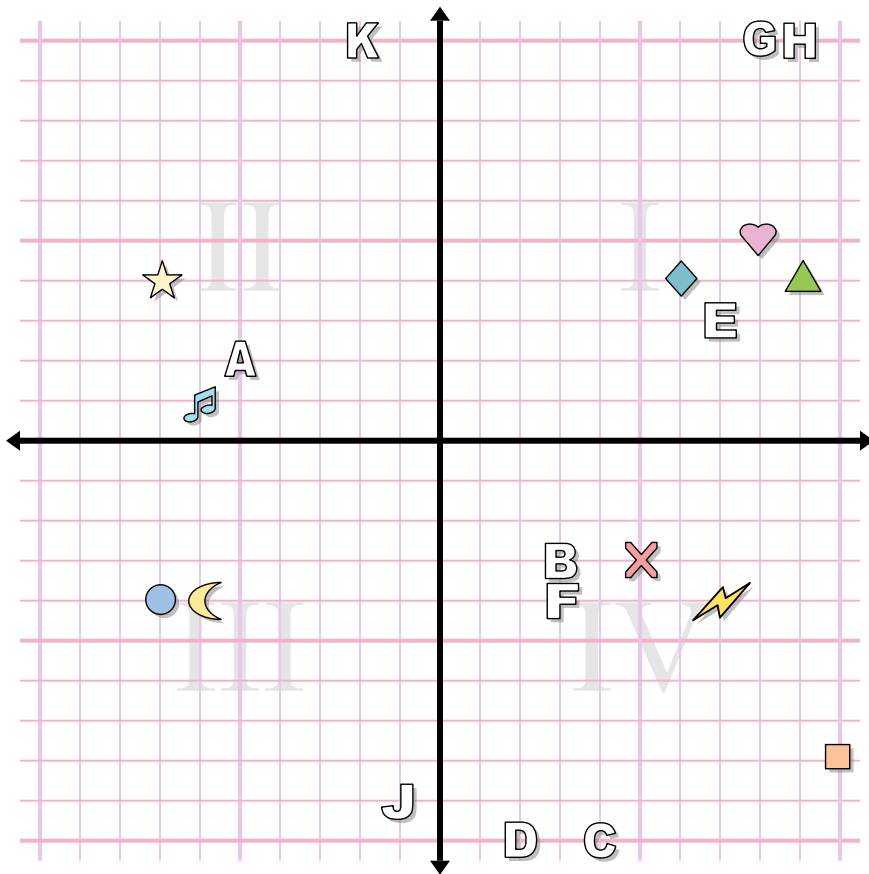
- |            |                 |
|------------|-----------------|
| 1) нота    | 2) круг         |
| 3) молния  | 4) крест        |
| 5) Луна    | 6) алмаз        |
| 7) звезда  | 8) сердце       |
| 9) квадрат | 10) треугольник |

Определите какая буква под какой координатой.

- |            |              |
|------------|--------------|
| 11) (-4 7) | 12) (2 -2)   |
| 13) (-3 9) | 14) (5 4)    |
| 15) (8 8)  | 16) (3 7)    |
| 17) (4 -5) | 18) (10 -10) |
| 19) (9 -6) | 20) (3 2)    |



ОТВЕТЫ



1. \_\_\_\_\_

2. \_\_\_\_\_

3. \_\_\_\_\_

4. \_\_\_\_\_

5. \_\_\_\_\_

6. \_\_\_\_\_

7. \_\_\_\_\_

8. \_\_\_\_\_

9. \_\_\_\_\_

10. \_\_\_\_\_

11. \_\_\_\_\_

12. \_\_\_\_\_

13. \_\_\_\_\_

14. \_\_\_\_\_

15. \_\_\_\_\_

16. \_\_\_\_\_

17. \_\_\_\_\_

18. \_\_\_\_\_

19. \_\_\_\_\_

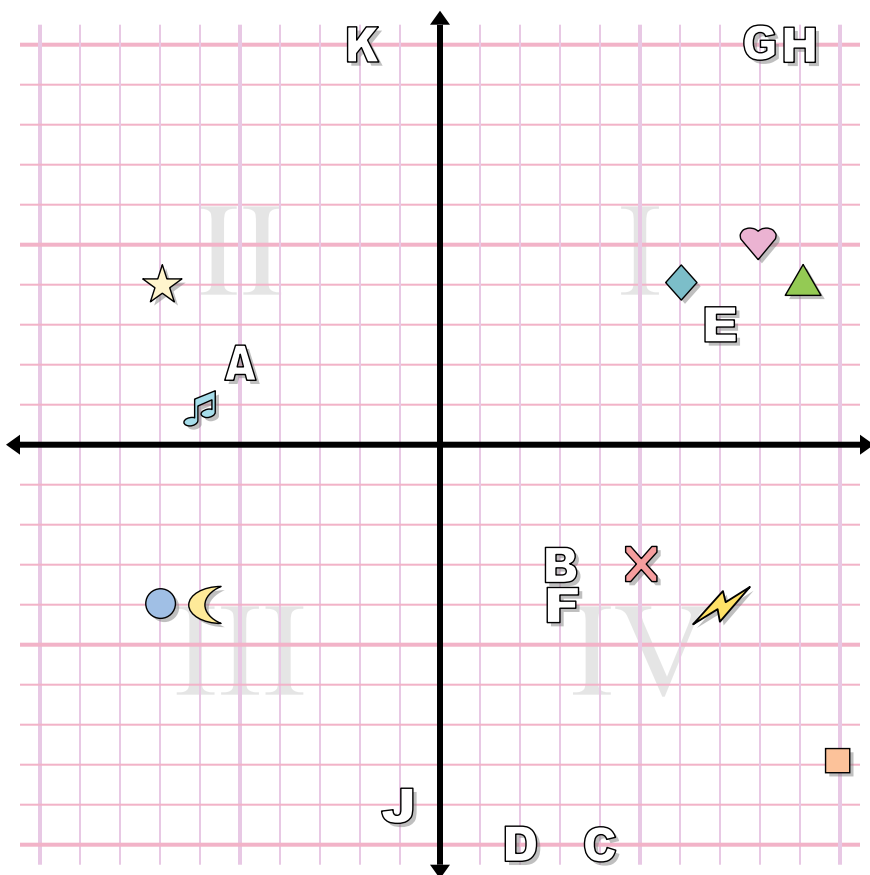
20. \_\_\_\_\_

Определите координаты каждой фигуры.

- |                |            |
|----------------|------------|
| 1) круг        | 2) алмаз   |
| 3) квадрат     | 4) сердце  |
| 5) нота        | 6) крест   |
| 7) молния      | 8) Луна    |
| 9) треугольник | 10) звезда |

Определите какая буква под какой координатой.

- |             |             |
|-------------|-------------|
| 11) (2 -10) | 12) (9 10)  |
| 13) (7 3)   | 14) (4 -10) |
| 15) (3 -3)  | 16) (-2 10) |
| 17) (-5 2)  | 18) (8 10)  |
| 19) (-1 -9) | 20) (3 -4)  |



**ОТВЕТЫ**

1.           (-7 -4)
2.           (6 4)
3.           (10 -8)
4.           (8 5)
5.           (-6 1)
6.           (5 -3)
7.           (7 -4)
8.           (-6 -4)
9.           (9 4)
10.           (-7 4)
11.           D
12.           H
13.           E
14.           C
15.           B
16.           K
17.           A
18.           G
19.           J
20.           F

Определите координаты каждой фигуры.

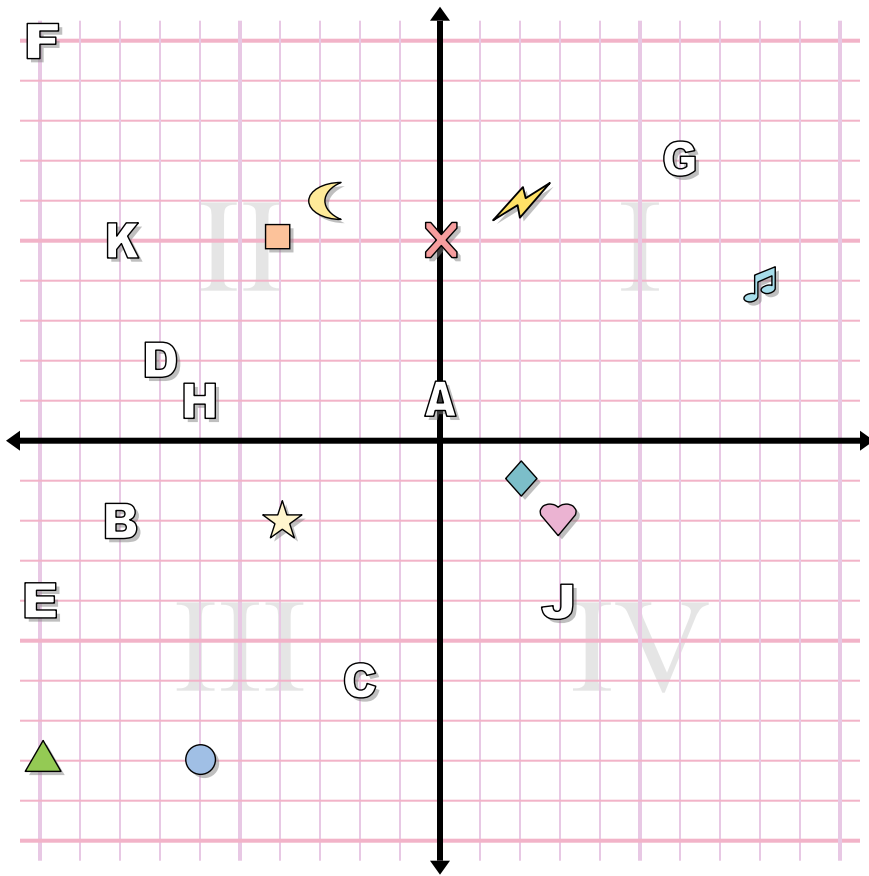
- |                |            |
|----------------|------------|
| 1) круг        | 2) алмаз   |
| 3) квадрат     | 4) сердце  |
| 5) нота        | 6) крест   |
| 7) молния      | 8) Луна    |
| 9) треугольник | 10) звезда |

Определите какая буква под какой координатой.

- |             |             |
|-------------|-------------|
| 11) (2 -10) | 12) (9 10)  |
| 13) (7 3)   | 14) (4 -10) |
| 15) (3 -3)  | 16) (-2 10) |
| 17) (-5 2)  | 18) (8 10)  |
| 19) (-1 -9) | 20) (3 -4)  |



**ОТВЕТЫ**



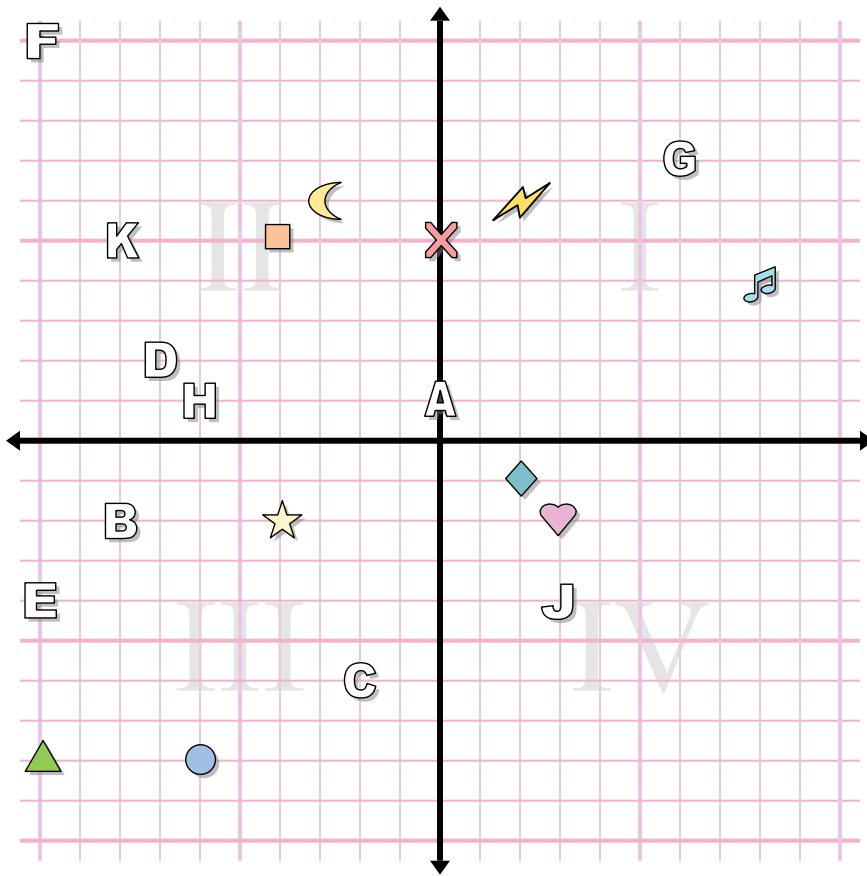
1. \_\_\_\_\_
2. \_\_\_\_\_
3. \_\_\_\_\_
4. \_\_\_\_\_
5. \_\_\_\_\_
6. \_\_\_\_\_
7. \_\_\_\_\_
8. \_\_\_\_\_
9. \_\_\_\_\_
10. \_\_\_\_\_
11. \_\_\_\_\_
12. \_\_\_\_\_
13. \_\_\_\_\_
14. \_\_\_\_\_
15. \_\_\_\_\_
16. \_\_\_\_\_
17. \_\_\_\_\_
18. \_\_\_\_\_
19. \_\_\_\_\_
20. \_\_\_\_\_

**Определите координаты каждой фигуры.**

- |                |           |
|----------------|-----------|
| 1) треугольник | 2) Луна   |
| 3) квадрат     | 4) сердце |
| 5) звезда      | 6) круг   |
| 7) нота        | 8) молния |
| 9) крест       | 10) алмаз |

**Определите какая буква под какой координатой.**

- |             |              |
|-------------|--------------|
| 11) (3 -4)  | 12) (-6 1)   |
| 13) (-2 -6) | 14) (-8 5)   |
| 15) (0 1)   | 16) (-10 10) |
| 17) (6 7)   | 18) (-7 2)   |
| 19) (-8 -2) | 20) (-10 -4) |



**ОТВЕТЫ**

1.           (-10 -8)
2.           (-3 6)
3.           (-4 5)
4.           (3 -2)
5.           (-4 -2)
6.           (-6 -8)
7.           (8 4)
8.           (2 6)
9.           (0 5)
10.          (2 -1)
11.           **J**
12.           **H**
13.           **C**
14.           **K**
15.           **A**
16.           **F**
17.           **G**
18.           **D**
19.           **B**
20.           **E**

Определите координаты каждой фигуры.

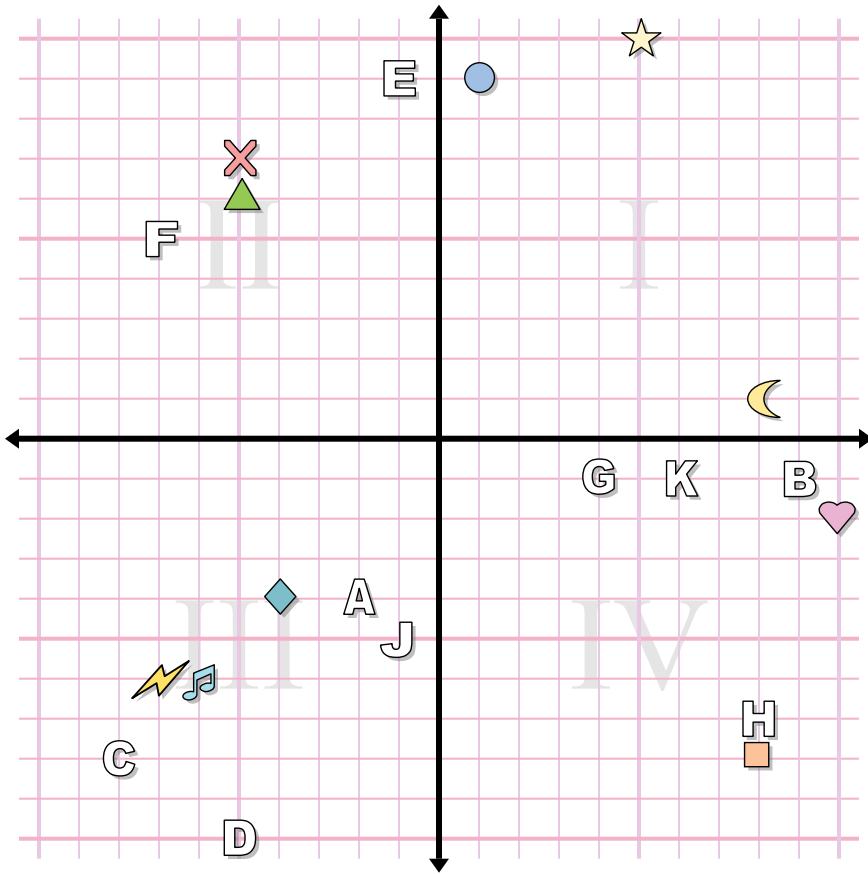
- |                |           |
|----------------|-----------|
| 1) треугольник | 2) Луна   |
| 3) квадрат     | 4) сердце |
| 5) звезда      | 6) круг   |
| 7) нота        | 8) молния |
| 9) крест       | 10) алмаз |

Определите какая буква под какой координатой.

- |             |              |
|-------------|--------------|
| 11) (3 -4)  | 12) (-6 1)   |
| 13) (-2 -6) | 14) (-8 5)   |
| 15) (0 1)   | 16) (-10 10) |
| 17) (6 7)   | 18) (-7 2)   |
| 19) (-8 -2) | 20) (-10 -4) |



**Ответы**



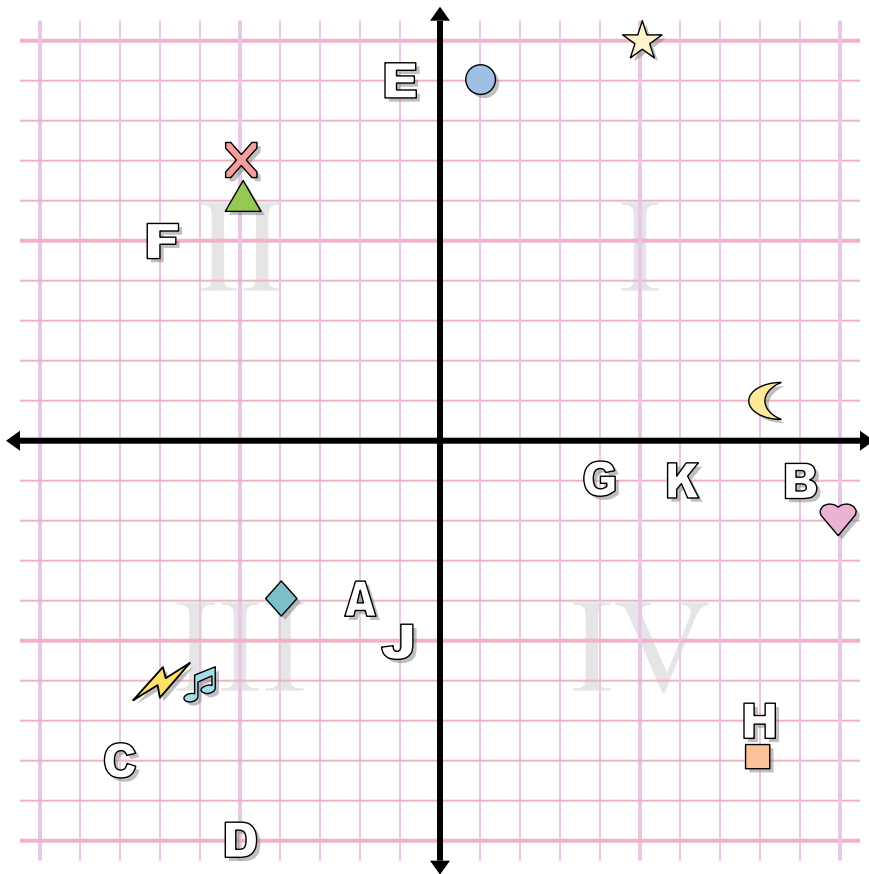
1. \_\_\_\_\_
2. \_\_\_\_\_
3. \_\_\_\_\_
4. \_\_\_\_\_
5. \_\_\_\_\_
6. \_\_\_\_\_
7. \_\_\_\_\_
8. \_\_\_\_\_
9. \_\_\_\_\_
10. \_\_\_\_\_
11. \_\_\_\_\_
12. \_\_\_\_\_
13. \_\_\_\_\_
14. \_\_\_\_\_
15. \_\_\_\_\_
16. \_\_\_\_\_
17. \_\_\_\_\_
18. \_\_\_\_\_
19. \_\_\_\_\_
20. \_\_\_\_\_

**Определите координаты каждой фигуры.**

- |            |                 |
|------------|-----------------|
| 1) крест   | 2) нота         |
| 3) звезда  | 4) круг         |
| 5) квадрат | 6) сердце       |
| 7) алмаз   | 8) молния       |
| 9) Луна    | 10) треугольник |

**Определите какая буква под какой координатой.**

- |             |              |
|-------------|--------------|
| 11) (-2 -4) | 12) (-1 -5)  |
| 13) (8 -7)  | 14) (-1 9)   |
| 15) (6 -1)  | 16) (-8 -8)  |
| 17) (9 -1)  | 18) (4 -1)   |
| 19) (-7 5)  | 20) (-5 -10) |



**ОТВЕТЫ**

1.           (-5 7)
2.           (-6 -6)
3.           (5 10)
4.           (1 9)
5.           (8 -8)
6.           (10 -2)
7.           (-4 -4)
8.           (-7 -6)
9.           (8 1)
10.           (-5 6)
11.           A
12.           J
13.           H
14.           E
15.           K
16.           C
17.           B
18.           G
19.           F
20.           D

Определите координаты каждой фигуры.

- |            |                 |
|------------|-----------------|
| 1) крест   | 2) нота         |
| 3) звезда  | 4) круг         |
| 5) квадрат | 6) сердце       |
| 7) алмаз   | 8) молния       |
| 9) Луна    | 10) треугольник |

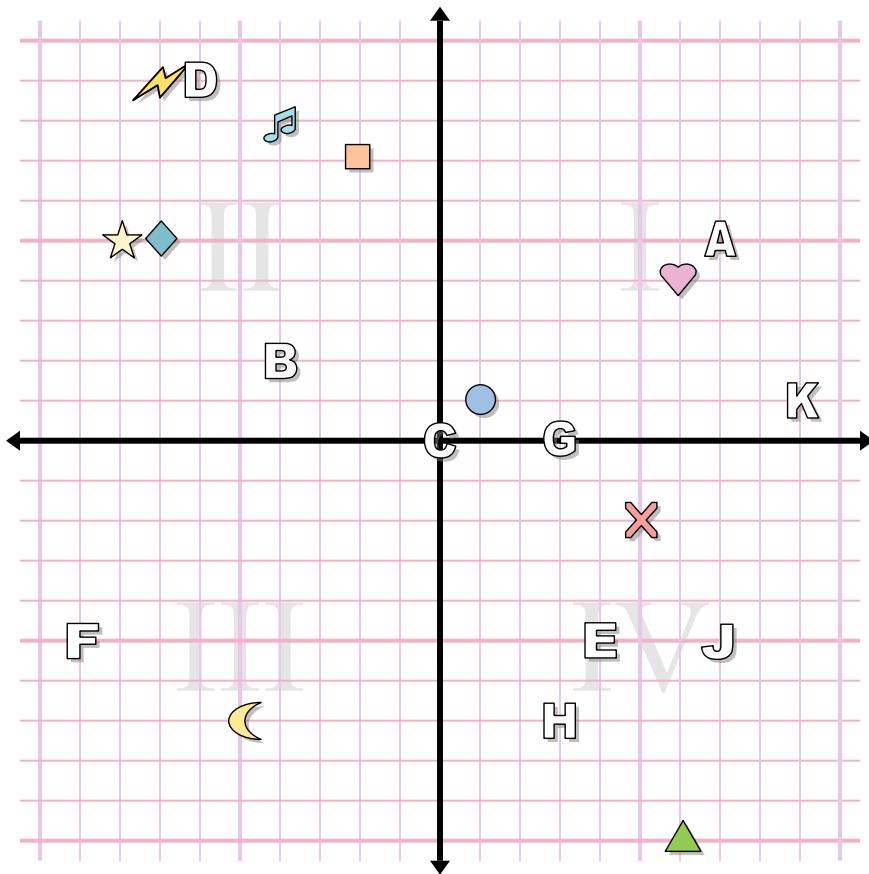
Определите какая буква под какой координатой.

- |             |              |
|-------------|--------------|
| 11) (-2 -4) | 12) (-1 -5)  |
| 13) (8 -7)  | 14) (-1 9)   |
| 15) (6 -1)  | 16) (-8 -8)  |
| 17) (9 -1)  | 18) (4 -1)   |
| 19) (-7 5)  | 20) (-5 -10) |





ОТВЕТЫ



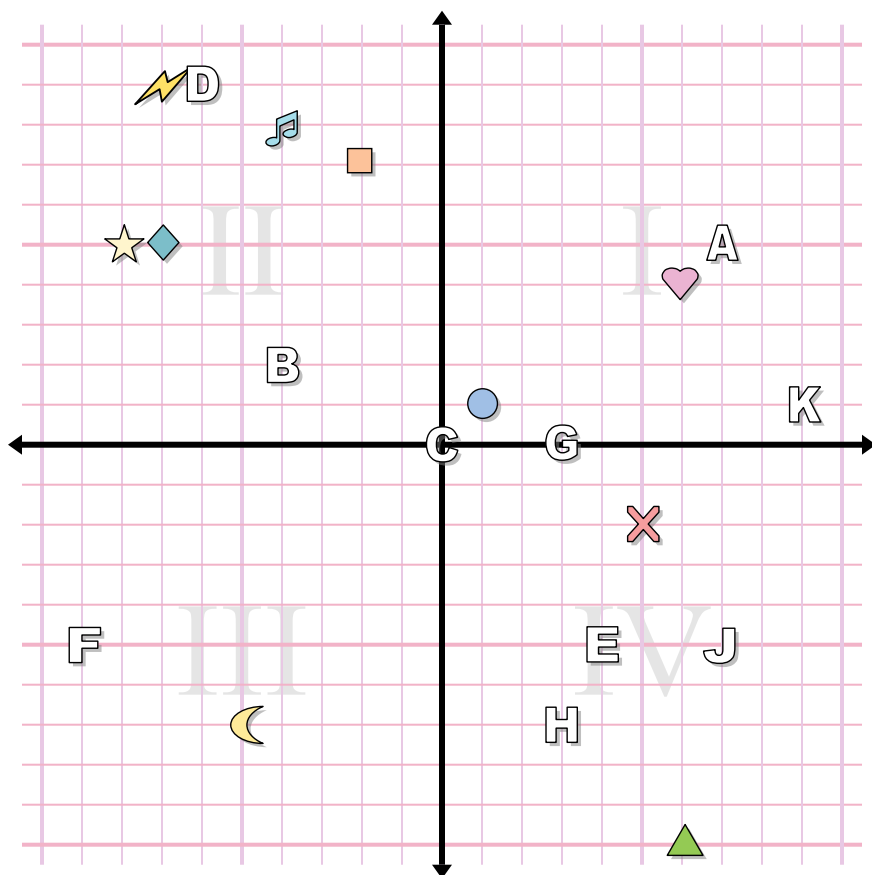
1. \_\_\_\_\_
2. \_\_\_\_\_
3. \_\_\_\_\_
4. \_\_\_\_\_
5. \_\_\_\_\_
6. \_\_\_\_\_
7. \_\_\_\_\_
8. \_\_\_\_\_
9. \_\_\_\_\_
10. \_\_\_\_\_
11. \_\_\_\_\_
12. \_\_\_\_\_
13. \_\_\_\_\_
14. \_\_\_\_\_
15. \_\_\_\_\_
16. \_\_\_\_\_
17. \_\_\_\_\_
18. \_\_\_\_\_
19. \_\_\_\_\_
20. \_\_\_\_\_

Определите координаты каждой фигуры.

- |                |            |
|----------------|------------|
| 1) крест       | 2) квадрат |
| 3) нота        | 4) Луна    |
| 5) круг        | 6) сердце  |
| 7) треугольник | 8) молния  |
| 9) алмаз       | 10) звезда |

Определите какая буква под какой координатой.

- |             |            |
|-------------|------------|
| 11) (-4 2)  | 12) (7 -5) |
| 13) (0 0)   | 14) (3 0)  |
| 15) (3 -7)  | 16) (4 -5) |
| 17) (7 5)   | 18) (-6 9) |
| 19) (-9 -5) | 20) (9 1)  |



**ОТВЕТЫ**

1. (5 -2)
2. (-2 7)
3. (-4 8)
4. (-5 -7)
5. (1 1)
6. (6 4)
7. (6 -10)
8. (-7 9)
9. (-7 5)
10. (-8 5)
11. B
12. J
13. C
14. G
15. H
16. E
17. A
18. D
19. F
20. K

Определите координаты каждой фигуры.

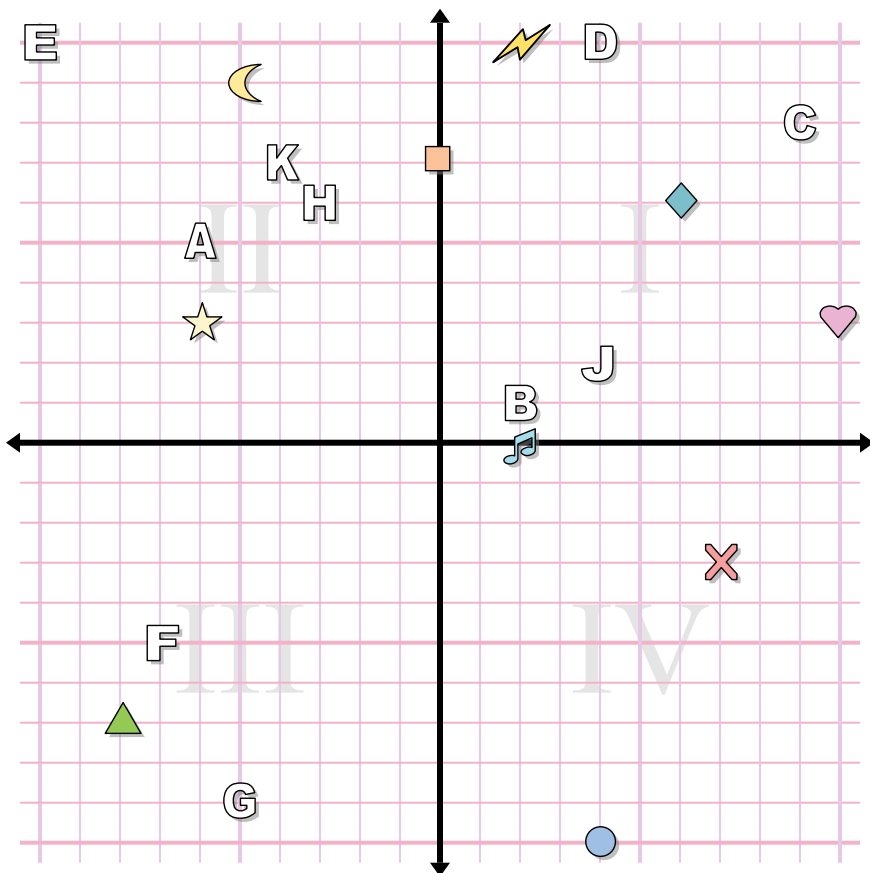
- |                |            |
|----------------|------------|
| 1) крест       | 2) квадрат |
| 3) нота        | 4) Луна    |
| 5) круг        | 6) сердце  |
| 7) треугольник | 8) молния  |
| 9) алмаз       | 10) звезда |

Определите какая буква под какой координатой.

- |             |            |
|-------------|------------|
| 11) (-4 2)  | 12) (7 -5) |
| 13) (0 0)   | 14) (3 0)  |
| 15) (3 -7)  | 16) (4 -5) |
| 17) (7 5)   | 18) (-6 9) |
| 19) (-9 -5) | 20) (9 1)  |



**ОТВЕТЫ**



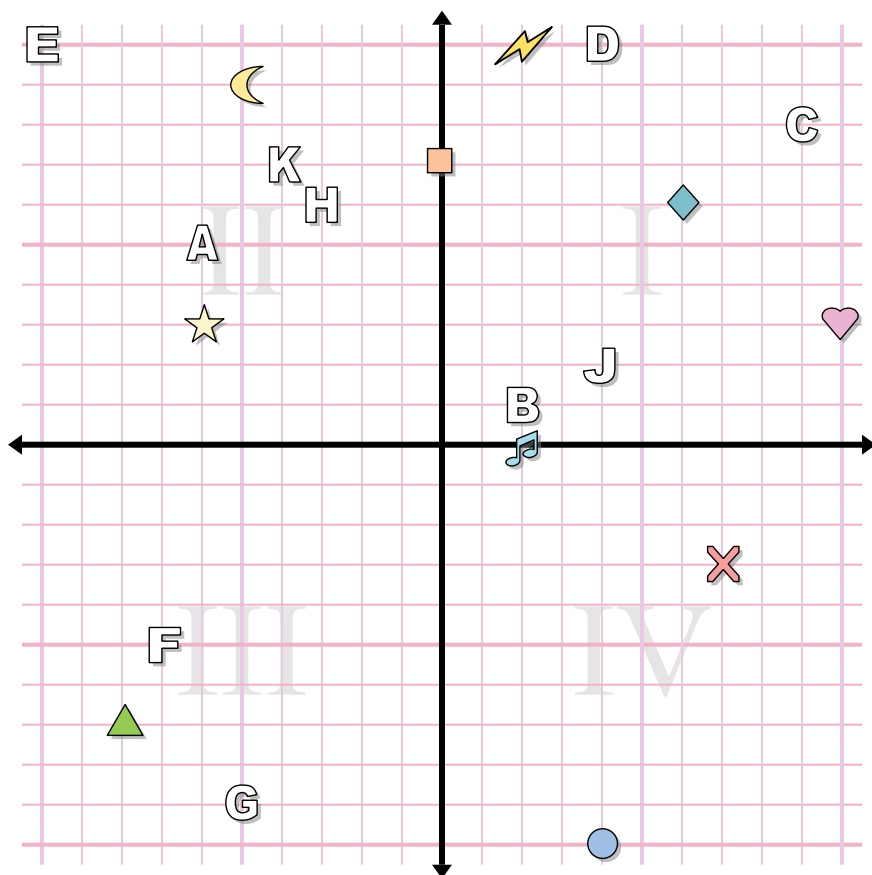
1. \_\_\_\_\_
2. \_\_\_\_\_
3. \_\_\_\_\_
4. \_\_\_\_\_
5. \_\_\_\_\_
6. \_\_\_\_\_
7. \_\_\_\_\_
8. \_\_\_\_\_
9. \_\_\_\_\_
10. \_\_\_\_\_
11. \_\_\_\_\_
12. \_\_\_\_\_
13. \_\_\_\_\_
14. \_\_\_\_\_
15. \_\_\_\_\_
16. \_\_\_\_\_
17. \_\_\_\_\_
18. \_\_\_\_\_
19. \_\_\_\_\_
20. \_\_\_\_\_

**Определите координаты каждой фигуры.**

- |            |                |
|------------|----------------|
| 1) звезда  | 2) Луна        |
| 3) сердце  | 4) алмаз       |
| 5) молния  | 6) треугольник |
| 7) круг    | 8) нота        |
| 9) квадрат | 10) крест      |

**Определите какая буква под какой координатой.**

- |             |              |
|-------------|--------------|
| 11) (-3 6)  | 12) (-4 7)   |
| 13) (-5 -9) | 14) (-7 -5)  |
| 15) (-6 5)  | 16) (9 8)    |
| 17) (4 10)  | 18) (4 2)    |
| 19) (2 1)   | 20) (-10 10) |



**ОТВЕТЫ**

1.           (-6 3)
2.           (-5 9)
3.           (10 3)
4.           (6 6)
5.           (2 10)
6.           (-8 -7)
7.           (4 -10)
8.           (2 0)
9.           (0 7)
10.           (7 -3)
11.           H
12.           K
13.           G
14.           F
15.           A
16.           C
17.           D
18.           J
19.           B
20.           E

Определите координаты каждой фигуры.

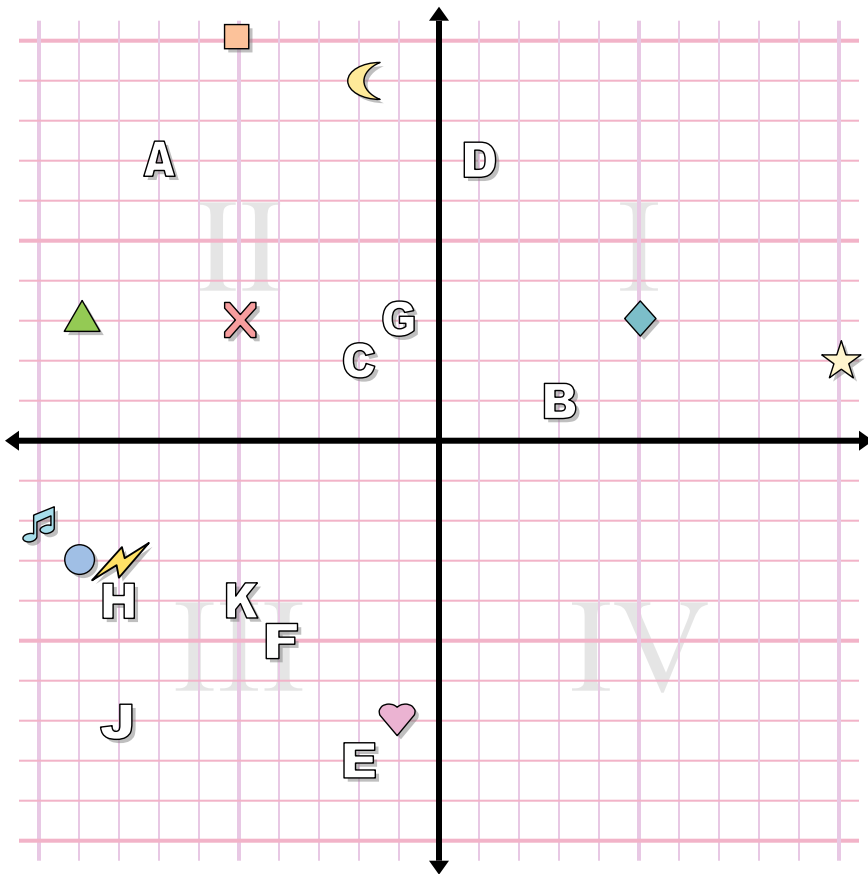
- |            |                |
|------------|----------------|
| 1) звезда  | 2) Луна        |
| 3) сердце  | 4) алмаз       |
| 5) молния  | 6) треугольник |
| 7) круг    | 8) нота        |
| 9) квадрат | 10) крест      |

Определите какая буква под какой координатой.

- |             |              |
|-------------|--------------|
| 11) (-3 6)  | 12) (-4 7)   |
| 13) (-5 -9) | 14) (-7 -5)  |
| 15) (-6 5)  | 16) (9 8)    |
| 17) (4 10)  | 18) (4 2)    |
| 19) (2 1)   | 20) (-10 10) |



**Ответы**



1. \_\_\_\_\_

2. \_\_\_\_\_

3. \_\_\_\_\_

4. \_\_\_\_\_

5. \_\_\_\_\_

6. \_\_\_\_\_

7. \_\_\_\_\_

8. \_\_\_\_\_

9. \_\_\_\_\_

10. \_\_\_\_\_

11. \_\_\_\_\_

12. \_\_\_\_\_

13. \_\_\_\_\_

14. \_\_\_\_\_

15. \_\_\_\_\_

16. \_\_\_\_\_

17. \_\_\_\_\_

18. \_\_\_\_\_

19. \_\_\_\_\_

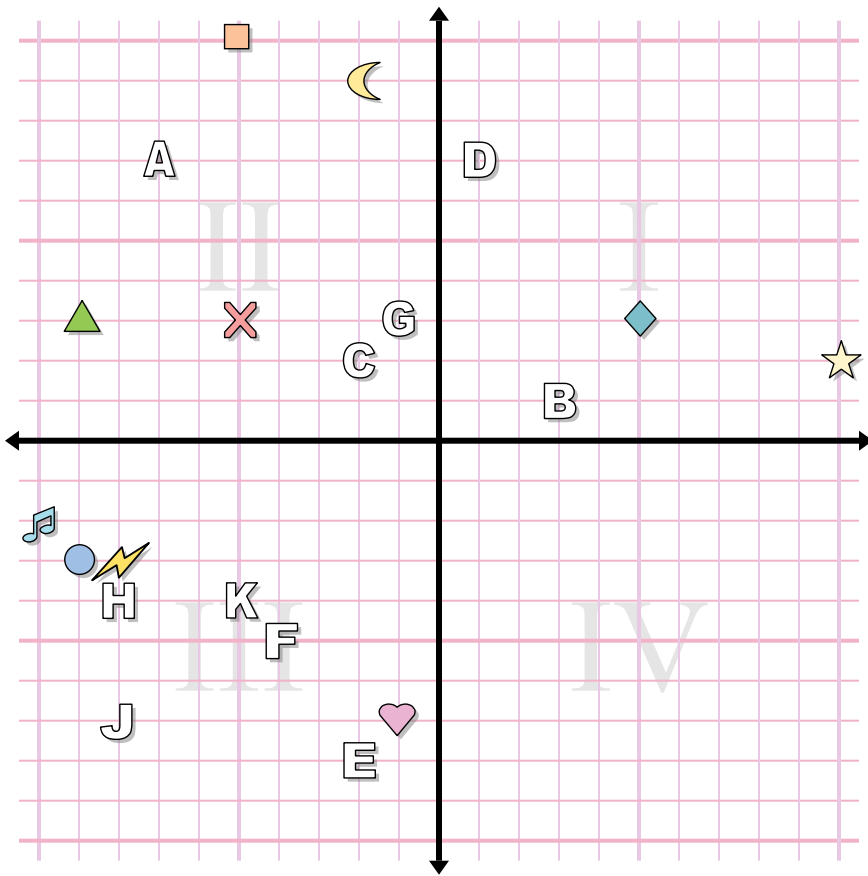
20. \_\_\_\_\_

**Определите координаты каждой фигуры.**

- |                |           |
|----------------|-----------|
| 1) алмаз       | 2) звезда |
| 3) треугольник | 4) Луна   |
| 5) нота        | 6) молния |
| 7) квадрат     | 8) сердце |
| 9) круг        | 10) крест |

**Определите какая буква под какой координатой.**

- |             |             |
|-------------|-------------|
| 11) (-7 7)  | 12) (-4 -5) |
| 13) (-8 -4) | 14) (-2 -8) |
| 15) (-8 -7) | 16) (-1 3)  |
| 17) (-5 -4) | 18) (3 1)   |
| 19) (-2 2)  | 20) (1 7)   |



**ОТВЕТЫ**

1. (5 3)
2. (10 2)
3. (-9 3)
4. (-2 9)
5. (-10 -2)
6. (-8 -3)
7. (-5 10)
8. (-1 -7)
9. (-9 -3)
10. (-5 3)
11. A
12. F
13. H
14. E
15. J
16. G
17. K
18. B
19. C
20. D

Определите координаты каждой фигуры.

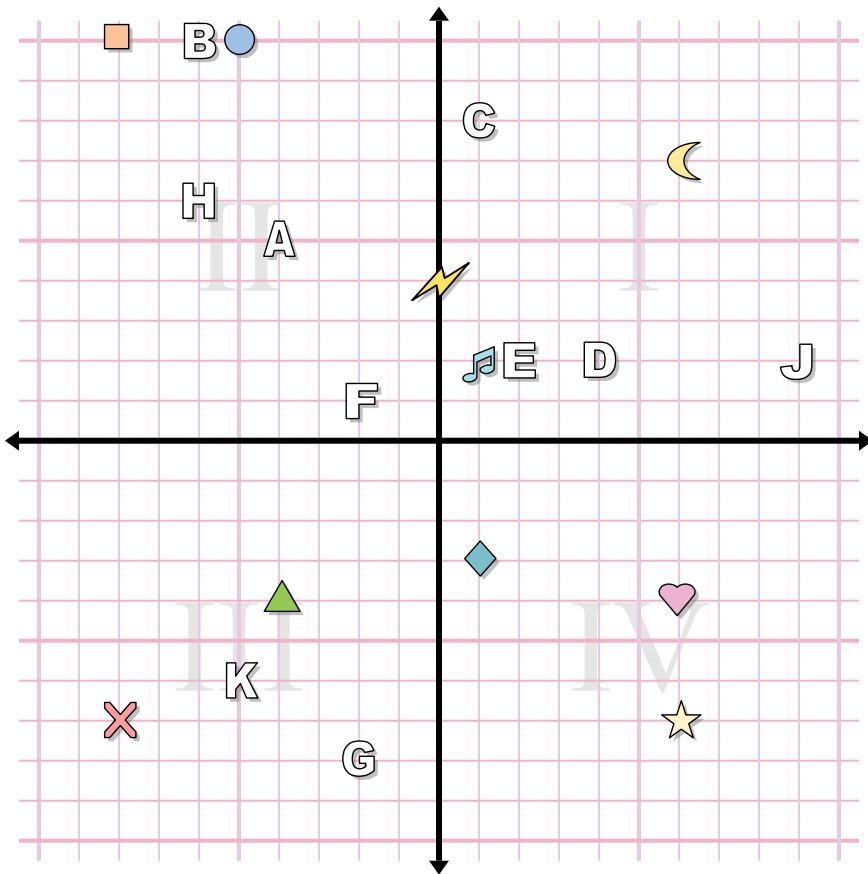
- |                |           |
|----------------|-----------|
| 1) алмаз       | 2) звезда |
| 3) треугольник | 4) Луна   |
| 5) нота        | 6) молния |
| 7) квадрат     | 8) сердце |
| 9) круг        | 10) крест |

Определите какая буква под какой координатой.

- |             |             |
|-------------|-------------|
| 11) (-7 7)  | 12) (-4 -5) |
| 13) (-8 -4) | 14) (-2 -8) |
| 15) (-8 -7) | 16) (-1 3)  |
| 17) (-5 -4) | 18) (3 1)   |
| 19) (-2 2)  | 20) (1 7)   |



ОТВЕТЫ



1. \_\_\_\_\_

2. \_\_\_\_\_

3. \_\_\_\_\_

4. \_\_\_\_\_

5. \_\_\_\_\_

6. \_\_\_\_\_

7. \_\_\_\_\_

8. \_\_\_\_\_

9. \_\_\_\_\_

10. \_\_\_\_\_

11. \_\_\_\_\_

12. \_\_\_\_\_

13. \_\_\_\_\_

14. \_\_\_\_\_

15. \_\_\_\_\_

16. \_\_\_\_\_

17. \_\_\_\_\_

18. \_\_\_\_\_

19. \_\_\_\_\_

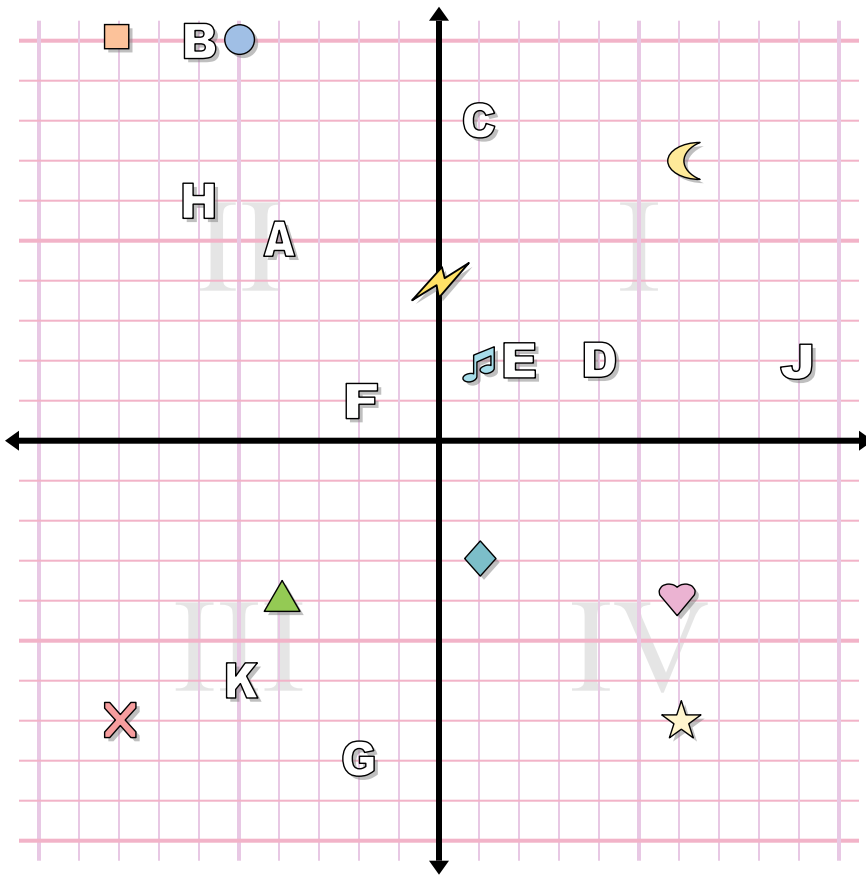
20. \_\_\_\_\_

Определите координаты каждой фигуры.

- |                |            |
|----------------|------------|
| 1) звезда      | 2) крест   |
| 3) нота        | 4) квадрат |
| 5) молния      | 6) Луна    |
| 7) круг        | 8) сердце  |
| 9) треугольник | 10) алмаз  |

Определите какая буква под какой координатой.

- |             |             |
|-------------|-------------|
| 11) (-4 5)  | 12) (-2 1)  |
| 13) (-5 -6) | 14) (-6 6)  |
| 15) (9 2)   | 16) (4 2)   |
| 17) (1 8)   | 18) (-6 10) |
| 19) (2 2)   | 20) (-2 -8) |



**ОТВЕТЫ**

1. (6 -7)
2. (-8 -7)
3. (1 2)
4. (-8 10)
5. (0 4)
6. (6 7)
7. (-5 10)
8. (6 -4)
9. (-4 -4)
10. (1 -3)
11. A
12. F
13. K
14. H
15. J
16. D
17. C
18. B
19. E
20. G

Определите координаты каждой фигуры.

- |                |            |
|----------------|------------|
| 1) звезда      | 2) крест   |
| 3) нота        | 4) квадрат |
| 5) молния      | 6) Луна    |
| 7) круг        | 8) сердце  |
| 9) треугольник | 10) алмаз  |

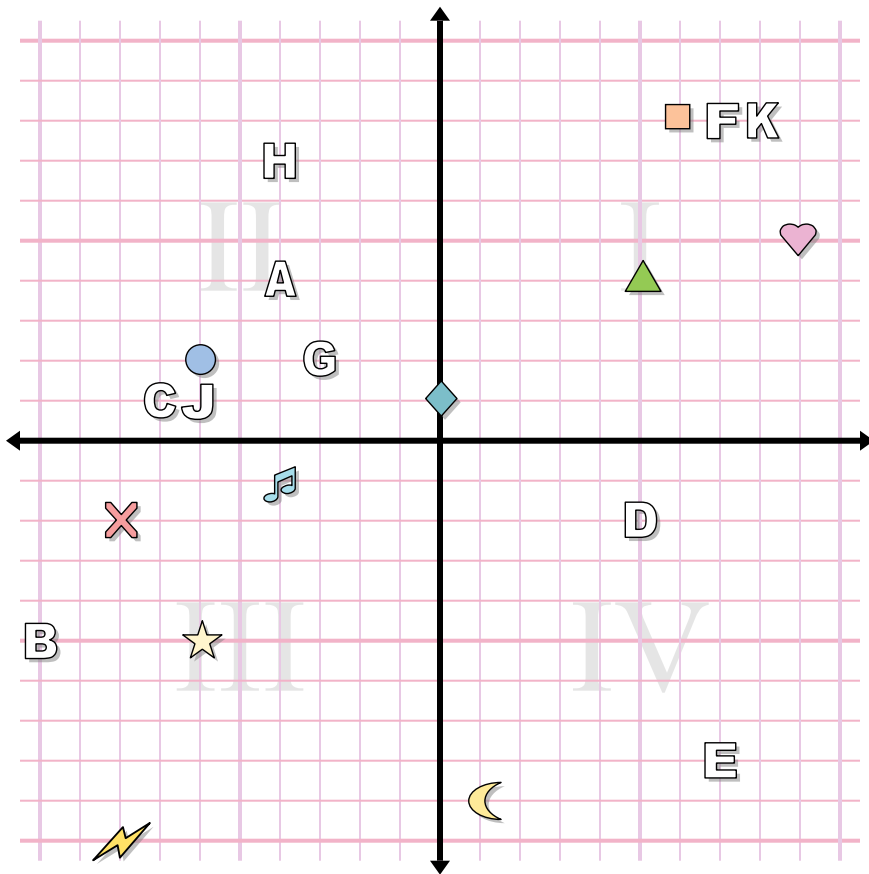
Определите какая буква под какой координатой.

- |             |             |
|-------------|-------------|
| 11) (-4 5)  | 12) (-2 1)  |
| 13) (-5 -6) | 14) (-6 6)  |
| 15) (9 2)   | 16) (4 2)   |
| 17) (1 8)   | 18) (-6 10) |
| 19) (2 2)   | 20) (-2 -8) |





ОТВЕТЫ



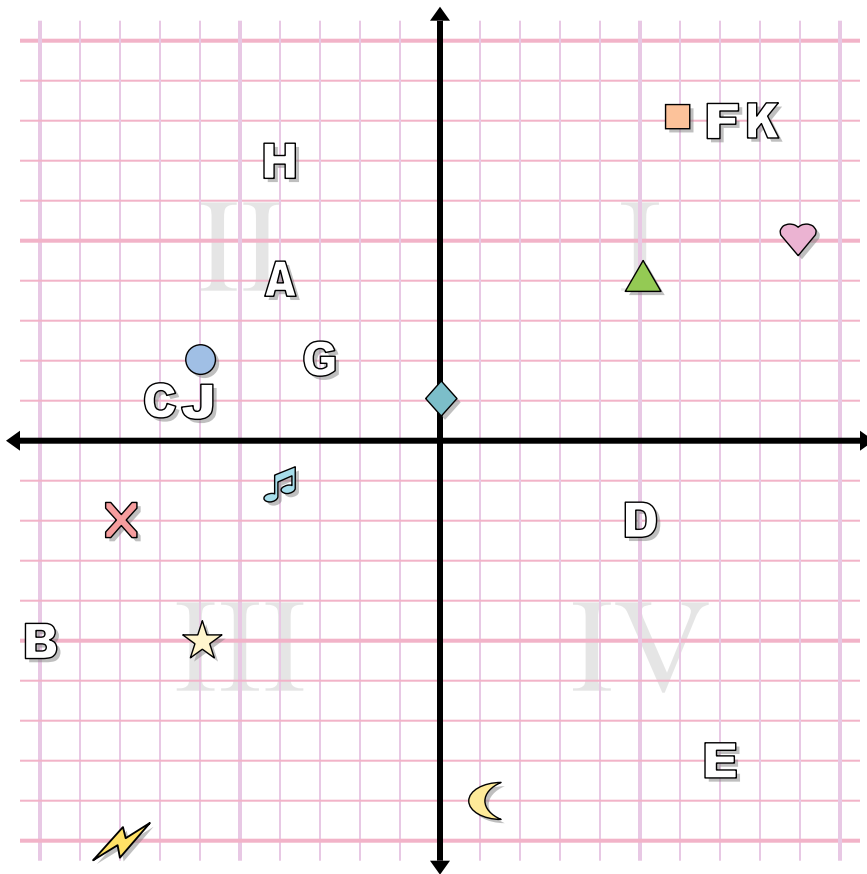
1. \_\_\_\_\_
2. \_\_\_\_\_
3. \_\_\_\_\_
4. \_\_\_\_\_
5. \_\_\_\_\_
6. \_\_\_\_\_
7. \_\_\_\_\_
8. \_\_\_\_\_
9. \_\_\_\_\_
10. \_\_\_\_\_
11. \_\_\_\_\_
12. \_\_\_\_\_
13. \_\_\_\_\_
14. \_\_\_\_\_
15. \_\_\_\_\_
16. \_\_\_\_\_
17. \_\_\_\_\_
18. \_\_\_\_\_
19. \_\_\_\_\_
20. \_\_\_\_\_

Определите координаты каждой фигуры.

- |           |                |
|-----------|----------------|
| 1) нота   | 2) треугольник |
| 3) крест  | 4) сердце      |
| 5) молния | 6) квадрат     |
| 7) круг   | 8) алмаз       |
| 9) Луна   | 10) звезда     |

Определите какая буква под какой координатой.

- |              |            |
|--------------|------------|
| 11) (-3 2)   | 12) (8 8)  |
| 13) (-6 1)   | 14) (7 -8) |
| 15) (5 -2)   | 16) (-4 4) |
| 17) (-10 -5) | 18) (-7 1) |
| 19) (7 8)    | 20) (-4 7) |



**ОТВЕТЫ**

1.           (-4 -1)
2.           (5 4)
3.           (-8 -2)
4.           (9 5)
5.           (-8 -10)
6.           (6 8)
7.           (-6 2)
8.           (0 1)
9.           (1 -9)
10.           (-6 -5)
11.           **G**
12.           **K**
13.           **J**
14.           **E**
15.           **D**
16.           **A**
17.           **B**
18.           **C**
19.           **F**
20.           **H**

Определите координаты каждой фигуры.

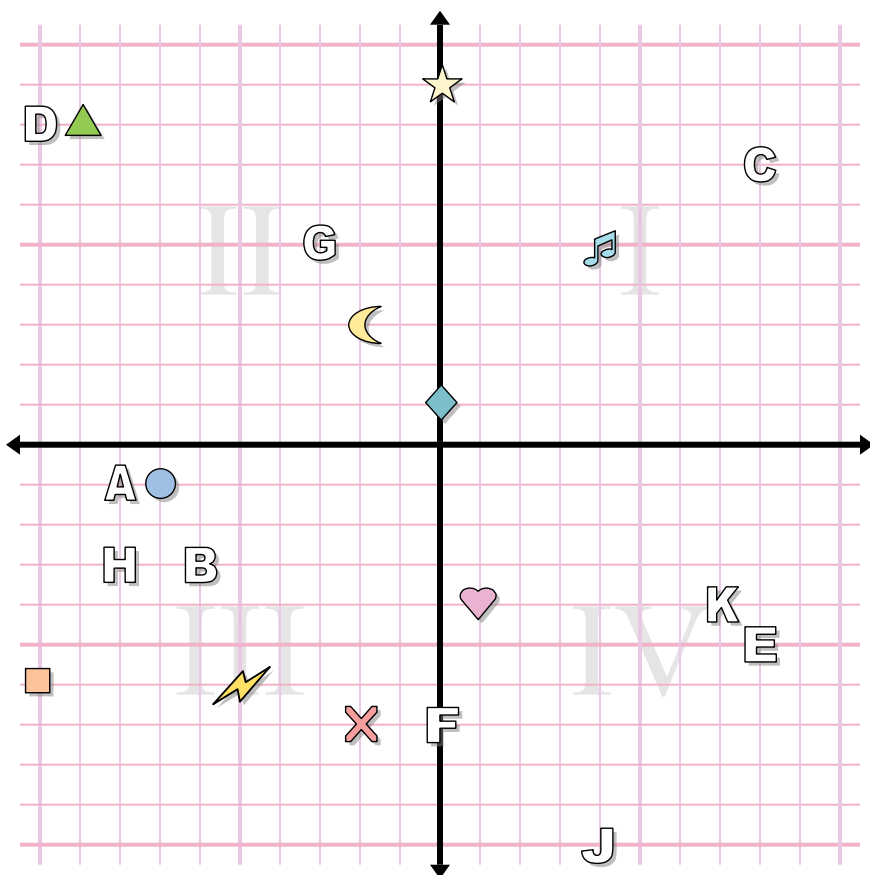
- |           |                |
|-----------|----------------|
| 1) нота   | 2) треугольник |
| 3) крест  | 4) сердце      |
| 5) молния | 6) квадрат     |
| 7) круг   | 8) алмаз       |
| 9) Луна   | 10) звезда     |

Определите какая буква под какой координатой.

- |              |            |
|--------------|------------|
| 11) (-3 2)   | 12) (8 8)  |
| 13) (-6 1)   | 14) (7 -8) |
| 15) (5 -2)   | 16) (-4 4) |
| 17) (-10 -5) | 18) (-7 1) |
| 19) (7 8)    | 20) (-4 7) |



ОТВЕТЫ



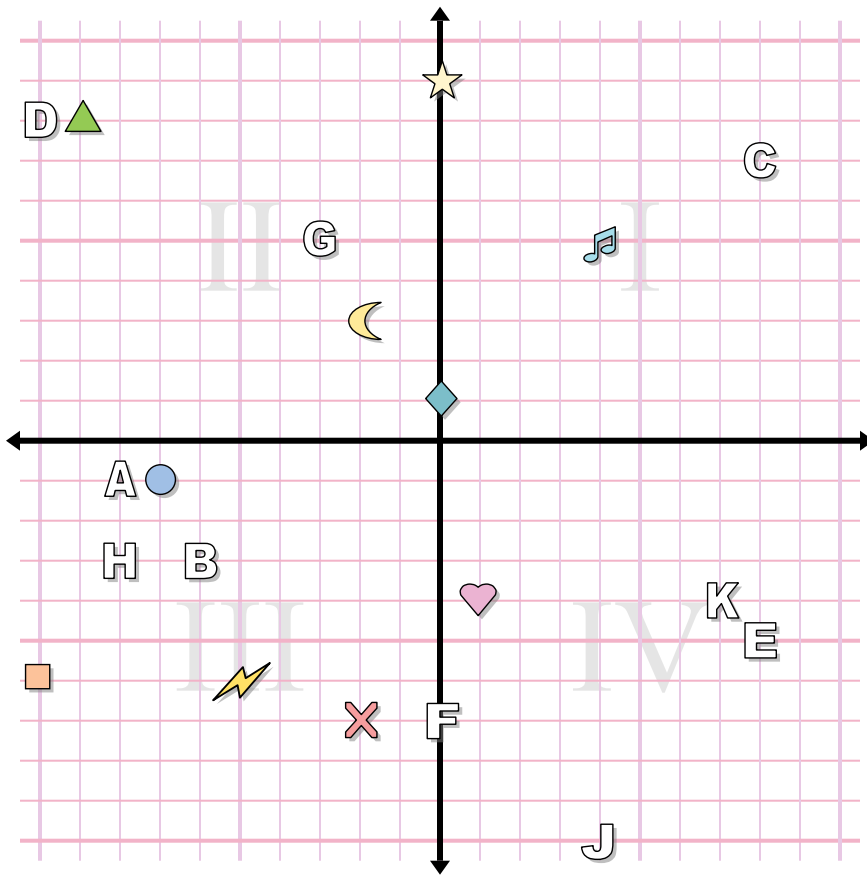
1. \_\_\_\_\_
2. \_\_\_\_\_
3. \_\_\_\_\_
4. \_\_\_\_\_
5. \_\_\_\_\_
6. \_\_\_\_\_
7. \_\_\_\_\_
8. \_\_\_\_\_
9. \_\_\_\_\_
10. \_\_\_\_\_
11. \_\_\_\_\_
12. \_\_\_\_\_
13. \_\_\_\_\_
14. \_\_\_\_\_
15. \_\_\_\_\_
16. \_\_\_\_\_
17. \_\_\_\_\_
18. \_\_\_\_\_
19. \_\_\_\_\_
20. \_\_\_\_\_

Определите координаты каждой фигуры.

- |                |            |
|----------------|------------|
| 1) Луна        | 2) нота    |
| 3) треугольник | 4) квадрат |
| 5) круг        | 6) крест   |
| 7) сердце      | 8) алмаз   |
| 9) звезда      | 10) молния |

Определите какая буква под какой координатой.

- |             |             |
|-------------|-------------|
| 11) (-6 -3) | 12) (-10 8) |
| 13) (8 -5)  | 14) (4 -10) |
| 15) (-3 5)  | 16) (-8 -3) |
| 17) (0 -7)  | 18) (7 -4)  |
| 19) (-8 -1) | 20) (8 7)   |



**ОТВЕТЫ**

1.           (-2 3)
2.           (4 5)
3.           (-9 8)
4.           (-10 -6)
5.           (-7 -1)
6.           (-2 -7)
7.           (1 -4)
8.           (0 1)
9.           (0 9)
10.           (-5 -6)
11.           B
12.           D
13.           E
14.           J
15.           G
16.           H
17.           F
18.           K
19.           A
20.           C

Определите координаты каждой фигуры.

- |                |            |
|----------------|------------|
| 1) Луна        | 2) нота    |
| 3) треугольник | 4) квадрат |
| 5) круг        | 6) крест   |
| 7) сердце      | 8) алмаз   |
| 9) звезда      | 10) молния |

Определите какая буква под какой координатой.

- |             |             |
|-------------|-------------|
| 11) (-6 -3) | 12) (-10 8) |
| 13) (8 -5)  | 14) (4 -10) |
| 15) (-3 5)  | 16) (-8 -3) |
| 17) (0 -7)  | 18) (7 -4)  |
| 19) (-8 -1) | 20) (8 7)   |