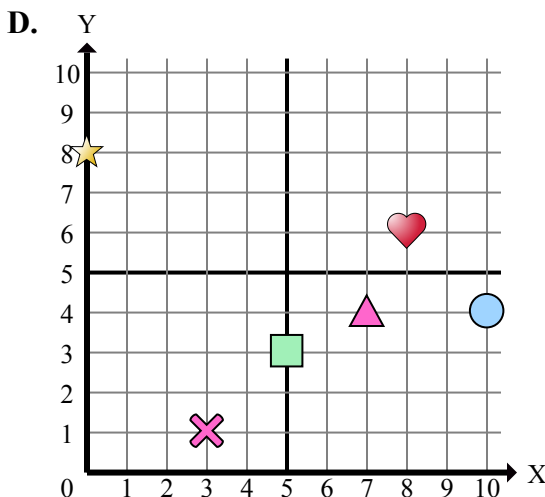
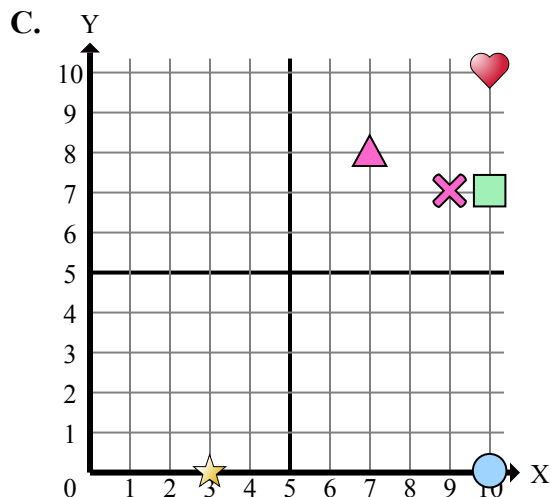
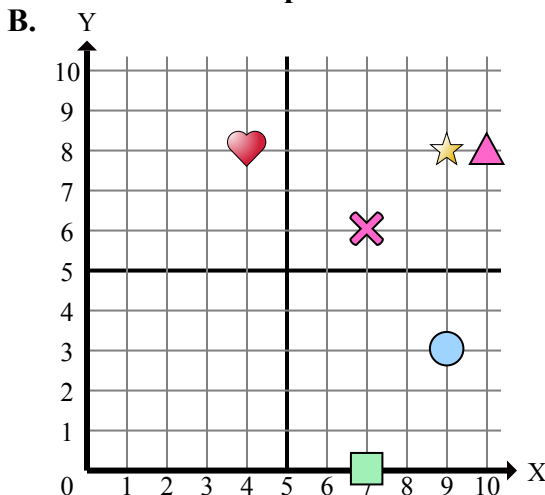
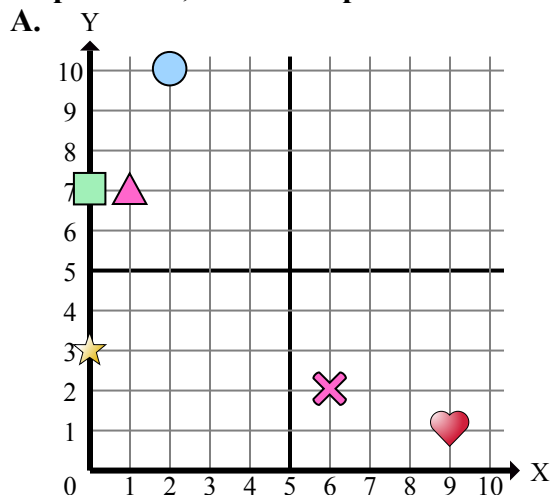




Определите, какая координатная плоскость отвечает всем требованиям.



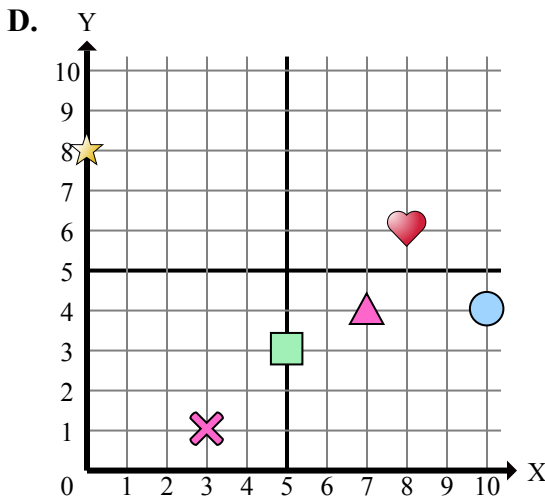
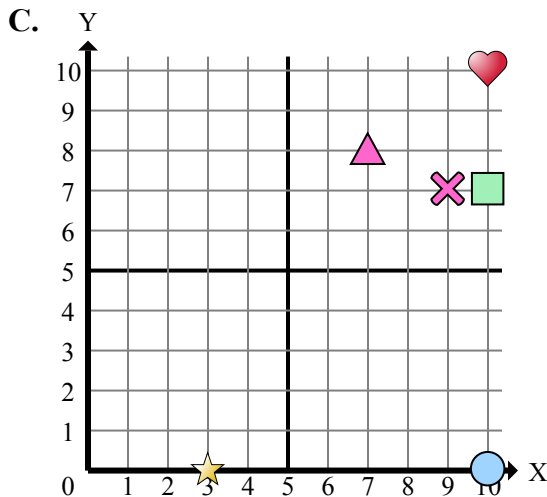
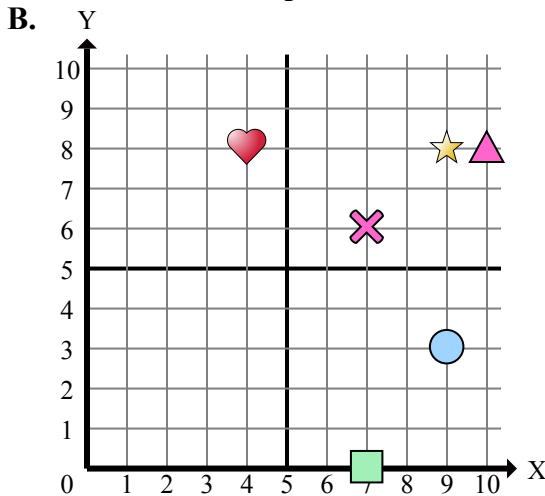
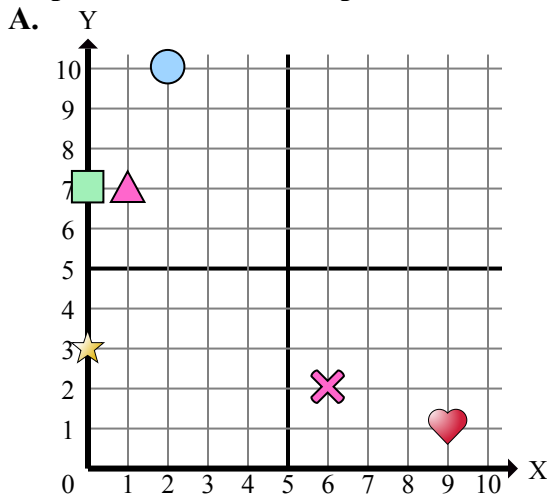
- 1) Какая координатная плоскость имеет фигуру в (9 , 8)?
- 2) Какая координатная плоскость имеет фигуру в (0 , 7)?
- 3) Какая координатная плоскость имеет фигуру в (3 , 0)?
- 4) Какая координатная плоскость имеет фигуру в (2 , 10)?
- 5) Какая координатная плоскость имеет фигуру в (9 , 3)?
- 6) Какая координатная плоскость имеет фигуру в (6 , 2)?
- 7) Какая координатная плоскость имеет фигуру в (10 , 0)?
- 8) Какая координатная плоскость имеет фигуру в (0 , 8)?
- 9) Какая координатная плоскость имеет фигуру в (10 , 10)?
- 10) Какая координатная плоскость имеет фигуру в (1 , 7)?
- 11) Какая координатная плоскость имеет фигуру в (10 , 8)?
- 12) Какая координатная плоскость имеет фигуру в (10 , 7)?
- 13) Какая координатная плоскость имеет фигуру в (0 , 3)?
- 14) Какая координатная плоскость имеет фигуру в (7 , 0)?
- 15) Какая координатная плоскость имеет фигуру в (4 , 8)?

**Ответы**

1. \_\_\_\_\_
2. \_\_\_\_\_
3. \_\_\_\_\_
4. \_\_\_\_\_
5. \_\_\_\_\_
6. \_\_\_\_\_
7. \_\_\_\_\_
8. \_\_\_\_\_
9. \_\_\_\_\_
10. \_\_\_\_\_
11. \_\_\_\_\_
12. \_\_\_\_\_
13. \_\_\_\_\_
14. \_\_\_\_\_
15. \_\_\_\_\_



Определите, какая координатная плоскость отвечает всем требованиям.



- 1) Какая координатная плоскость имеет фигуру в (9 , 8)?
- 2) Какая координатная плоскость имеет фигуру в (0 , 7)?
- 3) Какая координатная плоскость имеет фигуру в (3 , 0)?
- 4) Какая координатная плоскость имеет фигуру в (2 , 10)?
- 5) Какая координатная плоскость имеет фигуру в (9 , 3)?
- 6) Какая координатная плоскость имеет фигуру в (6 , 2)?
- 7) Какая координатная плоскость имеет фигуру в (10 , 0)?
- 8) Какая координатная плоскость имеет фигуру в (0 , 8)?
- 9) Какая координатная плоскость имеет фигуру в (10 , 10)?
- 10) Какая координатная плоскость имеет фигуру в (1 , 7)?
- 11) Какая координатная плоскость имеет фигуру в (10 , 8)?
- 12) Какая координатная плоскость имеет фигуру в (10 , 7)?
- 13) Какая координатная плоскость имеет фигуру в (0 , 3)?
- 14) Какая координатная плоскость имеет фигуру в (7 , 0)?
- 15) Какая координатная плоскость имеет фигуру в (4 , 8)?

**ОТВЕТЫ**

1.         **B**
2.         **A**
3.         **C**
4.         **A**
5.         **B**
6.         **A**
7.         **C**
8.         **D**
9.         **C**
10.         **A**
11.         **B**
12.         **C**
13.         **A**
14.         **B**
15.         **B**