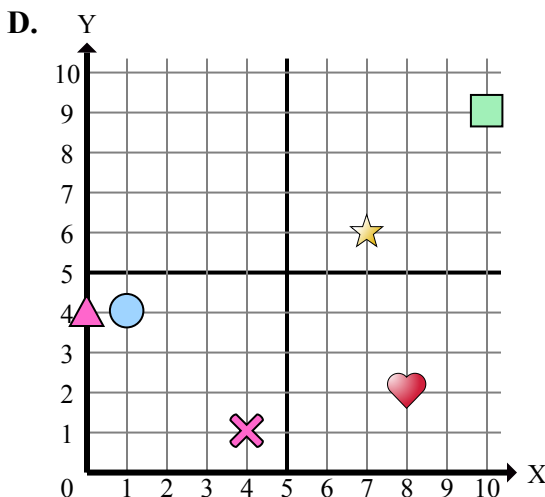
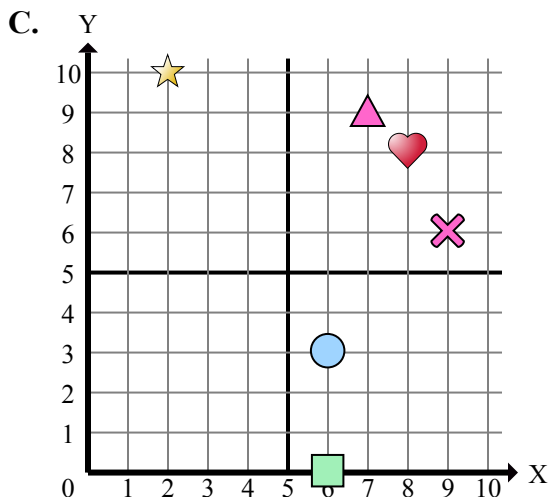
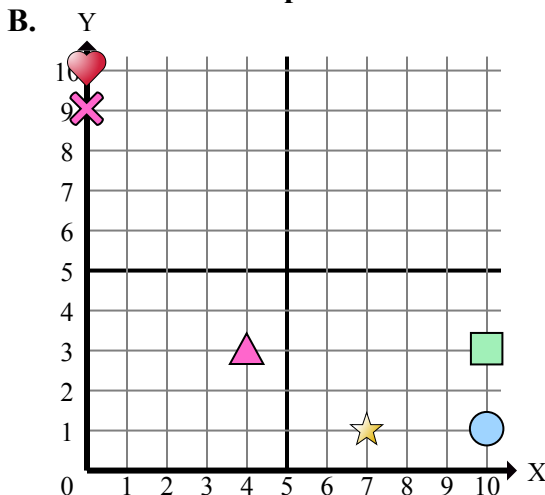
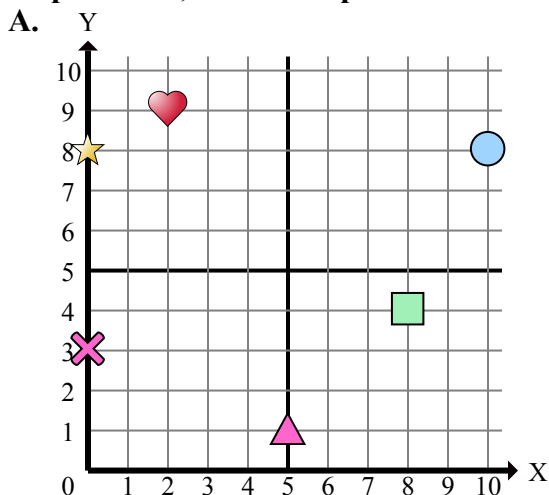




Определите, какая координатная плоскость отвечает всем требованиям.



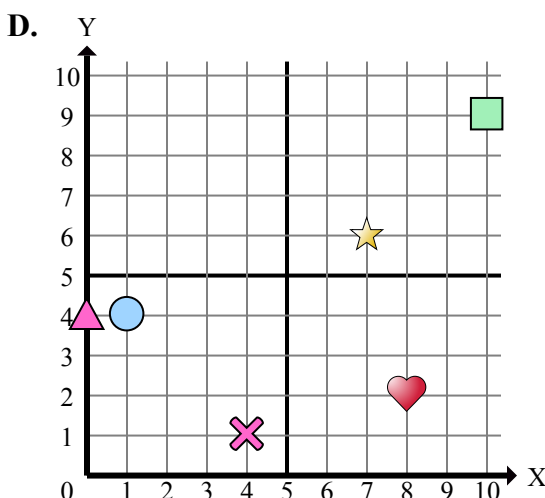
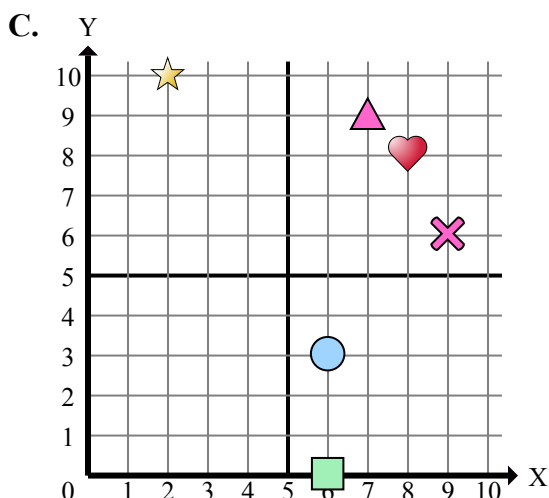
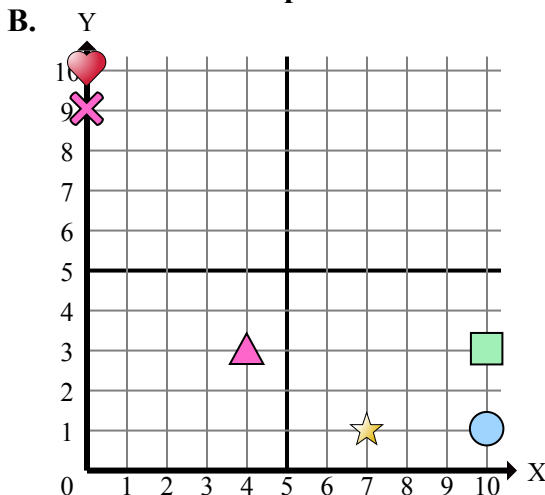
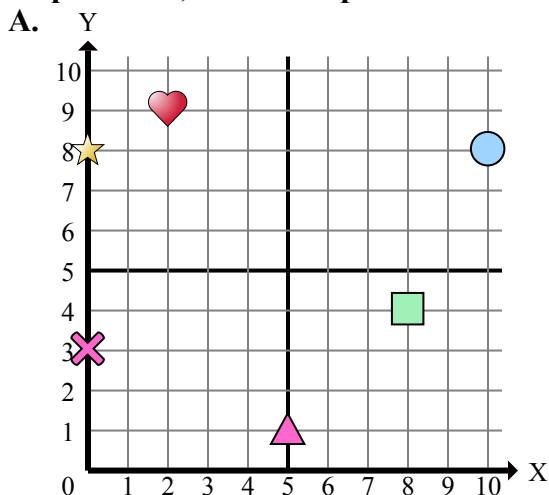
Ответы

1. _____
2. _____
3. _____
4. _____
5. _____
6. _____
7. _____
8. _____
9. _____
10. _____
11. _____
12. _____
13. _____
14. _____
15. _____

- 1) Какая координатная плоскость имеет фигуру в (7 , 6)?
- 2) Какая координатная плоскость имеет фигуру в (8 , 4)?
- 3) Какая координатная плоскость имеет фигуру в (0 , 10)?
- 4) Какая координатная плоскость имеет фигуру в (6 , 3)?
- 5) Какая координатная плоскость имеет фигуру в (2 , 9)?
- 6) Какая координатная плоскость имеет фигуру в (8 , 2)?
- 7) Какая координатная плоскость имеет фигуру в (0 , 4)?
- 8) Какая координатная плоскость имеет фигуру в (1 , 4)?
- 9) Какая координатная плоскость имеет фигуру в (0 , 8)?
- 10) Какая координатная плоскость имеет фигуру в (4 , 3)?
- 11) Какая координатная плоскость имеет фигуру в (0 , 3)?
- 12) Какая координатная плоскость имеет фигуру в (6 , 0)?
- 13) Какая координатная плоскость имеет фигуру в (7 , 1)?
- 14) Какая координатная плоскость имеет фигуру в (2 , 10)?
- 15) Какая координатная плоскость имеет фигуру в (10 , 9)?



Определите, какая координатная плоскость отвечает всем требованиям.



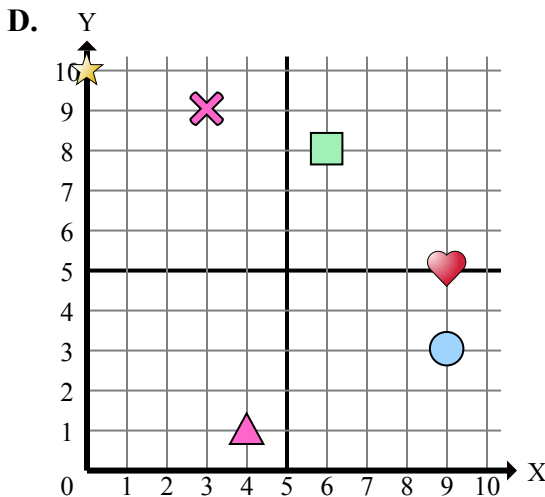
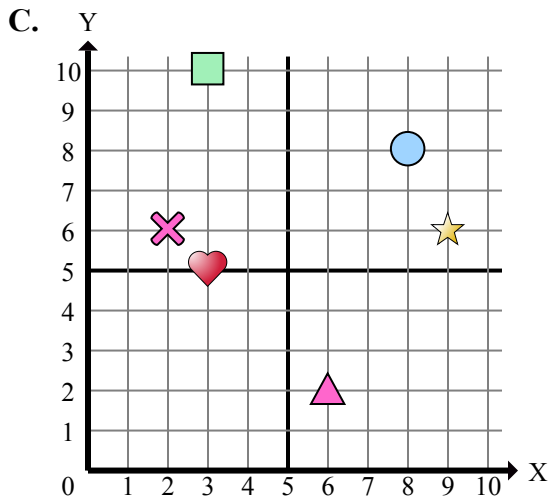
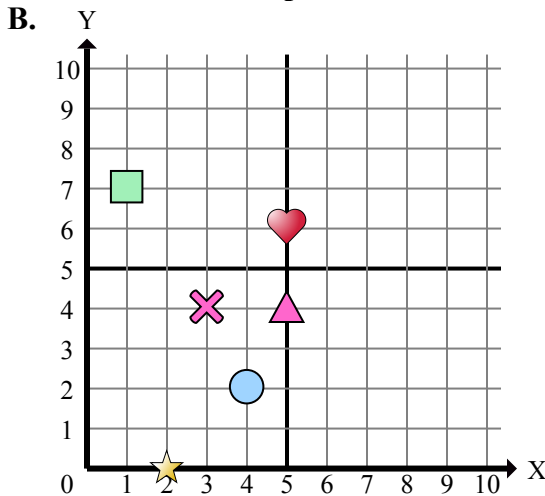
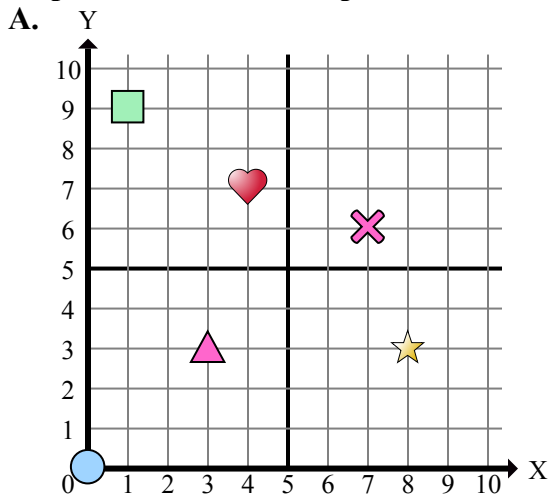
- 1) Какая координатная плоскость имеет фигуру в (7 , 6)?
- 2) Какая координатная плоскость имеет фигуру в (8 , 4)?
- 3) Какая координатная плоскость имеет фигуру в (0 , 10)?
- 4) Какая координатная плоскость имеет фигуру в (6 , 3)?
- 5) Какая координатная плоскость имеет фигуру в (2 , 9)?
- 6) Какая координатная плоскость имеет фигуру в (8 , 2)?
- 7) Какая координатная плоскость имеет фигуру в (0 , 4)?
- 8) Какая координатная плоскость имеет фигуру в (1 , 4)?
- 9) Какая координатная плоскость имеет фигуру в (0 , 8)?
- 10) Какая координатная плоскость имеет фигуру в (4 , 3)?
- 11) Какая координатная плоскость имеет фигуру в (0 , 3)?
- 12) Какая координатная плоскость имеет фигуру в (6 , 0)?
- 13) Какая координатная плоскость имеет фигуру в (7 , 1)?
- 14) Какая координатная плоскость имеет фигуру в (2 , 10)?
- 15) Какая координатная плоскость имеет фигуру в (10 , 9)?

ОТВЕТЫ

1. **D**
2. **A**
3. **B**
4. **C**
5. **A**
6. **D**
7. **D**
8. **D**
9. **A**
10. **B**
11. **A**
12. **C**
13. **B**
14. **C**
15. **D**



Определите, какая координатная плоскость отвечает всем требованиям.



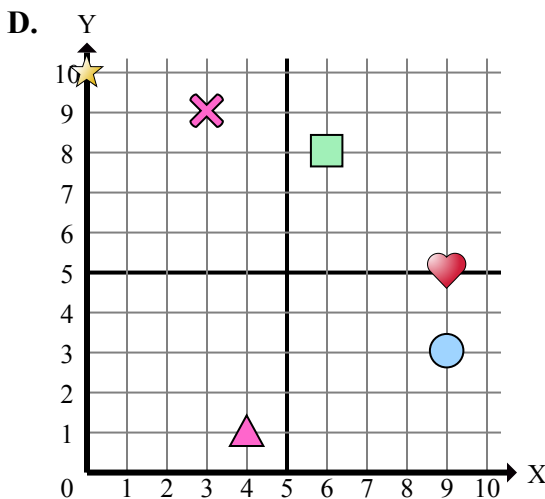
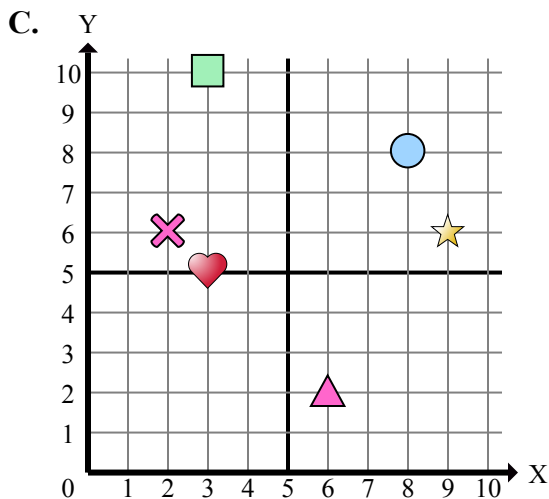
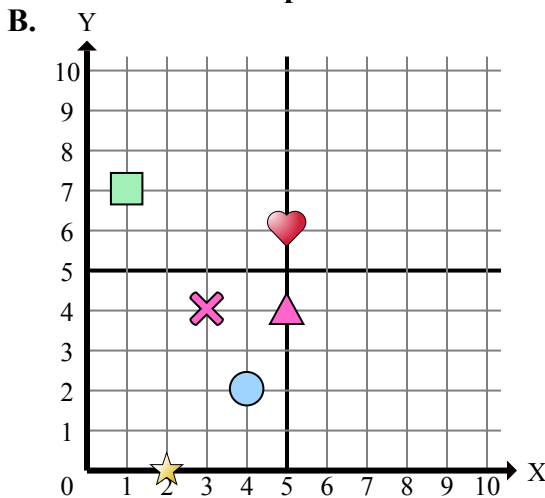
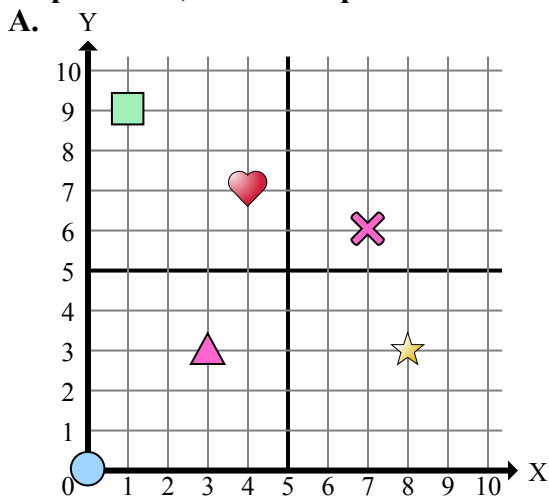
Отвeты

1. _____
2. _____
3. _____
4. _____
5. _____
6. _____
7. _____
8. _____
9. _____
10. _____
11. _____
12. _____
13. _____
14. _____
15. _____

- 1) Какая координатная плоскость имеет фигуру в (5 , 4)?
- 2) Какая координатная плоскость имеет фигуру в (3 , 10)?
- 3) Какая координатная плоскость имеет фигуру в (2 , 0)?
- 4) Какая координатная плоскость имеет фигуру в (8 , 8)?
- 5) Какая координатная плоскость имеет фигуру в (9 , 6)?
- 6) Какая координатная плоскость имеет фигуру в (0 , 10)?
- 7) Какая координатная плоскость имеет фигуру в (3 , 4)?
- 8) Какая координатная плоскость имеет фигуру в (3 , 5)?
- 9) Какая координатная плоскость имеет фигуру в (7 , 6)?
- 10) Какая координатная плоскость имеет фигуру в (4 , 7)?
- 11) Какая координатная плоскость имеет фигуру в (6 , 8)?
- 12) Какая координатная плоскость имеет фигуру в (3 , 3)?
- 13) Какая координатная плоскость имеет фигуру в (4 , 1)?
- 14) Какая координатная плоскость имеет фигуру в (6 , 2)?
- 15) Какая координатная плоскость имеет фигуру в (0 , 0)?



Определите, какая координатная плоскость отвечает всем требованиям.



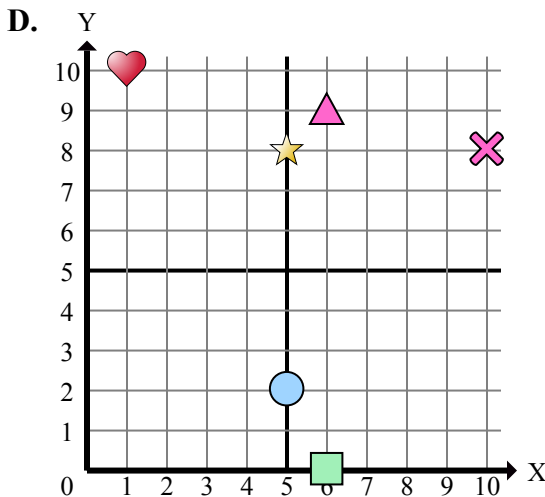
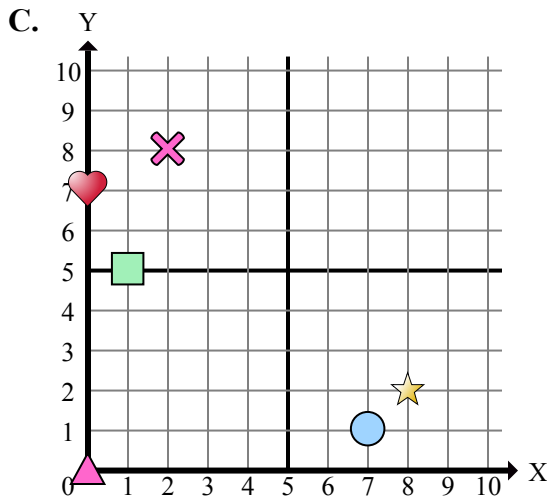
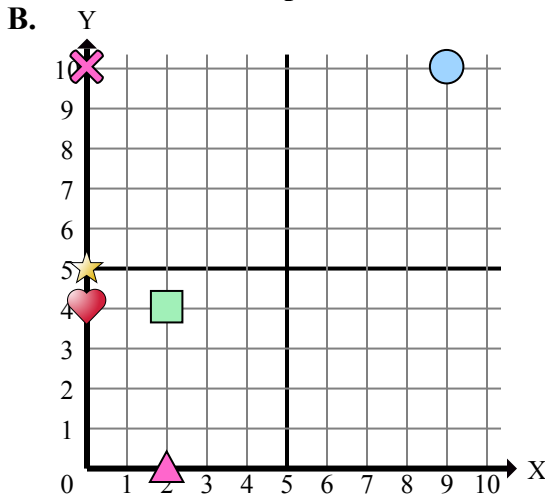
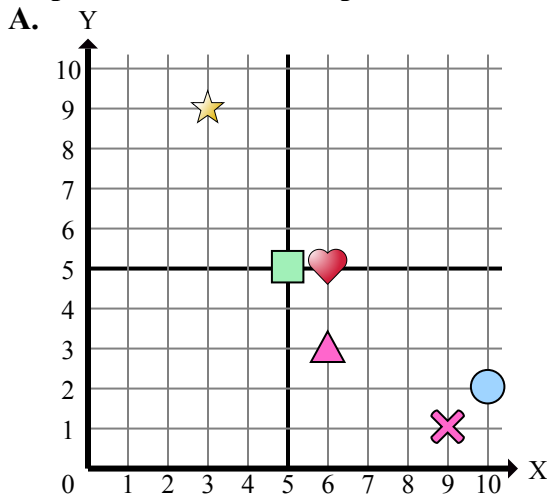
- 1) Какая координатная плоскость имеет фигуру в (5 , 4)?
- 2) Какая координатная плоскость имеет фигуру в (3 , 10)?
- 3) Какая координатная плоскость имеет фигуру в (2 , 0)?
- 4) Какая координатная плоскость имеет фигуру в (8 , 8)?
- 5) Какая координатная плоскость имеет фигуру в (9 , 6)?
- 6) Какая координатная плоскость имеет фигуру в (0 , 10)?
- 7) Какая координатная плоскость имеет фигуру в (3 , 4)?
- 8) Какая координатная плоскость имеет фигуру в (3 , 5)?
- 9) Какая координатная плоскость имеет фигуру в (7 , 6)?
- 10) Какая координатная плоскость имеет фигуру в (4 , 7)?
- 11) Какая координатная плоскость имеет фигуру в (6 , 8)?
- 12) Какая координатная плоскость имеет фигуру в (3 , 3)?
- 13) Какая координатная плоскость имеет фигуру в (4 , 1)?
- 14) Какая координатная плоскость имеет фигуру в (6 , 2)?
- 15) Какая координатная плоскость имеет фигуру в (0 , 0)?

ОТВЕТЫ

1. **B**
2. **C**
3. **B**
4. **C**
5. **C**
6. **D**
7. **B**
8. **C**
9. **A**
10. **A**
11. **D**
12. **A**
13. **D**
14. **C**
15. **A**



Определите, какая координатная плоскость отвечает всем требованиям.



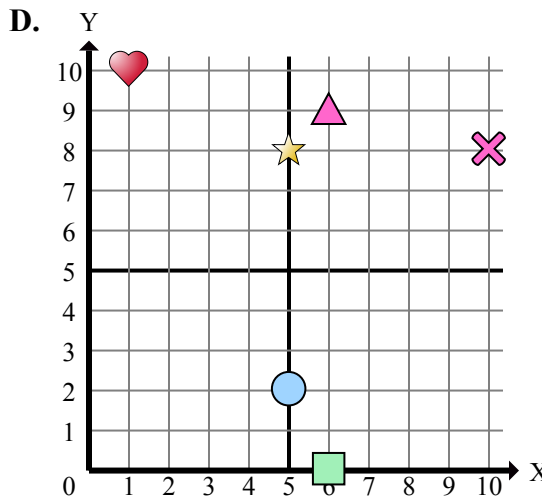
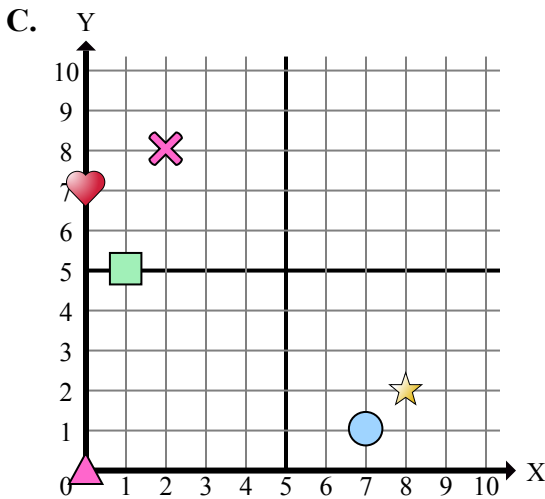
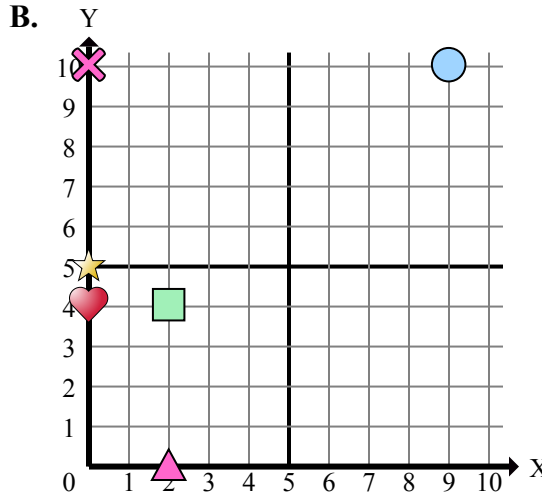
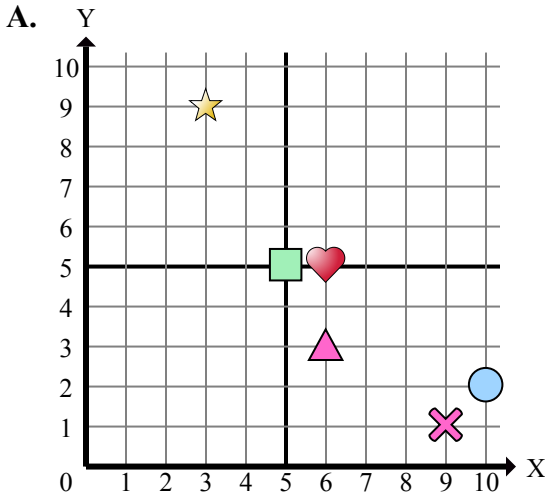
Ответы

1. _____
2. _____
3. _____
4. _____
5. _____
6. _____
7. _____
8. _____
9. _____
10. _____
11. _____
12. _____
13. _____
14. _____
15. _____

- 1) Какая координатная плоскость имеет фигуру в (0 , 5)?
- 2) Какая координатная плоскость имеет фигуру в (2 , 0)?
- 3) Какая координатная плоскость имеет фигуру в (5 , 5)?
- 4) Какая координатная плоскость имеет фигуру в (3 , 9)?
- 5) Какая координатная плоскость имеет фигуру в (0 , 7)?
- 6) Какая координатная плоскость имеет фигуру в (6 , 9)?
- 7) Какая координатная плоскость имеет фигуру в (6 , 5)?
- 8) Какая координатная плоскость имеет фигуру в (8 , 2)?
- 9) Какая координатная плоскость имеет фигуру в (5 , 8)?
- 10) Какая координатная плоскость имеет фигуру в (9 , 10)?
- 11) Какая координатная плоскость имеет фигуру в (0 , 0)?
- 12) Какая координатная плоскость имеет фигуру в (2 , 4)?
- 13) Какая координатная плоскость имеет фигуру в (0 , 10)?
- 14) Какая координатная плоскость имеет фигуру в (6 , 0)?
- 15) Какая координатная плоскость имеет фигуру в (10 , 8)?



Определите, какая координатная плоскость отвечает всем требованиям.



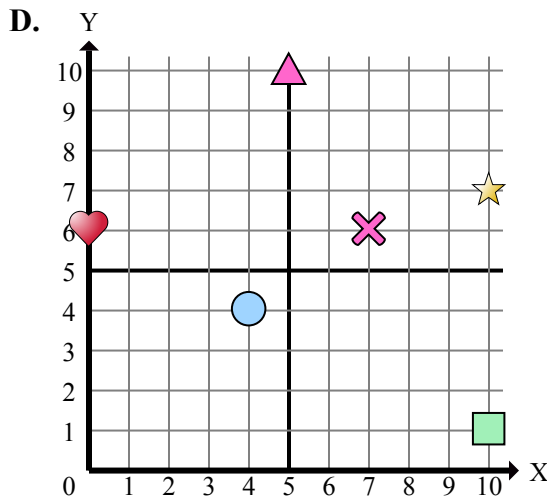
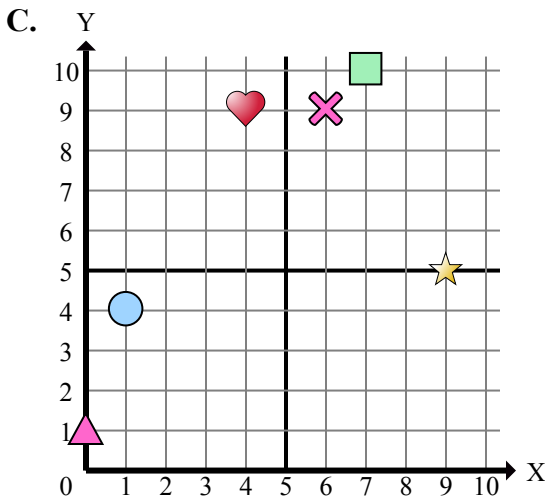
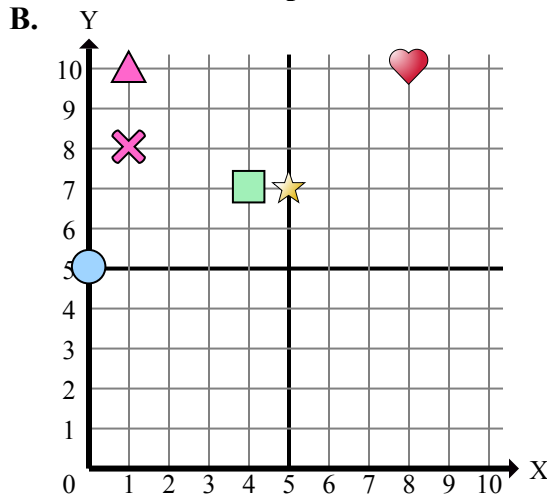
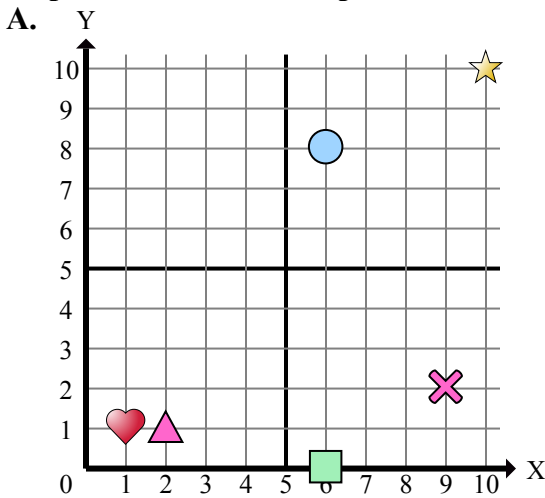
- 1) Какая координатная плоскость имеет фигуру в (0 , 5)?
- 2) Какая координатная плоскость имеет фигуру в (2 , 0)?
- 3) Какая координатная плоскость имеет фигуру в (5 , 5)?
- 4) Какая координатная плоскость имеет фигуру в (3 , 9)?
- 5) Какая координатная плоскость имеет фигуру в (0 , 7)?
- 6) Какая координатная плоскость имеет фигуру в (6 , 9)?
- 7) Какая координатная плоскость имеет фигуру в (6 , 5)?
- 8) Какая координатная плоскость имеет фигуру в (8 , 2)?
- 9) Какая координатная плоскость имеет фигуру в (5 , 8)?
- 10) Какая координатная плоскость имеет фигуру в (9 , 10)?
- 11) Какая координатная плоскость имеет фигуру в (0 , 0)?
- 12) Какая координатная плоскость имеет фигуру в (2 , 4)?
- 13) Какая координатная плоскость имеет фигуру в (0 , 10)?
- 14) Какая координатная плоскость имеет фигуру в (6 , 0)?
- 15) Какая координатная плоскость имеет фигуру в (10 , 8)?

ОТВЕТЫ

1. **B**
2. **B**
3. **A**
4. **A**
5. **C**
6. **D**
7. **A**
8. **C**
9. **D**
10. **B**
11. **C**
12. **B**
13. **B**
14. **D**
15. **D**



Определите, какая координатная плоскость отвечает всем требованиям.



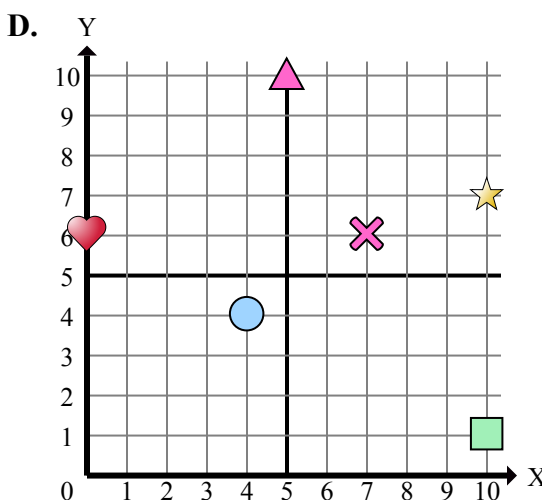
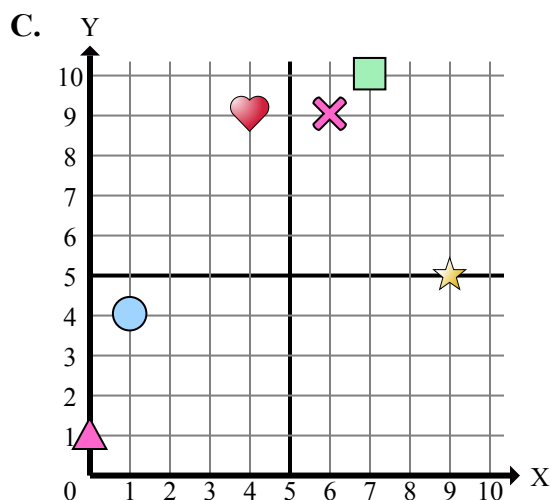
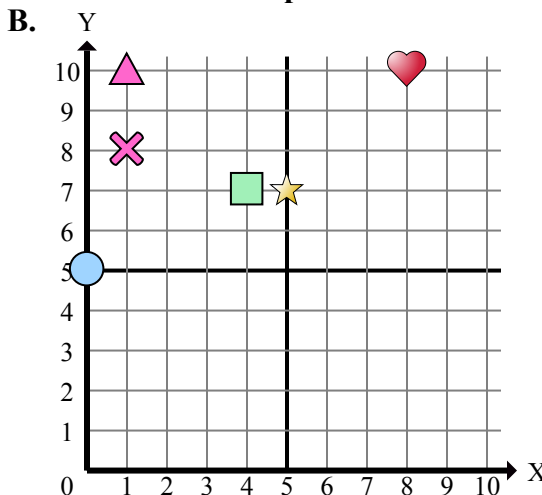
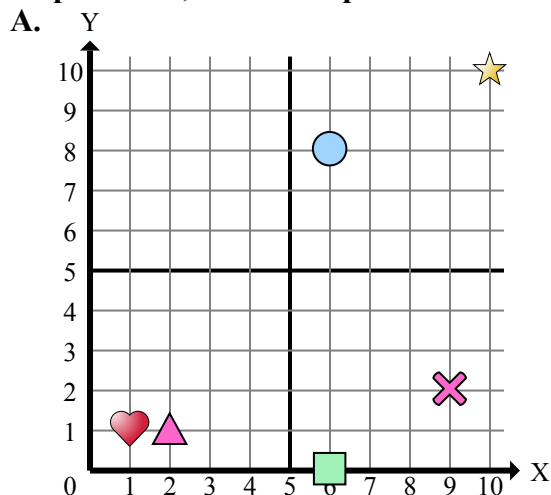
- 1) Какая координатная плоскость имеет фигуру в (6 , 8)?
- 2) Какая координатная плоскость имеет фигуру в (9 , 5)?
- 3) Какая координатная плоскость имеет фигуру в (4 , 4)?
- 4) Какая координатная плоскость имеет фигуру в (1 , 8)?
- 5) Какая координатная плоскость имеет фигуру в (10 , 7)?
- 6) Какая координатная плоскость имеет фигуру в (0 , 5)?
- 7) Какая координатная плоскость имеет фигуру в (0 , 1)?
- 8) Какая координатная плоскость имеет фигуру в (5 , 10)?
- 9) Какая координатная плоскость имеет фигуру в (8 , 10)?
- 10) Какая координатная плоскость имеет фигуру в (2 , 1)?
- 11) Какая координатная плоскость имеет фигуру в (10 , 10)?
- 12) Какая координатная плоскость имеет фигуру в (4 , 7)?
- 13) Какая координатная плоскость имеет фигуру в (1 , 4)?
- 14) Какая координатная плоскость имеет фигуру в (9 , 2)?
- 15) Какая координатная плоскость имеет фигуру в (1 , 10)?

Ответы

1. _____
2. _____
3. _____
4. _____
5. _____
6. _____
7. _____
8. _____
9. _____
10. _____
11. _____
12. _____
13. _____
14. _____
15. _____



Определите, какая координатная плоскость отвечает всем требованиям.



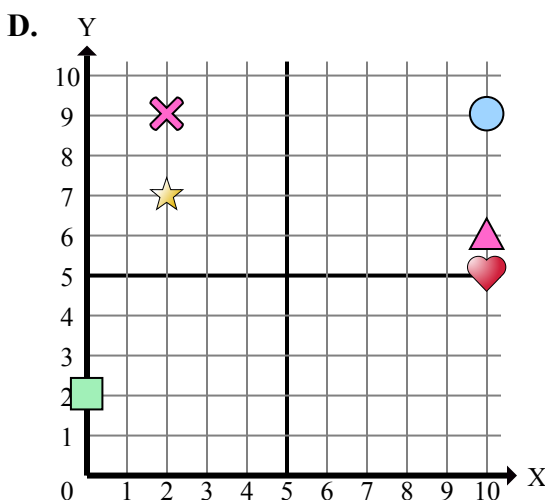
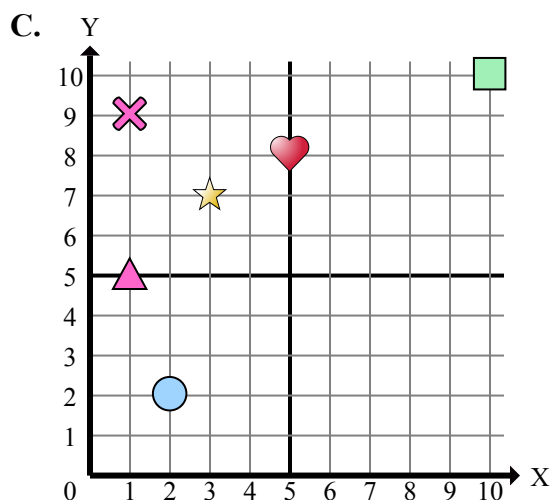
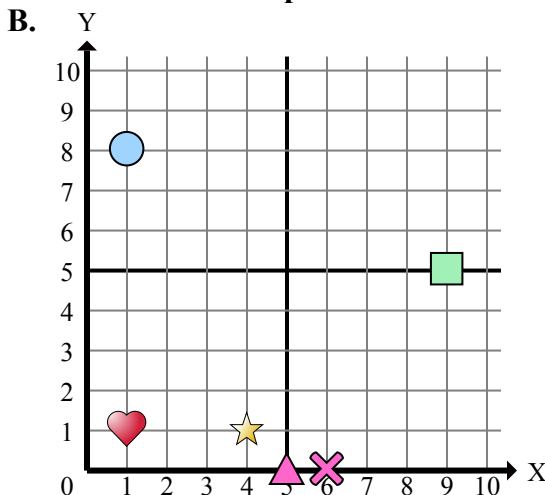
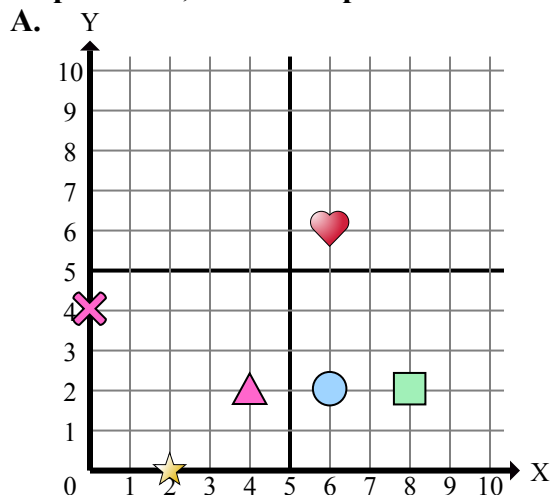
- 1) Какая координатная плоскость имеет фигуру в (6 , 8)?
- 2) Какая координатная плоскость имеет фигуру в (9 , 5)?
- 3) Какая координатная плоскость имеет фигуру в (4 , 4)?
- 4) Какая координатная плоскость имеет фигуру в (1 , 8)?
- 5) Какая координатная плоскость имеет фигуру в (10 , 7)?
- 6) Какая координатная плоскость имеет фигуру в (0 , 5)?
- 7) Какая координатная плоскость имеет фигуру в (0 , 1)?
- 8) Какая координатная плоскость имеет фигуру в (5 , 10)?
- 9) Какая координатная плоскость имеет фигуру в (8 , 10)?
- 10) Какая координатная плоскость имеет фигуру в (2 , 1)?
- 11) Какая координатная плоскость имеет фигуру в (10 , 10)?
- 12) Какая координатная плоскость имеет фигуру в (4 , 7)?
- 13) Какая координатная плоскость имеет фигуру в (1 , 4)?
- 14) Какая координатная плоскость имеет фигуру в (9 , 2)?
- 15) Какая координатная плоскость имеет фигуру в (1 , 10)?

Ответы

1. **A**
2. **C**
3. **D**
4. **B**
5. **D**
6. **B**
7. **C**
8. **D**
9. **B**
10. **A**
11. **A**
12. **B**
13. **C**
14. **A**
15. **B**



Определите, какая координатная плоскость отвечает всем требованиям.



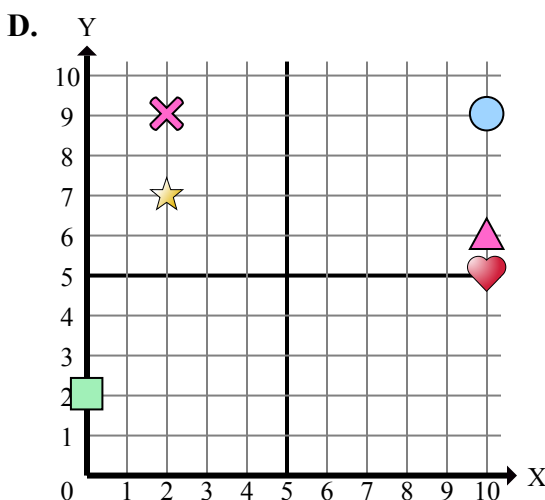
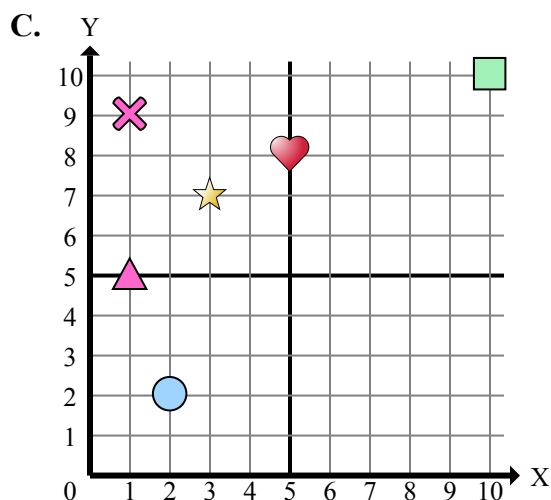
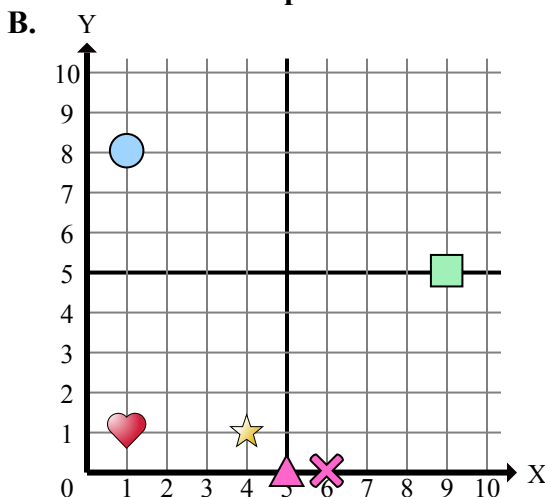
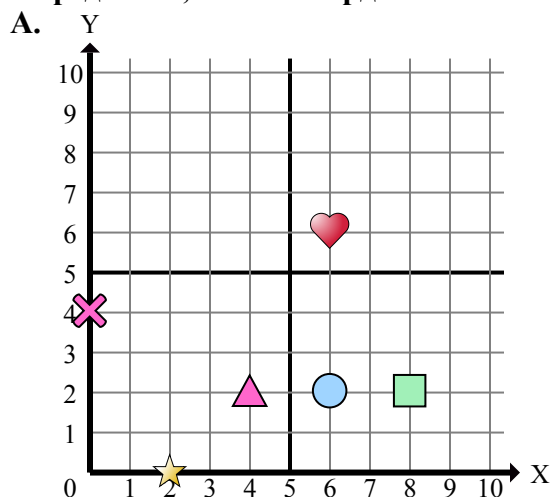
Отвeты

1. _____
2. _____
3. _____
4. _____
5. _____
6. _____
7. _____
8. _____
9. _____
10. _____
11. _____
12. _____
13. _____
14. _____
15. _____

- 1) Какая координатная плоскость имеет фигуру в (1 , 8)?
- 2) Какая координатная плоскость имеет фигуру в (0 , 4)?
- 3) Какая координатная плоскость имеет фигуру в (1 , 1)?
- 4) Какая координатная плоскость имеет фигуру в (6 , 0)?
- 5) Какая координатная плоскость имеет фигуру в (10 , 5)?
- 6) Какая координатная плоскость имеет фигуру в (9 , 5)?
- 7) Какая координатная плоскость имеет фигуру в (2 , 0)?
- 8) Какая координатная плоскость имеет фигуру в (6 , 2)?
- 9) Какая координатная плоскость имеет фигуру в (4 , 2)?
- 10) Какая координатная плоскость имеет фигуру в (10 , 10)?
- 11) Какая координатная плоскость имеет фигуру в (8 , 2)?
- 12) Какая координатная плоскость имеет фигуру в (2 , 7)?
- 13) Какая координатная плоскость имеет фигуру в (1 , 5)?
- 14) Какая координатная плоскость имеет фигуру в (6 , 6)?
- 15) Какая координатная плоскость имеет фигуру в (3 , 7)?



Определите, какая координатная плоскость отвечает всем требованиям.



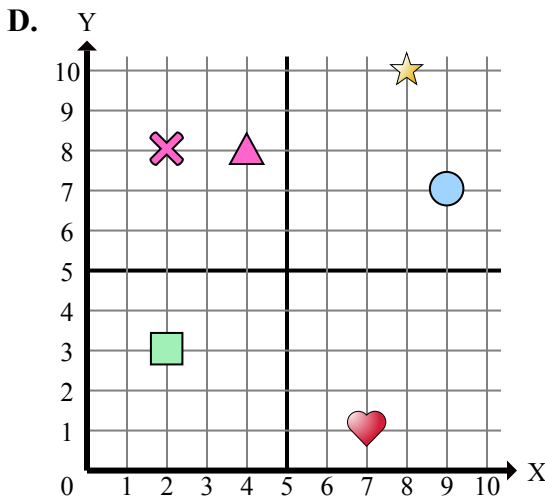
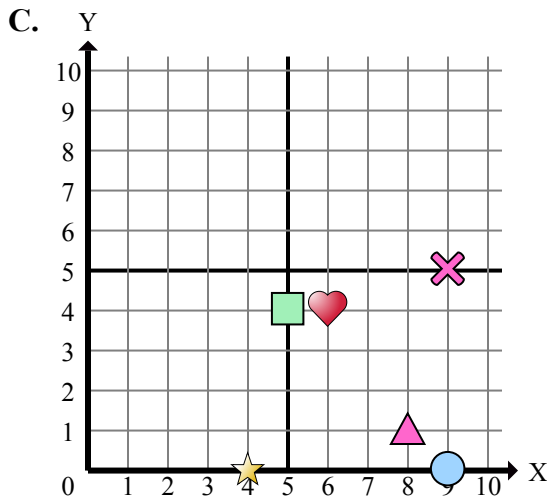
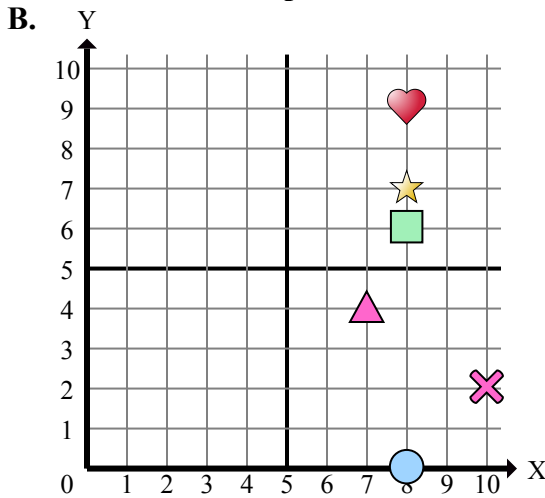
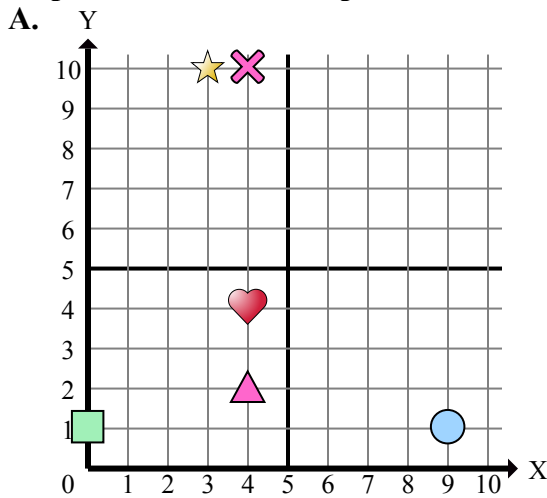
- 1) Какая координатная плоскость имеет фигуру в (1 , 8)?
- 2) Какая координатная плоскость имеет фигуру в (0 , 4)?
- 3) Какая координатная плоскость имеет фигуру в (1 , 1)?
- 4) Какая координатная плоскость имеет фигуру в (6 , 0)?
- 5) Какая координатная плоскость имеет фигуру в (10 , 5)?
- 6) Какая координатная плоскость имеет фигуру в (9 , 5)?
- 7) Какая координатная плоскость имеет фигуру в (2 , 0)?
- 8) Какая координатная плоскость имеет фигуру в (6 , 2)?
- 9) Какая координатная плоскость имеет фигуру в (4 , 2)?
- 10) Какая координатная плоскость имеет фигуру в (10 , 10)?
- 11) Какая координатная плоскость имеет фигуру в (8 , 2)?
- 12) Какая координатная плоскость имеет фигуру в (2 , 7)?
- 13) Какая координатная плоскость имеет фигуру в (1 , 5)?
- 14) Какая координатная плоскость имеет фигуру в (6 , 6)?
- 15) Какая координатная плоскость имеет фигуру в (3 , 7)?

ОТВЕТЫ

1. **B**
2. **A**
3. **B**
4. **B**
5. **D**
6. **B**
7. **A**
8. **A**
9. **A**
10. **C**
11. **A**
12. **D**
13. **C**
14. **A**
15. **C**



Определите, какая координатная плоскость отвечает всем требованиям.



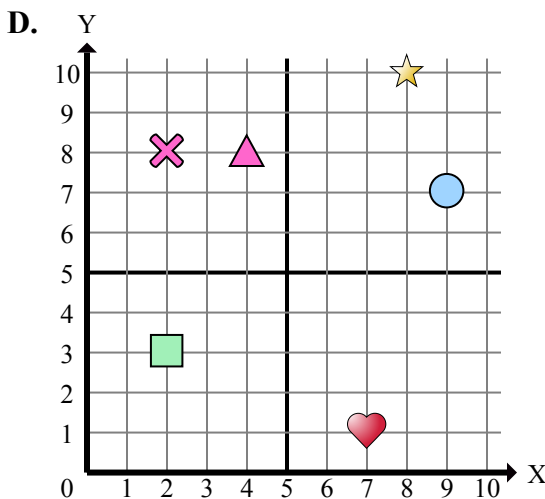
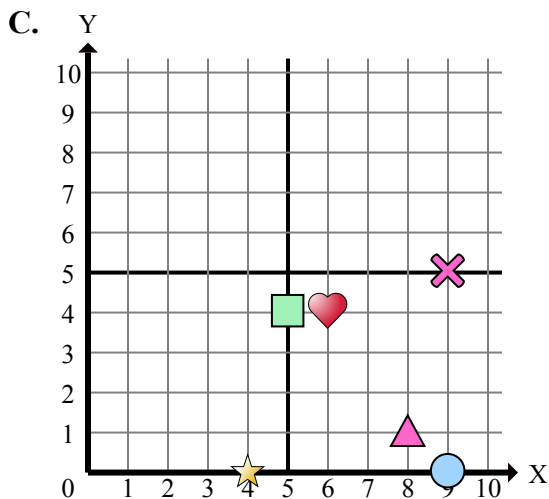
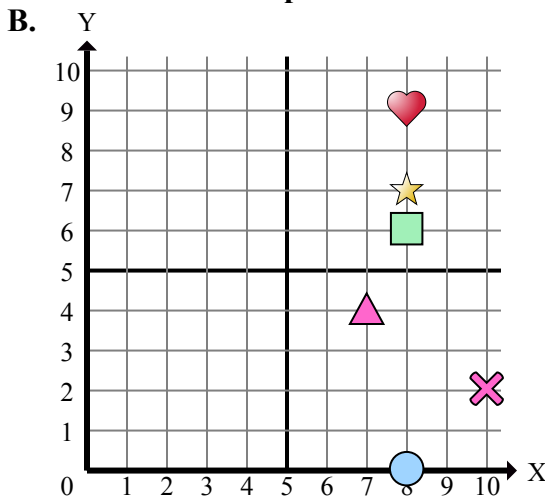
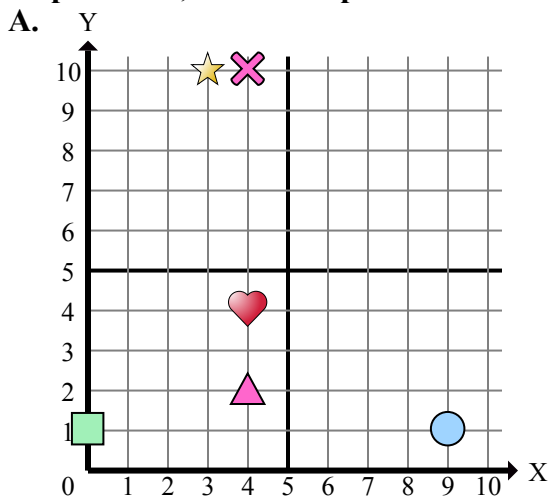
Ответы

1. _____
2. _____
3. _____
4. _____
5. _____
6. _____
7. _____
8. _____
9. _____
10. _____
11. _____
12. _____
13. _____
14. _____
15. _____

- 1) Какая координатная плоскость имеет фигуру в $(4, 0)$?
- 2) Какая координатная плоскость имеет фигуру в $(3, 10)$?
- 3) Какая координатная плоскость имеет фигуру в $(4, 8)$?
- 4) Какая координатная плоскость имеет фигуру в $(4, 4)$?
- 5) Какая координатная плоскость имеет фигуру в $(10, 2)$?
- 6) Какая координатная плоскость имеет фигуру в $(8, 6)$?
- 7) Какая координатная плоскость имеет фигуру в $(4, 2)$?
- 8) Какая координатная плоскость имеет фигуру в $(4, 10)$?
- 9) Какая координатная плоскость имеет фигуру в $(8, 0)$?
- 10) Какая координатная плоскость имеет фигуру в $(8, 1)$?
- 11) Какая координатная плоскость имеет фигуру в $(2, 3)$?
- 12) Какая координатная плоскость имеет фигуру в $(8, 10)$?
- 13) Какая координатная плоскость имеет фигуру в $(6, 4)$?
- 14) Какая координатная плоскость имеет фигуру в $(9, 0)$?
- 15) Какая координатная плоскость имеет фигуру в $(9, 7)$?



Определите, какая координатная плоскость отвечает всем требованиям.



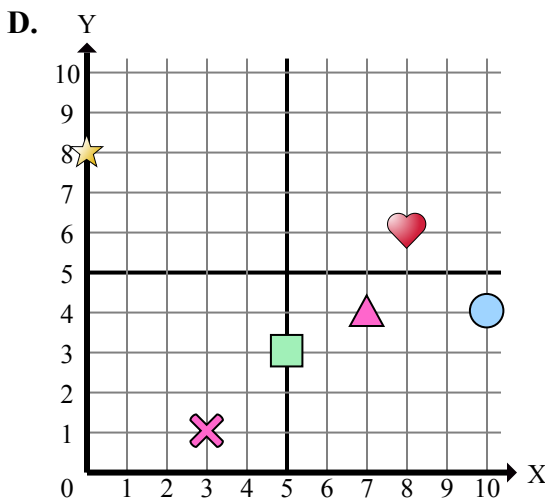
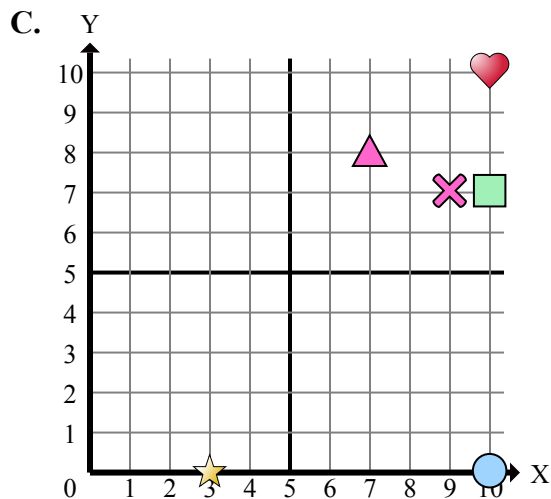
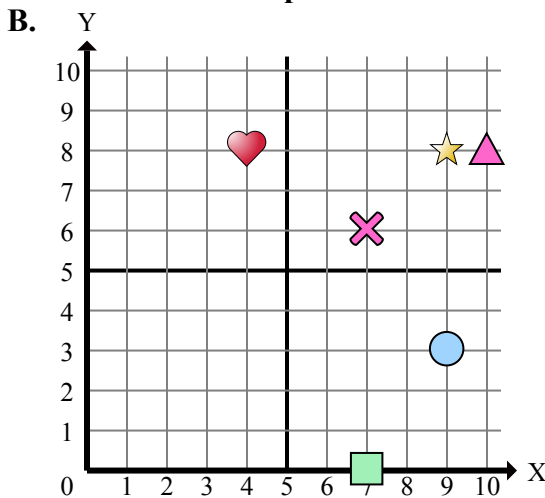
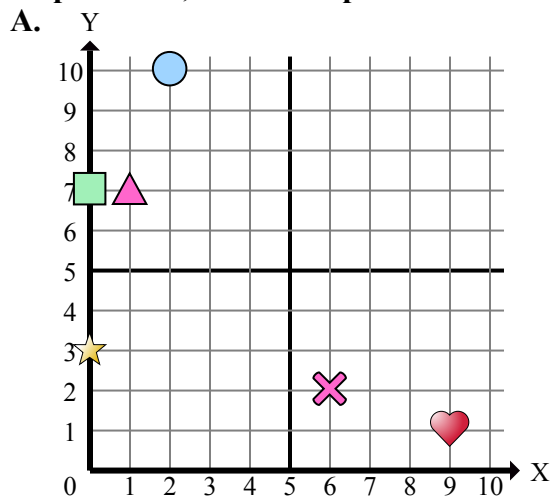
- 1) Какая координатная плоскость имеет фигуру в $(4, 0)$?
- 2) Какая координатная плоскость имеет фигуру в $(3, 10)$?
- 3) Какая координатная плоскость имеет фигуру в $(4, 8)$?
- 4) Какая координатная плоскость имеет фигуру в $(4, 4)$?
- 5) Какая координатная плоскость имеет фигуру в $(10, 2)$?
- 6) Какая координатная плоскость имеет фигуру в $(8, 6)$?
- 7) Какая координатная плоскость имеет фигуру в $(4, 2)$?
- 8) Какая координатная плоскость имеет фигуру в $(4, 10)$?
- 9) Какая координатная плоскость имеет фигуру в $(8, 0)$?
- 10) Какая координатная плоскость имеет фигуру в $(8, 1)$?
- 11) Какая координатная плоскость имеет фигуру в $(2, 3)$?
- 12) Какая координатная плоскость имеет фигуру в $(8, 10)$?
- 13) Какая координатная плоскость имеет фигуру в $(6, 4)$?
- 14) Какая координатная плоскость имеет фигуру в $(9, 0)$?
- 15) Какая координатная плоскость имеет фигуру в $(9, 7)$?

ОТВЕТЫ

1. C
2. A
3. D
4. A
5. B
6. B
7. A
8. A
9. B
10. C
11. D
12. D
13. C
14. C
15. D



Определите, какая координатная плоскость отвечает всем требованиям.



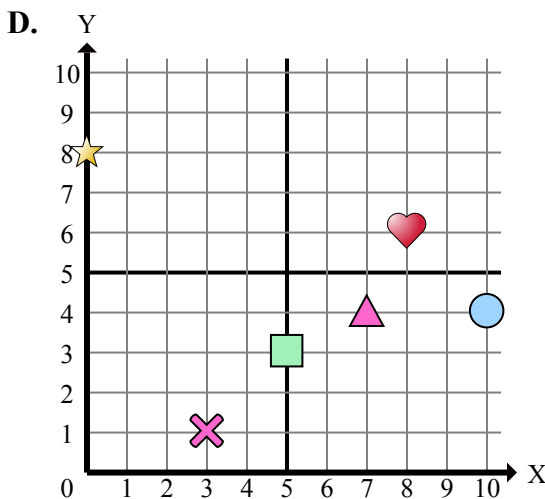
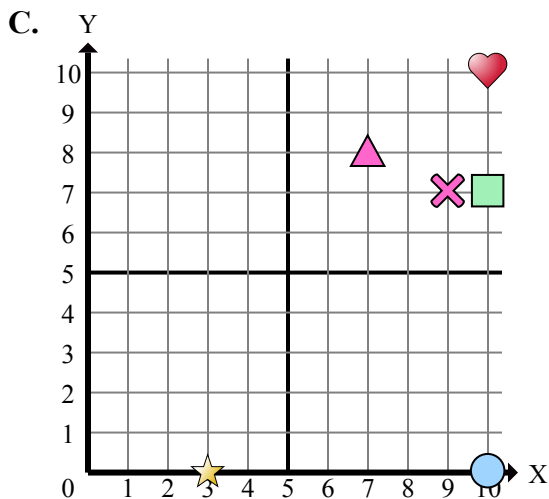
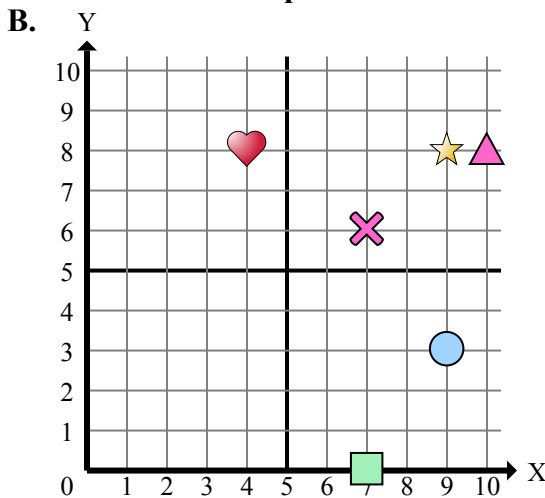
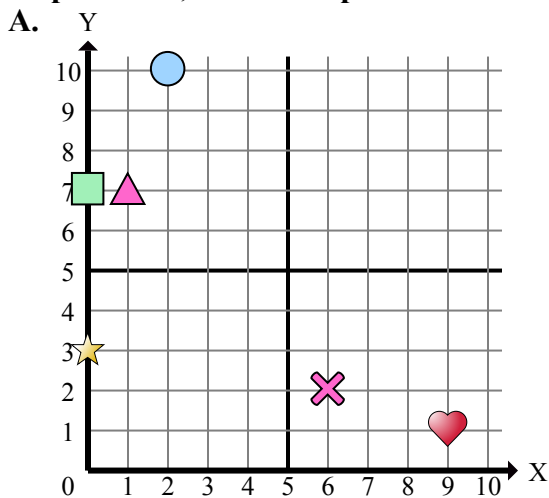
- 1) Какая координатная плоскость имеет фигуру в (9 , 8)?
- 2) Какая координатная плоскость имеет фигуру в (0 , 7)?
- 3) Какая координатная плоскость имеет фигуру в (3 , 0)?
- 4) Какая координатная плоскость имеет фигуру в (2 , 10)?
- 5) Какая координатная плоскость имеет фигуру в (9 , 3)?
- 6) Какая координатная плоскость имеет фигуру в (6 , 2)?
- 7) Какая координатная плоскость имеет фигуру в (10 , 0)?
- 8) Какая координатная плоскость имеет фигуру в (0 , 8)?
- 9) Какая координатная плоскость имеет фигуру в (10 , 10)?
- 10) Какая координатная плоскость имеет фигуру в (1 , 7)?
- 11) Какая координатная плоскость имеет фигуру в (10 , 8)?
- 12) Какая координатная плоскость имеет фигуру в (10 , 7)?
- 13) Какая координатная плоскость имеет фигуру в (0 , 3)?
- 14) Какая координатная плоскость имеет фигуру в (7 , 0)?
- 15) Какая координатная плоскость имеет фигуру в (4 , 8)?

Ответы

1. _____
2. _____
3. _____
4. _____
5. _____
6. _____
7. _____
8. _____
9. _____
10. _____
11. _____
12. _____
13. _____
14. _____
15. _____



Определите, какая координатная плоскость отвечает всем требованиям.



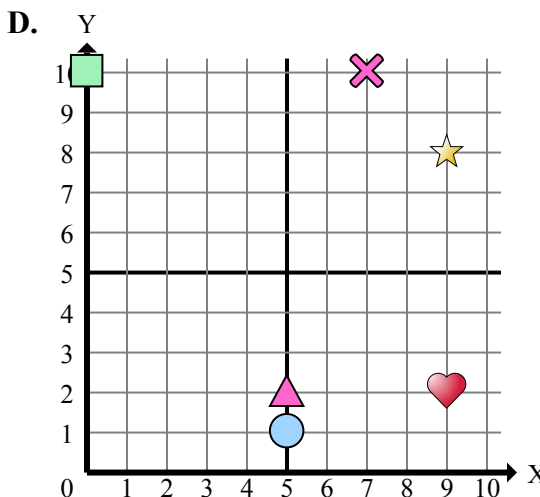
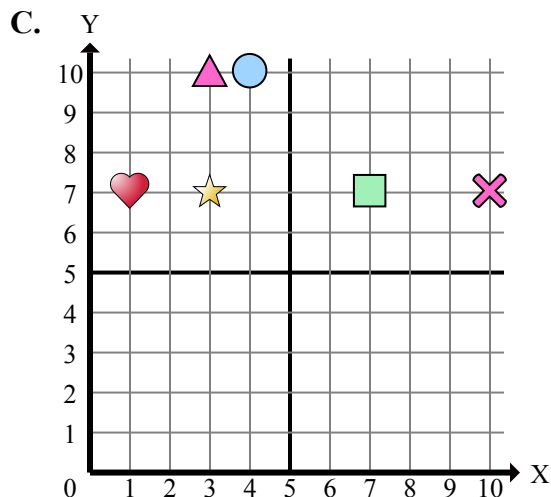
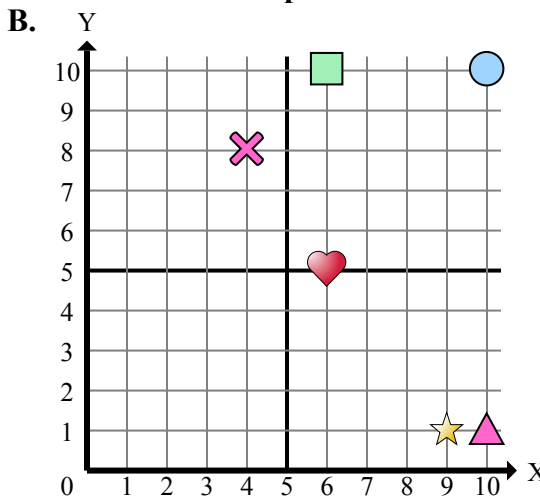
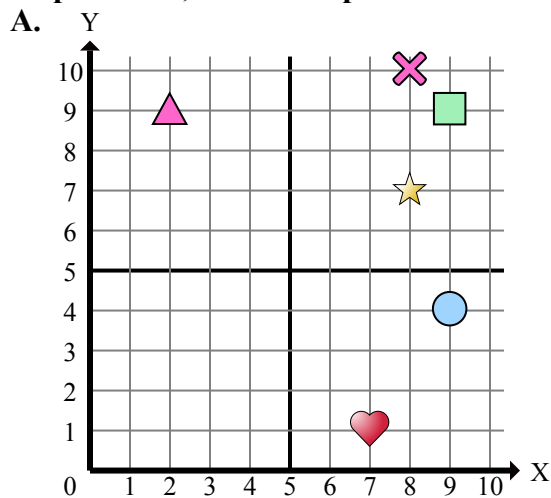
- 1) Какая координатная плоскость имеет фигуру в (9 , 8)?
- 2) Какая координатная плоскость имеет фигуру в (0 , 7)?
- 3) Какая координатная плоскость имеет фигуру в (3 , 0)?
- 4) Какая координатная плоскость имеет фигуру в (2 , 10)?
- 5) Какая координатная плоскость имеет фигуру в (9 , 3)?
- 6) Какая координатная плоскость имеет фигуру в (6 , 2)?
- 7) Какая координатная плоскость имеет фигуру в (10 , 0)?
- 8) Какая координатная плоскость имеет фигуру в (0 , 8)?
- 9) Какая координатная плоскость имеет фигуру в (10 , 10)?
- 10) Какая координатная плоскость имеет фигуру в (1 , 7)?
- 11) Какая координатная плоскость имеет фигуру в (10 , 8)?
- 12) Какая координатная плоскость имеет фигуру в (10 , 7)?
- 13) Какая координатная плоскость имеет фигуру в (0 , 3)?
- 14) Какая координатная плоскость имеет фигуру в (7 , 0)?
- 15) Какая координатная плоскость имеет фигуру в (4 , 8)?

ОТВЕТЫ

1. **B**
2. **A**
3. **C**
4. **A**
5. **B**
6. **A**
7. **C**
8. **D**
9. **C**
10. **A**
11. **B**
12. **C**
13. **A**
14. **B**
15. **B**



Определите, какая координатная плоскость отвечает всем требованиям.



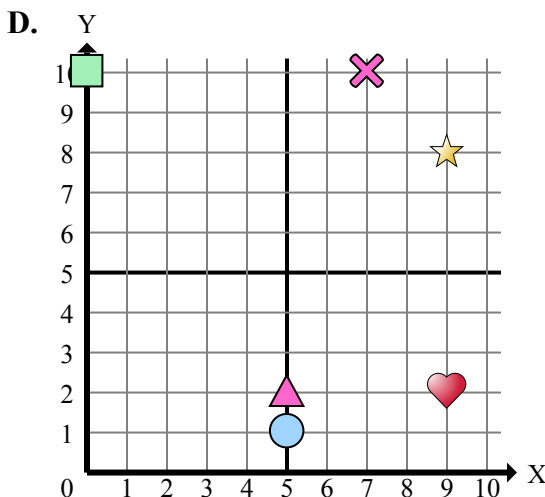
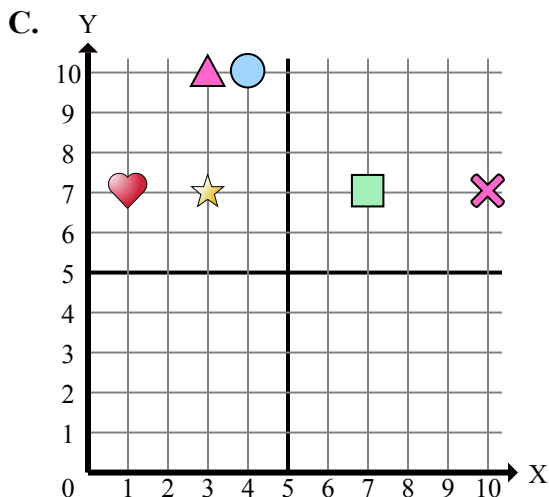
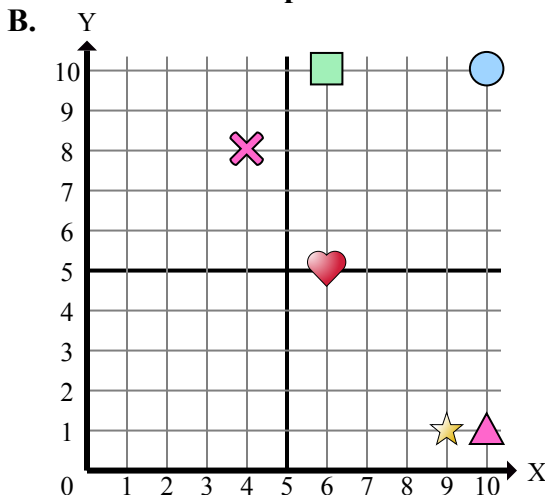
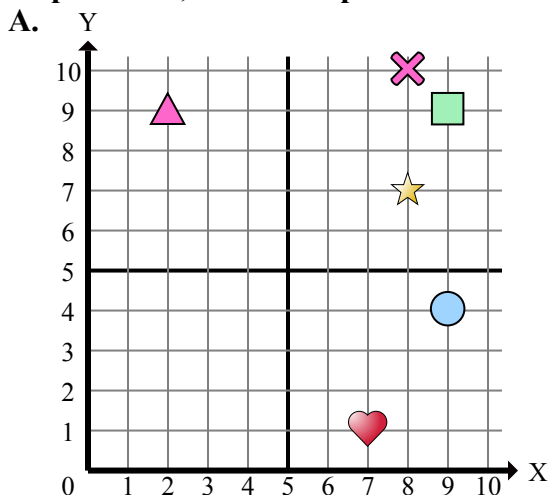
- 1) Какая координатная плоскость имеет фигуру в (9 , 2)?
- 2) Какая координатная плоскость имеет фигуру в (10 , 7)?
- 3) Какая координатная плоскость имеет фигуру в (7 , 7)?
- 4) Какая координатная плоскость имеет фигуру в (9 , 4)?
- 5) Какая координатная плоскость имеет фигуру в (6 , 10)?
- 6) Какая координатная плоскость имеет фигуру в (2 , 9)?
- 7) Какая координатная плоскость имеет фигуру в (3 , 7)?
- 8) Какая координатная плоскость имеет фигуру в (7 , 10)?
- 9) Какая координатная плоскость имеет фигуру в (9 , 9)?
- 10) Какая координатная плоскость имеет фигуру в (6 , 5)?
- 11) Какая координатная плоскость имеет фигуру в (5 , 2)?
- 12) Какая координатная плоскость имеет фигуру в (8 , 10)?
- 13) Какая координатная плоскость имеет фигуру в (10 , 1)?
- 14) Какая координатная плоскость имеет фигуру в (5 , 1)?
- 15) Какая координатная плоскость имеет фигуру в (0 , 10)?

Отвeты

1. _____
2. _____
3. _____
4. _____
5. _____
6. _____
7. _____
8. _____
9. _____
10. _____
11. _____
12. _____
13. _____
14. _____
15. _____



Определите, какая координатная плоскость отвечает всем требованиям.



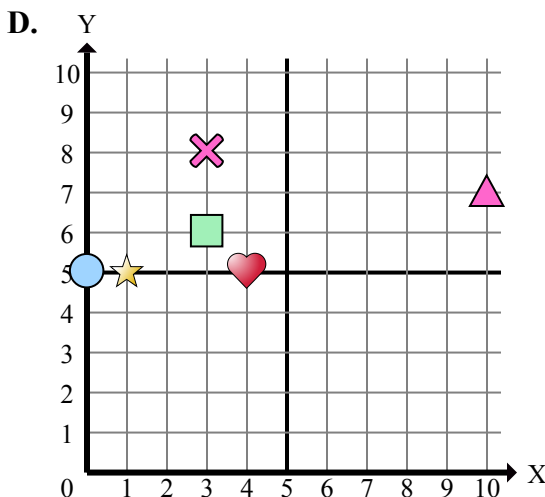
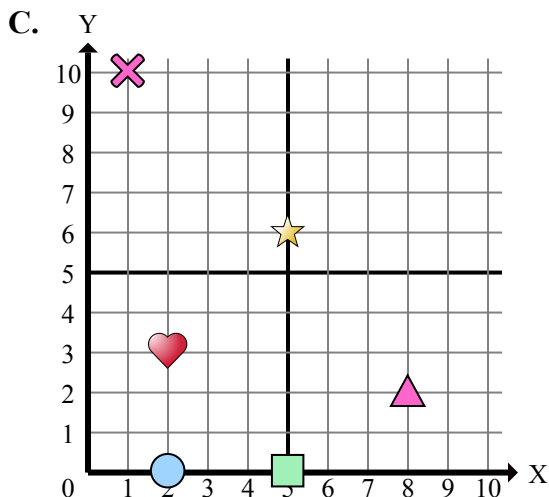
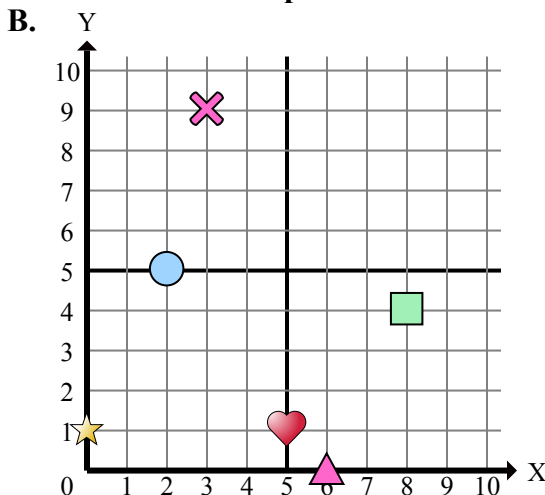
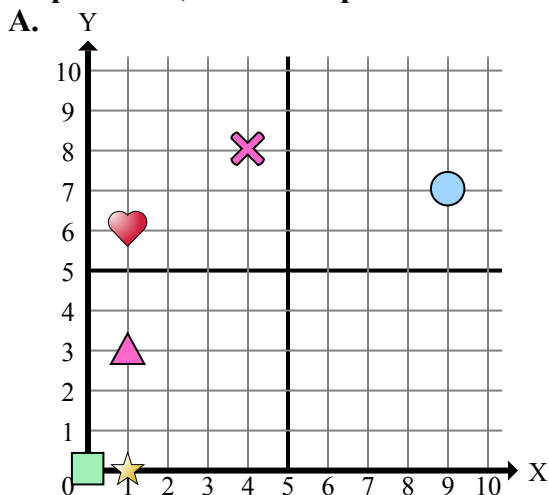
- 1) Какая координатная плоскость имеет фигуру в (9 , 2)?
- 2) Какая координатная плоскость имеет фигуру в (10 , 7)?
- 3) Какая координатная плоскость имеет фигуру в (7 , 7)?
- 4) Какая координатная плоскость имеет фигуру в (9 , 4)?
- 5) Какая координатная плоскость имеет фигуру в (6 , 10)?
- 6) Какая координатная плоскость имеет фигуру в (2 , 9)?
- 7) Какая координатная плоскость имеет фигуру в (3 , 7)?
- 8) Какая координатная плоскость имеет фигуру в (7 , 10)?
- 9) Какая координатная плоскость имеет фигуру в (9 , 9)?
- 10) Какая координатная плоскость имеет фигуру в (6 , 5)?
- 11) Какая координатная плоскость имеет фигуру в (5 , 2)?
- 12) Какая координатная плоскость имеет фигуру в (8 , 10)?
- 13) Какая координатная плоскость имеет фигуру в (10 , 1)?
- 14) Какая координатная плоскость имеет фигуру в (5 , 1)?
- 15) Какая координатная плоскость имеет фигуру в (0 , 10)?

ОТВЕТЫ

1. **D**
2. **C**
3. **C**
4. **A**
5. **B**
6. **A**
7. **C**
8. **D**
9. **A**
10. **B**
11. **D**
12. **A**
13. **B**
14. **D**
15. **D**



Определите, какая координатная плоскость отвечает всем требованиям.



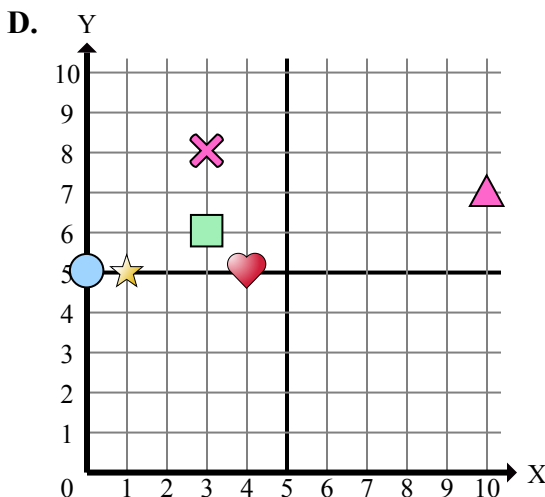
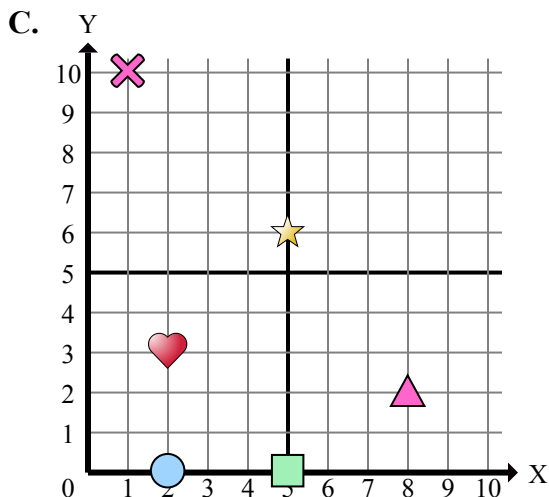
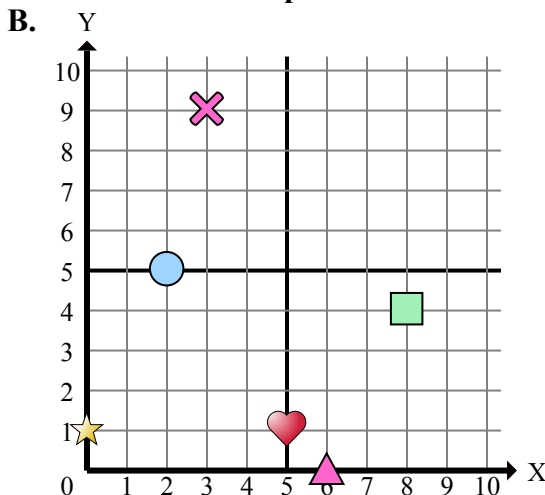
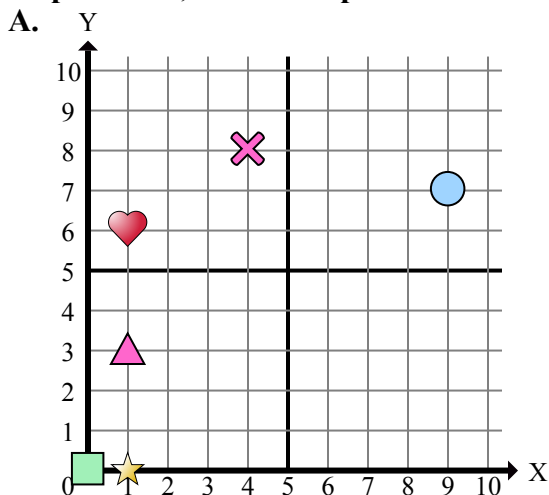
Ответы

1. _____
2. _____
3. _____
4. _____
5. _____
6. _____
7. _____
8. _____
9. _____
10. _____
11. _____
12. _____
13. _____
14. _____
15. _____

- 1) Какая координатная плоскость имеет фигуру в (0 , 1)?
- 2) Какая координатная плоскость имеет фигуру в (3 , 9)?
- 3) Какая координатная плоскость имеет фигуру в (8 , 4)?
- 4) Какая координатная плоскость имеет фигуру в (8 , 2)?
- 5) Какая координатная плоскость имеет фигуру в (10 , 7)?
- 6) Какая координатная плоскость имеет фигуру в (4 , 5)?
- 7) Какая координатная плоскость имеет фигуру в (1 , 0)?
- 8) Какая координатная плоскость имеет фигуру в (5 , 1)?
- 9) Какая координатная плоскость имеет фигуру в (4 , 8)?
- 10) Какая координатная плоскость имеет фигуру в (3 , 6)?
- 11) Какая координатная плоскость имеет фигуру в (9 , 7)?
- 12) Какая координатная плоскость имеет фигуру в (2 , 3)?
- 13) Какая координатная плоскость имеет фигуру в (1 , 6)?
- 14) Какая координатная плоскость имеет фигуру в (2 , 0)?
- 15) Какая координатная плоскость имеет фигуру в (0 , 0)?



Определите, какая координатная плоскость отвечает всем требованиям.



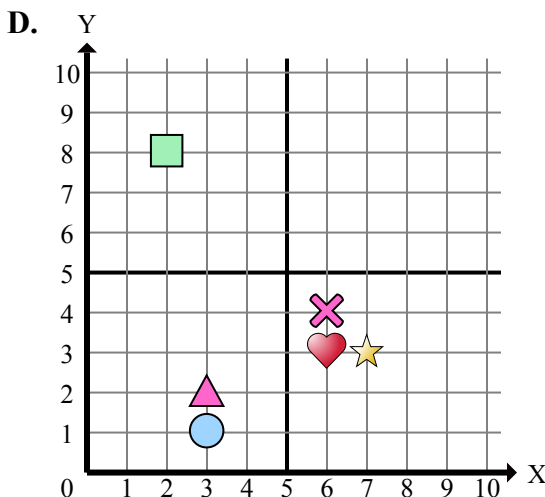
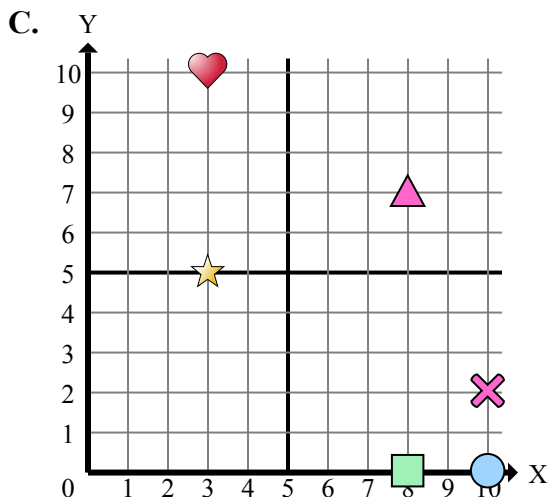
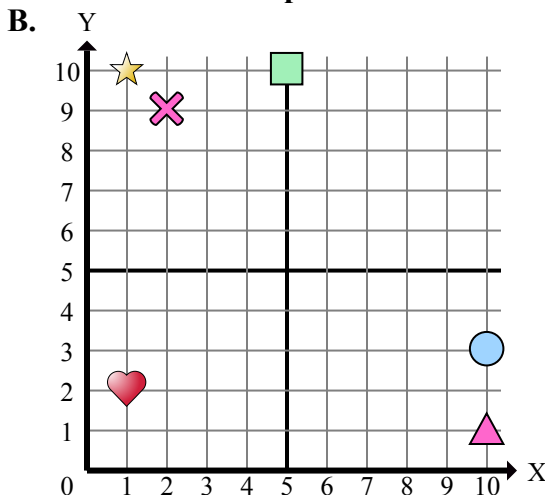
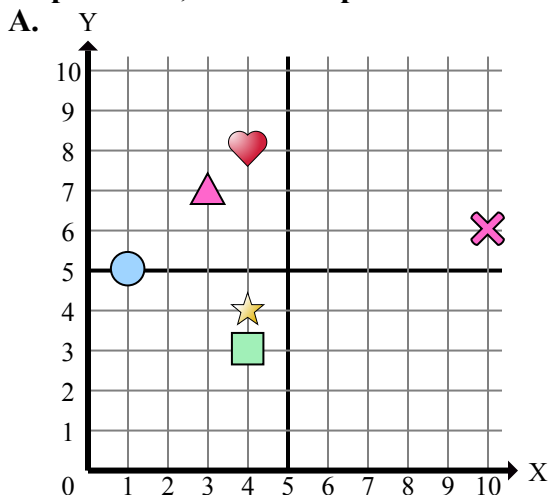
- 1) Какая координатная плоскость имеет фигуру в (0 , 1)?
- 2) Какая координатная плоскость имеет фигуру в (3 , 9)?
- 3) Какая координатная плоскость имеет фигуру в (8 , 4)?
- 4) Какая координатная плоскость имеет фигуру в (8 , 2)?
- 5) Какая координатная плоскость имеет фигуру в (10 , 7)?
- 6) Какая координатная плоскость имеет фигуру в (4 , 5)?
- 7) Какая координатная плоскость имеет фигуру в (1 , 0)?
- 8) Какая координатная плоскость имеет фигуру в (5 , 1)?
- 9) Какая координатная плоскость имеет фигуру в (4 , 8)?
- 10) Какая координатная плоскость имеет фигуру в (3 , 6)?
- 11) Какая координатная плоскость имеет фигуру в (9 , 7)?
- 12) Какая координатная плоскость имеет фигуру в (2 , 3)?
- 13) Какая координатная плоскость имеет фигуру в (1 , 6)?
- 14) Какая координатная плоскость имеет фигуру в (2 , 0)?
- 15) Какая координатная плоскость имеет фигуру в (0 , 0)?

ОТВЕТЫ

1. **B**
2. **B**
3. **B**
4. **C**
5. **D**
6. **D**
7. **A**
8. **B**
9. **A**
10. **D**
11. **A**
12. **C**
13. **A**
14. **C**
15. **A**



Определите, какая координатная плоскость отвечает всем требованиям.



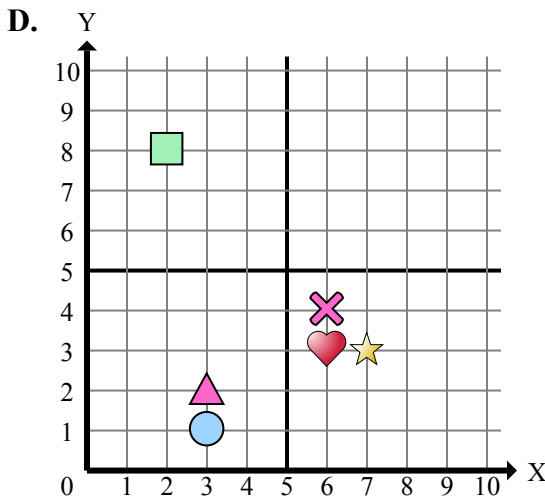
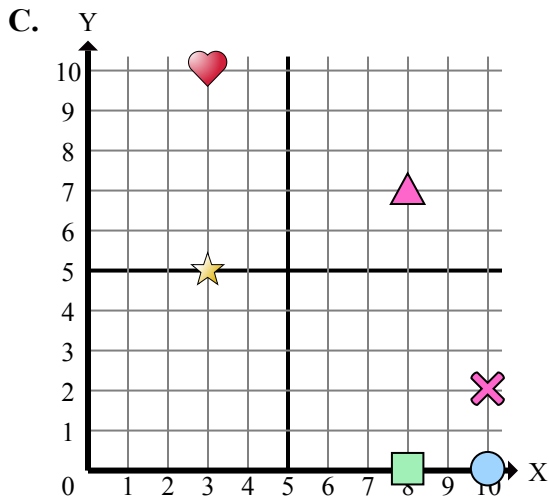
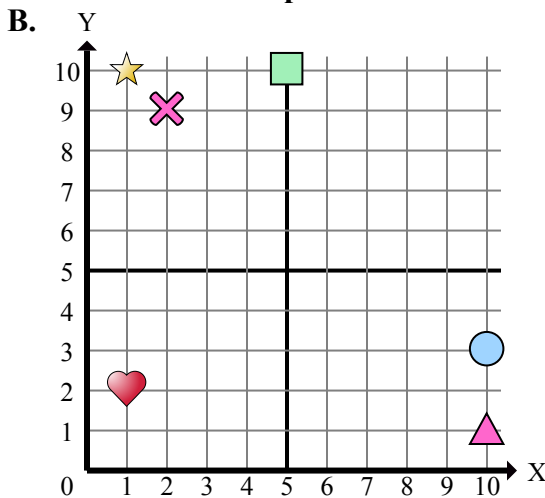
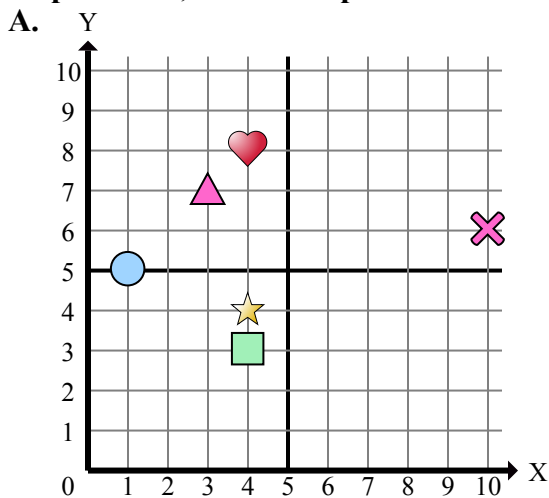
- 1) Какая координатная плоскость имеет фигуру в (2 , 8)?
- 2) Какая координатная плоскость имеет фигуру в (7 , 3)?
- 3) Какая координатная плоскость имеет фигуру в (8 , 7)?
- 4) Какая координатная плоскость имеет фигуру в (3 , 7)?
- 5) Какая координатная плоскость имеет фигуру в (6 , 4)?
- 6) Какая координатная плоскость имеет фигуру в (3 , 2)?
- 7) Какая координатная плоскость имеет фигуру в (4 , 3)?
- 8) Какая координатная плоскость имеет фигуру в (3 , 10)?
- 9) Какая координатная плоскость имеет фигуру в (4 , 8)?
- 10) Какая координатная плоскость имеет фигуру в (10 , 3)?
- 11) Какая координатная плоскость имеет фигуру в (1 , 5)?
- 12) Какая координатная плоскость имеет фигуру в (5 , 10)?
- 13) Какая координатная плоскость имеет фигуру в (2 , 9)?
- 14) Какая координатная плоскость имеет фигуру в (10 , 1)?
- 15) Какая координатная плоскость имеет фигуру в (6 , 3)?

Отвeты

1. _____
2. _____
3. _____
4. _____
5. _____
6. _____
7. _____
8. _____
9. _____
10. _____
11. _____
12. _____
13. _____
14. _____
15. _____



Определите, какая координатная плоскость отвечает всем требованиям.



- 1) Какая координатная плоскость имеет фигуру в (2 , 8)?
- 2) Какая координатная плоскость имеет фигуру в (7 , 3)?
- 3) Какая координатная плоскость имеет фигуру в (8 , 7)?
- 4) Какая координатная плоскость имеет фигуру в (3 , 7)?
- 5) Какая координатная плоскость имеет фигуру в (6 , 4)?
- 6) Какая координатная плоскость имеет фигуру в (3 , 2)?
- 7) Какая координатная плоскость имеет фигуру в (4 , 3)?
- 8) Какая координатная плоскость имеет фигуру в (3 , 10)?
- 9) Какая координатная плоскость имеет фигуру в (4 , 8)?
- 10) Какая координатная плоскость имеет фигуру в (10 , 3)?
- 11) Какая координатная плоскость имеет фигуру в (1 , 5)?
- 12) Какая координатная плоскость имеет фигуру в (5 , 10)?
- 13) Какая координатная плоскость имеет фигуру в (2 , 9)?
- 14) Какая координатная плоскость имеет фигуру в (10 , 1)?
- 15) Какая координатная плоскость имеет фигуру в (6 , 3)?

ОТВЕТЫ

1. D
2. D
3. C
4. A
5. D
6. D
7. A
8. C
9. A
10. B
11. A
12. B
13. B
14. B
15. D