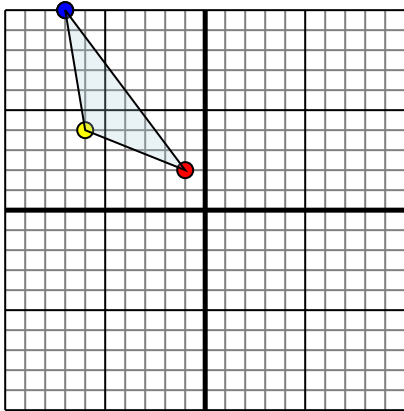




Отразите каждую фигуру на координатной плоскости.

1)

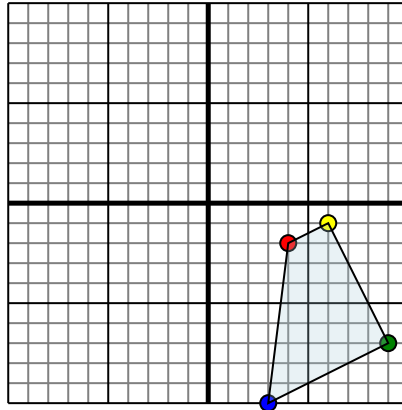


Фигура сверху имеет координаты:

- A. (-1,2)
- B. (-6,4)
- C. (-7,10)

Отразите фигуру относительно оси y .

2)

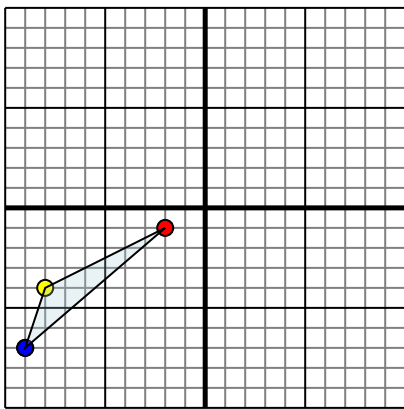


Фигура сверху имеет координаты:

- A. (4,-2)
- B. (6,-1)
- C. (9,-7)
- D. (3,-10)

Отразите фигуру относительно оси x .

3)

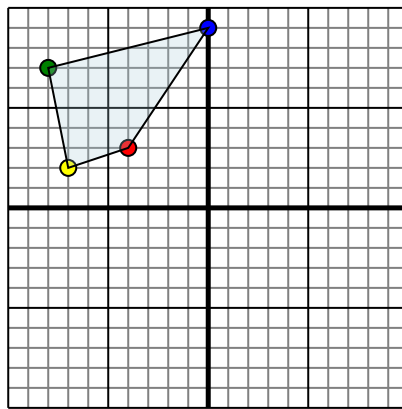


Фигура сверху имеет координаты:

- A. (-2,-1)
- B. (-8,-4)
- C. (-9,-7)

Отразите фигуру относительно оси x .

4)



Фигура сверху имеет координаты:

- A. (-4,3)
- B. (-7,2)
- C. (-8,7)
- D. (0,9)

Отразите фигуру относительно оси y .

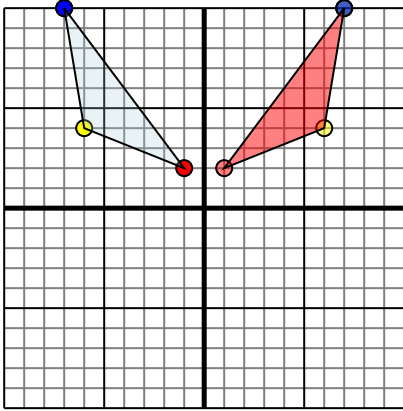
ОТВЕТЫ

- 1. _____
- 2. _____
- 3. _____
- 4. _____



Отразите каждую фигуру на координатной плоскости.

1)

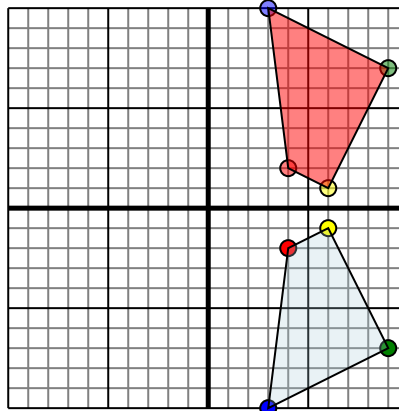


Фигура сверху имеет координаты:

- A. (-1,2)
- B. (-6,4)
- C. (-7,10)

Отразите фигуру относительно оси y .

2)

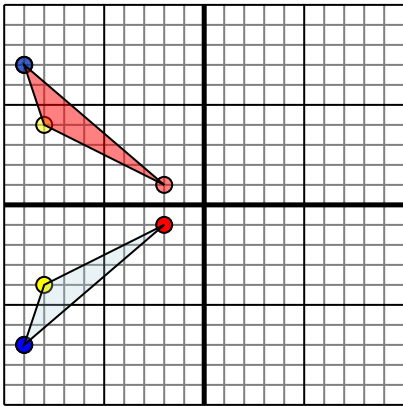


Фигура сверху имеет координаты:

- A. (4,-2)
- B. (6,-1)
- C. (9,-7)
- D. (3,-10)

Отразите фигуру относительно оси x .

3)

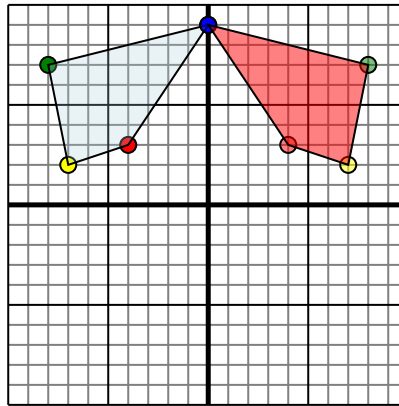


Фигура сверху имеет координаты:

- A. (-2,-1)
- B. (-8,-4)
- C. (-9,-7)

Отразите фигуру относительно оси x .

4)



Фигура сверху имеет координаты:

- A. (-4,3)
- B. (-7,2)
- C. (-8,7)
- D. (0,9)

Отразите фигуру относительно оси y .

Отвeты

1. **1 2 6 4 7 10** График
2. **4 2 1 9 7 3 10** График
3. **-2 1 -8 4 -9 7** График
4. **4 3 7 2 8 7 0 9** График