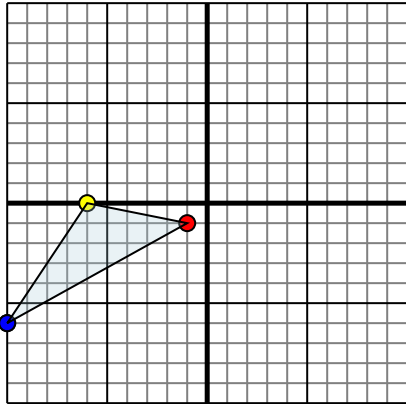




Отразите каждую фигуру на координатной плоскости.

Ответы

1)

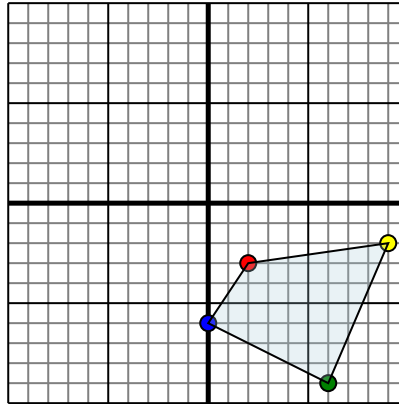


Фигура сверху имеет координаты:

- A. (-1,-1)
- B. (-6,0)
- C. (-10,-6)

Отразите фигуру относительно оси x .

2)

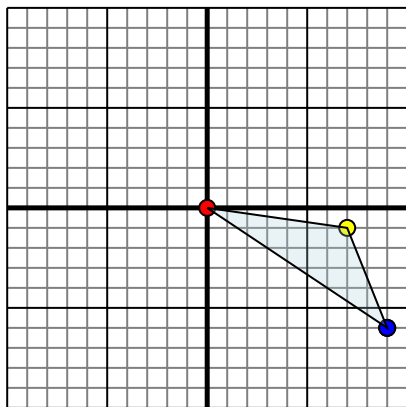


Фигура сверху имеет координаты:

- A. (2,-3)
- B. (9,-2)
- C. (6,-9)
- D. (0,-6)

Отразите фигуру относительно оси y .

3)

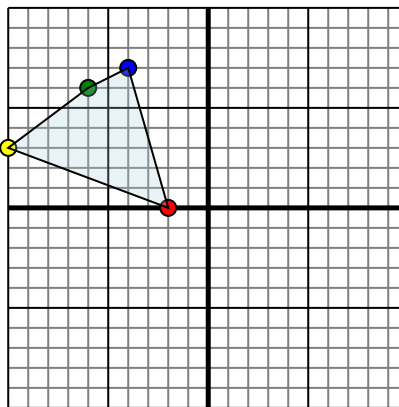


Фигура сверху имеет координаты:

- A. (0,0)
- B. (7,-1)
- C. (9,-6)

Отразите фигуру относительно оси x .

4)



Фигура сверху имеет координаты:

- A. (-2,0)
- B. (-10,3)
- C. (-6,6)
- D. (-4,7)

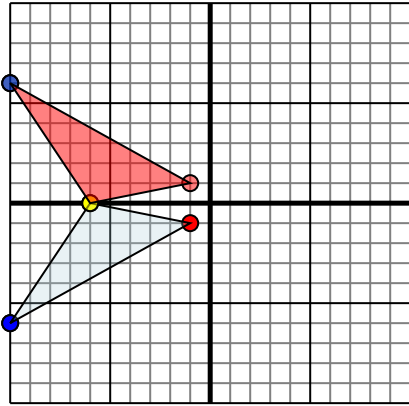
Отразите фигуру относительно оси x .

1. _____
2. _____
3. _____
4. _____



Отразите каждую фигуру на координатной плоскости.

1)

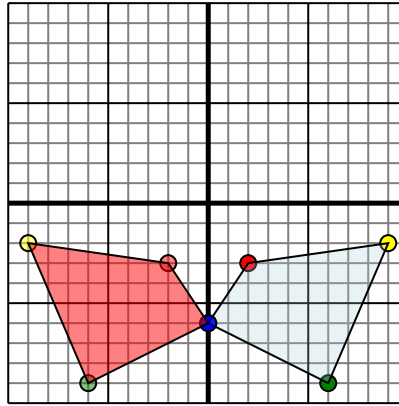


Фигура сверху имеет координаты:

- A. (-1,-1)
- B. (-6,0)
- C. (-10,-6)

Отразите фигуру относительно оси x.

2)

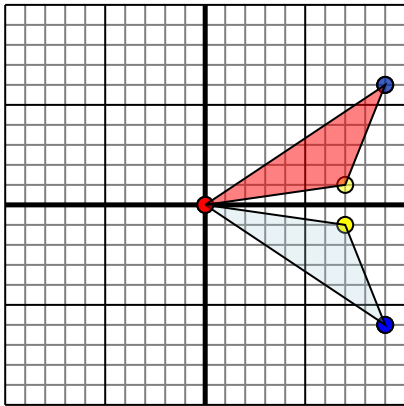


Фигура сверху имеет координаты:

- A. (2,-3)
- B. (9,-2)
- C. (6,-9)
- D. (0,-6)

Отразите фигуру относительно оси y.

3)

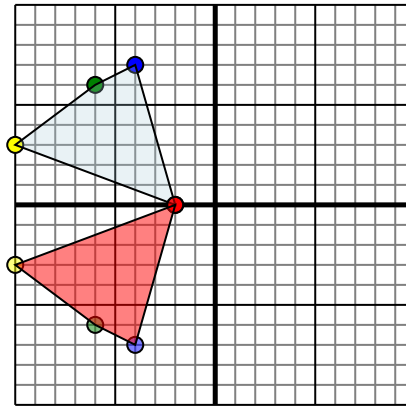


Фигура сверху имеет координаты:

- A. (0,0)
- B. (7,-1)
- C. (9,-6)

Отразите фигуру относительно оси x.

4)



Фигура сверху имеет координаты:

- A. (-2,0)
- B. (-10,3)
- C. (-6,6)
- D. (-4,7)

Отразите фигуру относительно оси x.

ОТВЕТЫ

- 1. **-11** **-60** **-106** График
- 2. **-23** **-92** **-69** **06** График
- 3. **00** **71** **96** График
- 4. **-20** **-103** **-66** **-47** График