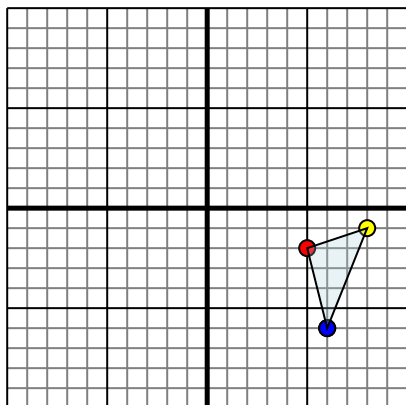




Отразите каждую фигуру на координатной плоскости.

**Ответы**

1)

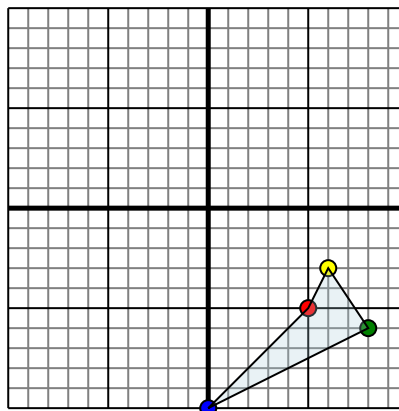


Фигура сверху имеет координаты:

- A. (5,-2)
- B. (8,-1)
- C. (6,-6)

Отразите фигуру относительно оси x.

2)

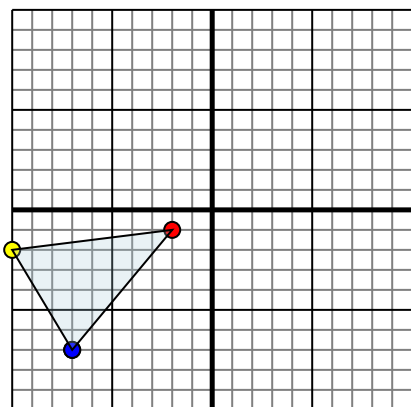


Фигура сверху имеет координаты:

- A. (5,-5)
- B. (6,-3)
- C. (8,-6)
- D. (0,-10)

Отразите фигуру относительно оси y.

3)

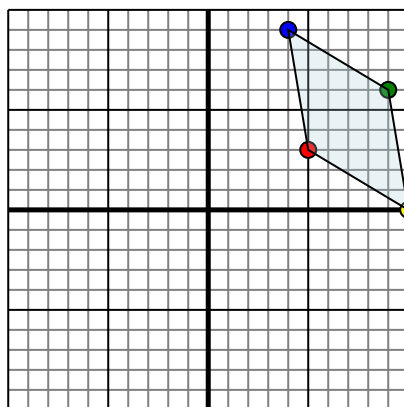


Фигура сверху имеет координаты:

- A. (-2,-1)
- B. (-10,-2)
- C. (-7,-7)

Отразите фигуру относительно оси x.

4)



Фигура сверху имеет координаты:

- A. (5,3)
- B. (10,0)
- C. (9,6)
- D. (4,9)

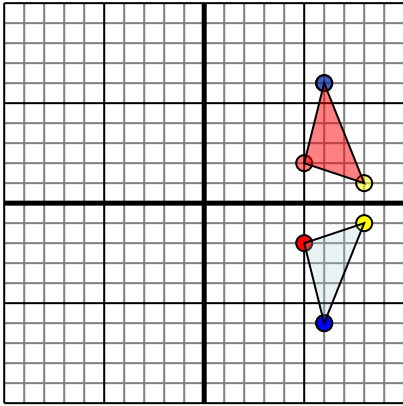
Отразите фигуру относительно оси x.

- 1. \_\_\_\_\_
- 2. \_\_\_\_\_
- 3. \_\_\_\_\_
- 4. \_\_\_\_\_



Отразите каждую фигуру на координатной плоскости.

1)

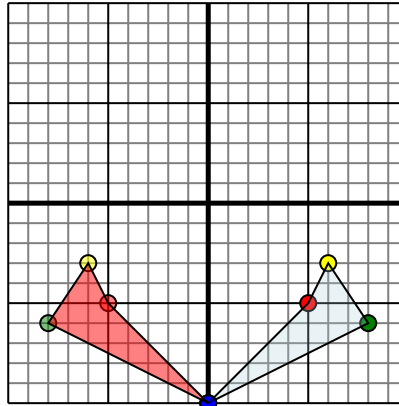


Фигура сверху имеет координаты:

- A. (5,-2)
- B. (8,-1)
- C. (6,-6)

Отразите фигуру относительно оси x.

2)

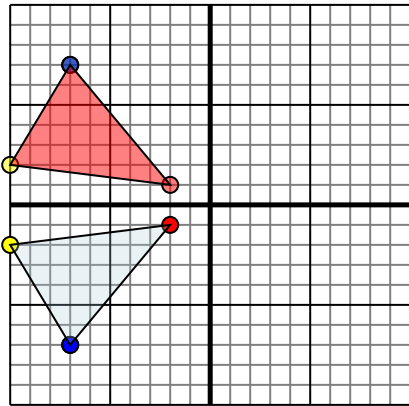


Фигура сверху имеет координаты:

- A. (5,-5)
- B. (6,-3)
- C. (8,-6)
- D. (0,-10)

Отразите фигуру относительно оси y.

3)

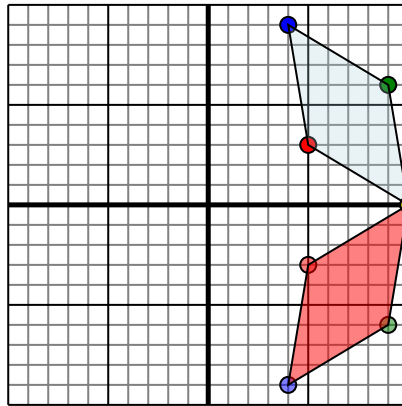


Фигура сверху имеет координаты:

- A. (-2,-1)
- B. (-10,-2)
- C. (-7,-7)

Отразите фигуру относительно оси x.

4)



Фигура сверху имеет координаты:

- A. (5,3)
- B. (10,0)
- C. (9,6)
- D. (4,9)

Отразите фигуру относительно оси x.

**ОТВЕТЫ**1. **5 2 8 1 6 6** График2. **-5 -5 -6 -3 -8 -6 0 -10** График3. **-2 1 -10 2 -7 7** График4. **5 -3 10 0 9 -6 4 -9** График