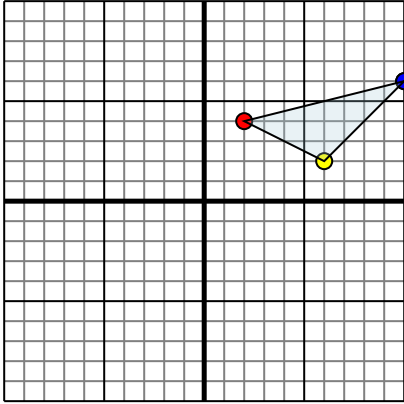




Отразите каждую фигуру на координатной плоскости.

1)

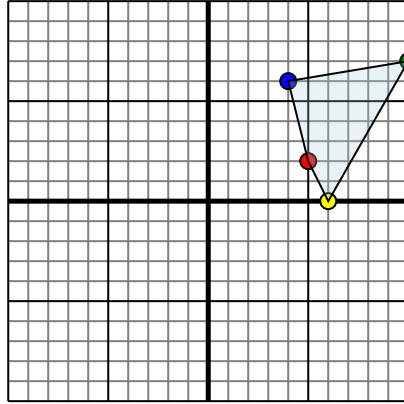


Фигура сверху имеет координаты:

- A. (2,4)
- B. (6,2)
- C. (10,6)

Отразите фигуру относительно оси x.

2)

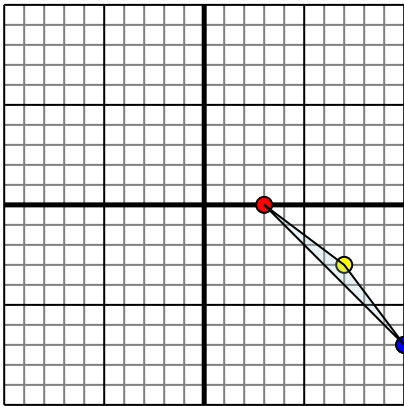


Фигура сверху имеет координаты:

- A. (5,2)
- B. (6,0)
- C. (10,7)
- D. (4,6)

Отразите фигуру относительно оси y.

3)

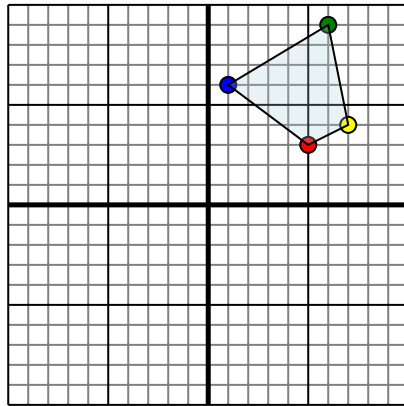


Фигура сверху имеет координаты:

- A. (3,0)
- B. (7,-3)
- C. (10,-7)

Отразите фигуру относительно оси x.

4)



Фигура сверху имеет координаты:

- A. (5,3)
- B. (7,4)
- C. (6,9)
- D. (1,6)

Отразите фигуру относительно оси y.

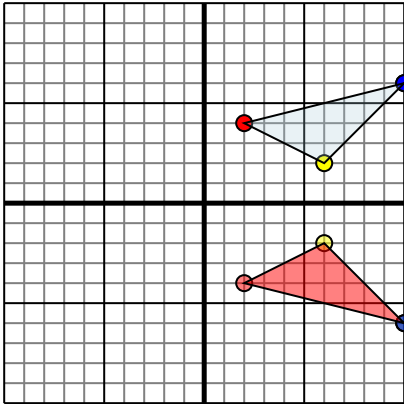
Ответы

- 1. _____
- 2. _____
- 3. _____
- 4. _____



Отразите каждую фигуру на координатной плоскости.

1)

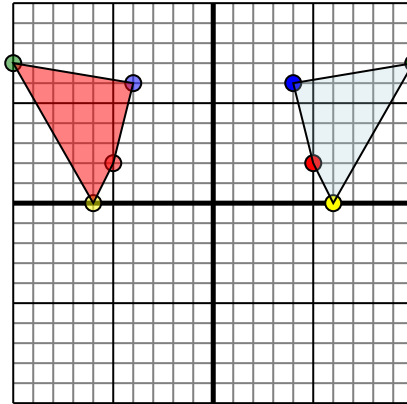


Фигура сверху имеет координаты:

- A. (2,4)
- B. (6,2)
- C. (10,6)

Отразите фигуру относительно оси x.

2)

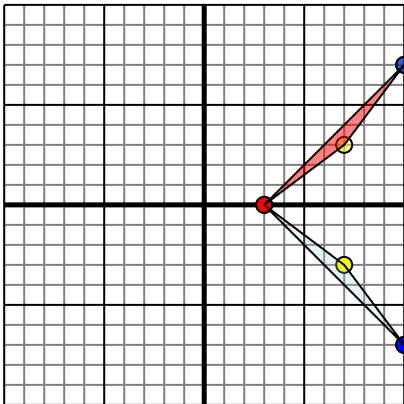


Фигура сверху имеет координаты:

- A. (5,2)
- B. (6,0)
- C. (10,7)
- D. (4,6)

Отразите фигуру относительно оси y.

3)

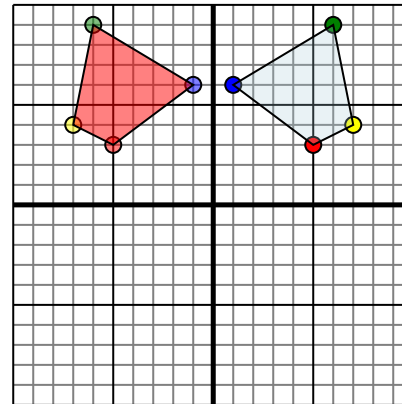


Фигура сверху имеет координаты:

- A. (3,0)
- B. (7,-3)
- C. (10,-7)

Отразите фигуру относительно оси x.

4)



Фигура сверху имеет координаты:

- A. (5,3)
- B. (7,4)
- C. (6,9)
- D. (1,6)

Отразите фигуру относительно оси y.

Ответы

1. **2-4** **6-2** **10-6** График
2. **-5-2** **-6-0** **-10-7** **-4-6** График
3. **3-0** **7-3** **10-7** График
4. **-5-3** **-7-4** **-6-9** **-1-6** График