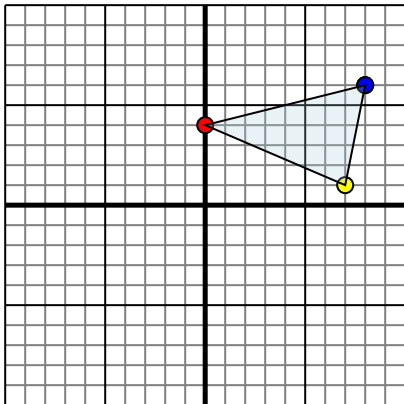




Отразите каждую фигуру на координатной плоскости.

Отвeты

1)

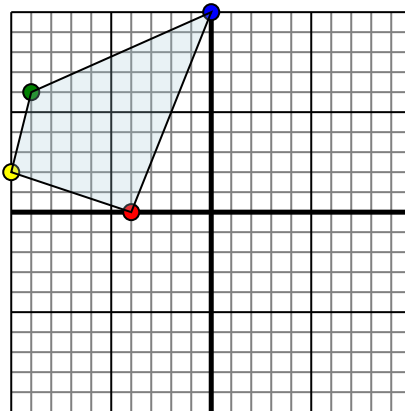


Фигура сверху имеет координаты:

- A. (0,4)
- B. (7,1)
- C. (8,6)

Отразите фигуру относительно оси x.

2)

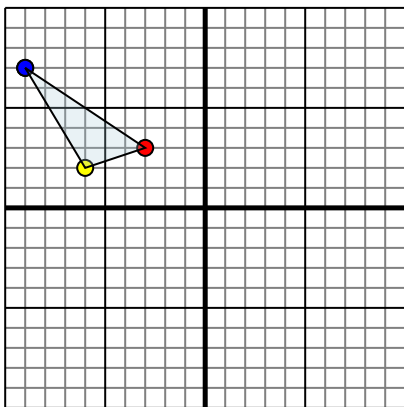


Фигура сверху имеет координаты:

- A. (-4,0)
- B. (-10,2)
- C. (-9,6)
- D. (0,10)

Отразите фигуру относительно оси y.

3)

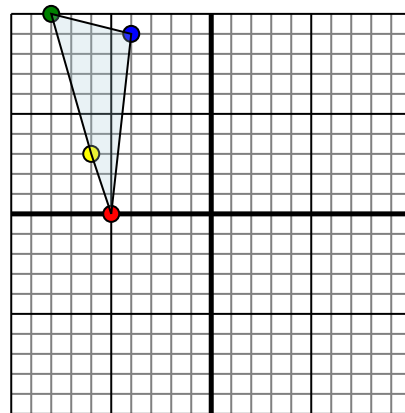


Фигура сверху имеет координаты:

- A. (-3,3)
- B. (-6,2)
- C. (-9,7)

Отразите фигуру относительно оси y.

4)



Фигура сверху имеет координаты:

- A. (-5,0)
- B. (-6,3)
- C. (-8,10)
- D. (-4,9)

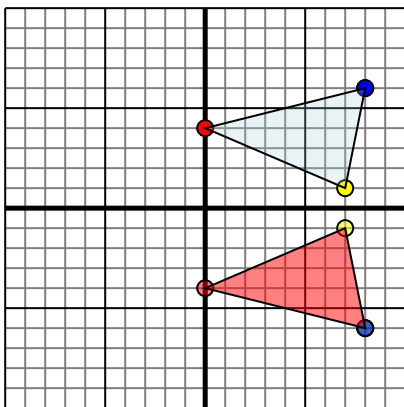
Отразите фигуру относительно оси x.

- 1. _____
- 2. _____
- 3. _____
- 4. _____



Отразите каждую фигуру на координатной плоскости.

1)

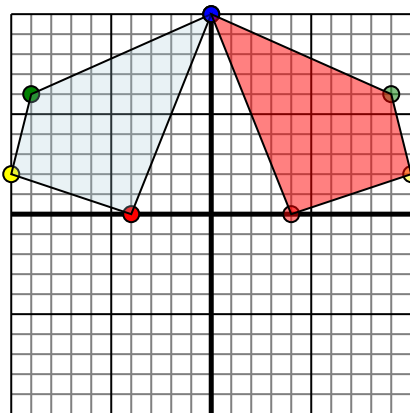


Фигура сверху имеет координаты:

- A. (0,4)
- B. (7,1)
- C. (8,6)

Отразите фигуру относительно оси x.

2)

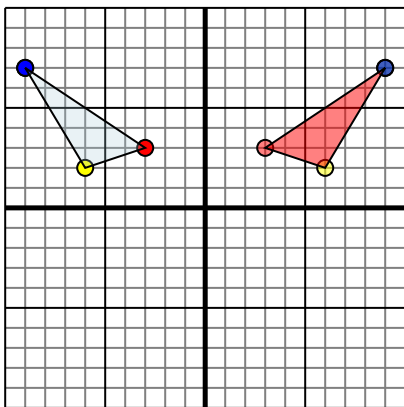


Фигура сверху имеет координаты:

- A. (-4,0)
- B. (-10,2)
- C. (-9,6)
- D. (0,10)

Отразите фигуру относительно оси y.

3)

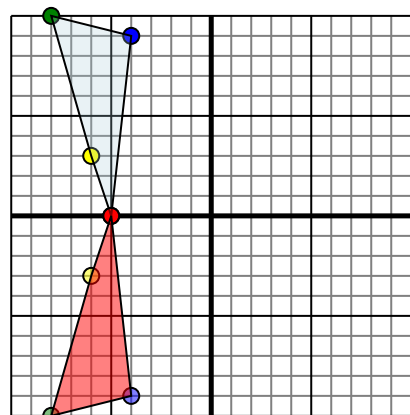


Фигура сверху имеет координаты:

- A. (-3,3)
- B. (-6,2)
- C. (-9,7)

Отразите фигуру относительно оси y.

4)



Фигура сверху имеет координаты:

- A. (-5,0)
- B. (-6,3)
- C. (-8,10)
- D. (-4,9)

Отразите фигуру относительно оси x.

ОТВЕТЫ

1. 0-4 7-1 8-6 График
2. 4 0 10 2 9 6 0 10 График
3. 3 3 6 2 9 7 График
4. -5 0 -6 -3 -8 -10 -4 -9 График