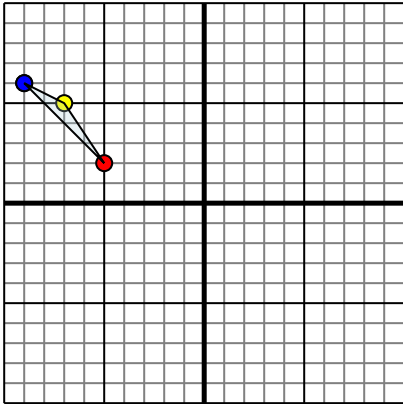




Отразите каждую фигуру на координатной плоскости.

1)



Фигура сверху имеет координаты:

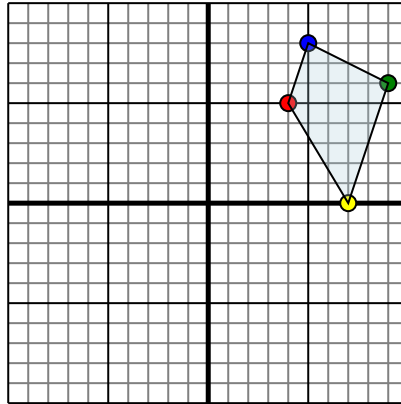
A. (-5,2)

B. (-7,5)

C. (-9,6)

Отразите фигуру относительно оси x .

2)



Фигура сверху имеет координаты:

A. (4,5)

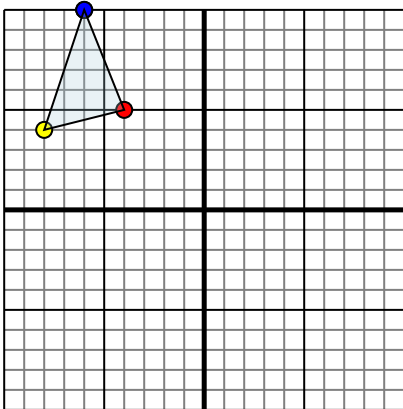
B. (7,0)

C. (9,6)

D. (5,8)

Отразите фигуру относительно оси y .

3)



Фигура сверху имеет координаты:

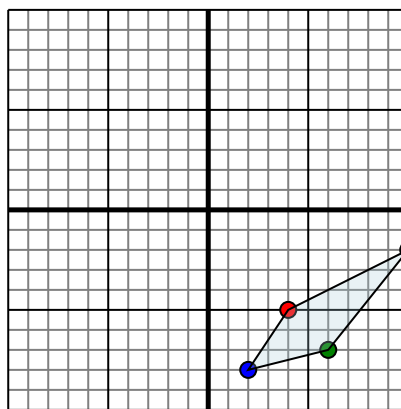
A. (-4,5)

B. (-8,4)

C. (-6,10)

Отразите фигуру относительно оси x .

4)



Фигура сверху имеет координаты:

A. (4,-5)

B. (10,-2)

C. (6,-7)

D. (2,-8)

Отразите фигуру относительно оси x .Ответы

1. _____

2. _____

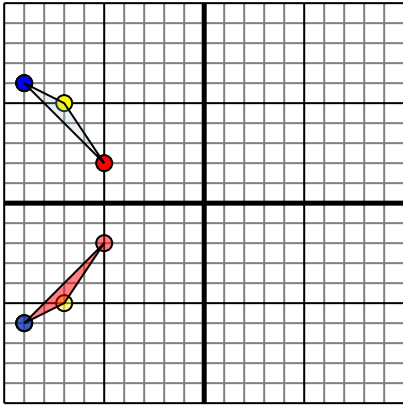
3. _____

4. _____



Отразите каждую фигуру на координатной плоскости.

1)

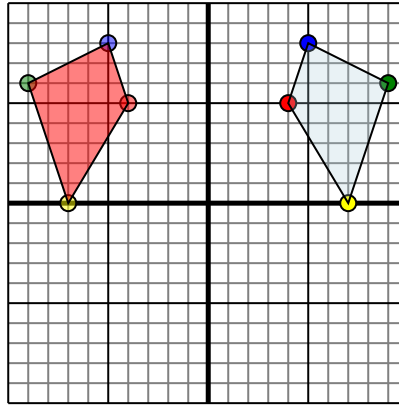


Фигура сверху имеет координаты:

- A. (-5,2)
- B. (-7,5)
- C. (-9,6)

Отразите фигуру относительно оси x.

2)

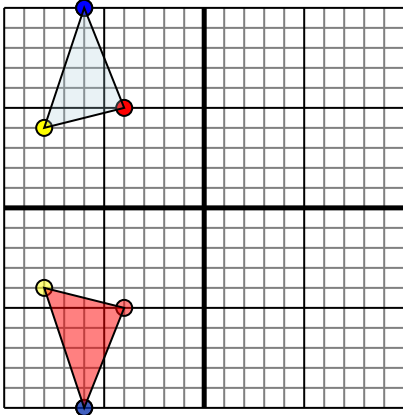


Фигура сверху имеет координаты:

- A. (4,5)
- B. (7,0)
- C. (9,6)
- D. (5,8)

Отразите фигуру относительно оси y.

3)

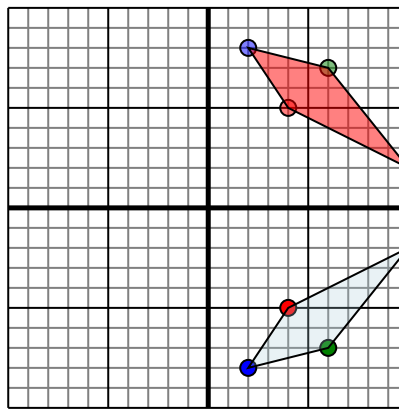


Фигура сверху имеет координаты:

- A. (-4,5)
- B. (-8,4)
- C. (-6,10)

Отразите фигуру относительно оси x.

4)



Фигура сверху имеет координаты:

- A. (4,-5)
- B. (10,-2)
- C. (6,-7)
- D. (2,-8)

Отразите фигуру относительно оси x.

ОТВЕТЫ

1. -5 -2 -7 -5 -9 -6 График
2. -4 -5 -7 0 -9 6 -5 8 График
3. -4 -5 -8 -4 -6 -10 График
4. 4 5 10 2 6 7 2 8 График