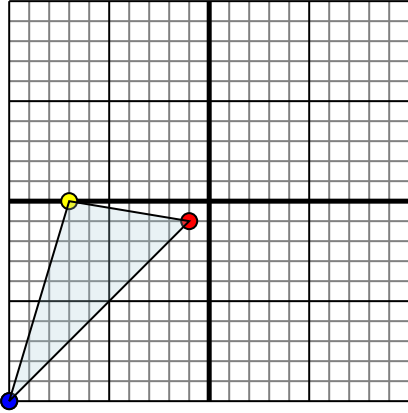




Отразите каждую фигуру на координатной плоскости.

ОТВЕТЫ

1)

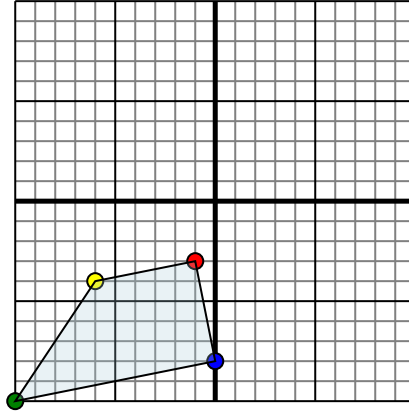


Фигура сверху имеет координаты:

- A. (-1,-1)
- B. (-7,0)
- C. (-10,-10)

Отразите фигуру относительно оси x.

2)

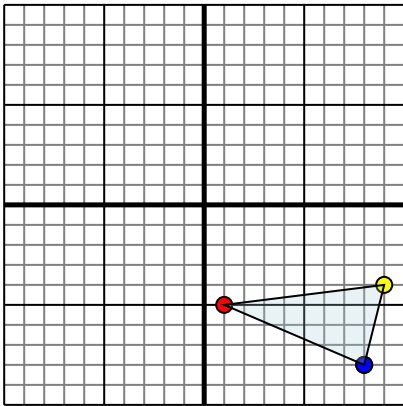


Фигура сверху имеет координаты:

- A. (-1,-3)
- B. (-6,-4)
- C. (-10,-10)
- D. (0,-8)

Отразите фигуру относительно оси x.

3)

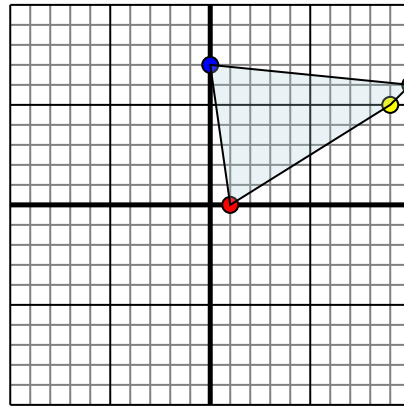


Фигура сверху имеет координаты:

- A. (1,-5)
- B. (9,-4)
- C. (8,-8)

Отразите фигуру относительно оси x.

4)



Фигура сверху имеет координаты:

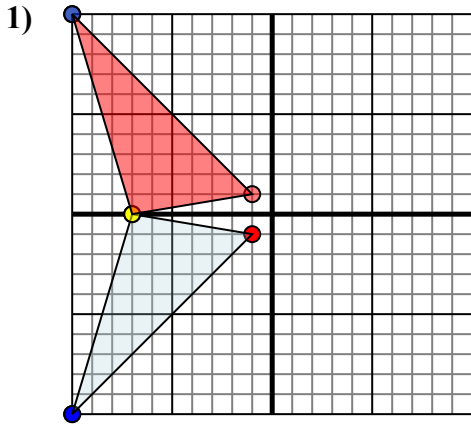
- A. (1,0)
- B. (9,5)
- C. (10,6)
- D. (0,7)

Отразите фигуру относительно оси x.

- 1. _____
- 2. _____
- 3. _____
- 4. _____



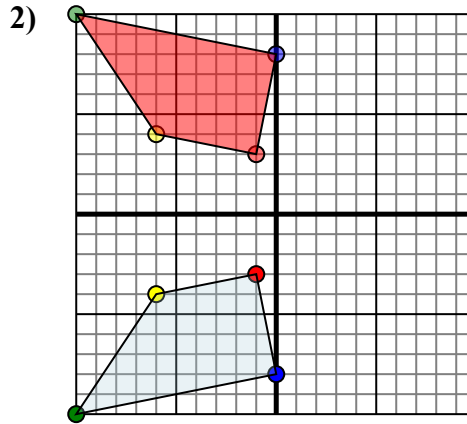
Отразите каждую фигуру на координатной плоскости.



Фигура сверху имеет координаты:

- A. (-1,-1)
- B. (-7,0)
- C. (-10,-10)

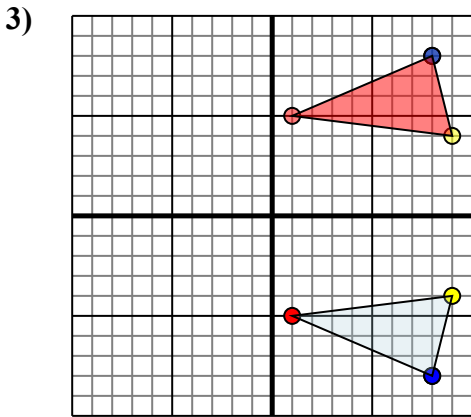
Отразите фигуру относительно оси x.



Фигура сверху имеет координаты:

- A. (-1,-3)
- B. (-6,-4)
- C. (-10,-10)
- D. (0,-8)

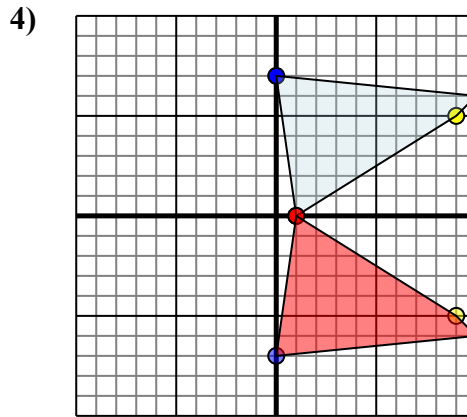
Отразите фигуру относительно оси x.



Фигура сверху имеет координаты:

- A. (1,-5)
- B. (9,-4)
- C. (8,-8)

Отразите фигуру относительно оси x.



Фигура сверху имеет координаты:

- A. (1,0)
- B. (9,5)
- C. (10,6)
- D. (0,7)

Отразите фигуру относительно оси x.

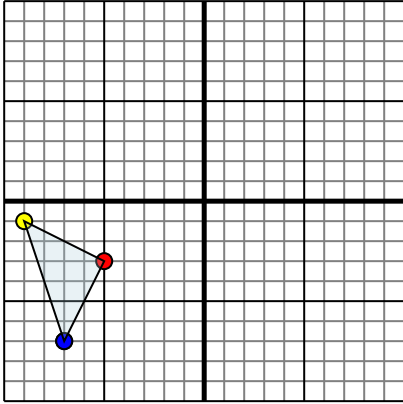
ОТВЕТЫ

1. **-1 1** **-7 0** **-10 10** График
2. **-1 3** **-6 4** **-10 10** **0 8** График
3. **1 5** **9 4** **8 8** График
4. **1**
0 **9-5** **10-6** **0-7** График



Отразите каждую фигуру на координатной плоскости.

1)

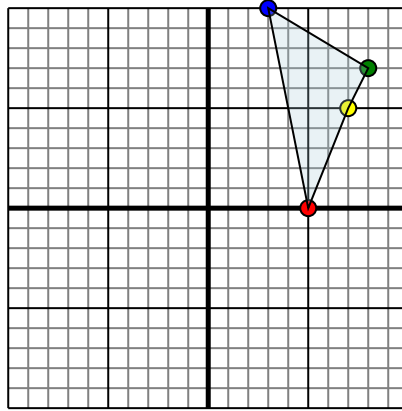


Фигура сверху имеет координаты:

- A. $(-5, -3)$
- B. $(-9, -1)$
- C. $(-7, -7)$

Отразите фигуру относительно оси x .

2)

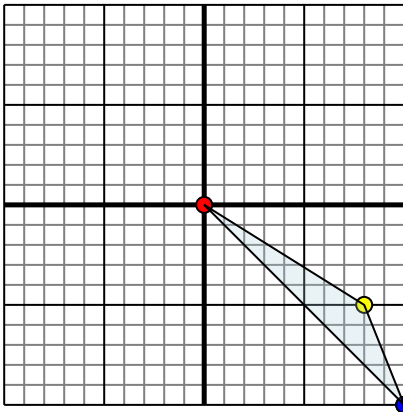


Фигура сверху имеет координаты:

- A. $(5, 0)$
- B. $(7, 5)$
- C. $(8, 7)$
- D. $(3, 10)$

Отразите фигуру относительно оси x .

3)

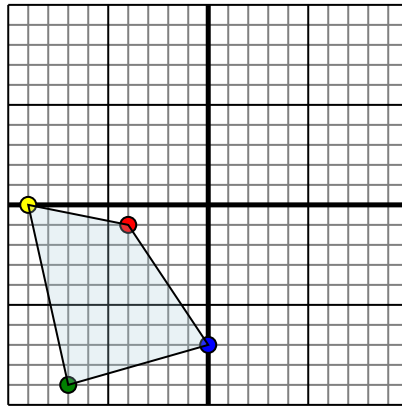


Фигура сверху имеет координаты:

- A. $(0, 0)$
- B. $(8, -5)$
- C. $(10, -10)$

Отразите фигуру относительно оси y .

4)



Фигура сверху имеет координаты:

- A. $(-4, -1)$
- B. $(-9, 0)$
- C. $(-7, -9)$
- D. $(0, -7)$

Отразите фигуру относительно оси y .Ответы

1. _____

2. _____

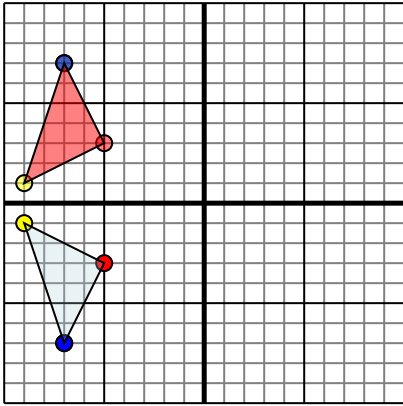
3. _____

4. _____



Отразите каждую фигуру на координатной плоскости.

1)

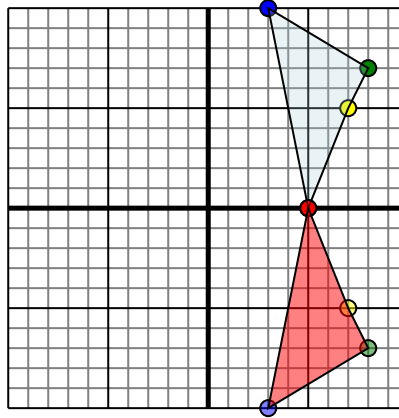


Фигура сверху имеет координаты:

- A. (-5,-3)
- B. (-9,-1)
- C. (-7,-7)

Отразите фигуру относительно оси x.

2)

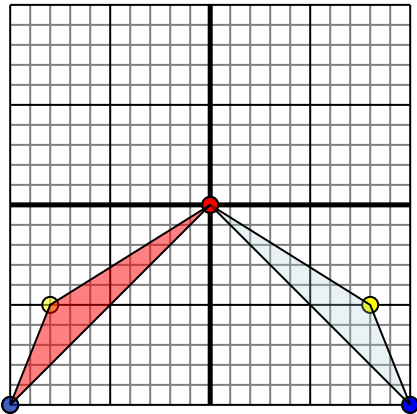


Фигура сверху имеет координаты:

- A. (5,0)
- B. (7,5)
- C. (8,7)
- D. (3,10)

Отразите фигуру относительно оси x.

3)

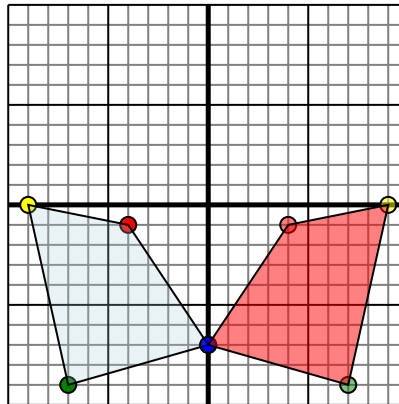


Фигура сверху имеет координаты:

- A. (0,0)
- B. (8,-5)
- C. (10,-10)

Отразите фигуру относительно оси y.

4)



Фигура сверху имеет координаты:

- A. (-4,-1)
- B. (-9,0)
- C. (-7,-9)
- D. (0,-7)

Отразите фигуру относительно оси y.

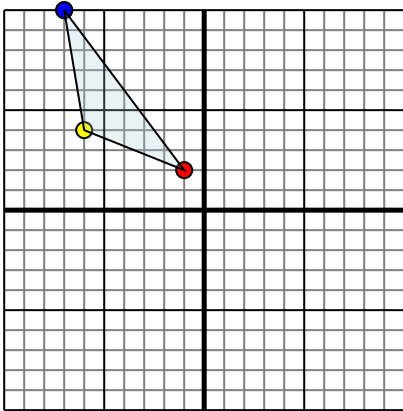
ОТВЕТЫ1. -5 3 -9 1 -7 7 График2. 5 0 7 -5 8 -7 3 -10 График3. 0 0 -8 -5 -10 -10 График4. 4 -1 9 0 7 -9 0 -7 График



Отразите каждую фигуру на координатной плоскости.

Ответы

1)

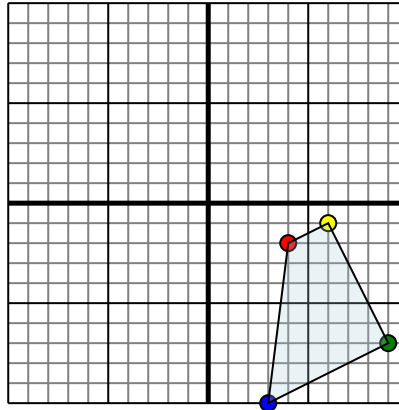


Фигура сверху имеет координаты:

- A. (-1,2)
- B. (-6,4)
- C. (-7,10)

Отразите фигуру относительно оси y .

2)

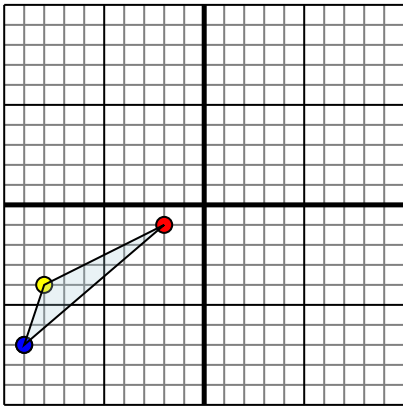


Фигура сверху имеет координаты:

- A. (4,-2)
- B. (6,-1)
- C. (9,-7)
- D. (3,-10)

Отразите фигуру относительно оси x .

3)

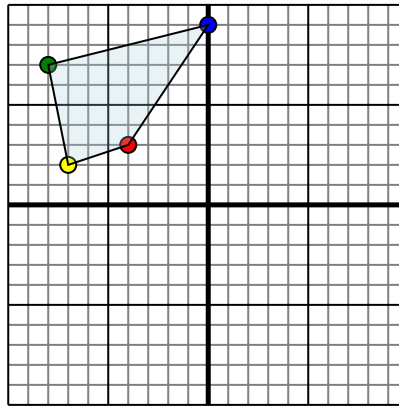


Фигура сверху имеет координаты:

- A. (-2,-1)
- B. (-8,-4)
- C. (-9,-7)

Отразите фигуру относительно оси x .

4)



Фигура сверху имеет координаты:

- A. (-4,3)
- B. (-7,2)
- C. (-8,7)
- D. (0,9)

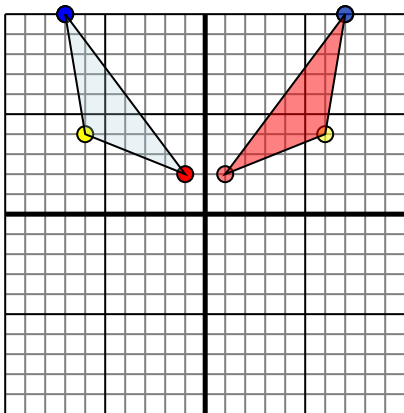
Отразите фигуру относительно оси y .

1. _____
2. _____
3. _____
4. _____



Отразите каждую фигуру на координатной плоскости.

1)

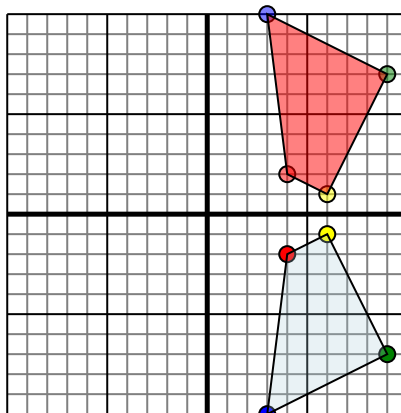


Фигура сверху имеет координаты:

- A. (-1,2)
- B. (-6,4)
- C. (-7,10)

Отразите фигуру относительно оси y .

2)

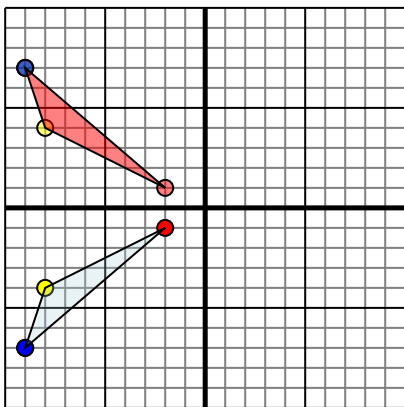


Фигура сверху имеет координаты:

- A. (4,-2)
- B. (6,-1)
- C. (9,-7)
- D. (3,-10)

Отразите фигуру относительно оси x .

3)

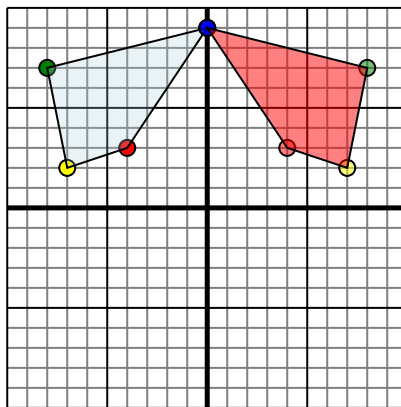


Фигура сверху имеет координаты:

- A. (-2,-1)
- B. (-8,-4)
- C. (-9,-7)

Отразите фигуру относительно оси x .

4)



Фигура сверху имеет координаты:

- A. (-4,3)
- B. (-7,2)
- C. (-8,7)
- D. (0,9)

Отразите фигуру относительно оси y .**Ответы**

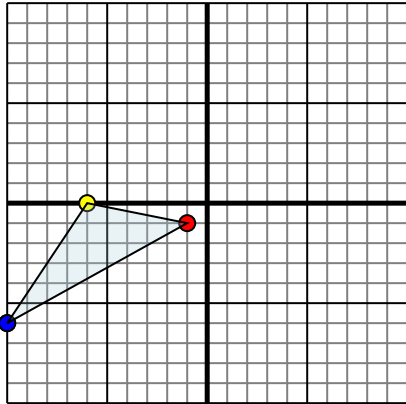
1. **1 2 6 4 7 10** График
2. **4 2 1 9 7 3 10** График
3. **-2 1 -8 4 -9 7** График
4. **4 3 7 2 8 7 0 9** График



Отразите каждую фигуру на координатной плоскости.

Ответы

1)

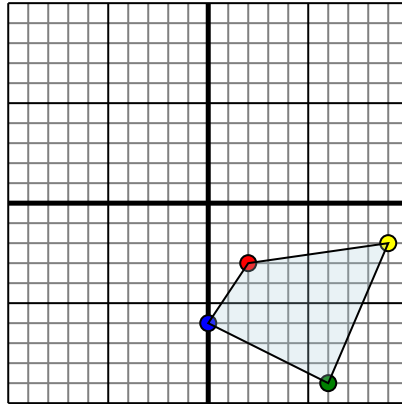


Фигура сверху имеет координаты:

- A. (-1,-1)
- B. (-6,0)
- C. (-10,-6)

Отразите фигуру относительно оси x.

2)

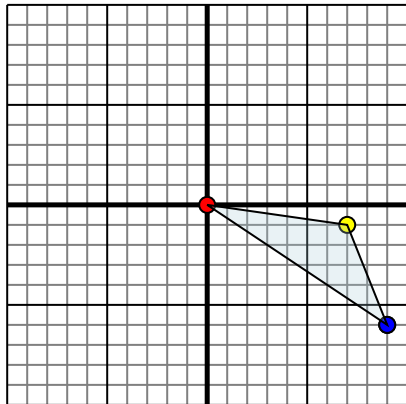


Фигура сверху имеет координаты:

- A. (2,-3)
- B. (9,-2)
- C. (6,-9)
- D. (0,-6)

Отразите фигуру относительно оси y.

3)

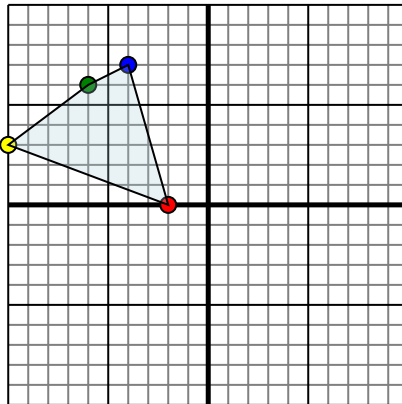


Фигура сверху имеет координаты:

- A. (0,0)
- B. (7,-1)
- C. (9,-6)

Отразите фигуру относительно оси x.

4)



Фигура сверху имеет координаты:

- A. (-2,0)
- B. (-10,3)
- C. (-6,6)
- D. (-4,7)

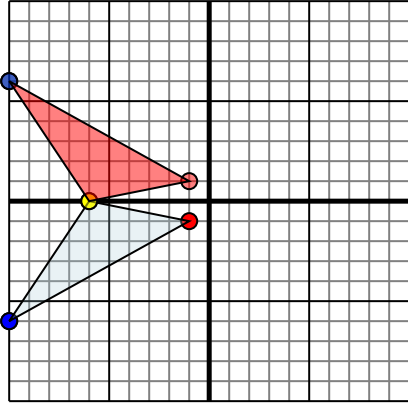
Отразите фигуру относительно оси x.

- 1. _____
- 2. _____
- 3. _____
- 4. _____



Отразите каждую фигуру на координатной плоскости.

1)

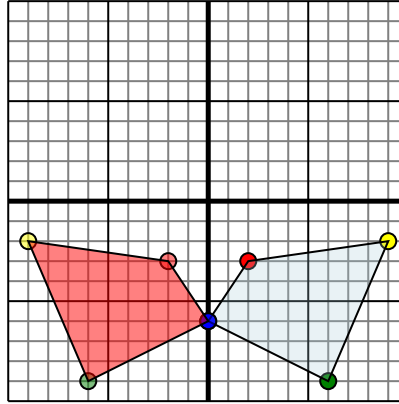


Фигура сверху имеет координаты:

- A. (-1,-1)
- B. (-6,0)
- C. (-10,-6)

Отразите фигуру относительно оси x.

2)

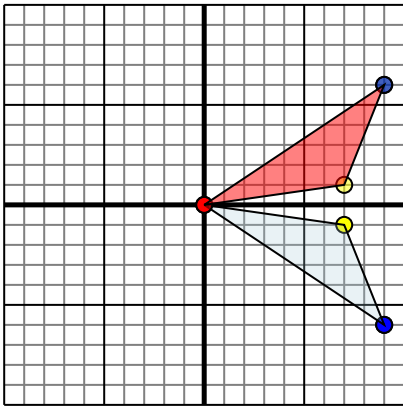


Фигура сверху имеет координаты:

- A. (2,-3)
- B. (9,-2)
- C. (6,-9)
- D. (0,-6)

Отразите фигуру относительно оси y.

3)

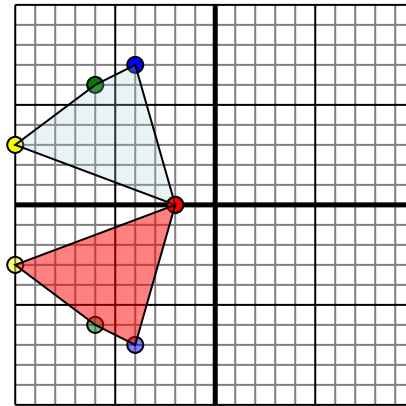


Фигура сверху имеет координаты:

- A. (0,0)
- B. (7,-1)
- C. (9,-6)

Отразите фигуру относительно оси x.

4)



Фигура сверху имеет координаты:

- A. (-2,0)
- B. (-10,3)
- C. (-6,6)
- D. (-4,7)

Отразите фигуру относительно оси x.

ОТВЕТЫ

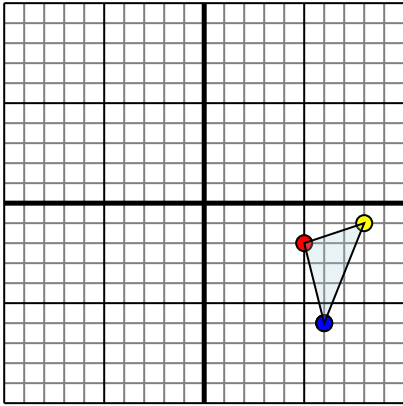
- 1. **-11 -60 -106** График
- 2. **-2-3 -9-2 -6-9 0-6** График
- 3. **00 71 96** График
- 4. **-20 -10-3 -6-6 -4-7** График



Отразите каждую фигуру на координатной плоскости.

Ответы

1)

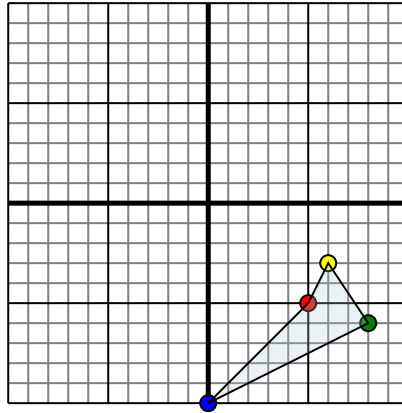


Фигура сверху имеет координаты:

- A. (5,-2)
- B. (8,-1)
- C. (6,-6)

Отразите фигуру относительно оси x.

2)

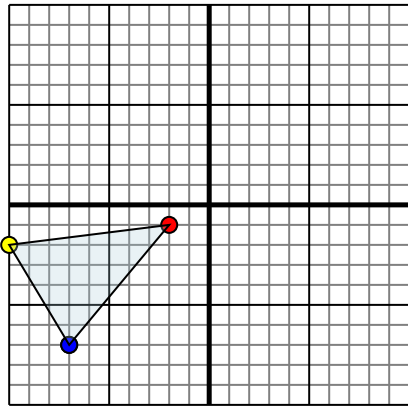


Фигура сверху имеет координаты:

- A. (5,-5)
- B. (6,-3)
- C. (8,-6)
- D. (0,-10)

Отразите фигуру относительно оси y.

3)

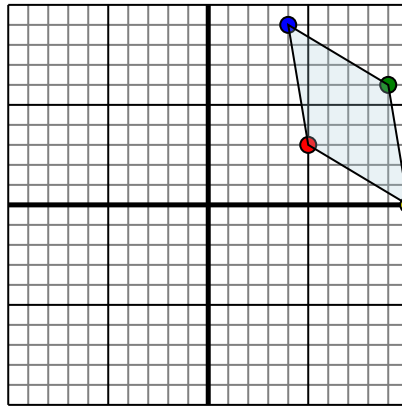


Фигура сверху имеет координаты:

- A. (-2,-1)
- B. (-10,-2)
- C. (-7,-7)

Отразите фигуру относительно оси x.

4)



Фигура сверху имеет координаты:

- A. (5,3)
- B. (10,0)
- C. (9,6)
- D. (4,9)

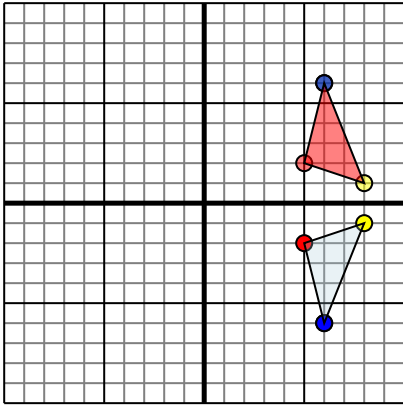
Отразите фигуру относительно оси x.

1. _____
2. _____
3. _____
4. _____



Отразите каждую фигуру на координатной плоскости.

1)

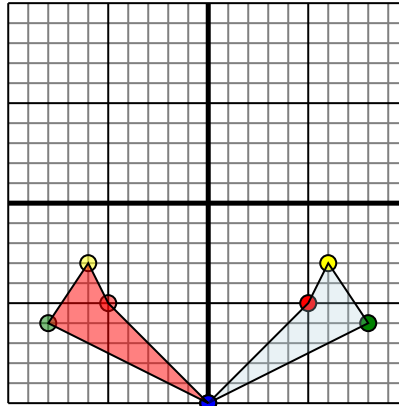


Фигура сверху имеет координаты:

- A. (5,-2)
- B. (8,-1)
- C. (6,-6)

Отразите фигуру относительно оси x.

2)

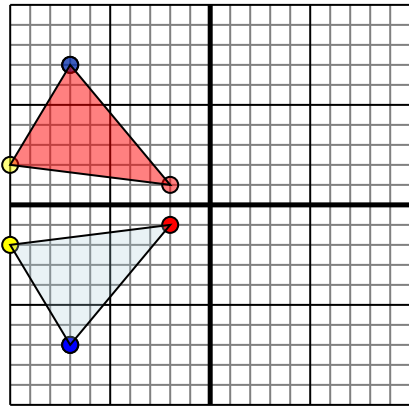


Фигура сверху имеет координаты:

- A. (5,-5)
- B. (6,-3)
- C. (8,-6)
- D. (0,-10)

Отразите фигуру относительно оси y.

3)

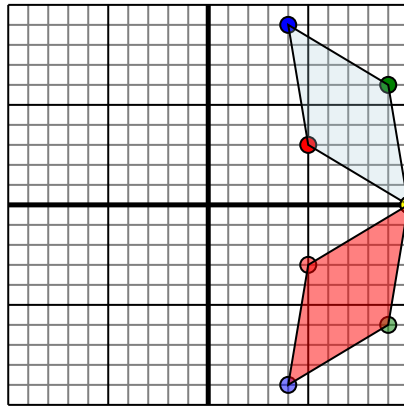


Фигура сверху имеет координаты:

- A. (-2,-1)
- B. (-10,-2)
- C. (-7,-7)

Отразите фигуру относительно оси x.

4)



Фигура сверху имеет координаты:

- A. (5,3)
- B. (10,0)
- C. (9,6)
- D. (4,9)

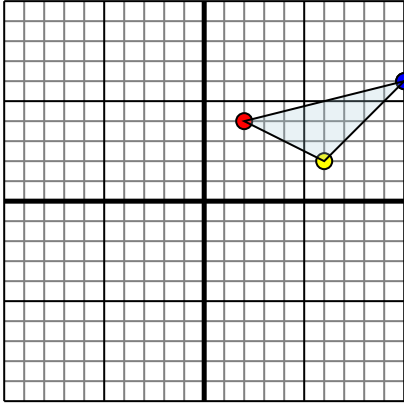
Отразите фигуру относительно оси x.

ОТВЕТЫ1. **5 2 8 1 6 6** График2. **-5 -5 -6 -3 -8 -6 0 -10** График3. **-2 1 -10 2 -7 7** График4. **5 -3 10 0 9 -6 4 -9** График



Отразите каждую фигуру на координатной плоскости.

1)

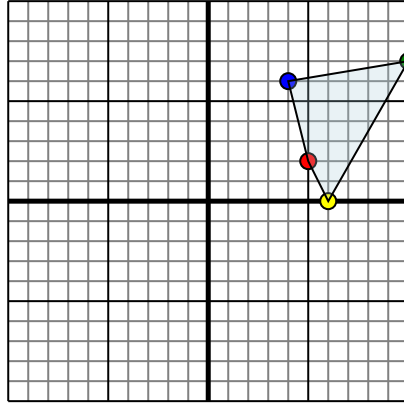


Фигура сверху имеет координаты:

- A. (2,4)
- B. (6,2)
- C. (10,6)

Отразите фигуру относительно оси x.

2)

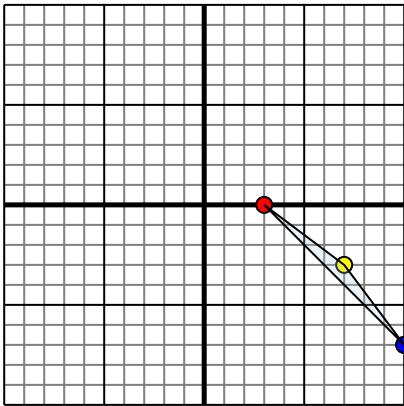


Фигура сверху имеет координаты:

- A. (5,2)
- B. (6,0)
- C. (10,7)
- D. (4,6)

Отразите фигуру относительно оси y.

3)

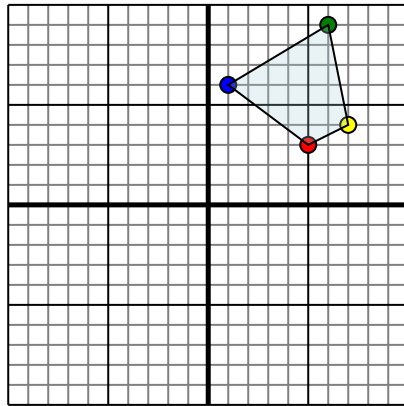


Фигура сверху имеет координаты:

- A. (3,0)
- B. (7,-3)
- C. (10,-7)

Отразите фигуру относительно оси x.

4)



Фигура сверху имеет координаты:

- A. (5,3)
- B. (7,4)
- C. (6,9)
- D. (1,6)

Отразите фигуру относительно оси y.

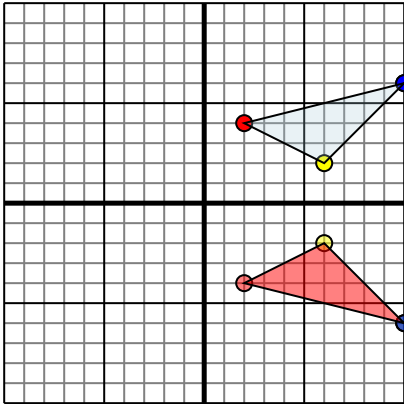
Ответы

- 1. _____
- 2. _____
- 3. _____
- 4. _____



Отразите каждую фигуру на координатной плоскости.

1)

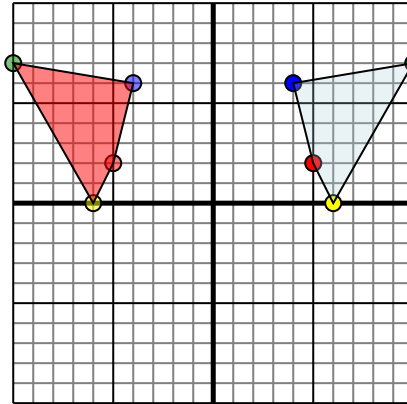


Фигура сверху имеет координаты:

- A. (2,4)
- B. (6,2)
- C. (10,6)

Отразите фигуру относительно оси x.

2)

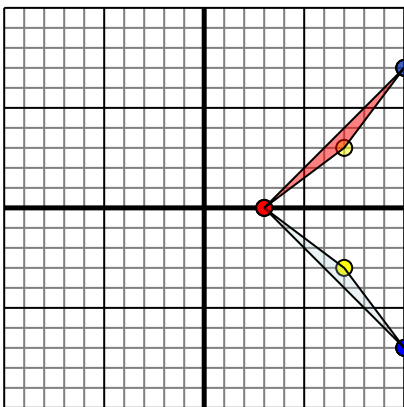


Фигура сверху имеет координаты:

- A. (5,2)
- B. (6,0)
- C. (10,7)
- D. (4,6)

Отразите фигуру относительно оси y.

3)

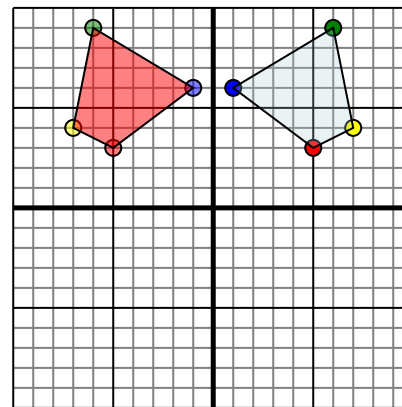


Фигура сверху имеет координаты:

- A. (3,0)
- B. (7,-3)
- C. (10,-7)

Отразите фигуру относительно оси x.

4)



Фигура сверху имеет координаты:

- A. (5,3)
- B. (7,4)
- C. (6,9)
- D. (1,6)

Отразите фигуру относительно оси y.

Ответы

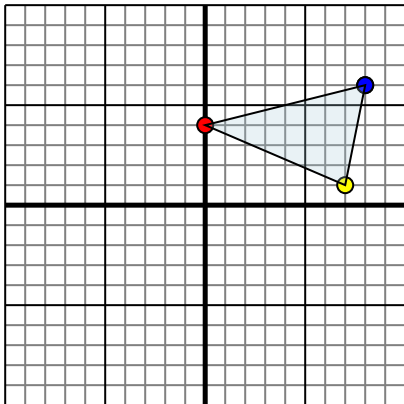
1. **2-4** **6-2** **10-6** График
2. **-5-2** **-6-0** **-10-7** **-4-6** График
3. **3-0** **7-3** **10-7** График
4. **-5-3** **-7-4** **-6-9** **-1-6** График



Отразите каждую фигуру на координатной плоскости.

Ответы

1)

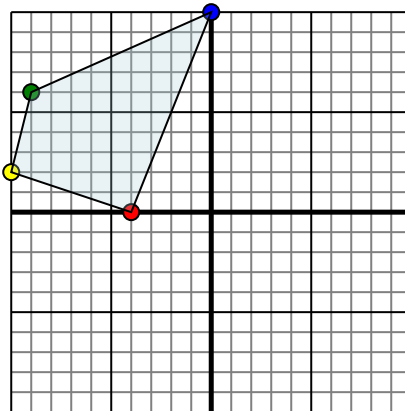


Фигура сверху имеет координаты:

- A. (0,4)
- B. (7,1)
- C. (8,6)

Отразите фигуру относительно оси x.

2)



Фигура сверху имеет координаты:

- A. (-4,0)
- B. (-10,2)
- C. (-9,6)
- D. (0,10)

Отразите фигуру относительно оси y.

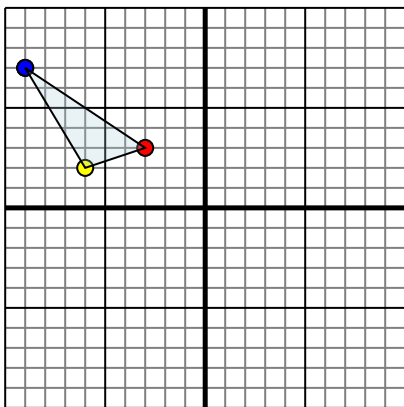
1. _____

2. _____

3. _____

4. _____

3)

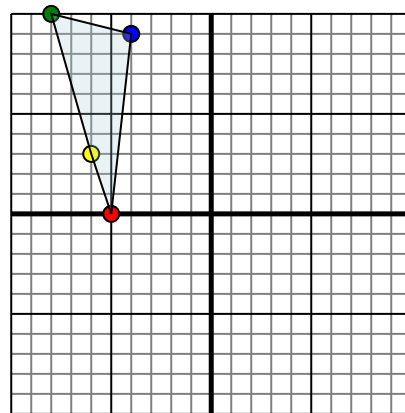


Фигура сверху имеет координаты:

- A. (-3,3)
- B. (-6,2)
- C. (-9,7)

Отразите фигуру относительно оси y.

4)



Фигура сверху имеет координаты:

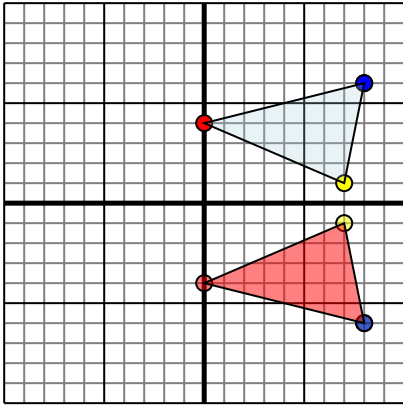
- A. (-5,0)
- B. (-6,3)
- C. (-8,10)
- D. (-4,9)

Отразите фигуру относительно оси x.



Отразите каждую фигуру на координатной плоскости.

1)

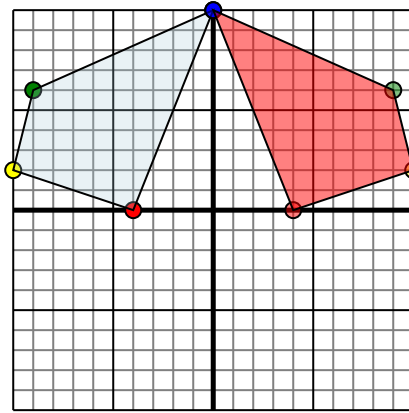


Фигура сверху имеет координаты:

- A. (0,4)
- B. (7,1)
- C. (8,6)

Отразите фигуру относительно оси x .

2)

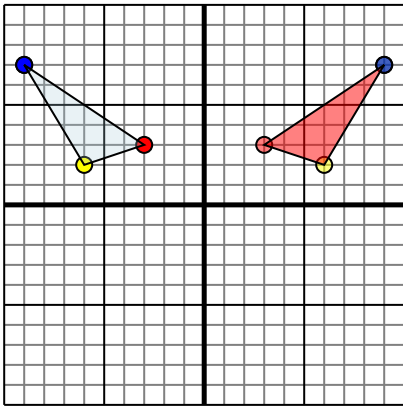


Фигура сверху имеет координаты:

- A. (-4,0)
- B. (-10,2)
- C. (-9,6)
- D. (0,10)

Отразите фигуру относительно оси y .

3)

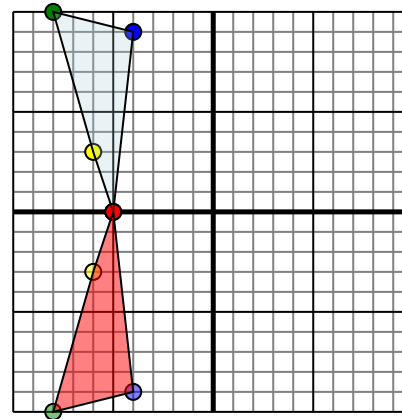


Фигура сверху имеет координаты:

- A. (-3,3)
- B. (-6,2)
- C. (-9,7)

Отразите фигуру относительно оси y .

4)



Фигура сверху имеет координаты:

- A. (-5,0)
- B. (-6,3)
- C. (-8,10)
- D. (-4,9)

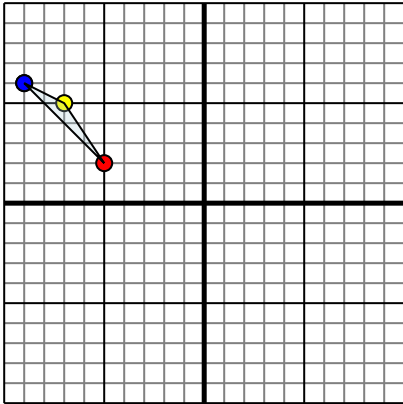
Отразите фигуру относительно оси x .**ОТВЕТЫ**

1. 0-4 7-1 8-6 График
2. 4 0 10 2 9 6 0 10 График
3. 3 3 6 2 9 7 График
4. -5 0 -6 -3 -8 -10 -4 -9 График



Отразите каждую фигуру на координатной плоскости.

1)



Фигура сверху имеет координаты:

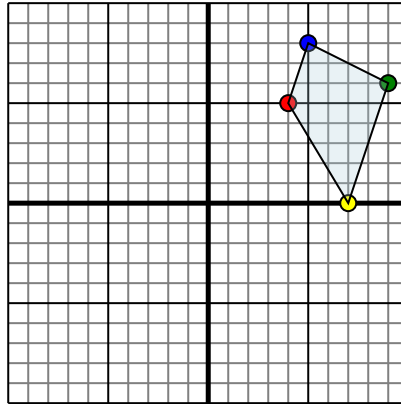
A. (-5,2)

B. (-7,5)

C. (-9,6)

Отразите фигуру относительно оси x .

2)



Фигура сверху имеет координаты:

A. (4,5)

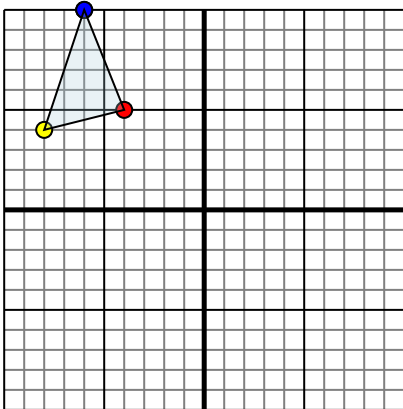
B. (7,0)

C. (9,6)

D. (5,8)

Отразите фигуру относительно оси y .

3)



Фигура сверху имеет координаты:

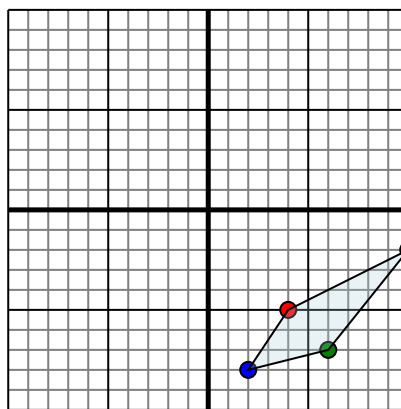
A. (-4,5)

B. (-8,4)

C. (-6,10)

Отразите фигуру относительно оси x .

4)



Фигура сверху имеет координаты:

A. (4,-5)

B. (10,-2)

C. (6,-7)

D. (2,-8)

Отразите фигуру относительно оси x .Ответы

1. _____

2. _____

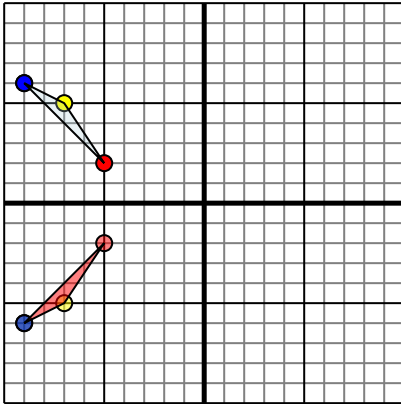
3. _____

4. _____



Отразите каждую фигуру на координатной плоскости.

1)

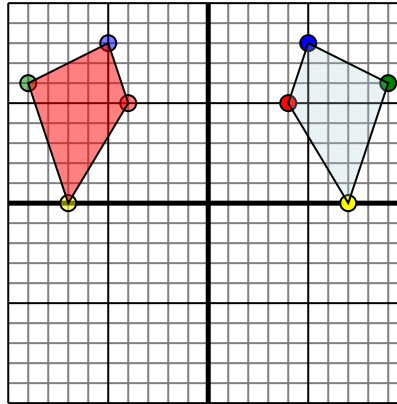


Фигура сверху имеет координаты:

- A. (-5,2)
- B. (-7,5)
- C. (-9,6)

Отразите фигуру относительно оси x.

2)

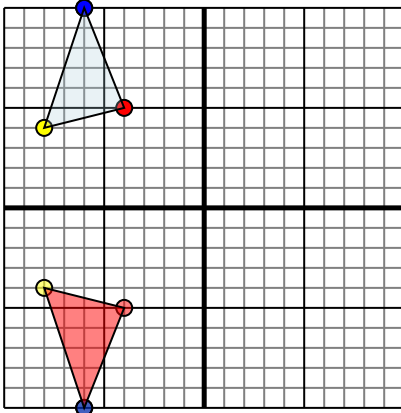


Фигура сверху имеет координаты:

- A. (4,5)
- B. (7,0)
- C. (9,6)
- D. (5,8)

Отразите фигуру относительно оси y.

3)

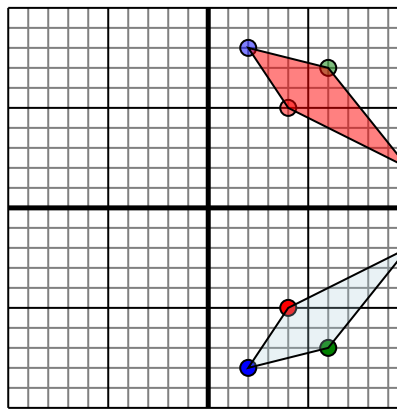


Фигура сверху имеет координаты:

- A. (-4,5)
- B. (-8,4)
- C. (-6,10)

Отразите фигуру относительно оси x.

4)



Фигура сверху имеет координаты:

- A. (4,-5)
- B. (10,-2)
- C. (6,-7)
- D. (2,-8)

Отразите фигуру относительно оси x.

ОТВЕТЫ

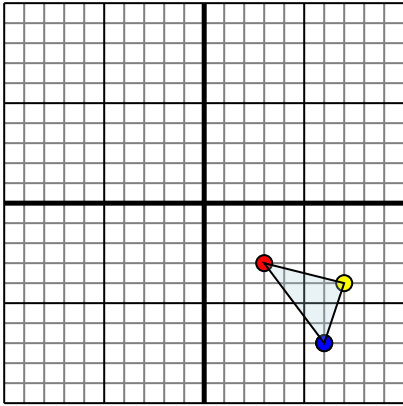
1. -5 -2 -7 -5 -9 -6 График
2. -4 -5 -7 0 -9 6 -5 8 График
3. -4 -5 -8 -4 -6 -10 График
4. 4 5 10 2 6 7 2 8 График



Отразите каждую фигуру на координатной плоскости.

ОТВЕТЫ

1)

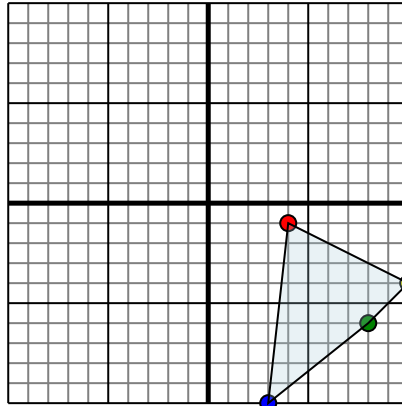


Фигура сверху имеет координаты:

- A. (3,-3)
- B. (7,-4)
- C. (6,-7)

Отразите фигуру относительно оси x.

2)

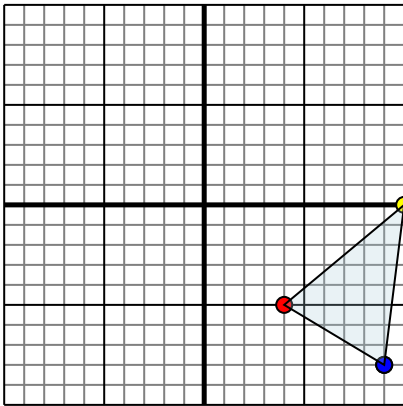


Фигура сверху имеет координаты:

- A. (4,-1)
- B. (10,-4)
- C. (8,-6)
- D. (3,-10)

Отразите фигуру относительно оси x.

3)

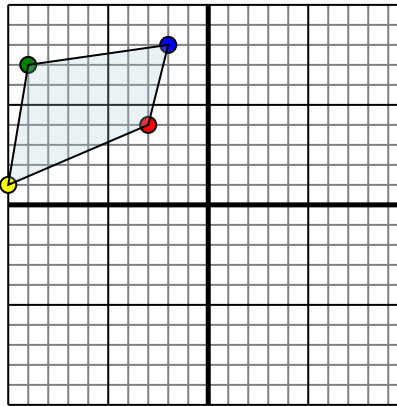


Фигура сверху имеет координаты:

- A. (4,-5)
- B. (10,0)
- C. (9,-8)

Отразите фигуру относительно оси y.

4)



Фигура сверху имеет координаты:

- A. (-3,4)
- B. (-10,1)
- C. (-9,7)
- D. (-2,8)

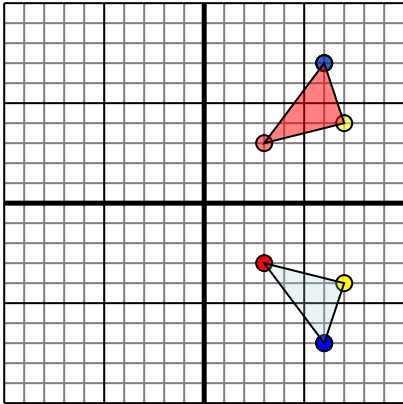
Отразите фигуру относительно оси x.

- 1. _____
- 2. _____
- 3. _____
- 4. _____



Отразите каждую фигуру на координатной плоскости.

1)

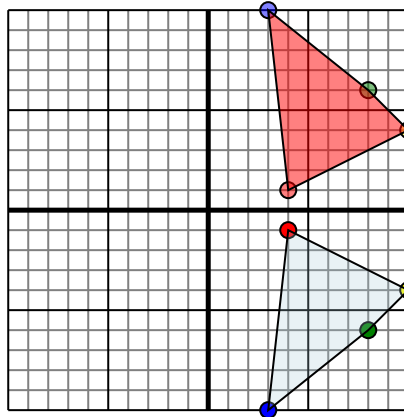


Фигура сверху имеет координаты:

- A. (3,-3)
- B. (7,-4)
- C. (6,-7)

Отразите фигуру относительно оси x.

2)

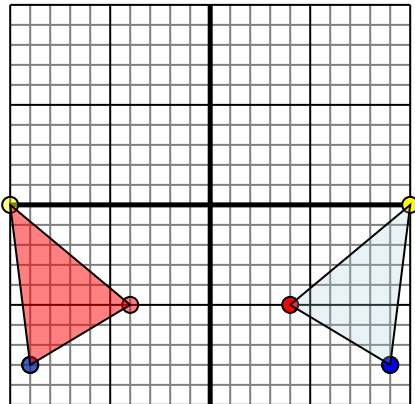


Фигура сверху имеет координаты:

- A. (4,-1)
- B. (10,-4)
- C. (8,-6)
- D. (3,-10)

Отразите фигуру относительно оси x.

3)

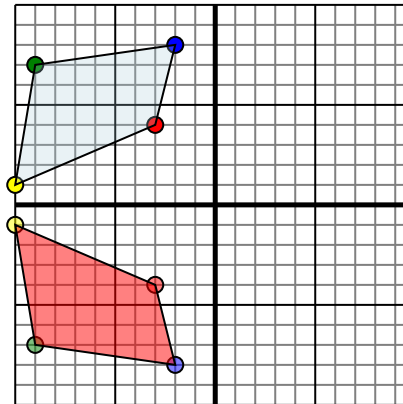


Фигура сверху имеет координаты:

- A. (4,-5)
- B. (10,0)
- C. (9,-8)

Отразите фигуру относительно оси y.

4)



Фигура сверху имеет координаты:

- A. (-3,4)
- B. (-10,1)
- C. (-9,7)
- D. (-2,8)

Отразите фигуру относительно оси x.

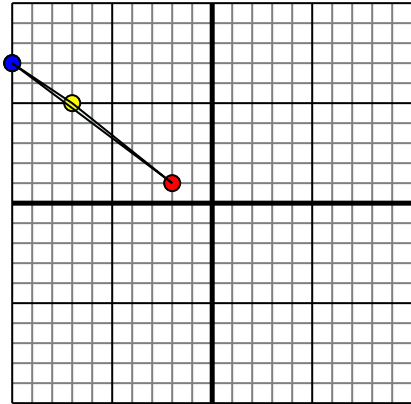
Ответы

1. **33 74 67** График
- 4
2. **1 10 4 8 6 3 10** График
3. **-4 -5 -10 0 -9 -8** График
4. **-3 -4 -10 -1 -9 -7 -2 -8** График



Отразите каждую фигуру на координатной плоскости.

1)

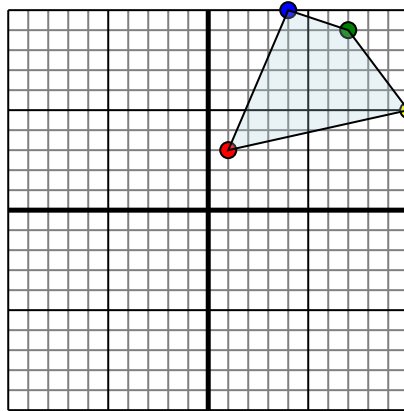


Фигура сверху имеет координаты:

- A. (-2,1)
- B. (-7,5)
- C. (-10,7)

Отразите фигуру относительно оси y .

2)

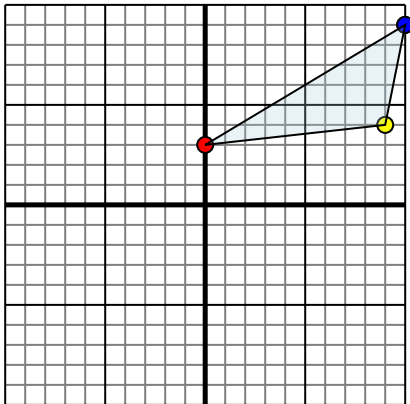


Фигура сверху имеет координаты:

- A. (1,3)
- B. (10,5)
- C. (7,9)
- D. (4,10)

Отразите фигуру относительно оси y .

3)

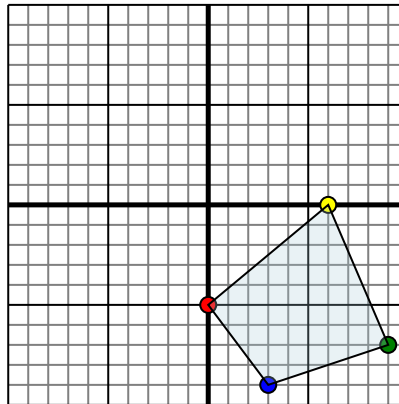


Фигура сверху имеет координаты:

- A. (0,3)
- B. (9,4)
- C. (10,9)

Отразите фигуру относительно оси y .

4)



Фигура сверху имеет координаты:

- A. (0,-5)
- B. (6,0)
- C. (9,-7)
- D. (3,-9)

Отразите фигуру относительно оси y .Ответы

1. _____

2. _____

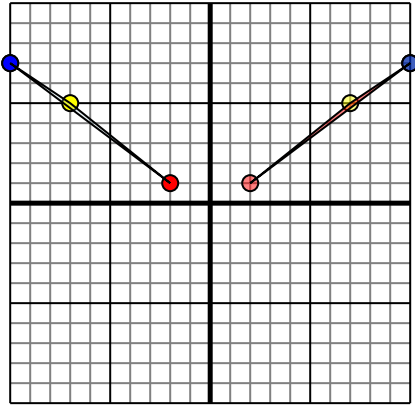
3. _____

4. _____



Отразите каждую фигуру на координатной плоскости.

1)

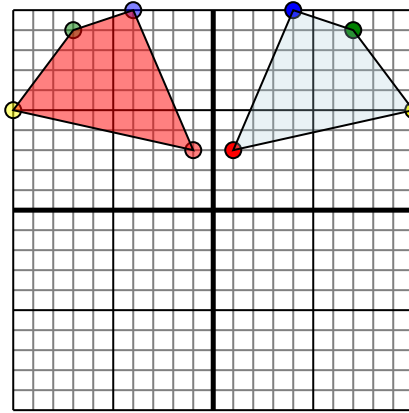


Фигура сверху имеет координаты:

- A. (-2,1)
- B. (-7,5)
- C. (-10,7)

Отразите фигуру относительно оси y .

2)

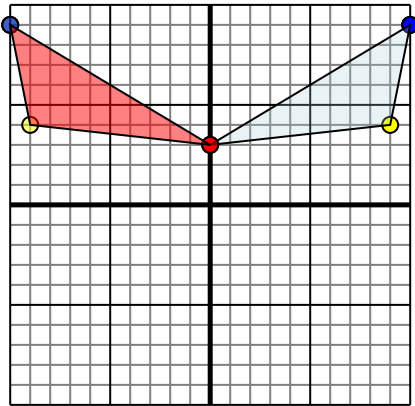


Фигура сверху имеет координаты:

- A. (1,3)
- B. (10,5)
- C. (7,9)
- D. (4,10)

Отразите фигуру относительно оси y .

3)

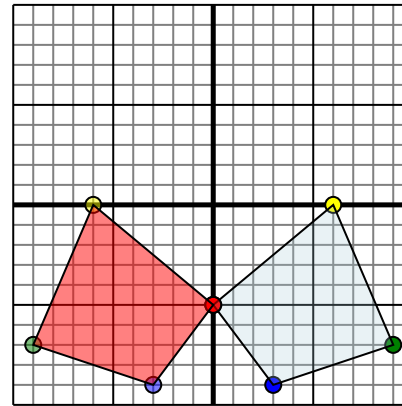


Фигура сверху имеет координаты:

- A. (0,3)
- B. (9,4)
- C. (10,9)

Отразите фигуру относительно оси y .

4)



Фигура сверху имеет координаты:

- A. (0,-5)
- B. (6,0)
- C. (9,-7)
- D. (3,-9)

Отразите фигуру относительно оси y .**Отвeты**

1. **2 1** **7 5** **10 7** График
2. **-1 3** **-10 5** **-7 9** **-4 10** График
3. **0 3** **-9 4** **-10 9** График
4. **0 -5** **-6 0** **-9 -7** **-3 -9** График