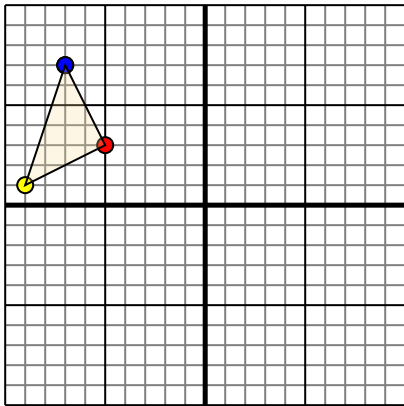




Переведите каждую фигуру как описано.

Отвeты

1)

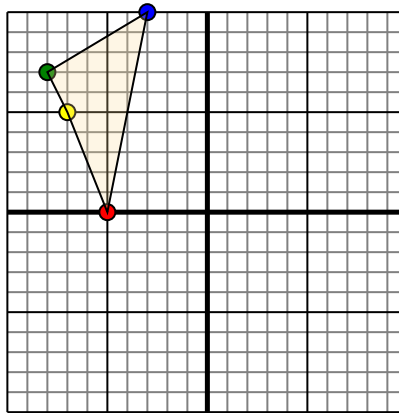


Фигура сверху имеет следующие координаты:

- A. (-5,3)
- B. (-9,1)
- C. (-7,7)

Переместите фигуру на 6 единицу прямой и 3 единицу вниз.

2)

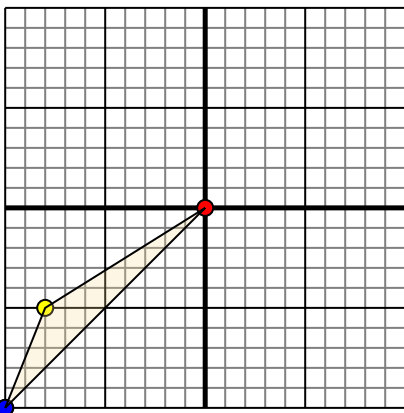


Фигура сверху имеет следующие координаты:

- A. (-5,0)
- B. (-7,5)
- C. (-8,7)
- D. (-3,10)

Переместите фигуру на 5 единицу прямой и 2 единицу вниз.

3)

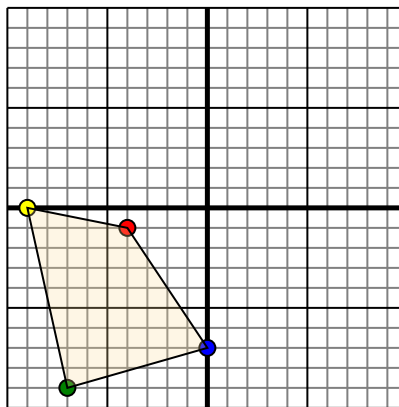


Фигура сверху имеет следующие координаты:

- A. (0,0)
- B. (-8,-5)
- C. (-10,-10)

Переместите фигуру на 10 единицу прямой и 8 единицу вверх.

4)



Фигура сверху имеет следующие координаты:

- A. (-4,-1)
- B. (-9,0)
- C. (-7,-9)
- D. (0,-7)

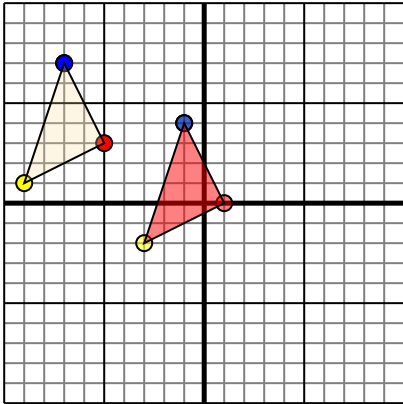
Переместите фигуру на 5 единицу прямой и 4 единицу вверх.

1. _____ График
2. _____ График
3. _____ График
4. _____ График



Переведите каждую фигуру как описано.

1)

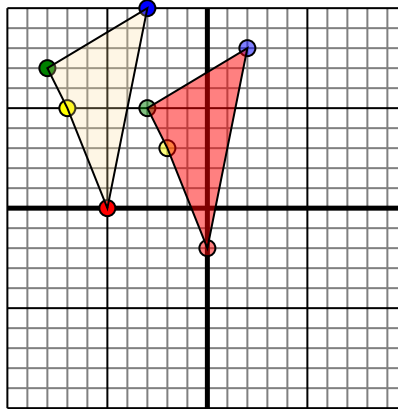


Фигура сверху имеет следующие координаты:

- A. (-5,3)
- B. (-9,1)
- C. (-7,7)

Переместите фигуру на 6 единицу прямой и 3 единицу вниз.

2)

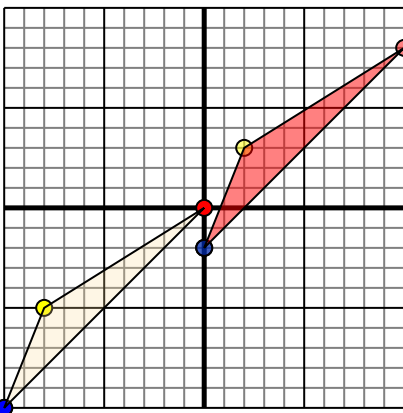


Фигура сверху имеет следующие координаты:

- A. (-5,0)
- B. (-7,5)
- C. (-8,7)
- D. (-3,10)

Переместите фигуру на 5 единицу прямой и 2 единицу вниз.

3)

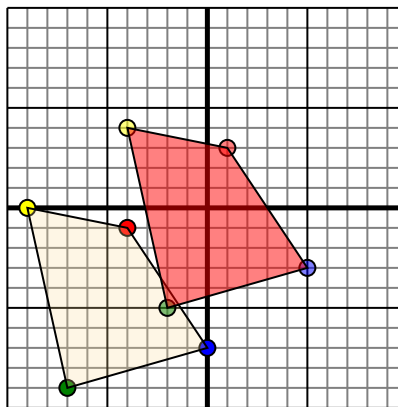


Фигура сверху имеет следующие координаты:

- A. (0,0)
- B. (-8,-5)
- C. (-10,-10)

Переместите фигуру на 10 единицу прямой и 8 единицу вверх.

4)



Фигура сверху имеет следующие координаты:

- A. (-4,-1)
- B. (-9,0)
- C. (-7,-9)
- D. (0,-7)

Переместите фигуру на 5 единицу прямой и 4 единицу вверх.

Ответы

1. **10** **-3-2** **-14** [График](#)
2. **0-2** **-2-3** **-3-5** **2-8** [График](#)
3. **10-8** **2-3** **0-2** [График](#)
- 1**
4. **3** **-4-4** **-2-5** **5-3** [График](#)