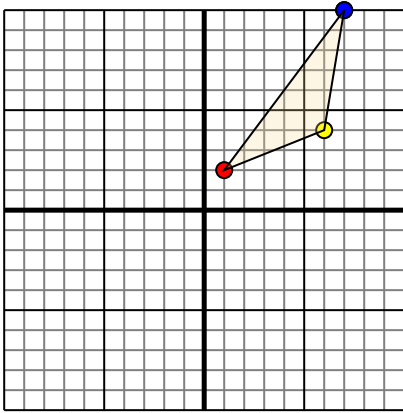




Переведите каждую фигуру как описано.

**Ответы**

1)

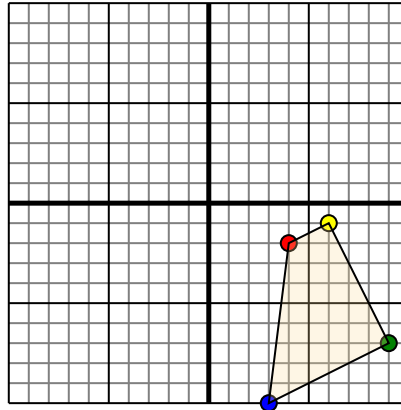


Фигура сверху имеет следующие координаты:

- A. (1,2)
- B. (6,4)
- C. (7,10)

Переместите фигуру на 5 единиц влево и 7 единиц вниз.

2)

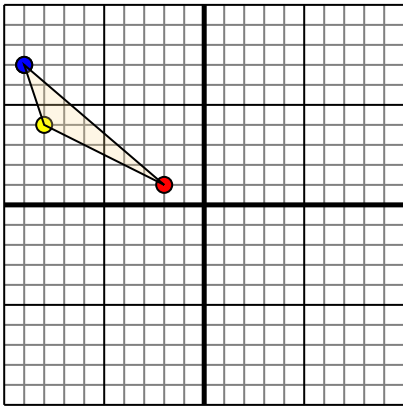


Фигура сверху имеет следующие координаты:

- A. (4,-2)
- B. (6,-1)
- C. (9,-7)
- D. (3,-10)

Переместите фигуру на 3 единицы влево и 6 единиц вверх.

3)

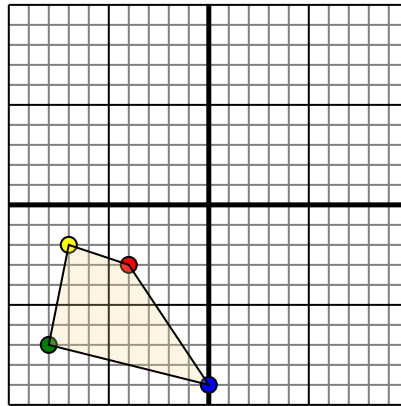


Фигура сверху имеет следующие координаты:

- A. (-2,1)
- B. (-8,4)
- C. (-9,7)

Переместите фигуру на 9 единиц прямой и 6 единиц вниз.

4)



Фигура сверху имеет следующие координаты:

- A. (-4,-3)
- B. (-7,-2)
- C. (-8,-7)
- D. (0,-9)

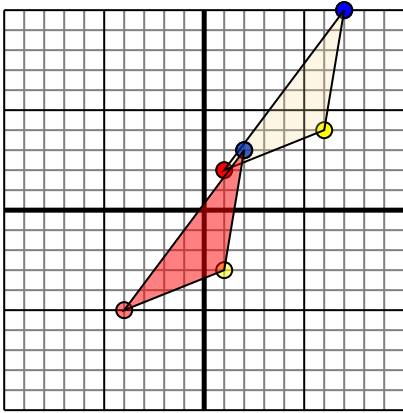
Переместите фигуру на 5 единиц прямой и 3 единицы вверх.

1. \_\_\_\_\_ График
2. \_\_\_\_\_ График
3. \_\_\_\_\_ График
4. \_\_\_\_\_ График



Переведите каждую фигуру как описано.

1)

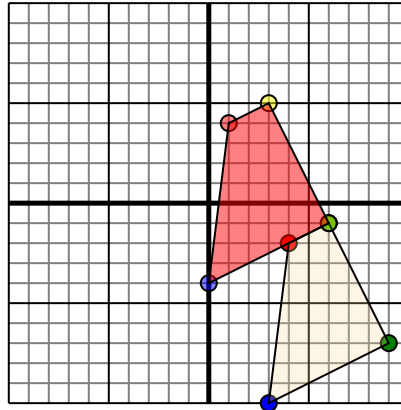


Фигура сверху имеет следующие координаты:

- A. (1,2)
- B. (6,4)
- C. (7,10)

Переместите фигуру на 5 единиц влево и 7 единиц вниз.

2)

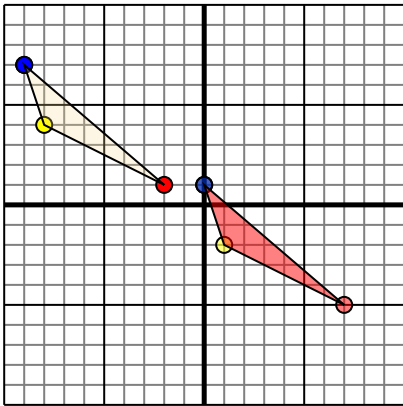


Фигура сверху имеет следующие координаты:

- A. (4,-2)
- B. (6,-1)
- C. (9,-7)
- D. (3,-10)

Переместите фигуру на 3 единицы влево и 6 единицы вверх.

3)

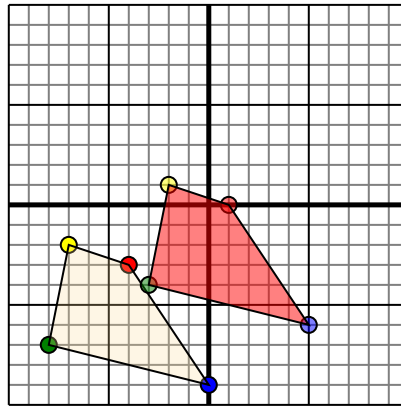


Фигура сверху имеет следующие координаты:

- A. (-2,1)
- B. (-8,4)
- C. (-9,7)

Переместите фигуру на 9 единиц прямой и 6 единиц вниз.

4)



Фигура сверху имеет следующие координаты:

- A. (-4,-3)
- B. (-7,-2)
- C. (-8,-7)
- D. (0,-9)

Переместите фигуру на 5 единиц прямой и 3 единицы вверх.

## Ответы

1. -4-5 1-3 2 3 График  
1
2. 4 3 5 6-1 0-4 График  
1
3. 7-5 1-2 0 1 График  
1
4. 0 -2 1 -3-4 5-6 График