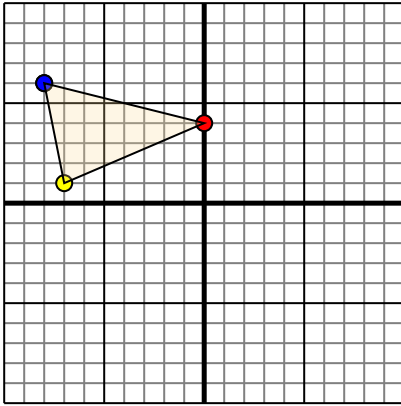




Переведите каждую фигуру как описано.

Отвeты

1)

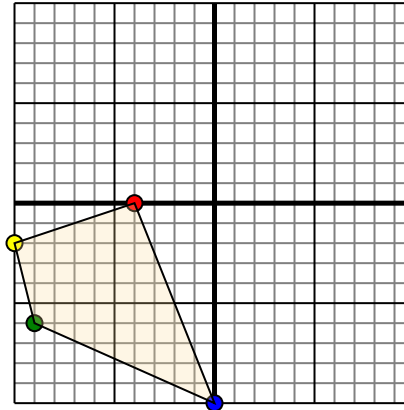


Фигура сверху имеет следующие координаты:

- A. (0,4)
- B. (-7,1)
- C. (-8,6)

Переместите фигуру на 7 единицу прямой и 4 единицу вниз.

2)

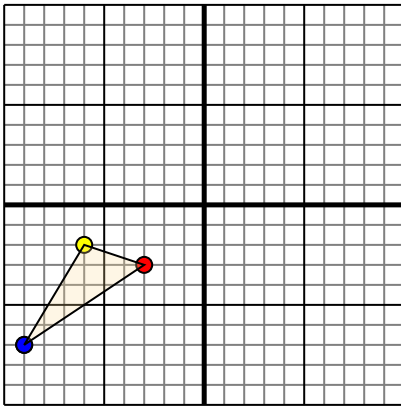


Фигура сверху имеет следующие координаты:

- A. (-4,0)
- B. (-10,-2)
- C. (-9,-6)
- D. (0,-10)

Переместите фигуру на 10 единицу прямой и 3 единицу вверх.

3)

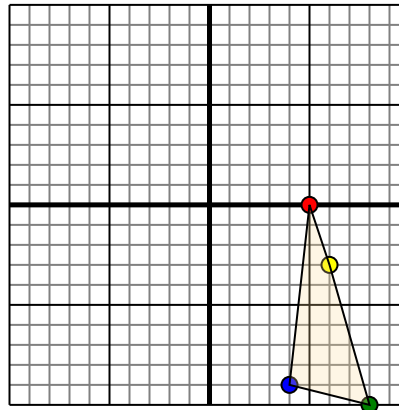


Фигура сверху имеет следующие координаты:

- A. (-3,-3)
- B. (-6,-2)
- C. (-9,-7)

Переместите фигуру на 4 единицу прямой и 9 единицу вверх.

4)



Фигура сверху имеет следующие координаты:

- A. (5,0)
- B. (6,-3)
- C. (8,-10)
- D. (4,-9)

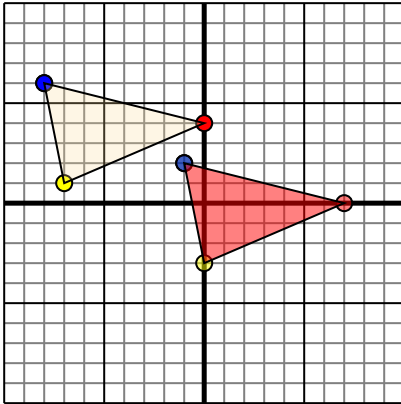
Переместите фигуру на 5 единицу влево и 9 единицу вверх.

1. _____ График
2. _____ График
3. _____ График
4. _____ График



Переведите каждую фигуру как описано.

1)

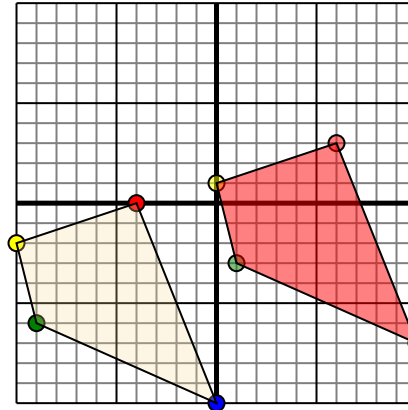


Фигура сверху имеет следующие координаты:

- A. (0,4)
- B. (-7,1)
- C. (-8,6)

Переместите фигуру на 7 единиц прямой и 4 единицы вниз.

2)

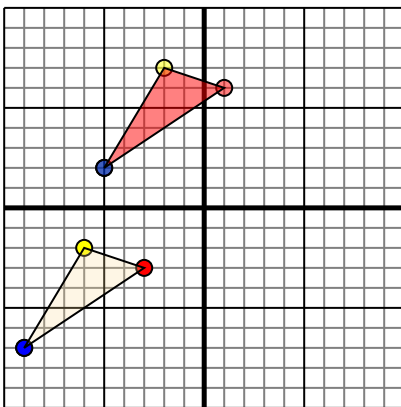


Фигура сверху имеет следующие координаты:

- A. (-4,0)
- B. (-10,-2)
- C. (-9,-6)
- D. (0,-10)

Переместите фигуру на 10 единиц прямой и 3 единицы вверх.

3)

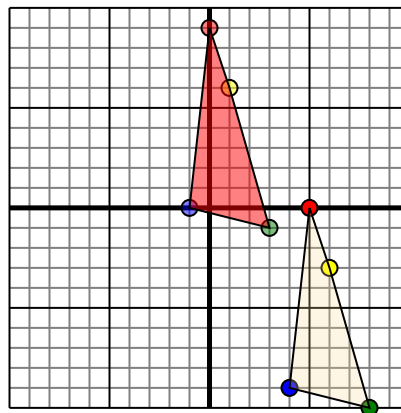


Фигура сверху имеет следующие координаты:

- A. (-3,-3)
- B. (-6,-2)
- C. (-9,-7)

Переместите фигуру на 4 единицы прямой и 9 единицы вверх.

4)



Фигура сверху имеет следующие координаты:

- A. (5,0)
- B. (6,-3)
- C. (8,-10)
- D. (4,-9)

Переместите фигуру на 5 единицы влево и 9 единицы вверх.

Ответы

1. **70** **0-3** **-12** График
2. **63** **1** **0** **1** **-3** **10-7** График
3. **16** **-27** **-52** График
4. **09** **6** **3-1** **-10** График