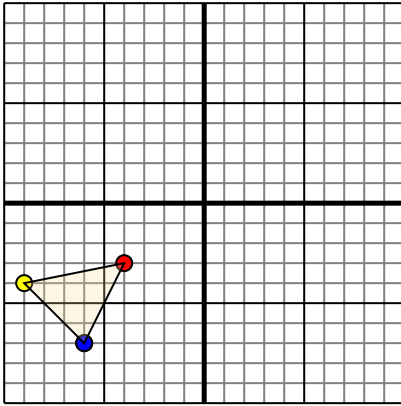




Переведите каждую фигуру как описано.

Отвeты

1)

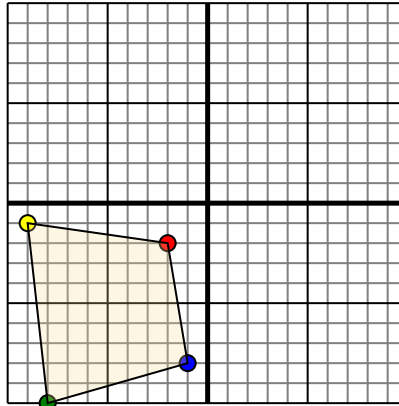


Фигура сверху имеет следующие координаты:

- A. (-4,-3)
- B. (-9,-4)
- C. (-6,-7)

Переместите фигуру на 8 единицу прямой и 3 единицу вверх.

2)

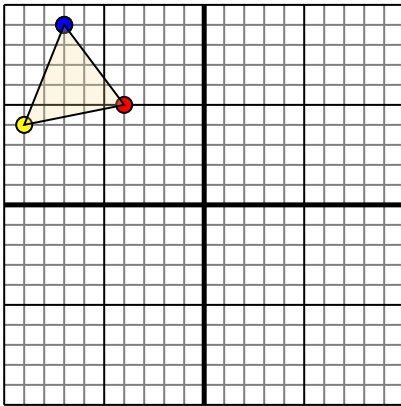


Фигура сверху имеет следующие координаты:

- A. (-2,-2)
- B. (-9,-1)
- C. (-8,-10)
- D. (-1,-8)

Переместите фигуру на 6 единицу прямой и 7 единицу вверх.

3)

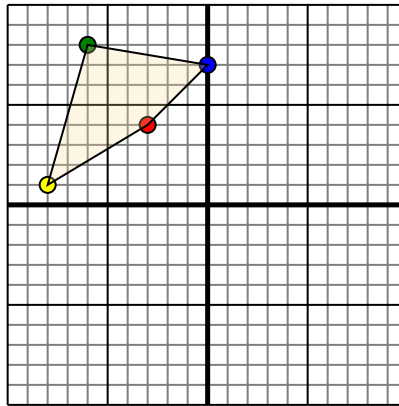


Фигура сверху имеет следующие координаты:

- A. (-4,5)
- B. (-9,4)
- C. (-7,9)

Переместите фигуру на 8 единицу прямой и 7 единицу вниз.

4)



Фигура сверху имеет следующие координаты:

- A. (-3,4)
- B. (-8,1)
- C. (-6,8)
- D. (0,7)

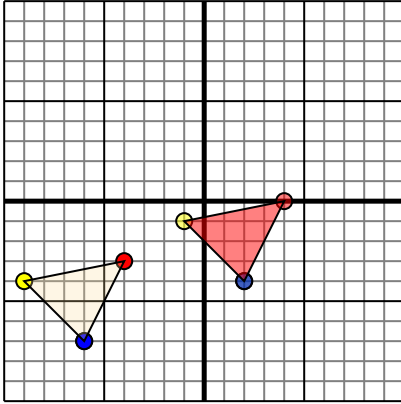
Переместите фигуру на 2 единицу прямой и 10 единицу вниз.

1. _____ [График](#)
2. _____ [График](#)
3. _____ [График](#)
4. _____ [График](#)



Переведите каждую фигуру как описано.

1)

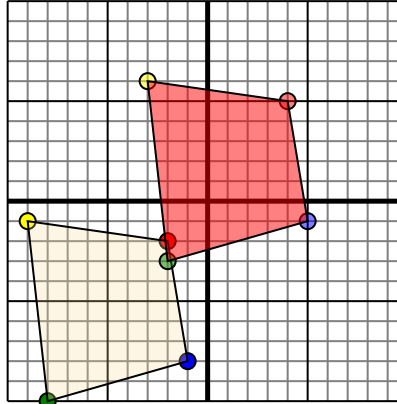


Фигура сверху имеет следующие координаты:

- A. (-4,-3)
- B. (-9,-4)
- C. (-6,-7)

Переместите фигуру на 8 единицу прямой и 3 единицу вверх.

2)

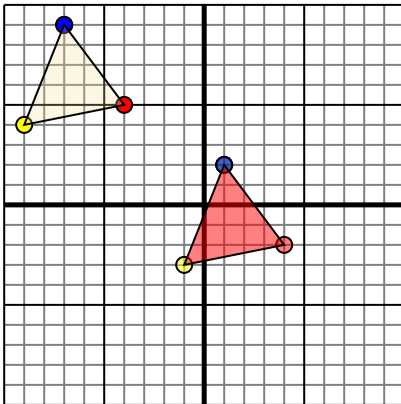


Фигура сверху имеет следующие координаты:

- A. (-2,-2)
- B. (-9,-1)
- C. (-8,-10)
- D. (-1,-8)

Переместите фигуру на 6 единицу прямой и 7 единицу вверх.

3)

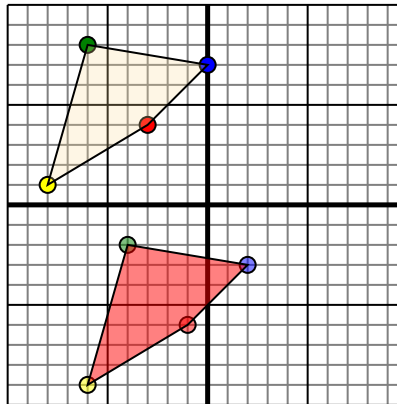


Фигура сверху имеет следующие координаты:

- A. (-4,5)
- B. (-9,4)
- C. (-7,9)

Переместите фигуру на 8 единицу прямой и 7 единицу вниз.

4)



Фигура сверху имеет следующие координаты:

- A. (-3,4)
- B. (-8,1)
- C. (-6,8)
- D. (0,7)

Переместите фигуру на 2 единицу прямой и 10 единицу вниз.

Ответы

1. **40** **-1-1** **2-4** График
2. **45** **-3-6** **-2-3** **5** График
3. **4-2** **-1-3** **12** График
4. **-1-6** **-6-9** **-4-2** **2-3** График