


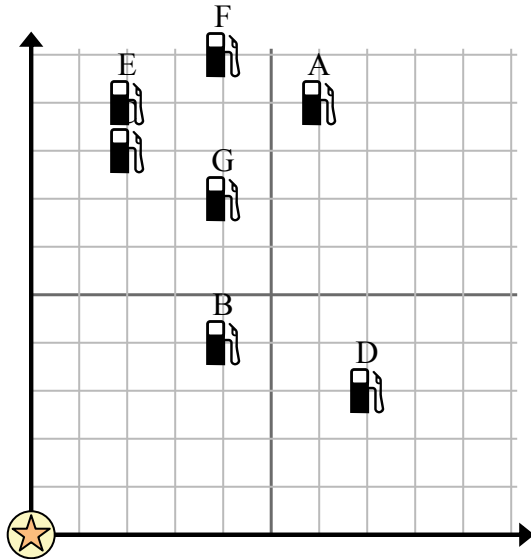


Используйте сетку для решения каждой проблемы.

 = Бензоколонка

 = Торговый центр

 = 1 Square Миля





- 1) Инвесторы хотели построить новую заправочную станцию, но хотели убедиться, что она находится на расстоянии не менее 2 миль от ранее существовавшей. Следует ли им построить заправочную станцию в 2 милях к востоку и 7 милях к северу от торгового центра?
- 2) Какая заправка находится ближе всего к ТЦ?
- 3) Какая заправка находится дальше всего от торгового центра?
- 4) Какая заправка находится дальше north? Станция С или станция G?
- 5) Если бы вы отправились на 4 миль на восток и 10 миль на север от торгового центра, на какой заправочной станции вы оказались бы?

Отвeты

1. _____
2. _____
3. _____
4. _____
5. _____
6. _____
7. _____
8. _____
9. _____
10. _____

- 6) Новое судно хотело ловить рыбу, но капитан хотел убедиться, что они находятся как минимум в 2 милях от другого корабля. Если бы он проплыл 9 миль к востоку и 9 миль к северу, подойдет ли ему это место?

 = Корабль

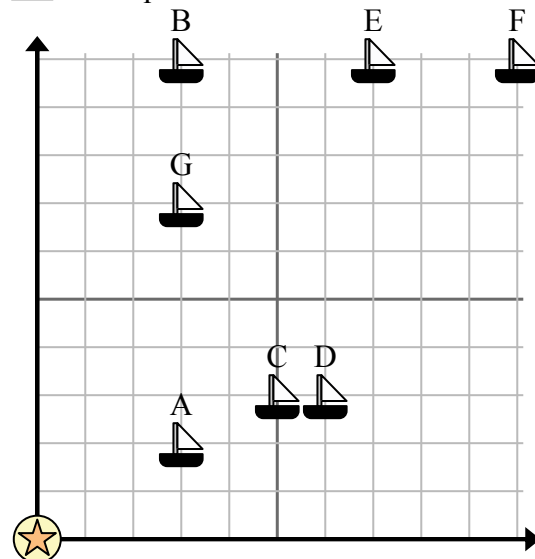
 = Буй

 = 1 Square Миля

- 7) Какой корабль ближе всего к бую?

- 8) Какой корабль дальше всего от бую?

- 9) Какой корабль дальше east? Отправить В или отправить F?



- 10) Какой корабль находится в 3 милях к востоку и 2 милях к северу от бую?

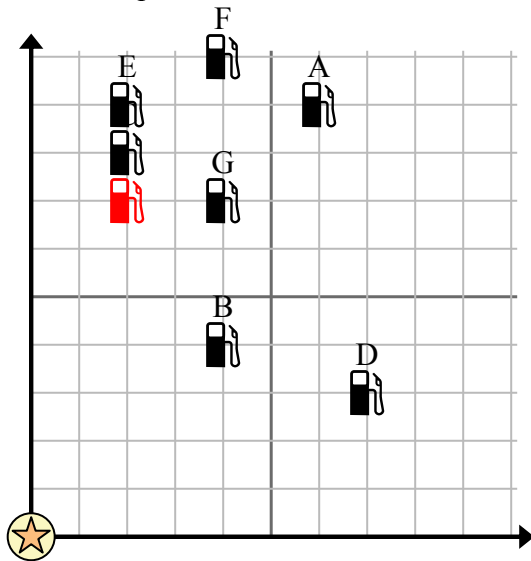


Используйте сетку для решения каждой проблемы.

= Бензоколонка

= Торговый центр

= 1 Square Миля



- 1) Инвесторы хотели построить новую заправочную станцию, но хотели убедиться, что она находится на расстоянии не менее 2 миль от ранее существовавшей. Следует ли им построить заправочную станцию в 2 милях к востоку и 7 милях к северу от торгового центра?
- 2) Какая заправка находится ближе всего к ТЦ?
- 3) Какая заправка находится дальше всего от торгового центра?
- 4) Какая заправка находится дальше north? Станция С или станция G?
- 5) Если бы вы отправились на 4 миль на восток и 10 миль на север от торгового центра, на какой заправочной станции вы оказались бы?

Ответы

1. **нет**
2. **В**
3. **А**
4. **С**
5. **F**
6. **нет**
7. **А**
8. **F**
9. **F**
10. **А**

- 6) Новое судно хотело ловить рыбу, но капитан хотел убедиться, что они находятся как минимум в 2 милях от другого корабля. Если бы он проплыл 9 миль к востоку и 9 миль к северу, подойдет ли ему это место?

- 7) Какой корабль ближе всего к бую?

- 8) Какой корабль дальше всего от бую?

- 9) Какой корабль дальше east? Отправить В или отправить F?

- 10) Какой корабль находится в 3 милях к востоку и 2 милях к северу от бую?

= Корабль

= Буй

= 1 Square Миля

