

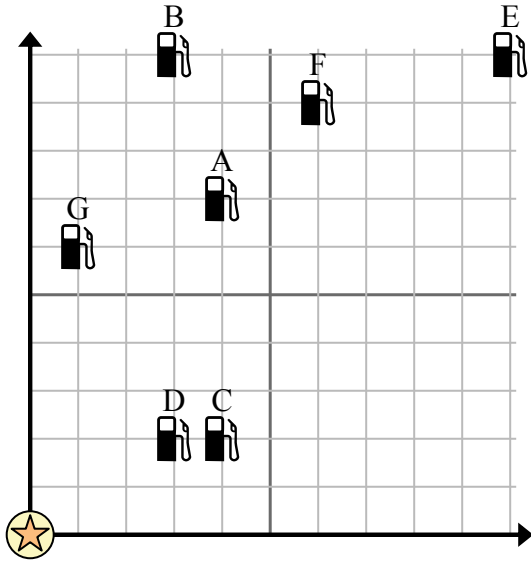


Используйте сетку для решения каждой проблемы.

= Бензоколонка

= Торговый центр

= 1 Square Миля



- 1) Инвесторы хотели построить новую заправочную станцию, но хотели убедиться, что она находится на расстоянии не менее 2 миль от ранее существовавшей. Следует ли им построить заправочную станцию в 9 милях к востоку и 5 милях к северу от торгового центра?
- 2) Какая заправка находится ближе всего к ТЦ?
- 3) Какая заправка находится дальше всего от торгового центра?
- 4) Какая заправка находится дальше south? Станция G или станция C?
- 5) Если бы вы отправились на 6 миль на восток и 9 миль на север от торгового центра, на какой заправочной станции вы оказались бы?

**Ответы**

1. \_\_\_\_\_
2. \_\_\_\_\_
3. \_\_\_\_\_
4. \_\_\_\_\_
5. \_\_\_\_\_
6. \_\_\_\_\_
7. \_\_\_\_\_
8. \_\_\_\_\_
9. \_\_\_\_\_
10. \_\_\_\_\_

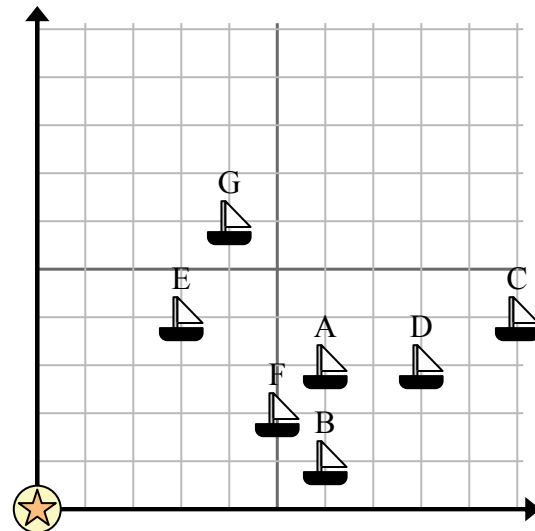
- 6) Новое судно хотело ловить рыбу, но капитан хотел убедиться, что они находятся как минимум в 2 милях от другого корабля. Если бы он проплыл 6 миль к востоку и 7 миль к северу, подойдет ли ему это место?

= Корабль

= Буй

= 1 Square Миля

- 7) Какой корабль ближе всего к бую?
- 8) Какой корабль дальше всего от бую?
- 9) Какой корабль дальше south? Отправить G или отправить C?



- 10) Какой корабль находится в 5 милях к востоку и 2 милях к северу от бую?

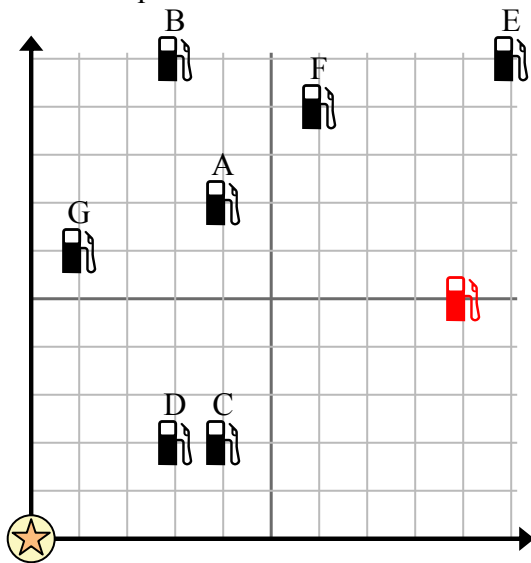


Используйте сетку для решения каждой проблемы.

= Бензоколонка

= Торговый центр

= 1 Square Миля



- 1) Инвесторы хотели построить новую заправочную станцию, но хотели убедиться, что она находится на расстоянии не менее 2 миль от ранее существовавшей. Следует ли им построить заправочную станцию в 9 милях к востоку и 5 милях к северу от торгового центра?
- 2) Какая заправка находится ближе всего к ТЦ?
- 3) Какая заправка находится дальше всего от торгового центра?
- 4) Какая заправка находится дальше south? Станция G или станция C?
- 5) Если бы вы отправились на 6 миль на восток и 9 миль на север от торгового центра, на какой заправочной станции вы оказались бы?

**Ответы**

1. **да**
2. **D**
3. **E**
4. **C**
5. **F**
6. **да**
7. **E**
8. **C**
9. **C**
10. **F**

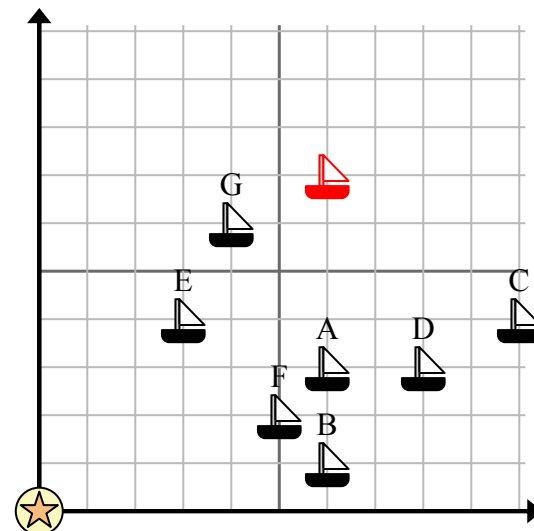
- 6) Новое судно хотело ловить рыбу, но капитан хотел убедиться, что они находятся как минимум в 2 милях от другого корабля. Если бы он проплыл 6 миль к востоку и 7 миль к северу, подойдет ли ему это место?

= Корабль

= Буй

= 1 Square Миля

- 7) Какой корабль ближе всего к бую?
- 8) Какой корабль дальше всего от бую?
- 9) Какой корабль дальше south? Отправить G или отправить C?



- 10) Какой корабль находится в 5 милях к востоку и 2 милях к северу от бую?