


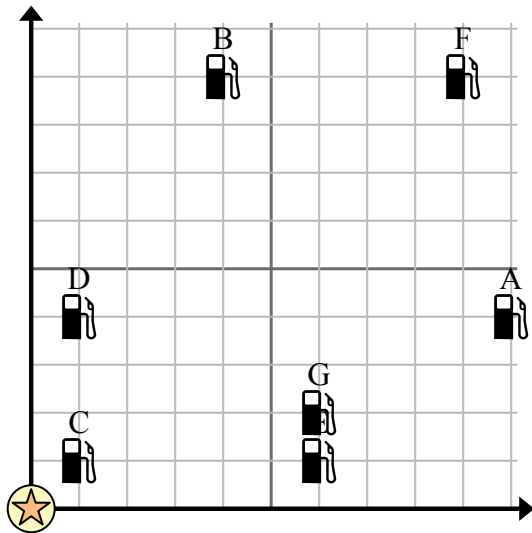




Используйте сетку для решения каждой проблемы.

-  = Бензоколонка
-  = Торговый центр
-  = 1 Square Миля






- 1) Инвесторы хотели построить новую заправочную станцию, но хотели убедиться, что она находится на расстоянии не менее 2 миль от ранее существовавшей. Следует ли им построить заправочную станцию в 6 милях к востоку и 10 милях к северу от торгового центра?
- 2) Какая заправка находится ближе всего к ТЦ?
- 3) Какая заправка находится дальше всего от торгового центра?
- 4) Какая заправка находится дальше east? Станция E или станция G?
- 5) Если бы вы отправились на 9 миль на восток и 9 миль на север от торгового центра, на какой заправочной станции вы оказались бы?

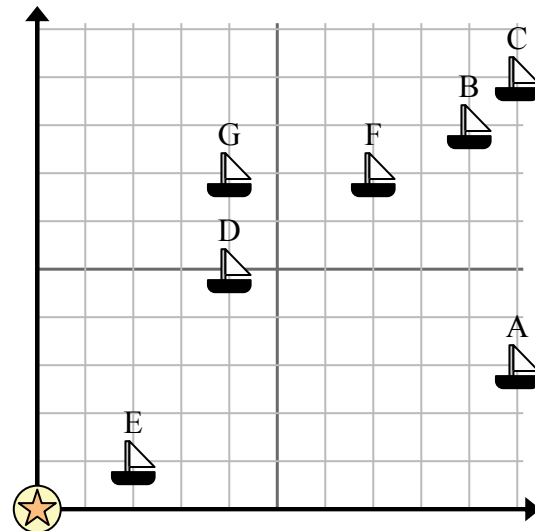
Отвeты

1. _____
2. _____
3. _____
4. _____
5. _____
6. _____
7. _____
8. _____
9. _____
10. _____

- 6) Новое судно хотело ловить рыбу, но капитан хотел убедиться, что они находятся как минимум в 2 милях от другого корабля. Если бы он проплыл 6 миль к востоку и 8 миль к северу, подойдет ли ему это место?

-  = Корабль
-  = Буй
-  = 1 Square Миля

- 7) Какой корабль ближе всего к бую?
- 8) Какой корабль дальше всего от бую?
- 9) Какой корабль дальше east? Отправить G или отправить E?



- 10) Какой корабль находится в 2 милях к востоку и 1 миль к северу от бую?

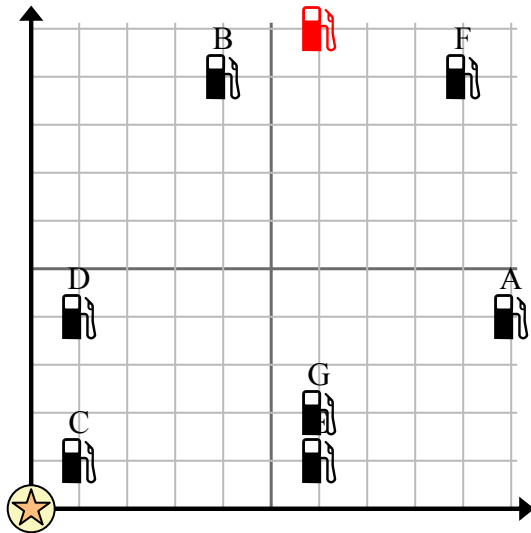


Используйте сетку для решения каждой проблемы.

= Бензоколонка

= Торговый центр

= 1 Square Миля



- Инвесторы хотели построить новую заправочную станцию, но хотели убедиться, что она находится на расстоянии не менее 2 миль от ранее существовавшей. Следует ли им построить заправочную станцию в 6 милях к востоку и 10 милям к северу от торгового центра?
- Какая заправка находится ближе всего к ТЦ?
- Какая заправка находится дальше всего от торгового центра?
- Какая заправка находится дальше east? Станция E или станция G?
- Если бы вы отправились на 9 миль на восток и 9 миль на север от торгового центра, на какой заправочной станции вы оказались бы?

Ответы

- да**
- С**
- F**
- A**
- F**
- нет**
- E**
- С**
- G**
- E**

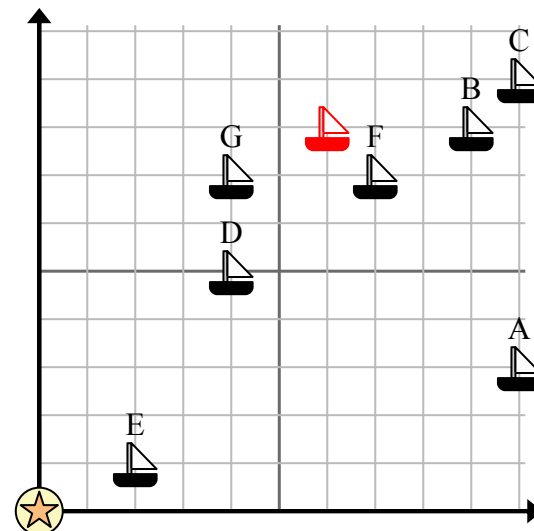
- Новое судно хотело ловить рыбу, но капитан хотел убедиться, что они находятся как минимум в 2 милях от другого корабля. Если бы он проплыл 6 миль к востоку и 8 миль к северу, подойдет ли ему это место?

= Корабль

= Буй

= 1 Square Миля

- Какой корабль ближе всего к бую?
- Какой корабль дальше всего от бую?
- Какой корабль дальше east? Отправить G или отправить E?



- Какой корабль находится в 2 милях к востоку и 1 миле к северу от бую?