



Измерьте каждую фигуру и затем сформируйте график, основанный на данной информации.


Ответы



1. _____



2. _____



3. _____




4. _____



5. _____



6. _____




7. _____



8. _____



9. _____



10. _____



11. _____



12. _____



13. _____



14. _____





15. _____

Line Plot



Измерьте каждую фигуру и затем сформируйте график, основанный на данной информации.



Ответы

1. 6

2. 6

3. 9

4. 6

5. 6

6. 6

7. 6

8. 9

9. 9

10. 9

11. 6

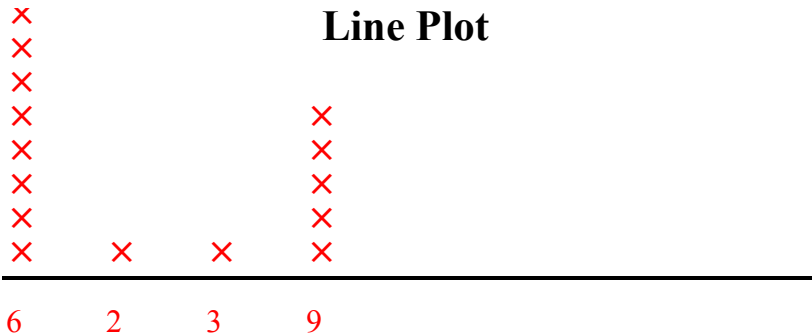
12. 6

13. 2

14. 9


15. 3

Line Plot





Измерьте каждую фигуру и затем сформируйте график, основанный на данной информации.



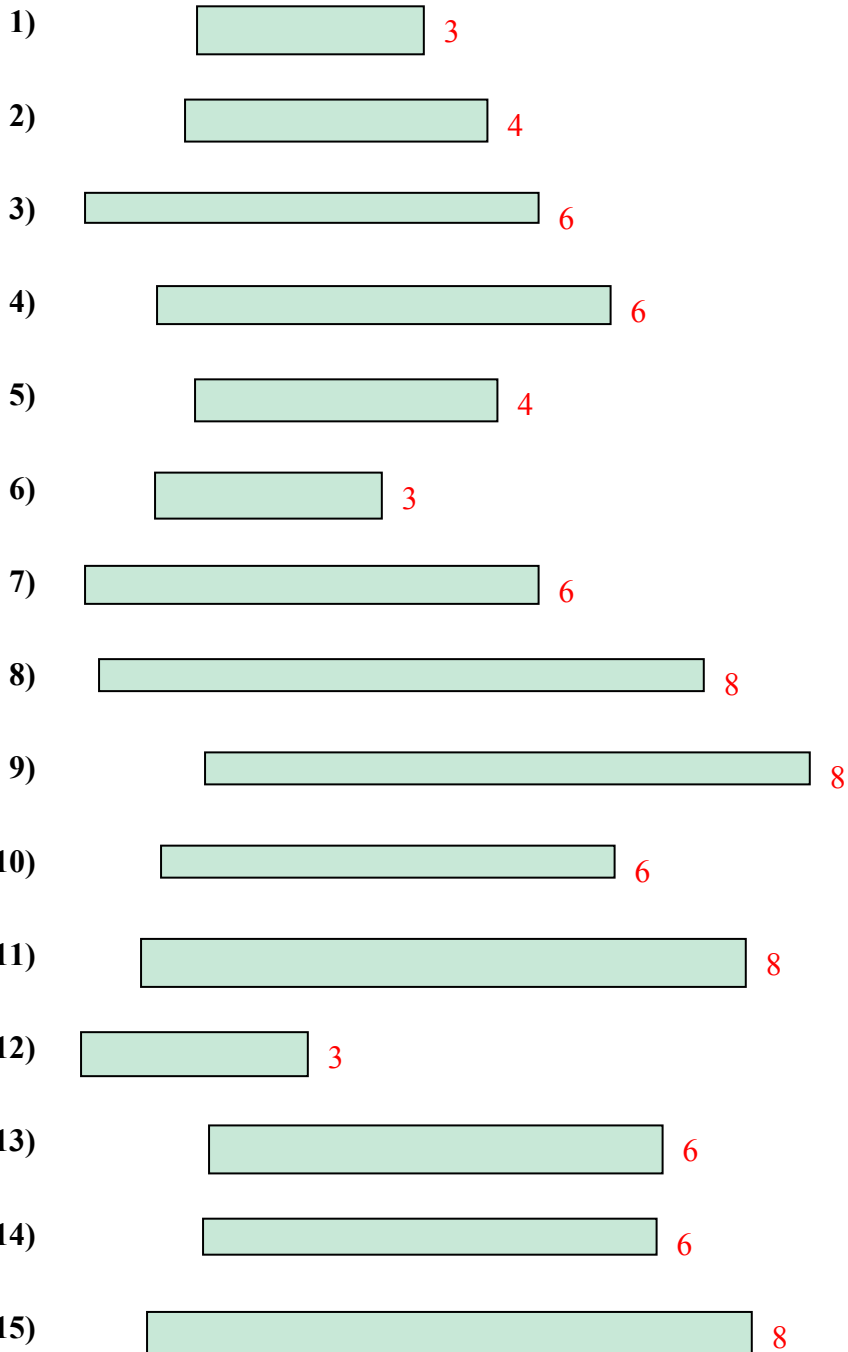
Line Plot

Ответы

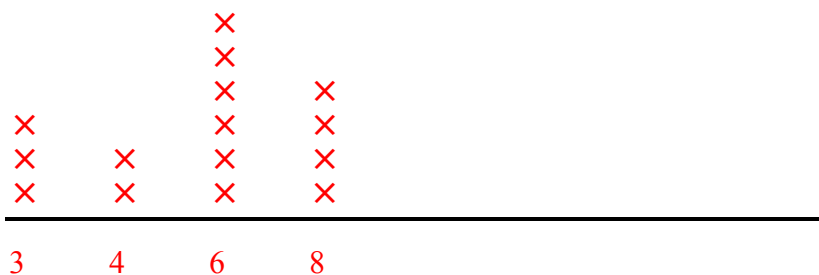
- 1. _____
- 2. _____
- 3. _____
- 4. _____
- 5. _____
- 6. _____
- 7. _____
- 8. _____
- 9. _____
- 10. _____
- 11. _____
- 12. _____
- 13. _____
- 14. _____
- 15. _____



Измерьте каждую фигуру и затем сформируйте график, основанный на данной информации.



Line Plot

Ответы

1. 3
2. 4
3. 6
4. 6
5. 4
6. 3
7. 6
8. 8
9. 8
10. 6
11. 8
12. 3
13. 6
14. 6
15. 8



Измерьте каждую фигуру и затем сформируйте график, основанный на данной информации.


Ответы



1. _____



2. _____



3. _____



4. _____



5. _____



6. _____



7. _____



8. _____



9. _____



10. _____



11. _____



12. _____



13. _____



14. _____



15. _____

Line Plot



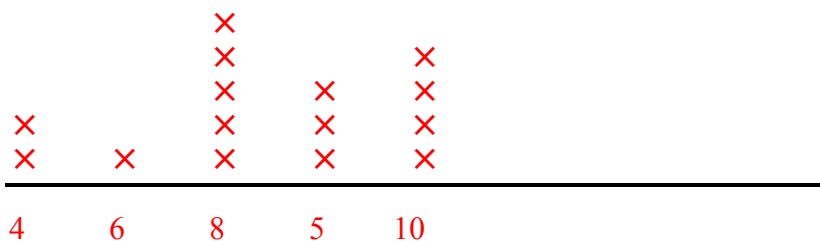
Измерьте каждую фигуру и затем сформируйте график, основанный на данной информации.



Отвѣты

1. 8
2. 8
3. 8
4. 10
5. 5
6. 4
7. 5
8. 6
9. 8
10. 8
11. 10
12. 10
13. 4
14. 5
15. 10

Line Plot





Измерьте каждую фигуру и затем сформируйте график, основанный на данной информации.

ОТВЕТЫ



1. _____



2. _____



3. _____



4. _____



5. _____



6. _____



7. _____



8. _____



9. _____



10. _____



11. _____



12. _____



13. _____



14. _____


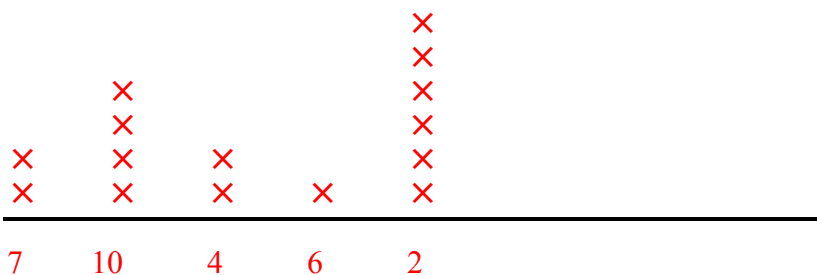


15. _____

Line Plot



Измерьте каждую фигуру и затем сформируйте график, основанный на данной информации.

1)  42)  23)  104)  25)  26)  47)  28)  79)  1010)  711)  612)  1013)  214)  1015)  2**Ответы**1. 42. 23. 104. 25. 26. 47. 28. 79. 1010. 711. 612. 1013. 214. 1015. 2**Line Plot**



Измерьте каждую фигуру и затем сформируйте график, основанный на данной информации.

Ответы



1. _____



2. _____



3. _____



4. _____



5. _____



6. _____



7. _____



8. _____



9. _____



10. _____



11. _____



12. _____



13. _____



14. _____



15. _____

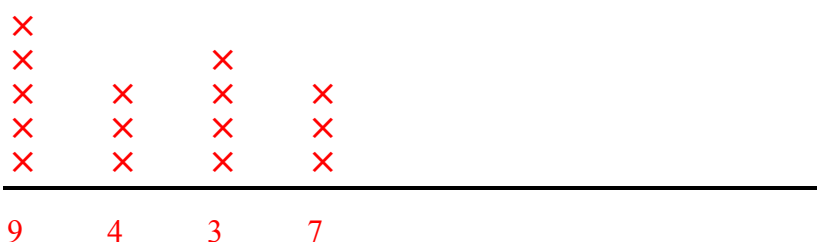
Line Plot



Измерьте каждую фигуру и затем сформируйте график, основанный на данной информации.



Line Plot



Ответы

1. 9

2. 3

3. 3

4. 3

5. 7

6. 9

7. 3

8. 9

9. 4

10. 9

11. 7

12. 7

13. 4

14. 9

15. 4



Измерьте каждую фигуру и затем сформируйте график, основанный на данной информации.



Ответы

1. _____

2. _____

3. _____

4. _____

5. _____

6. _____

7. _____

8. _____

9. _____

10. _____

11. _____

12. _____

13. _____

14. _____

15. _____

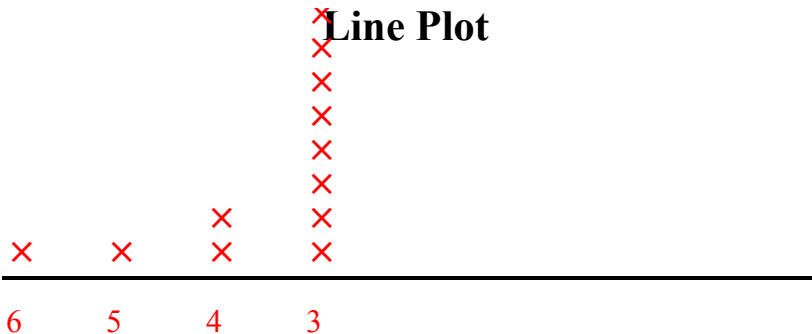
Line Plot



Измерьте каждую фигуру и затем сформируйте график, основанный на данной информации.



Line Plot



Ответы

1. 3

2. 3

3. 3

4. 3

5. 4

6. 3

7. 3

8. 5

9. 3

10. 3

11. 6

12. 3

13. 3

14. 3

15. 4



Измерьте каждую фигуру и затем сформируйте график, основанный на данной информации.

ОТВЕТЫ



1. _____



2. _____



3. _____



4. _____



5. _____



6. _____



7. _____



8. _____



9. _____



10. _____



11. _____



12. _____



13. _____



14. _____




15. _____

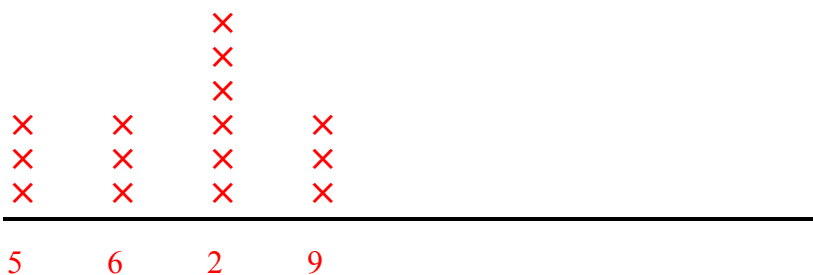
Line Plot



Измерьте каждую фигуру и затем сформируйте график, основанный на данной информации.



Line Plot



Ответы

1. 9

2. 2

3. 9

4. 6

5. 5

6. 2

7. 2

8. 5

9. 2

10. 9

11. 5

12. 6

13. 2

14. 6

15. 2



Измерьте каждую фигуру и затем сформируйте график, основанный на данной информации.

Ответы



1. _____



2. _____




3. _____




4. _____



5. _____



6. _____



7. _____



8. _____



9. _____



10. _____



11. _____



12. _____



13. _____



14. _____

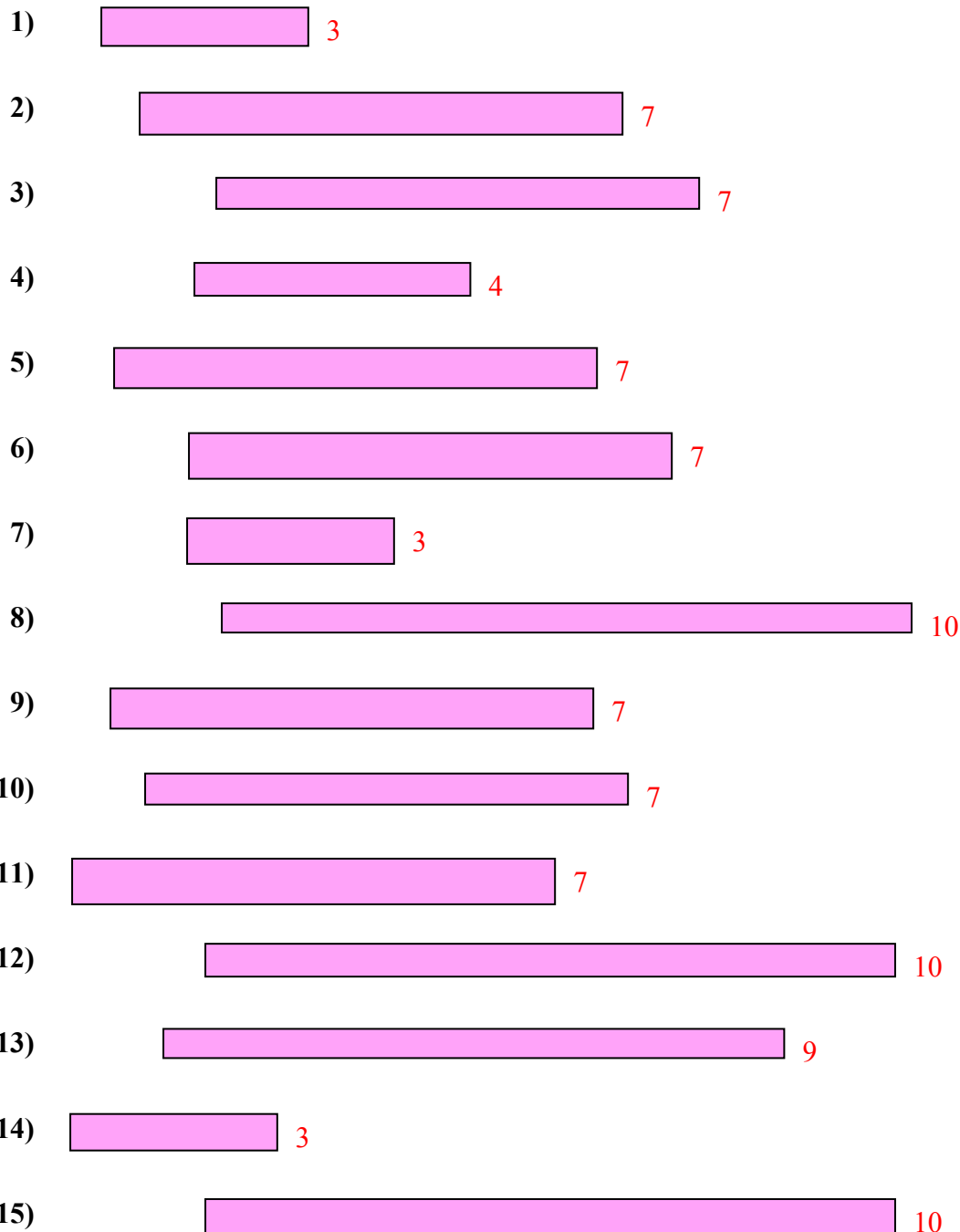


15. _____

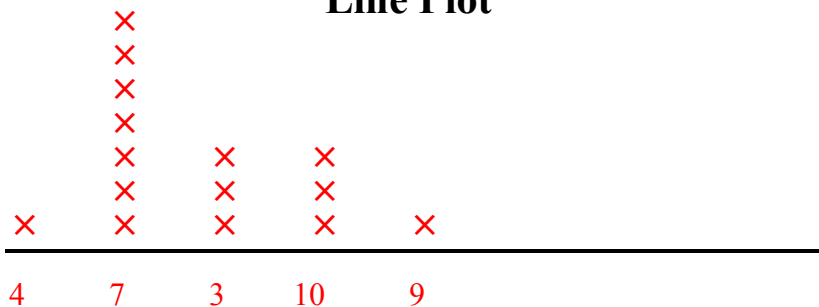
Line Plot



Измерьте каждую фигуру и затем сформируйте график, основанный на данной информации.



Line Plot

Ответы

1. 3
2. 7
3. 7
4. 4
5. 7
6. 7
7. 3
8. 10
9. 7
10. 7
11. 7
12. 10
13. 9
14. 3
15. 10



Измерьте каждую фигуру и затем сформируйте график, основанный на данной информации.



Ответы

- 1. _____
- 2. _____
- 3. _____
- 4. _____
- 5. _____
- 6. _____
- 7. _____
- 8. _____
- 9. _____
- 10. _____
- 11. _____
- 12. _____
- 13. _____
- 14. _____
- 15. _____

Line Plot



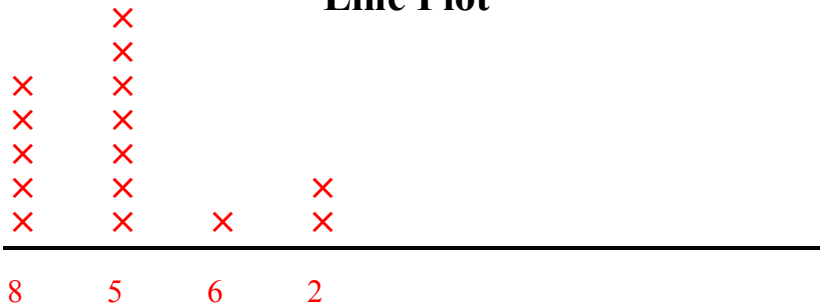
Измерьте каждую фигуру и затем сформируйте график, основанный на данной информации.



Отвѣты

1. 5
2. 5
3. 8
4. 5
5. 2
6. 5
7. 5
8. 6
9. 5
10. 2
11. 8
12. 8
13. 8
14. 8
15. 5

Line Plot





Измерьте каждую фигуру и затем сформируйте график, основанный на данной информации.

Отвeты



1. _____

2. _____

3. _____

4. _____

5. _____

6. _____

7. _____

8. _____

9. _____

10. _____

11. _____

12. _____

13. _____

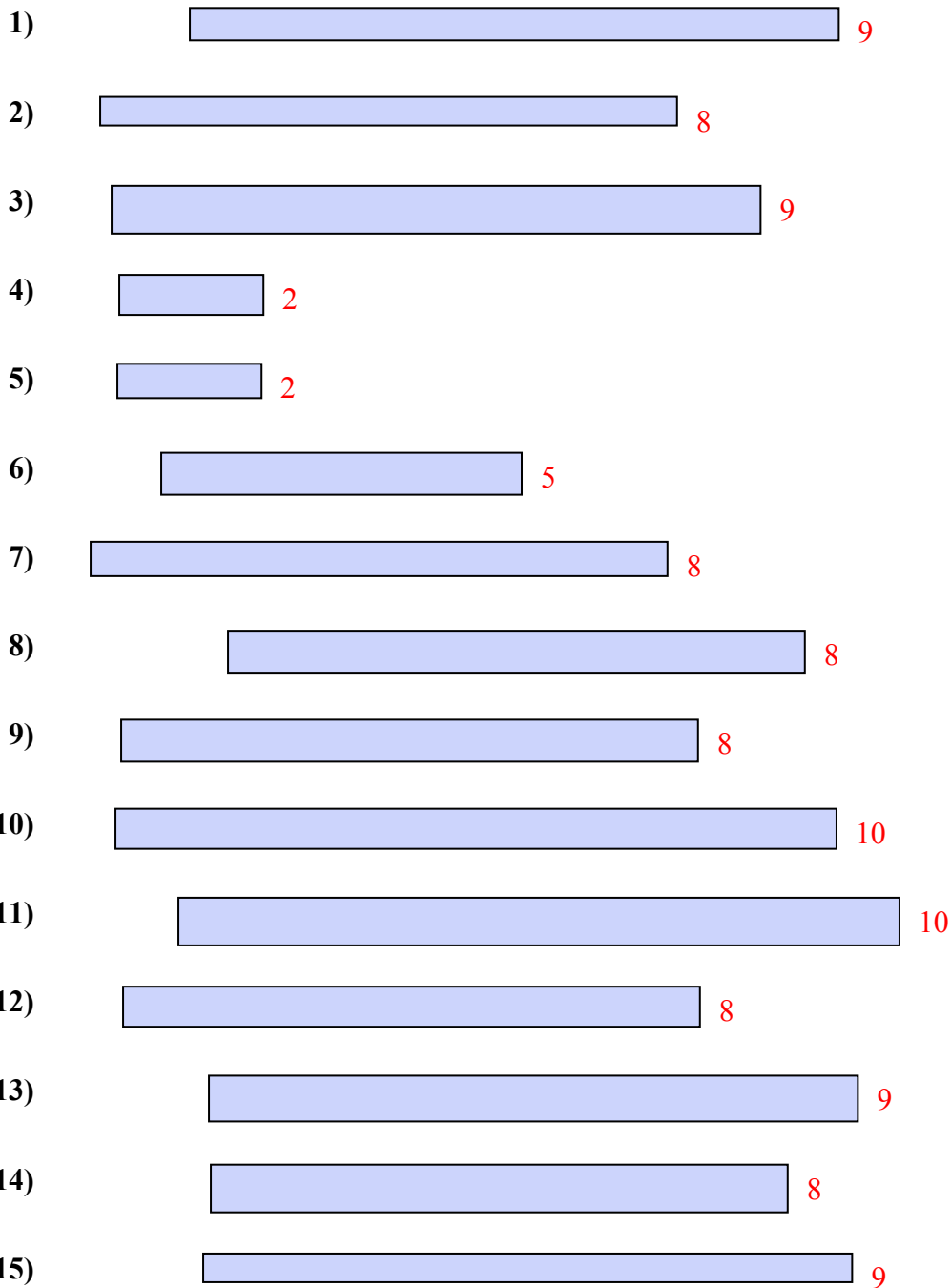
14. _____

15. _____

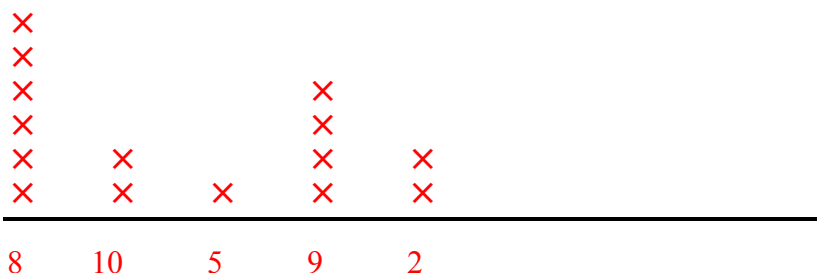
Line Plot



Измерьте каждую фигуру и затем сформируйте график, основанный на данной информации.



Line Plot



Ответы

- 1. 9
- 2. 8
- 3. 9
- 4. 2
- 5. 2
- 6. 5
- 7. 8
- 8. 8
- 9. 8
- 10. 10
- 11. 10
- 12. 8
- 13. 9
- 14. 8
- 15. 9